



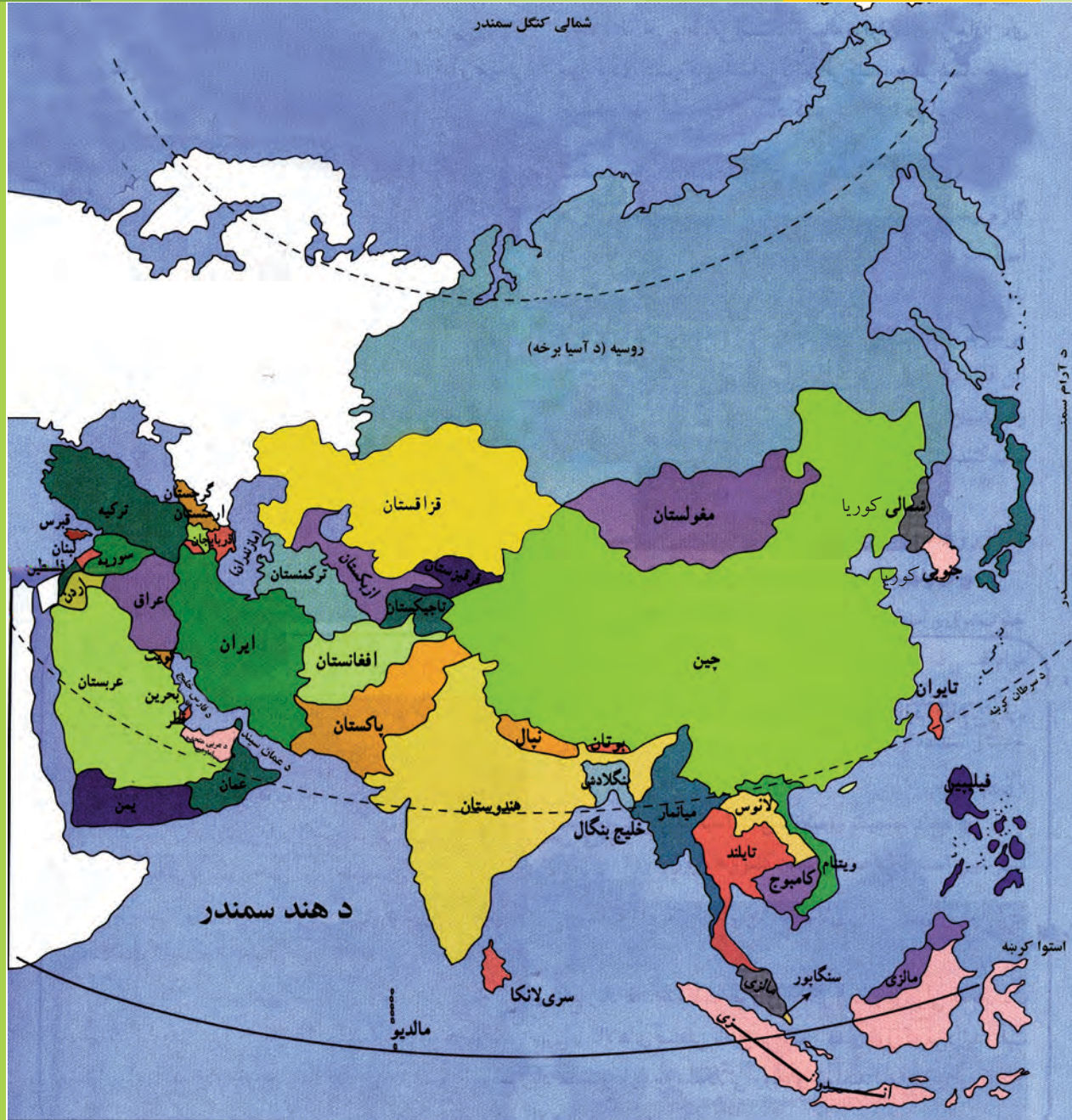
د پوهنې وزارت

د تعلیمي نصاب د پراختیا او د ښوونکو د روزنې معینیت
د تعلیمي نصاب د پراختیا او درسي کتابونو د تألیف لوی ریاست

جغرافیه

دولسم ټولگی

درسي کتابونه د پوهنې په وزارت پورې اړه لري اخیستنه او خرڅونه یې په کلکه منع ده. له سر غړونکو سره قانوني چلن کېږي.





ملي سرود

دا وطن افغانستان دی
کور د سولې کور د تورې
دا وطن د ټولو کور دی
د پښتون او هزاره وو
ورسره عرب، گوجر دي
براهوي دي، قزلباش دي
دا هیواد به تل خلیږي
په سینه کې د آسیا به
نوم د حق مودی رهبر

دا عزت د هر افغان دی
هر بچی یې قهرمان دی
د بلوڅو د ازبکو
د ترکمنو د تاجکو
پامیریان، نورستانیان
هم ایماق، هم پشه پان
لکه لمر پر شنه آسمان
لکه زره وي جاویدان
وایو الله اکبر وایو الله اکبر

بِسْمِ اللَّهِ الرَّحْمَنِ الرَّحِيمِ



د پوهنې وژباړنې وزارت

د تعلیمي نصاب د پراختیا او د ښوونکو د روزنې معینیت
د تعلیمي نصاب د پراختیا او درسي کتابونو د تألیف لوی ریاست

جغرافیه

دولسم ټولگی

د چاپ کال: ۱۳۹۶ هـ. ش

ليکوالان:

د سرمؤلف مرستيال محمد رفيق (مومند)

سرمؤلف نجيب اله امين افغان

محمد رازق (بهير)

علمي او مسلکي ايديت:

پوهاند غلام جيلاني (عارض)

د ژبې ايديت:

اقامحمد (گرندي)

دیني، سياسي او کلتوري کمیته:

- مولوي عبدالصبور (عربي)

- حبيب الله راحل د تعليمي نصاب د پراختيا په رياست کې د پوهنې وزارت سلاکار.

د څارنې کمیته:

دکتور اسدالله محقق د تعليمي نصاب د پراختيا او د ښوونکو د روزنې معین

دکتور شیر علي ظریفی د تعليمي نصاب د پراختيا د پروژې رئیس

سرمؤلف عبدالظاهر گلستاني د تعليمي نصاب د پراختيا او درسي کتابونو د تالیف لوی رئیس

طرح او ډیزاین:

حمیدالله غفاري

د چاپ د سمون چاري: محمد کبير حقميل د پوهنې وزارت د نشراتو او اطلاعاتو رئیس

بسم الله الرحمن الرحيم

د پوهنې د وزير پيغام

د لوی خدای ﷻ ډیر شکر دی چې انسان یې په احسن تقویم کې پیدا او هغه ته یې د خبرو کولو توان ورکړ او د علم او فکر پر ګاڼه یې سمبال کړ. ډیر درود دې وي د اسلام پر ګران پیغمبر حضرت محمد مصطفیٰ ﷺ چې د انسانیت ستر ښوونکی دی او د رحمت، لارښوونې او روښنایۍ پیغام راوړونکی. ښوونه او روزنه په هره ټولنه کې د بدلون او پراختیا بنسټ دی. د ښوونې او روزنې اصلي موخه د انسان د بالقوه ځواکونو فعالول او د هغه د پټو استعدادونو غوړول دي.

درسي کتاب د ښوونې او روزنې په بهیر کې یو مهم رکن بلل کېږي چې له نوو علمي بدلونونو او پرمختګونو سره اوږه په اوږه د ټولنې له اړتیاوو سره سم تالیف کېږي. درسي کتابونه باید د منځپانګې له مخې خورا بلای وي چې وکړای شي د علومو له نوو لاسته راوړنو سره مل دیني او اخلاقي زده کړې د نوو میتودونو له لارې زده کوونکو ته ولېږدوي.

دغه کتاب چې اوس ستاسو په واک کې دی، د همدغو پورته ځانګړنو پر بنسټ چمتو او تالیف شوی دی. د پوهنې وزارت تل زیار باسي چې په هیواد کې تعلیمي نصاب او درسي کتابونه د اسلامي ښوونې او روزنې او د ملي هویت د ساتلو پر بنسټ جوړ او له علمي معیارونو، نوو روزنیزو میتودونو او د نړۍ له علمي پرمختګونو سره سم چمتو کړي. د زده کوونکو استعدادونه په ټولو اخلاقي او علمي خواوو کې وغوړېږي او په هغوی کې د تفکر او نوښت توان او د پلټنې حس پیاوړی کړي. د خبرو اترو او پیرزوني د فرهنگ دودول، د هیواد پالنې او د مینې او محبت د حس پیاوړی کول، بښنه او پیوستون د پوهنې د وزارت نورې غوښتنې دي چې ښایي د لوست په کتابونو کې ورته پام وشي.

درسي کتابونه د ښه او مسلکي ښوونکي له درلودو پرته نشي کولای ټاکل شوي موخې ترلاسه کړي. ښوونکی د ښوونې او روزنې یو مهم جزء او د ښوونې او روزنې د پروګرامونو پلي کوونکی دی. د هیواد له ژمنو او زړه سواندو ښوونکو څخه، چې د تورتم او ناپوهۍ په وړاندې یې جګړه خپله دنده ګرځولی، دوستانه هیله لرم د تعلیمي نصاب په دقیق او مخلصانه تطبیق کې د هیواد ماشومان، نجونې او تنکي ځوانان د پوهې، اخلاقو او معنویت لوړو څوکو ته ورسوي.

د هیواد د زده کړې د نظام بری د خلکو له جدي مرستو پرته امکان نه لري. له دې امله له ټولو قشرونو او د ملت له شریفو خلکو، په تیره بیا له کورنیو او د زده کوونکو له درنو اولیاوو څخه هیله لرم چې د معارف د موخو د لاسته راوړو په برخه کې له هیڅ ډول مرستې څخه ډډه ونه کړي. دغه راز له ټولو لیکوالو، پوهانو، د ښوونې او روزنې له ماهرینو او د زده کوونکو له محترمو اولیاوو څخه هیله کېږي چې په خپلو رغنده نظرونو، وړاندیزونو او نیوکو د درسي کتابونو په لابنه والي کې د پوهنې له وزارت سره مرسته وکړي.

لازمه بولم له ټولو ښاغلو مؤلفانو، د پوهنې وزارت له اداري او فني کارکوونکو او له ملي او نړیوالو بنسټونو څخه، چې د دغه کتاب په چمتو کولو، چاپولو او ویش کې یې زیار ایستلی او مرسته یې کړې، مننه وکړم. په پای کې له لوی خدای ﷻ څخه غواړم چې په خپله بې پایه مهربانۍ له مور سره د پوهنې د سپیڅلو ارمانونو په لاسته راوړلو کې مرسته وکړي. انه سمیع قریب مجیب.

د پوهنې وزیر

دوکتور اسدالله حنیف بلخي

لومړۍ څپرکي

سرحدونه او اداري تشکيلات

- لومړۍ لوست ۱-۱ د افغانستان څلور خواوې او موقعيت..... ۱
- دویم لوست ۱-۲ شمالي سرحدونه..... ۵
- دریم لوست ۱-۳ شمال ختیځ سرحدونه..... ۹
- څلورم لوست ۱-۴ ختیځ او جنوبي سرحدونه..... ۱۳
- پنځم لوست ۱-۵ لویدیځ سرحدونه..... ۱۷
- شپږم لوست ۱-۶ اداري تشکيلات..... ۲۱

دویم څپرکي

- اووم لوست ۲-۱ د هېواد په پرمختيا کې د نفوسو اهميت..... ۲۵
- اتم لوست ۲-۲ احصايه او د نفوسو جغرافيايي ویش..... ۲۷
- نهم لوست ۲-۳ د نفوسو وده او منځنی عمر..... ۲۹
- لسم لوست ۲-۴ د نفوسو څرنګوالی او په هېواد کې قومي جوړښت..... ۳۳
- يوولسم لوست ۲-۵ داخلي او خارجي مهاجرتونو او نفوسو ځاي پر ځاي کول..... ۳۷

دریم څپرکي

- دولسم لوست ۳-۱ دین..... ۴۱
- ديارلسم لوست ۳-۲ ژبه..... ۴۵

څلورم څپرکي

- څوارلسم لوست ۴-۱ دموصلاتو اهميت..... ۴۹
- پنځلسم لوست - ځمکنی حمل او نقل..... ۵۳
- شپاړسم لوست - الف - خوډوله ترانسپورتي وسايل پيژنئ..... ۵۷
- اوولسم لوست - ب-د افغانستان د لویو لارو په هکله څه پوهیږئ؟..... ۶۱
- اتلسم لوست ۴-۳ د هوايي ترانسپورت په هکله څه پوهیږئ؟..... ۶۷
- نولسم لوست د هېواد هوايي شرکتونه او ډګرونه..... ۶۹
- شلسم لوست ۴-۴ الف - داړیکي اهميت..... ۷۳
- يوويشتم لوست- ب - پست په افغانستان کې..... ۷۷
- دوه ويشتم لوست- تيليفون او ميايل..... ۸۱
- درويشتم لوست- انټرنېټ ، ایمیل او فکس..... ۸۵

پنځم څپرکي - نفوس او نژاد

- څلورويشتم لوست ۵-۱ د نفوسو ویش او ګڼوالی..... ۸۹
- پنځه ویشتم لوست ۵-۲ په نړۍ کې د نفوسو زیاتوالي او لږوالي ستونزې..... ۹۵
- شپږويشتم لوست - د نړۍ په ځینو هېوادونو کې د فعالو اقتصادي نفوسو د لږوالي ستونزې..... ۱۰۱
- اووه ويشتم لوست ۵-۳ مهاجرتونو او دهغو لاملونه..... ۱۰۵
- اته ويشتم لوست - نړیوال مهاجرتونو او دهغو پایلې..... ۱۰۹

لړلیک

سرلیکونه

مخونه

ننه ویشتم لوست ۵-۴ - الف توکومونه (نژادونه)..... ۱۱۳

دیرشم لوست ب - د توکمونو جغرافیایي ویش..... ۱۱۷

شپږم څپرکی

یو دېرشم لوست ۶-۱ دنړۍ دهمو دینونو په هکله څه پوهېږئ؟..... ۱۲۳

دوه دېرشم لوست الف - داسلام سپېڅلې دین..... ۱۲۵

درې دېرشم لوست ب - دمسیحیت ددین په هکله څه پوهېږئ؟..... ۱۲۹

څلوردېرشم لوست ج - تائویزم او شنتویزم د آینونو په هکله څه پوهېږئ؟..... ۱۳۳

پنځه دېرشم لوست د - بودایي او هندویزم آینونو په هکله څه پوهېږئ؟..... ۱۳۵

شپږم دېرشم لوست ۶-۲ دنړۍ مهمې ژبې..... ۱۳۷

اوه دېرشم لوست الف - عربی ژبه..... ۱۴۳

اته دېرشم لوست ب - انگلیسي ژبه..... ۱۴۷

نه دېرشم لوست ج - لائیني ژبه (فرانسوي ، اسپانوي او پرتگالي)..... ۱۵۱

څلویښتم لوست د - جرمني ژبه..... ۱۵۵

یو څلویښتم لوست ه - د چینایي ، جاپاني او اندونزیایي ژبو په هکله کې څه پوهېږئ؟..... ۱۵۹

دوه څلویښتم لوست و - بالټیک ، لیتواني او سلاوي ژبې..... ۱۶۱

درې څلویښتم لوست ز - هندي او اردو ژبې..... ۱۶۳

اووم څپرکی

څلور څلویښتم لوست ۷-۱ - اړیکې او نړیواله کېدنه یي..... ۱۶۵

پنځه څلویښتم لوست: د اړیکو غوره وسیلو ډولونه..... ۱۶۷

شپږ څلویښتم لوست الف - پُست Post په نړۍ کې..... ۱۶۹

اووه څلویښتم لوست ب - په نړۍ کې تیلیفون او موبایل..... ۱۷۱

اته څلویښتم لوست ج - فکس په نړۍ کې..... ۱۷۳

ننه څلویښتم لوست د - انترنیټ او ایمیل..... ۱۷۵

پنځوسم لوست ۷-۲ - د سپورمکیو شبکه..... ۱۷۹

اتم څپرکی

د ژوندانه د چاپیریال نړیوالې ستونزې

یو پنځوسم لوست ۸-۱ - دسون موادو لوگي او غازونه..... ۱۸۳

دوه پنځوسم لوست الف - وړلو - راورلو (حمل او نقل) وسپلې..... ۱۸۷

درې پنځوسم لوست ب - د ژوند په چاپیریال باندې د کارخانو اغېزې..... ۱۸۹

څلور پنځوسم لوست ۸-۲ - دصنعتي موادو پاتې شوني..... ۱۹۳

پنځه پنځوسم لوست ۸-۳ - د اوزون د طبقې د نړۍ کیدلو خطرونه..... ۱۹۷

شپږپنځوسم لوست د اوزون دطبعي زیانمن کېدل..... ۲۰۱

اووه پنځوسم لوست ۸-۴ د ځنگلونو پریکول..... ۲۰۵

اصطلاحات..... ۲۰۸

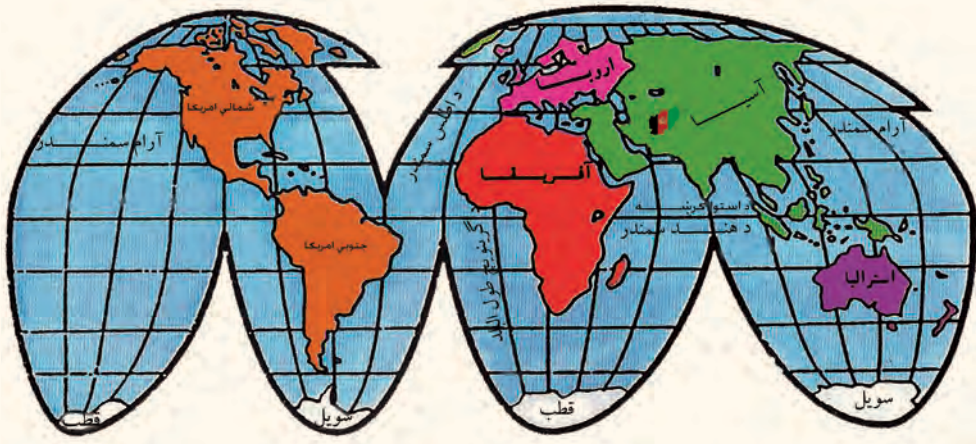
۱- څلور خواوي او موقعیت:



د افغانستان د موقعیت او څلور خواوو په هکله څه پوهیږی؟

د آسیا د لویې وچې دولس هیوادونه د افغانستان په ګډون په وچې پورې تړلي دي. افغانستان د طبیعي څرګندو ځانګړتیاوو له مخې د آسیا په جنوب کې یو غرنی هېواد دی. افغانستان د پنځه زره کلن تاریخ په درلودلو سره د آسیا لرغونی هېواد ګڼل کیږي. افغانستان په شمالي نیمه کره کې د شمالي عرض البلدونو د ۲۹ درجو، ۲۲ دقیقو او ۵۳ ثانیو او ۳۸ درجو، ۲۹ دقیقو او ۲۸ ثانیو او ختیځه نیمه کره کې د ختیځ طول البلدونو ۶۰ درجو، ۲۸ دقیقو او ۴۱ ثانیو او ۷۴ درجو، ۵۱ دقیقو او ۴۷ ثانیو ترمنځ موقعیت لري. د افغانستان مساحت ۶۵۲،۰۰۰ کیلومتره مربع دی د مساحت له مخې د هریوه اروپایي هېواد څخه لوی دی. افغانستان د مساحت له مخې په آسیا کې دولسم هېواد دی^۱. د افغانستان نفوس په ۱۳۸۹ المریز کال کې ۲۶ میلیونه تنه اټکل شوي دي. د افغانستان اعظمي اوږد والی له ختیځې نقطې یعنې د یولي له دري څخه تر لویدیځې نقطې یعنې ذوالفقار پورې ۱۲۰۰ کیلومتره او سوږې په شمال کې له خماب څخه په جنوب کې د چګایي تر غرونو پورې ۹۱۲ کیلومتره دی. په مستقیم ډول د هند سمندرته د

۱- روسیه، چین، هند، سعودي عربستان، ایران، منګولیا، قزاقستان، اندونیزیا، پاکستان، ترکیه، میانمار او افغانستان.



د افغانستان موقعیت په نړۍ کې

افغانستان نږدې فاصله د هلمند د ولایت د کشتگان غر د مزاری د کوتل له جنوب لویديځ څخه د عرب د سمندرګي تر ډیر نږدې ساحل پورې تقریباً ۳۹۰ کیلومتره ده. د افغانستان لرغونی هېواد په شمال کې د منځني آسيا د تاجکستان، ازبکستان او ترکمنستان له هېوادونو، په لویديځ کې د ایران له اسلامي جمهوریت او په ختيځ او جنوب کې د پاکستان له اسلامي جمهوریت سره ګډه پوله لري.

د افغانستان ختيځ او جنوبي سرحدونه د ډیورنډ د تپل شوې کرښې په واسطه، چې د پښتنو قبایلو له زړه څخه تیرېږي، په نښه شوي دي. نوله همدې امله د افغانستان خلکو هغه په رسمیت نده پیژندلي^(۱) افغانستان په شمال ختيځ کې تقریباً د ۹۲ کیلومترو په واټن د چین د جمهوریت

۱- د افغانستان او برتانوي هند ترمنځ طبيعي سرحد دسند سیند او د بلوچستان جنوبي سواحل وو، خو د انګلیسانو دسیسو او د ګندمک او ډیورنډ د معاهدې په تپلو د افغانستان له خاورې څخه یوه برخه بېله شوه او د افغانستان سرحد دپامیر او واخان څخه تر بلوچستان پورې وټاکل شو. چې د هغې له مخې د چمن، پښین، وزیرستان، کرې، پاره چنار، افریدو، باجوړ، سوات او چترال سمې د افغانستان له خاورې څخه بېلې شوې او د هغه وقت د برتانوي هند په دولت پورې وتړل شوې. د پاکستان له منځته راټلو وروسته په پاکستان پورې وتړل شوې، چې د افغانانو لپاره د منلو وړ نه دي.

د سنکيانگ د ولايت سره گډه پوله لري.

دپامير په برخه کې افغانستان څه نا څه تر ۲۴ کيلومترو پورې سور لري چې تاجکستان د پاکستان له کشمير څخه جلا کوي. افغانستان د جغرافيايي موقعيت له مخې د منځنۍ آسيا په لاره کې پروت دی، د دې سيمې موقعيت د سياست او اقتصاد له پلوه ډير مهم دی، ځکه چې افغانستان، ايران، هند، پاکستان د دريو حوزو او د منځنۍ آسيا هېوادونه سره يوځای کوي. د منځنۍ آسيا هېوادونه هم آزاد سمندر ته لاره نه لري، نو له همدې امله يې سوداگري د آسيا لويې وچې له سويلي هېوادونو سره د افغانستان له لارې کېږي همدغې موضوع د افغانستان موقعيت ته زيات ارزښت وربخښلی دی.

په ټولگي کې د ننه فعاليت:



زده کوونکي دې په مناسبو ډلو و ویشل شي، هره ډله دې د لاندې موضوعاتو په باره کې يوله بل سره بحث وکړي له هرې ډلې څخه يوتن به خپله موضوع په ټولگي کې تشریح کړي.

• افغانستان د ځمکې د کرې په کومه برخه کې پروت دی. د طول البلد او عرض البلد له مخې معلومات وړاندې کړئ.

• د افغانستان نقشه رسم کړئ اعظمي اوږد والی او سوريي د سيمو له مخې په نقشه کې وښیئ.

• د افغانستان نقشه رسم کړئ. له آزاد اوبو سره د افغانستان ډير نژدي واټن، د سيمو له نومونو اوفاصلي سره، بيان کړئ.

• د افغانستان څلور خواوې بيان كړئ.



پوښتنې:

- ۱- افغانستان څه ډول طبيعي څرنګوالی لري؟
- ۲- د پنځو داسې هېوادونو نومونه واخلي چې له افغانستان څخه ډير مساحت لري.
- ۳- زمور هېواد له سمندر څخه څومره واټن لري؟
- ۴- يوازې د افغانستان د شا وخوا د طول البلدونو او عرض البلدونو درجې ووايئ.
- ۵- د افغانستان مساحت څومره دی؟
- ۶- د افغانستان خلکو ولې د ډيورنډ کرښه په رسميت نه ده پيژندلې.



له ټولګي څخه بهر فعاليت:

د افغانستان نقشه رسم كړئ د يولي دره، ذوالفقار دره، پامير، خماب او د افغانستان گاونډيان د نقشې پرمخ وټاکئ.

۱-۲ شمالي سرحدونه

الف: د امير شير علي خان سرحدي کرښه.



(۳) شکل د افغانستان شمالي سرحدونه

د افغانستان کوم سرحد د پنج او آمو سيند په واسطه ټاکل شوی دی؟

په ۱۹ پېړۍ کې د انگليسانو او تزاري روسيې د پرمختگ د سياست له مخې ددې خاورې زياته او مهمه برخه د افغانستان له بدن څخه جلا شوه. پخوا به د افغانستان شمالي سرحد ونه د افغانستان د محلي حکومتونو او د مرکزي آسيا د هېوادونو له خانانو او يا د افغانستان د مرکزي حکومتونو او د ماوراء لنهر د اميرانو ترمنځ ټاکل کېدل. خو کله چې د ۱۹ پېړۍ په جريان کې تزاري روسيې په پرمختگ او په مرکزي آسيا کې په فتوحاتو پيل وکړ انگليسانو ددې لپاره چې خپلې استعماري گټې د هند په شمال کې وساتي، د روسانو له نيت څخه په ويره کې شول او وپې غوښتل، چې زر تر زره د روسانو د يرغل په وړاندې خنډونه رامنځته کړي. په لومړي پړاو کې يې امير شير علي خان وهڅاوه چې



امير شير علي خان

خپل سرحدونه له تزاري روسيې سره وټاکي، نو له همدې امله د دواړو دولتونو ترمنځ خبری پېل شوې. د انگلیسانو د بهرنیو چارو وزیر لارډ گرینویل Lord Granville او دروسیې د

بهرنیو چارو وزیر پرنس گورچکوف Prince Gorchakov د افغانستان او تزاري روسيې د سرحدونو د تثبیت لپاره وټاکل شول په پای کې په ۱۸۷۳ میلادي کال چې د ۱۲۵۱ لمريز کال سره سم د افغانستان شمالي سرحدونه له زرقول څخه تر خماب پورې چې د پنج او آمو سیندونو مسيردی د امير شير علي خان د سرحدي کرښې په نوم تثبیت شول. د امير شير علي خان کرښه ۱۲۰۰ کیلومتره اوږد والی لري.

د هغه تړون له مخې چې د ۱۳۲۵ لمريز کال د غبرگولي د میاشتې په ۲۲ مه نیټه چې د ۱۹۴۶ میلادي کال د جون له میاشتې سره سمون لري، د خپل وقت د شوروی د بهرنیو چارو وزیر مولو توف او په مسکو کې د افغانستان سفير په واسطه لاسلیک شو، پرېکړه وشوه چې د آمو سیند منځنۍ کرښه د سرحد په توگه وپېژندل شي او د درقد ټاپو چې تقریباً ۴۲۲ کیلومتره مربع مساحت لري او د تخار ولایت په شمال کې پروت دی د افغانستان د خاورې برخه وگڼل شي. په ۱۳۴۲ لمريز کال کې چې له ۱۹۴۶ میلادي کال سره سمون خوري د پنج او آمو سیندونو له اوبو څخه د گډې گټې اخیستنې تړون لاسلیک شو.

ب- درېجوي سرحدې کرښه:

کله چې امير عبدالرحمن خان واک ته ورسیده، وې پتيله چې پاتې شمالي سرحدونه د ځمکې



امير عبدالرحمن خان

پرمخ تشیت کړي. نو له همدې امله د تزاري روسيې او برتانيې ترمنځ د دویم ځل لپاره خبرې پېل شوې پریکړه وشوه چې د دريو هېوادونو افغانستان، برتانيې او روسيې پلاوي دې د ۱۸۸۴ میلادي کال په نومبر کې سرخس ته حاضر شي. د روسيې هڅه په خپل وخت ټاکلي ځای ته حاضر نه شو، او برعکس د روسيې عسکرو په منځني آسیاکې خپلو یرغلونو ته دوام ورکړ، ترڅو چې پنجه ته نیژدې شول او د خاتون له پل څخه یې چې د هریرود د سیند له پاسه دی د نظامي پایگاه په توگه کار اخیست. د افغاني پوځیانو شمیر چې دوه زرو تنوته رسیده، د پنجه د ساتنې له پاره هلته اوسیدل افغاني پوځیانو د جنرال غوث الدین خان په مشرۍ د روسيې له قوې سره چې د علي خانوف تر مشرۍ

لاندې وه، نښته وشوه افغاني پوځیانو چې شمیرې لږ او په محاربي تجهیزاتو هم سمبال نه وو، له پنجه څخه یې دفاع ونه شوه کولای. پنجه او آق تپه په ۱۸۸۵ میلادي کال چې له ۱۲۶۳ لمریز کال سره سمون خوري، تزاري روسانو اشغال کړه، له دې واقعي وروسته د ملکې وکتور یا د انگلستان د هغه وخت د ملکې له تهدید څخه ډک تلگرام دویم الکساندر روسي ترارته ددې سبب شو چې روسي عسکرو له زیات پرمختگ څخه صرف نظر وکړ. یوځل بیا سرحدې مذاکرې د تزاري روسيې او انگلستان د استازو ترمنځ په لندن کې پېل شوې چې د افغانستان شمال لویدیځ سرحدونه د تزاري روسيې سره وټاکل شي بېلابېلو هیئتونو په مذاکرو پېل وکړ، چې په ۱۸۸۷ میلادي کال چې له ۱۲۶۵ لمریز کال سره سمون خوري شپږ فقره ییز پروتوکول یې لاسلیک کړ او شمال لویدیځ سرحد چې د رېجوي د کرښې Riage Way په نوم یادېږي د نقشي پرمخ تشیت کړ دغه سرحدې کرښه وروسته د چارلس پت Charles Pate د انگریزانو د استازي او کپتان کامروف Capitan Kameronov د تزاري روسيې داستازي پواسطه د څلورو کلونو په موده کې د ۵۴۰ کیلومتره په اوږدوالي د ذوالفقار له درې څخه ترخماب پورې په یوې قوسي کرښې تشیت

شوه چې د ۳۰ كيلومترو په اوږدوالي د مرغاب دسيند او نور يې د پېلرونو پواسطه په نښه شوې.

په ټولگي کې د ننه فعاليت:



- زده کوونکي په مناسبو ډلو ویشل کېږي. هره ډله له لاندنيو موضوعگانو څخه په يوه موضوع په خپلو منځو کې بحث کوي. له هرې ډلې څخه يو نفر خپله موضوع د ټولگي په مخ کې بيانوي.
- د افغانستان نقشه رسم کړئ او د امير شيرعلي خان سرحدي کرښه په کې په نښه کړئ او دهغې په باب معلومات ورکړئ.
 - د افغانستان نقشه رسم کړئ، دريجوي سرحدي کرښه په کې وښی او دهغې په باب معلومات ورکړئ.

پوښتي:



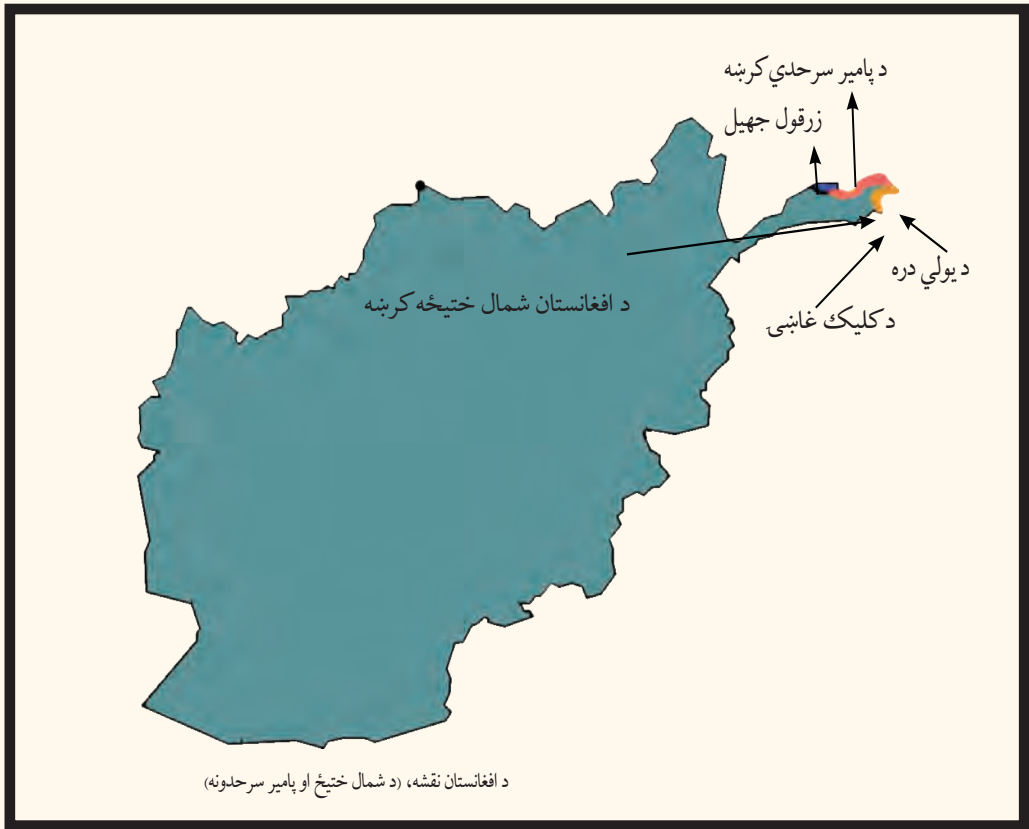
- ۱- د افغانستان شمالي سرحدونه څرنگه وټاکل شول؟
- ۲- ولي انگليسان د تزاري روسې له نيت او فتوحاتو څخه چې په مرکزي آسيا کې يې سرته رسول، په ويره کې و.
- ۳- په اوسني وخت کې کوم هېوادونه کولای شي د پنج او امو له سيندونو څخه په گډه گټه واخلي.
- ۴- روسانو پنجده په څه ډول اشغال کړه؟
- ۵- ولې روسانو په افغانستان کې زيات پرمختگ ته دوام ورنه کړ؟
- ۶- د ريجوي سرحدي کرښه له کومې سيمې څخه ترکومې سيمې پورې اوږده شوې ده؟

له ټولگي څخه بهر فعاليت:



د افغانستان نقشه رسم کړئ او په هغې کې د زرقول (ویکتوريا) جهيل، خماب، ذوالفقار، د امير شيرعلي خان او ريجوي سرحدي کرښې وښی او د جغرافيه په راتلونکي ساعت کې يې خپلو ټولگيو ته وښی.

۱-۳ شمال ختیځ سرحدونه



د افغانستان په شمال ختیځ کې دوې سرحدی کرښې شته. د پامیر سرحدی کرښه د افغانستان او تاجکستان ترمنځ او شمال ختیځ سرحد د افغانستان او د چین د ولسي جمهوریت ترمنځ په نښه شوېدی. د پامیر او واخان لوړه سطحه چې د سمندر له سطحې څخه ۶۰۰۰ متره لوړوالی لري د آمو او د سندد سیند ترمنځ بیلېدونکې ساحه ده. دغه دواړه سیندونه د همدې سیمې له دایمي کنگلونو څخه سرچینه اخلي. له همدې امله د پامیر لوړه سطحه د نړۍ د بام په نوم شهرت لري. دغه کم سوره افغاني ساحه چې د هغې وخت د تزاري روسیې، چین او برتانوي هند ترمنځه پرته وه. په دې ساحه کې د سرحدونو تثبیت له ډېرې مودې څخه د بحث لاندې وو. د ۱۸۷۳ - ۱۸۸۷ میلادي

کلونو ترمنځه، کله چې د افغانستان شمالي سرحدونه تثبیتدل، د شمال ختیځو سرحدونو په هکله هم خبرې وشوې خو څرنګه چې د آمو د سیند سرچینه په څرګنده توګه معلومه نه وه، نو په دې برخه کې څه ستونزې وې ځکه چې ځینو فکر کاوه چې د آمو سیند د زرقول له جهیل څخه سرچینه اخیستې ده او ځینو ویل چې د آمو سرچینه د اقسو اوبه دي چې د چقمقتین، له جهیل څخه یې سرچینه اخیستې ده. نوله همدې امله پدې برخه کې د افغانستان د سرحد ټاکنه او رسمول ضروري وه.

د امیر عبدالرحمن خان د دورې په وروستیو کلونو کې په ۱۸۹۵ میلادي کال کې چې د ۱۲۷۴ لمریز کال سره سمون لري د درېو هېوادنو استازي چې له افغانستان څخه غلام محی الدین خان دهغه وقت د قطغن او بدخشان د ولایت حکمران، مجر جرولو Major Gerlow د انگلیسانو د هیئات مشر او فیفرو شوایکوسکي Fifroshuikoisky د تزاري روسیې د هیئات مشر وو د کوچني او لوی پامیر په سیمه کې یې په مذاکرې پیل وکړ. دغه مذاکرې نه میاشتې اوږدې شوې. په پای کې د پامیر سرحد په ختیځ کې د چین ترسرحده پورې د افغانستان او تزاري روسیې ترمنځ وټاکل شو د انگلیسانو ځینې سیاستمداران د خپلو لاندې شویو ساحو او د تزاري روسیې ترمنځ د یوې حایلې ساحې سره مینه درلوده. د پامیر او واخان په ساحه کې د انگلیس او روسیې امپراطورۍ یوله بل سره نښتې، نو ددې لپاره چې د هغوي ترمنځ یوه حایله (بیطرفه) ساحه راشي، نو واخان یې بې پوښتنې افغانستان ته ورکړه.

د پامیر سرحدي کرښه د زرقول د جهیل له ختیځ څخه په ختیځ کې دیو لي تر درې پوري اوږدوالی لري. د روسیې دولت د ۱۸۹۶ میلادي کال د مارچ په میاشت کې دغه کرښه ومنله پدې ډول واخان افغانستان ته د یو نړیوال تړون له مخې ورکړل شو. د همدې کال په اکتوبر کې امیر عبدالرحمن خان دروازونیو روسانو روشن او شغان د آمو هغه خواکې چې د افغاني قوې له خوا خالي شوی وو دبخارا امیرته وسپارل.

په ۱۹۴۹ ميلادي كال كې د چين دولسي جمهوريت له تاسيس څخه وروسته سرحدې مذاكرې يوځل بيا د محمد ظاهر شاه د پاچاهۍ په دوره كې د افغانستان د دولت او دچين د ولسي جمهوريت ترمنځه پېل شوي. په ۱۳۳۶ لمريز كال كې چې له ۱۹۵۷ ميلادي كال سره سمون لري، موافقه وشوه چې د دواړو هېوادونو ترمنځه دې سرحدونه وټاكل شي او دځمكې پرمخ دې تثبيت شي. نوله همدې امله شمال ختيځ سرحد چې ديولي له درې څخه ديوقوس په بڼه د كليک تر غاښي پورې چې د واخجير غاښي په جنوب ختيځ كې پروت دی د افغاني پامير او د چين د سنكيانگ د ولايت ترمنځ د ۹۲ كيلومترو په اوږدوالي د ۱۳۴۳ لمريز كال د زمري په مياشت كې په فني ډول د پيلرونو په نصبولو علامه گذاري او تثبيت شو.

په ټولگي كې د ننه فعاليت:



- زده كوونكي په ډلو وویشئ. هره ډله دې په خپلو منځوكې په لاندې موضوعاتو بحث وكړي. يوتن دډلې په استازيتوب خپله موضوع خپلو ټولگيوالوته تشریح كړي.
- د پامير د لوړې سطحې او دهغې د مخكښو او اوسنيو حدودو په باره كې بحث وكړئ.
 - د پامير سرحدي كرښه څرنگه وټاكل شوه؟
 - د يوې حايل ساحې هدف څه و؟
 - د پاميرد ساحې نقشه رسم كړئ او شمال ختيځه سرحدي كرښه ورباندې رسمه كړئ او دهغې په باره كې معلومات وړاندې كړئ.



پوښتنې:

- ۱- په ۱۹ پېړۍ کې د پامير او واخان دسيمې حدود بيان کړئ.
- ۲- د پامير او واخان د سيمې اوسنی حدود شرحه کړئ.
- ۳- د پامير سرحدي کرښه د کومو هېوادونو ترمنځ پرته ده؟
- ۴- د آمو سيند له کوم ځای څخه سرچينه اخلي؟
- ۵- له کومو هېوادونو څخه کوموکسانو د پامير د سرحدي کرښې دټاکلو په پريکړه کې برخه درلوده؟
- ۶- شمال ختيځ سرحد د کومو هېوادونو ترمنځ پروت دی او څومره اوږدوالی لري؟



له ټولګي څخه بهر فعاليت:

د افغانستان د پامير او واخان د سيمې نقشه رسم کړئ د ويکتوريا او چقمقتين جهيلونه، د يولي دره، د کليک او واخجیر غاښي، د پامير او شمال ختيځ سرحدونه په کې وښيي؟

۱- ۴ ختيځ او جنوبي سرحدونه



د احمد شاه بابا له واکمنۍ څخه د محمد زيانو د واکمنۍ تر لومړي وخت پورې افغانستان په ختيځ او جنوب کې تر کشمير، لاهور، پنجاب، پېښور، د اسماعيل خان ديري غازي خان ديري، شکارپور، سند، ملتان او په پای کې عرب سمندرگي پورې پراخوالی درلوده. خو د سدوزي او محمد زبي وروڼو ترمنځ خپلمنځي نفاق او د سدوزيانو او محمد زيانو د کورنيو ترمنځ سياليو کې ځينې نوموړي سيمې د وخت په تيريدو سره د انگليسانو لاس ته ورغلې او د انگليسانو د لاس لاندې سيمو او زمور د هېواد ترمنځ سيمه کې سرحد نه و.

انگليسانو زياته قوه په ۱۸۹۳ ميلادي کال کې د افغانستان په لوري راووليږله او امير عبدالرحمن خان ته يې ياد داشت واستاوه چې د جنرال رابرت سياسي هټيات له يوې عسکري فرقي سره په جلال آباد کې ومني. امير عبدالرحمن خان په قهر شو او خپلو سلو زرو عسکرو ته يې د تيارسي امر ورکړ او د جهاد د اعلانولو اراده يې وکړه. خو کله چې انگليسانو دغه مقاومت وليد د خپلو پرېکړو څخه تير شول او پدې قانع شول چې، خپل پنځلس کسيز سياسي هټيات دمار تيمر ديورنډ په مشرۍ کابل ته واستوي.

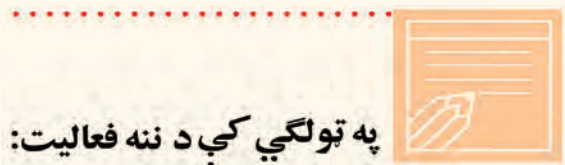
ډيورنډ کابل ته راغی او د ډيورنډ تړون چې مواد يې مخکې د انگليسانو له خوا ترتيب شوي وو امير عبدالرحمن خان ته وړاندې کړل. له ډيرو خبرو وروسته يې هغه په امير عبدالرحمن خان د چهلستون په ماني کې لاسليک کړ د ۱۸۹۳ ميلادي کال د نومبر ۱۲ نيټه چې د ۱۳۱۱ قمري کال د جمادى الاول ددويمې نيټې سره سمون لري. امير عبدالرحمن خان د خپلو دولتي اراکينو له مشورې پرته تړون لاسليک کړ او يو لوی تاريخي مسؤليت يې په غاړه واخيست. ددې تړون په پای کې د ډيورنډ سرحدي کرښه د کليک له کوتل څخه د واخجير کوتل، واخان او چترال په جنوب ختيځ کې د بلوچستان او ملک سياه ترغره پورې د هېواد په جنوب لوديځه زاويه کې د ۱۹۲۰ كيلومترو په اوږدوالي وټاکل شوه. چمن، پښين، وزيرستان، کرم، پارې چنار، افريدي، باجوړ، سوات او چترال د افغانستان له خاورې څخه جلا شول او د هغه وخت برتانوي هندپورې وټرل شول د برتانوي هند د هيئات د رئيس له خوا پريکړه وشوه، چې د هغې له مخې د روشان او شغنان سيمې د پنج د اوبو په شمال کې او د آمو د سيند پاسنی برخه چې د گورچکوف او گرينويل د ۱۸۷۳ ميلادي د پريکړو له مخې د افغانستان په واک کې وې، بيرته دې تزارې روسې ته وسپارل شي او د هغې په مقابل کې دې واخان او آسمار د افغانستان د خاورې برخه شي. د ډيورنډ پريکړه چې د کاغذپرمخ ليکل شوې وه د ځمکې پر مخ نه وه ټاکل شوې، د ستونزو او اختلافونو باعث شوه دغه پريکړه د افغانستان د خلکو لپاره د منلو وړ نه وه ځکه چې له يوې خوا دغه پريکړه د ځمکې پر مخ په عملي توگه د تطبيق وړ نه وه او غوښتل يې چې يو بل هيئات دغه تړون له سره د بحث او څيړنې لاندې ونيسي.

خو متاسفانه د وروستيو هيئاتونو مشاهدات او نظريات هم يوطرفه او غير عادلانه وو. کله چې د افغانستان حکومت د موضوع په حقيقت پوه شو او له بلې خوا د ډيورنډ د سرحدي کرښې ددې سيمې قومونه او قبيلې چې له مور سره گډ، دين، ژبه، کلتور، ثقافت، رسم او رواجونه او نور بشري مشترکات لري، په دوه برخو ووېشل او حاکمې ستراتيژيکې نقطې هم د برتانوي هند په برخه شوې.

د ډيورنډ د تړون له لاسليک څخه وروسته په ټولو قبایلي سیمو په تیره بیا د وزیرو او مسودو په قبیلوکې یو په بل پسې پرله پسې شورشونه پېل شول. هغوی له امیر عبدالرحمن خان څخه غوښتل چې له انگلیسانو څخه یې وژغوري او په افغانستان پورې یې وتړي، خو امیر په دې برخه کې کوم اقدام ونکړ.

انگلیسانو په زور او ظلم، نه یوازې قبایلوته قناعت ورنکړی شو، بلکې زیاتې ستونزې یې رامنځته کړې انگلیسانو له امیر عبدالرحمن خان سره د ښو دوستانه اړیکو لپاره په کال کې ۱۲ لکه روپۍ امیرته ورکولې، د تړون له لاسليک څخه وروسته یې شپږلکه روپۍ نورې هم ورباندې زیاتې کړې.

د افغانستان له خپلواکۍ (۱۹۱۹ میلادي کال) څخه وروسته بیا هم د ډيورنډ د سرحد مساله ناحله پاتې شوه په ۱۹۴۷ میلادي کال کې د پاکستان د دولت په رامنځته کیدوسره، بیا هم دغه موضوع د پاکستان له دولت سره ناحله او له پریکړې پرته پاتې شوه.



په ټولگي کې د ننه فعالیت:

زده کوونکي دې په ډلو وویشل شي هره ډله دې په پخپلو منځوکې له لاندنیو موضوعگانو څخه پریوې بحث وکړي د خپل بحث پایلې دې خپلو ټولگيوالوته په ټولگي کې وړاندې کړي.

• د احمد شاه بابا له دورې څخه د محمد زیانو د دورې تر پېل پورې د افغانستان د هغو سیمو نومونه واخلي چې اوس د افغانستان له خاورې څخه جلا شوې دي.

• د ډيورنډ د سرحدي کرښې د ټاکلو جریان په څه ډول و؟

• د افغانستان نقشه رسم کړئ او د ډيورنډ سرحدی کرښه، چترال، بلوچستان او د ملک سياه غر په نقشه کې په نښه کړئ.



پوښتنې:

- ۱- د ډيورنډ سرحدی کرښه په کومه نيټه کې لاسلیک شوه؟
- ۲- د ډيورنډ تړون د چاله خوا لیکل شوې وه؟
- ۳- انگلیسانو د ډيورنډ تړون په څه ډول په امير عبدالرحمن خان تحمیل کړ؟
- ۴- زموږ هېواد ددې تړون په لاسلیک کې کومه بڼه غوره کړه؟
- ۵- ولې د افغانستان ولس د ډيورنډ د سرحدی کرښې پرېکړه نه مني؟
- ۶- د ډيورنډ کرښې د دواړو غاړو خلک څه فرهنگي ورته والی لري؟
- ۷- انگلیسانو ولې او څومره پیسې امير عبدالرحمن خان ته ورکولې؟



له ټولګي څخه بهر فعالیت:

د افغانستان نقشه رسم کړئ، د امير شیرعلی خان؛ پامير، شمال ختیځ او د ډيورنډ کرښې پکې وښیئ او د جغرافیې په راتلونکي ساعت کې یې له ځانه سره ټولګي ته راوړئ.



د لويديځو سرحدونو په باره کې څه پوهېږئ؟

زمور د هېواد په لويديځ کې د افغانستان د اسلامي جمهوريت او ايران ترمنځ دوه سرحدې کرښې شته، چې د مکمهان او فخري سرحدې کرښې په نوم يادېږي چې هر يو يې په تفصيل سره لولو.

الف: د مکمهان سرحدې کرښه:

د سيستان سيمه چې د هېواد په جنوب لويديځ کې پرته ده، د تاريخ په بيلابيلو دورو کې کله د افغانستان په لاس کې وه او کله به هم د ايران د ادارې لاندې وه.

د احمد شاه بابا له واکمنۍ څخه (په ۱۷۴۷ ميلادي کال کې چې له ۱۱۲۵ هجري لمريز کال سره سمون لري) د ۱۹ پېړۍ تر نيمايي پورې سيستان د افغانستان د خاورې برخه وه.

- د امير شيرعلي خان د واکمنۍ په وخت کې د سريندې د قبيلې مشر د علي خان په نوم له خپلې قبيلې سره د ايران د دولت تابعيت ومانه او ځان يې له خپلې قبيلې سره د ايران دولت ته تسليم

کړ. له هغې څخه وروسته سرحدی مشکلات د افغانستان او ایران په منځ کې را پورته شول، نو لازم وگڼل شول چې د افغانستان او ایران ترمنځ سرحد وټاکل شي.

د افغانستان او ایران حکومتونو د سرحدی مشکلاتو له مخې ونشو کړای چې کومې پرېکړې ته ورسېږي.

نوله همدې امله یې دهند له وایسرا سره تماس ونيو او د افغانستان او ایران د سرحدی ستونزو د حل لپاره یې د حکمیت غوښتنه وکړه. د هند وایسرا فرید ریډ گولډسمت Sir Fridric goldsmith د سیستان د ناحیې لپاره د حکم په توگه وټاکه، چې د افغانستان او ایران ترمنځ د منځگړي په توگه کار وکړي او موضوع فیصله کړي گولډ سمیت د انګلیسي هټیات رئیس د افغاني او ایرانی هیاتونو مشرانو سره دوه کاله د سیستان په سرحدونو کې په څېړنو بوخت شو او په ۱۸۷۳ میلادي کال کې یې چې له ۱۲۵۲ لمریز هجری کال سره سمون لري داسې پرېکړه وکړه:

د سیستان حوزه د هلمند د سیند په وروستی برخه کې په دوو برخو ویشل شوه. هغه سیمې چې د نادعلي د سیند په لویديځ کې پرتې دي د خاص سیستان او ختیځې سیمې یې د ماورای سیستان په نوم ونومولې. خاص سیستان په ایران او ماورای سیستان په افغانستان پورې و تړل شول.

په ۱۲۷۴ لمریز هجری کال کې د هلمند سیند له اصلي مسیر څخه چې د نادعلي سیند دی او د افغانستان او ایران تر منځ سرحد و، منحرف شو او د اوبو یوه زیاته اندازه له بلې لارې چې د پریان د سیند په نوم یادېږي او د نادعلي د سیند په لویديځ کې پروت دی د هلمند هامون ته ورتو ئېږي.

څرنګه چې د گولډسمت په وخت کې سرحدی کرښه د ځمکې پرمخ په نښه شوې نه وه، د هلمند د سیند د مسیر تغیر د دویم ځل لپاره د افغانستان او ایران د خلکو ترمنځ ستونزه رامنځته کړه.

ځکه چې د افغانستان حکومت د نادعلي او د هلمند د سیند مسیر اصلي لاره گڼله او د ایران دولت د هلمند د سیند د مسیر تغیر پخپله گټه په پام کې نیولی و.

بیاله انګلیسانو څخه مرسته و غوښتل شوه. د انګلستان حکومت مکمهان Macmahan له پنځلس زره انګلیسي او هندي افسرانو سره ددې کار لپاره موظف کړل د دريوارو هېوادونو افغانستان، ایران او انګلیسانو هیاتونه دڅیړنې په ټولو وسایلو سمبال وو. هغوي دوه کاله او درې میاشتې له ۱۹۰۲ - ۱۹۰۵ میلادي کال پورې چې د ۱۲۸۰ - ۱۲۸۲ هجری لمریز کلونو سره سمون لري (د امیر

حبيب الله د حکومت دوره، خيرنه او مطالعه وکړه او سرحدی کرښه يې د ملک سياه له غره څخه تر سياه کوه پورې چې د مکهمان د کرښې په نوم يادېږي تثبيت کړه.

کله چې د افغانستان حکومت د هلمند او ارغنداب پرمختيايي پروژه د لاس لاندې ونيوله د ايران دولت د ملگرو ملتونو د امنيت شورا ته د اوبو د کموالي په هکله گيله وکړه.

په پای کې د امریکا متحده ایالتونو پدې برخه کې د منځگړیتوب هیله وکړه. د افغاني، ایراني او امریکایي استازو ترمنځ په واشنگتن کې خبري پېل شوې. د امریکا متحده ایالتونو وړاندیز وکړ چې یوډیپلومیسیون دې وټاکل شي چې نوموړې موضوع په سیمه کې وڅیړي او خپله پریکړه دې دواړو هېوادونو ته واوروي.

فني متخصصین د امریکا د متحده ایالتونو، کاناډا او چیلی له پوهنتونونو څخه و ټاکل شول هغوی د هلمند دواډي انکشافی پروژه ولیدله. د گولدمت او مک مهان تاریخي اسناد یې وکتل او په پای کې یې داسې وویل: د هلمند دواډي پروژه د سیلابونو د کنترول او دکال په اوږدوکې د هلمند د سیند د جریان د تنظیم لپاره جوړه شوې ده او د سیند او به یې ندي کمې کړي، بلکې په ټول کال کې په یوه ټاکلي اندازه ساتي.

د ايران سهم باید دکال په اوږدوکې د اوبو د جریان د توپیرله مخې د هرې میاشتې لپاره وټاکل شي. د افغانستان دولت په ۱۳۲۱ هجري لمریز کال کې د درې کسيز کمیسیون راپور ومانه او د ايران د هغه وخت شاهشاهي دولت سره یې د خبرو د پیل لپاره خپل چمتووالي وښود.

ب: د فخری سرحدی کرښه:

له سياه کوه څخه د ذوالفقار تر درې پورې چې زموږ د هېواد په شمال لویدیځ کې پرته ده. څوځلي د افغانستان او ايران ترمنځ سرحد وټاکل شوه، خو پدې برخه کې کومه غوڅه پریکړه ونشوه، ترڅو چې دواړو دولتونو په ۱۳۱۳ هجري لمریز کال کې د ترکیې له دولت څخه د منځگړیتوب غوښتنه وکړه د ترکیې دولت جنرال فخرالدین التایي د سرحدی اختلافونو د حل لپاره وټاکه. جنرال فخرالدین التایي له ډیرې څیړنې او مطالعې څخه وروسته خپله پریکړه دواړو د افغانستان او ايران هېوادونو ته واوروله.

په دې ترتیب سره د افغانستان لویدیځ سرحد چې د فخری د کرښې په نوم يادېږي د سياه کوه له سیمې څخه د ذوالفقار تر درې پورې د شمال په استقامت تثبيت او وټاکل شو. د سياه کوه څخه تر اسلام قلعه

پورې سرحدی کرښه د ځمکې پرمخ او له اسلام قلعه څخه د ذوالفقار تر درې پورې د افغانستان او ایران ترمنځ د هریرو د سیند سرحدی کرښه جوړوي.

په ټولګي کې د ننه فعالیت:



زده کوونکي په ډلو ویشل کیږي. هره ډله د لاندې موضوعاتو څخه په یوه موضوع پخپلو منځوکې بحث کوي او پایلې ټولګیوالوته وړاندې کوي.

- د سیستان د سیمې څرنگوالي په هکله معلومات.
- ولې د افغانستان او ایران دولتونو د سرحدی کرښو د ټاکلو په هکله د هند له وایسرای څخه د مرستې غوښتنه وکړه او د ګولډ سمټ د کار پایله څرنگه شوه؟
- د نادعلي د رود د اصلي مسیر انحراف څه ستونزې رامنځته کړې او موضوع په څه ډول حل شوه؟
- ولې د ایران دولت د ملګرو ملتونو د امنیت شورا ته ګیله وکړه او پایله یې څه شوه؟
- د فخری سرحدی کرښه څرنگه وټاکل شوه؟

پوښتني:



- ۱- ولې د افغانستان او ایران ترمنځ د سیستان د سیمې په سر اختلاف راپورته شو؟
- ۲- د سیستان د حوزې په باره کې معلومات ورکړئ.
- ۳- د مک مهان سرحدی کرښه د کومو سیمو ترمنځ پرته ده؟
- ۴- د فخری سرحدی کرښه د () او () سیمو ترمنځ پرته ده.

له ټولګي څخه بهر فعالیت:



د افغانستان نقشه رسم کړئ د مکمهان او فخری کرښې پکې وښیئ

۱-۶ اداري تشکيلات



د افغانستان د لويو ولايتونو نومونه اخیستلای شئ؟

د امان الله خان په دوره کې افغانستان د اداري تشکيلاتو د واحدونو له مخې په پنځو ولايتونو او څلورو اعلي حکومتونو ویشل شوی و. د افغانستان ولايتونه کابل، کندهار، هرات، ترکستان، قطغن او بدخشان او اعلي حکومتونه له مشرقي سمت، جنوبي سمت، میمنه او فراه څخه عبارت وو.

له ۱۳۴۳ لمريز کال څخه مخکې د ځينو ولايتونو ساحه دومره پراخه وه چې د هغو اداره د طبيعي خنډونو له مخې لکه غرونه، پراخې اوسوځوونکې دښتې تنگې او صعب العبوره درې ستونزمنه او دهغه وخت د حمل و نقل د وسايلوله مخې زياتې ستونزې رامنځته کړې وې د دولت دکارکوونکو مصروفيت دومره زيات و چې په ډير مشکل سره د خلکو عريضو او شکايتونو ته غور نيول کيده.

عرفاني او ټولنيزو موضوعگانو ته کمه پاملرنه کيده. نو په ۱۳۴۳ لمريز کال کې د لومړي ځل لپاره د اساسي قانون د تطبيق او د ولسواکۍ د تعميم لپاره د هېواد په اداري تشکيلاتوکې اساسي تغيرات راغلل او افغانستان په ۲۹ اداري واحدونو يا ولايتونو ووېشل شو.

هر ولايت د والي په واسطه چې له مرکز سره مستقيمي اړيکې لري اداره او کنترولېږي. د هر ولايت اداري او قضايي چارې پخپل وار د خلکو د ارامۍ او آسانتياوو لپاره په کوچنيو اداري واحدونو وېشل شوي دي. هر ولايت په ولسواليو او کلیو وېشل شوې دی علاقه دارۍ اوس له منځه تللي او په ولسواليو بدلې شوي دي. د هرې ولسوالۍ په راس کې ولسوال دی د ولسواليو اداره له ولايت او دهغه اداره له مرکز سره اړيکې لري. د اجرائي قوې نور غړي د وزارتونو له خوا ټاکل کېږي او خپلې دندې په ولايت کې د والي د نظر لاندې او په ولسواليو کې د ولسوال د نظر لاندې سرته رسوي.

والي د قانوني کارونو د سرته رسولو په برخه کې د محلي ارگانونو رياست او جمهوري رياست ته

مسؤولیت لري او ځواب وپونکی دی.

د هېواد په اداري ویش کې په ۱۳۷۰ لمریز کال کې ۳۲ ولایتونه، ۹۴ ښاري ساحې او ۲۹۴ ولسوالۍ او ۳۳،۵۰۰ اصلي او فرعي کلي شامل وو. له ۱۳۸۵ لمریز کال څخه وروسته دوې ولسوالۍ چې یوه پنجشیر او بله یې دایکندي وه نوی ولایت ته لوړې شوې.

• په دې وروستیو کلونو کې د افغانستان اسلامي جمهوریت په ۳۴ ولایتونو او ۳۶۴ ولسوالیو ویشل شوی دی. د افغانستان لوی ښار د کابل ښار د هېواد پلازمینه ده لاندینی جدول د هېواد ولایتونه او د ولایتونو مرکزونه ښيي

شمېره	د ولایتونو نوم	د ولایتونو مرکزونه	د ولایتونو مساحت په کیلو متره مربع
۱	کابل	د کابل ښار	۴۵۲۳/۵۸
۲	قندهار	د قندهار ښار	۵۴۸۴۴/۵
۳	هرات	د هرات ښار	۵۵۸۶۸/۵۳
۴	بلخ	د مزار شریف ښار	۲۰۷۹۷/۶۳
۵	ننګرهار	د جلال آباد ښار	۷۶۴۱/۰۵
۶	پکتیا	د ګردیز ښار	۵۵۸۳/۱۵
۷	غزنی	د غزنی ښار	۲۲۴۶۰/۵۳
۸	پروان	د چاریکارو ښار	۵۷۱۵/۰۵
۹	هلمند	د لښکرګاه ښار	۵۸۳۰۵/۰۷
۱۰	بغلان	د پلخمری ښار	۱۸۲۵۵/۲۴
۱۱	فاریاب	د میمنې ښار	۲۰۷۹۷/۶۳
۱۲	نیمروز	د زرنج ښار	۴۲۴۰۹/۵۳
۱۳	بدخشان	د فیض آباد ښار	۴۴۸۳۵/۹۱
۱۴	جوزجان	د شبرغان ښار	۱۱۲۹۱/۵۲

۱۸۰۲۹/۱۶	د باميانو ښار	باميان	۱۵
۱۷۴۷۱/۸۰	د قلات ښار	زابل	۱۶
۳۶۶۵۷/۴۲	د فيروز كوه (چغچران) ښار	غور	۱۷
۲۰۷۹۴/۰۱	د قلعه نو ښار	بادغيس	۱۸
۱۳۴۳۷/۸۱	د ايبك ښار	سمنگان	۱۹
۱۲۴۵۷/۸۲	د تالقان ښار	تخار	۲۰
۸۰۸۰/۸۶	د كندز ښار	كندز	۲۱
۳۹۷۷/۰۸۷	د مهترلام ښار	لغمان	۲۲
۴۹۳۳۹/۱۱	د فراه ښار	فراه	۲۳
۱۹۵۱۵/۸۶	د شرنې ښار	پكتيكا	۲۴
۴۹۲۵/۹۰	د اسعد آباد ښار	كونړونه	۲۵
۴۵۶۸	د پل علم ښار	لوگر	۲۶
۱۰۳۴۸/۳۲	ميدان ښار	وردك	۲۷
۱۹۰۸	د محمود راقې ښار	كاپيسا	۲۸
۹۲۶۶/۷۴	د پارون ښار	نورستان	۲۹
۴۲۳۵/۲۶	د متون ښار	خوست	۳۰
۱۶۳۸۵/۵۷	د سرپل ښار	سرپل	۳۱
۱۱۴۷۳/۶۷	د ترين كوټ ښار	ارزگان	۳۲
۳۷۷۱/۶۲	د بازارك ښار	پنجشير	۳۳
۱۷۵۰۱/۳۶	د نيلې ښار	دايكنلې	۳۴



په ټولګي کې د ننه فعالیت:



زده کوونکي دې په ډلوو ویشل شي. هره ډله دې د لاندنيو موضوعاتو په باره کې پخپلو منځو کې بحث وکړي.

یو تن دې د ډلې په استازیتوب خپله موضوع ټولګیوالو ته شرحه کړي.

• د امانې دورې اداري تشکيلات:

• ولې په ۱۳۴۳ هجري لمريز کال کې په اداري تشکيلاتو کې بدلون راغې.

• د ولايتونو او ولسواليو اداره په څه ډول ده؟

• د هېواد د ولايتونو، ولسواليو او کلیو شمېر څومره دی؟ وروستني ولايتونه، چې د ولايت سطحې ته لوړ شوي دي نومونه يې واخلي.



پوښتنې:

۱- د امان الله خان د دورې د ولايتونو نومونه واخلي.

۲- د امان الله خان د دورې اعلى حکومتونه کوم دي؟

۳- کوم ولايتونه د هېواد په شمال کې پراته دي.

۴- د افغانستان د مرکزي ولايتونو نومونه واخلي.

۵- د کابل، بلخ، ننگرهار، او هرات د ولايتونو د مرکزونو نومونه واخلي.

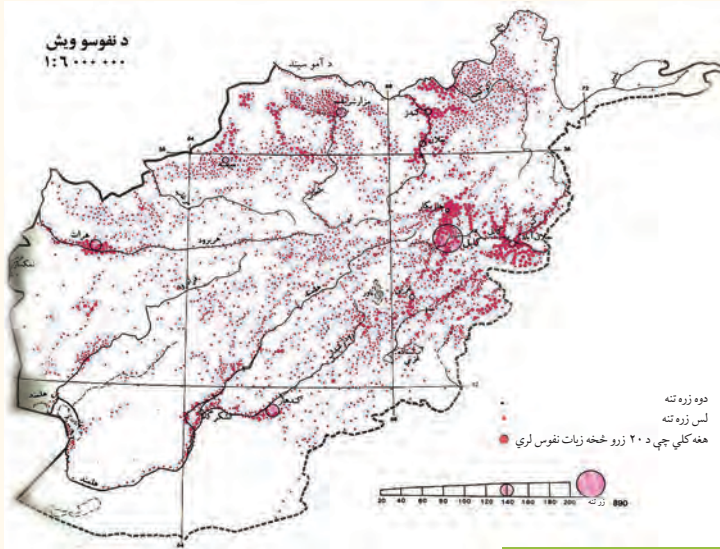
۶- د هېواد لويديځ ولايتونه په نقشه کې وښيي.



له ټولګي څخه بهر فعالیت:

د افغانستان نقشه رسم کړئ او په هغې کې د هېواد د لویو ولايتونو او ښارونو موقعیت و ټاکئ.

۱-۲ د هېواد په پرمختیا کې د نفوسو اهمیت.



نفوس د هېواد په پرمختیا کې څه اهمیت لري؟

نفوس د هېواد له ټولو اوسیدونکو څخه عبارت دي، چې په بیلابیلو ځایونو کې د بیلو لاملونو له مخې استوګن او ځای پر ځای شوي دي. د نفوسو شمیر په ځینو ځایونو کې لږ او په ځینو ځایونو کې ډیر دی.

نوله دی کبله د نفوسو تناسب د استوګنې پر سیمه باندې د اهمیت وړ دی.

د نفوسو د ګڼوالي له پاره باید د یوې سیمې نفوس د هغې په مساحت ویشو. د افغانستان نفوس ۲۶ میلیونه اټکل شوی دی، چې په ټول هېواد کې ژوند کوي او سنی نفوس په ټول هېواد کې یو ډول ندی بلکې اقلیمي، د ځمکې د جوړښت شرایط او نور اقتصادي، بشري او سیاسي لاملونه د نفوسو په تمرکز کې اغیزه لري.

همدارنگه د پورتنیو لاملونو په پام کې نیولو سره په حاصلخیزو سیمو لکه (ننگرهار، لوګر، کاپیسا، لغمان، او پروان) کې په زیات شمیر نفوس ځای پر ځای شوي دي. په داسې حال کې چې د بکوا او مارگو په سوځونکو دښتو کې د نفوسو شمیر ډېر کم دی.

په هېواد کې پرمختیایي پلانونه د نفوسو د زیاتوالي له مخې په پام کې نیول شوي دي.

د افغانستان نفوس په صنعتي مرکزونو، اقلیمي سیمو، ښارونو او کلیو کې په مختلفو اندازو ځای پر ځای شوی دی. د خلکو د ژوندانه لپاره د کرنې په پرمختیا او د لومړنیو توکو د تولید پر بنا ۸۰ سلنه خلک په کلیو او ۲۰ سلنه نور په ښارونو کې ژوند کوي. په دې وروستیو کلونو کې د وخت په تیریدو او د سیاسي بدلونو نو پر اساس د نفوسو ګڼه ګڼه د کابل، جلال آباد، مزار شریف، هرات او داسې نورو ښارونو کې زیاته شوې ده.

- د اقتصادي او صنعتي لاملو په سبب د هېواد يو شمېر وگړي په صنعتي مرکزونو کې ژوند کوي. لکه د پلخمرې د نساجي فابريکې د بغلان د قندفابريکې او داسې نورو کارخانو په شاوخوا کې استوگن دي.

- په کرنيزو پروژو کې لکه د هادي او غازي آباد فارمونه، دهلمند، ناد علي او داسې نورې پروژې د زياتو نفوسو دځای پرځای کېدنې لامل شوي دي.

- د کرنيزو ځمکو دخړوبلو لپاره د سيندونو شتون دکرنيزو کليو د پرمختگ سبب شوی. همدارنگه سوداگريز بندرونه لکه تورخم، اسلام قلعه، حيرتان، سپين بولدک او داسې نور د ډېرو نفوسو دځای پرځای کېدنې سبب شوي دي.

لنډه دا چې په اوارو او مناسبو اقليمي سيمو کې دنفوسو دمېشته کېدنې مينه ډېره وي نه په سوځونکو شگو او يا په غرنيو لوړو برخو کې.

په ټولگي کې د ننه فعاليت:



زده کوونکي دې په ډلوو ويشل شي. هره ډله دې له لاندنيو موضوعاتو څخه په يوه موضوع بحث وکړي او پايلې په ټولگي کې شرحه کړي.

- ۱- په سياسي لحاظ د نفوسو گڼوالی.
- ۲- په اقتصادي لحاظ د نفوسو گڼوالی.
- ۳- په طبيعي لحاظ د نفوسو گڼوالی.



پوښتنې:

- ۱- نفوس تعريف کړئ.
- ۲- لاندینی ولایتونه ډیرگڼوالی لري.
- الف: کابل، کاپيسا، ننگرهار، لوگر، او پروان ب: تخار، کونړونه او لغمان
- ج: لوگر، میدان وردک او غزني
- د: دایکندي، خوست، او پکتیا.
- ۳- آیا اقليم او ښه خاوره د نفوسو په گڼوالي اغېزه لري؟
- ۴- په سوځونکو دښتوکې د نفوسو گڼوالی په څه ډول دی؟ د دغې موضوع بېلگه ووياست.



له ټولگي څخه بهر فعاليت:

د نفوسو په ویش او گڼوالي کې کوم لاملونه شامل دي، نومونه يې واخلي.

د خپل استوګنځي په باره کې فکر وکړئ و وایاست چې د هغې سیمې نفوسو ولې پرمختیا کړې ده؟ افغانستان له ډیرو پخوا دورو څخه د خلکو د استوګنې ځای و او بیلا بیلو قبیلو ته یې د غرونو په شنو لمنو، دو یا لویه غاړه، د سیندونو په ساحلونو او دخوړونو په غاړوکې ځای ورکړی دی او د افغانستان په تاریخ کې یې د لرغوني آریایي، مدنیت بنسټ یې ایښی دی. چې تاریخي جغرافیه د دې حقیقت ښکارندوی ده.

د دې هیواد تاریخي لوغونتوب، د نفوسو استقرار چې د لویو مدنیتونو او د تاریخي ښارونو د تاسیس له مخې لکه بلخ پیل کېږي. تقریبا له ۸۰-۸۵ سلنه نفوس یې په کرنه او د هغې په اړونده کارونو بوخت دي. تر اوسه هم کرنه د نفوسو د تمرکز او ویش د سترو لاملونو څخه ګڼل کېږي. نوله همدې امله د فزیکي چاپیریال جوړښت، د اقلیم ډول، د هایدروګرافي ځانګړتیا وې، د انساني نفوسو د تمرکز او استوګنې لپاره، په بیلا بیلو تناسبونو شرایط برابر کړي دي. زموږ په هیواد کې هم د نړۍ د نورو سیمو پشان، سیمې په بیلا بیلو تناسبونو رامنځته شوي دي. زموږ په هیواد کې د نړۍ د نورو سیمو په شان، درې، وادي، جلګی او د سیندونو غاړې په ډیرو پخوا نیو زمانو کې مساعد چاپیریال د خلکو د بېلا بېلو ډلود استوګنې لپاره رامنځته کړي دي او د کرنې او ژوندانه له پاره یې مساعدې برخې جوړې کړي دي، چې د کرنې، صنعت او مالدارۍ او د صنعتي فعالیت د پراختیا له لپاره ګټورې دي او غېرمسکونی سیمې یې د استوګنې په سیمو بدلې کړي دي. د هیواد په شمال کې د نفوسو تمرکز په هغو سیمو کې چې لوړوالی یې له ۲۵۰۰ مترو څخه زیات دی، محدود دی او پدې سیمو کې یو شمیر نسبتا پر اڅې سیمې یې نیولي دي. هغه سیمې چې مساعد اقلیم، ښه خاوره او ډېرې اوبه لري، زیات شمېر خلک پکې استوګن دي. په همدې ډول هغه سیمې چې له ۱۰۰۰ مترو کم لوړوالی لري پراخې او هوارې سیمې دي لکه لویدیځه، شمالي، ختیځه د جنوب لویدیځ یوه برخه او جنوبي حوزې. د دې سیمو زیات نفوس په کرنه او مالدارۍ او نورو تجارتي او صنعتي دندو بوخت دي.

د افغانستان اداري واحدونه څرګندوي، چې د کرنې له مخې زیات اهمیت لري او زیات نفوس یې ځانته جلب کړي دي او د نورو سیمو په تناسب یې ګڼ نفوسه سیمې جوړې کړي دي. په همدې ډول یې په پورتنیو نقطو کې د سوداګرۍ راکړې ورکړې لوی ښارونه او داسې نورې سیمې جوړې کړي دي چې د زیاتو نفوسو په تمرکز کې اغېزه لري.

صنایع او د فابریکو جوړول، عرفاني او فرهنگي مرکزونه، اداري نظامي او توریستي واحدونه هم د نفوسو د راټولیدو او تمرکز لامل شوي دي. چې کولای شو د کابل له ښار، د ننگرهار او کاپیسا له ولایتونو او نورو ښارونو څخه یې یادونه وکړو.

د اوبو شتون د نفوسو په ګڼوالي کې ډیره اغېزه لري. که چېرې د سیندونو، د چینو او کاریزونو غاړې ترکتني لاندې ونیسو. دغو سیمو د نورو سیمو په نسبت زیات نفوس ځانته جلب کړي دي. په تیره بیا د

سیندونو، کاریزونو او چینو منځنۍ او وروستنی برخې د نفوسو په تمرکز کې له ډیرو پخوا کلونو څخه لویه برخه درلوده. د نفوسو گڼوالی په دې نقطو کې په څرگنده توګه ترسترګو کېږي. د مثال په ډول د لوګر، پنجشیر، الیشنگ، الینگار، کونړ، د هریرود سیند او مرستیالان یې، د هلمند د سیند ساحل او مرستیالان یې لکه ترنک، ارغستان او ارغنداب، د مرغاب سیند او مرستیالان یې، د کندز سیند، فراه رود، خاشرود او ادرسکن او د آمو د سیند کین ساحل د افغانستان ډېر ګڼ نفوسه سیمې دي.

په ټولګي کې د ننه فعالیت:



زده کوونکي لومړی په ډلو ویشل کېږي. وروسته هره ډله د لاندې پوښتنو په باره کې فکر کوي او نتیجه یې د ډلو استازي نورو ته تشریح کوي. د کومو د لیلونو له مخې د نفوسو گڼوالی په یوه ځانګړې سیمه کې زیات وي؟ په قناعت بڼه پوښتنو د لیلونو یو له بل سره بحث وکړئ.



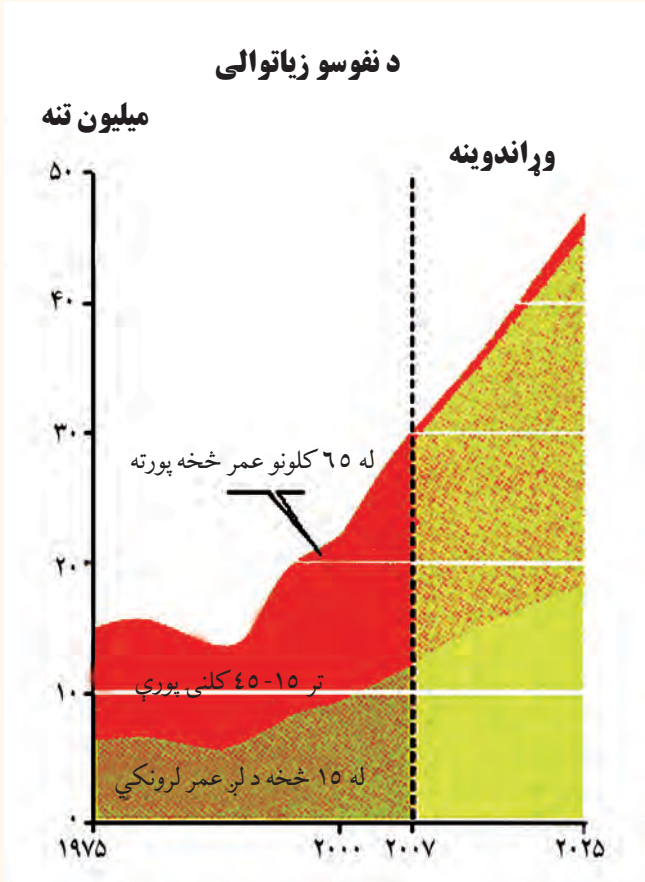
پوښتنې:

۱. د هغو سیندونو نومونه واخلئ چې د نفوسو د گڼوالي باعث ګرځي.
۲. د هلمند سیند د لاندې اهمیت لرونکی دی:
 - الف: اقتصادي، کرنیز، صنعتي او تولیدي
 - ب: اقتصادي او انرژي
 - ج: اقتصادي او شخصي
 - د: ټول سم دي
۳. د کابل د سیند مرستیالان له () څخه عبارت دي.
۴. هغه سیمې چې په ۱۰۰۰ متره لوړوالي کې پر تپې دي، د نفوسو تمرکز یې () دی.
۵. د کاریزونو اهمیت د هیواد د اوسیدونکو په ژوندانه کې، بیان کړئ.



له ټولګي څخه بهر فعالیت:

کوم جغرافیایي شرایط د ښارونو د جوړیدو او د نفوسو د گڼوالي سبب شوي دي؟ په کتابچو کې د ځواب له لیکلو وروسته یې نورو ته تشریح کړئ.



ایا پوهېږئ چې د نفوسو وده او منځنی عمر زموږ په گران هیواد کې څومره دی؟

د نفوسو نسبي وده د یوه هېواد د خلکو زیاتوالي ته ویل کېږي. د خلکو د شمېر او د نفوسو د نسبي ودې په باره کې بنسټیز ارقام او څیړنه له اساسي اړتیا و څخه گڼل کېږي. په دې ډول کولای شو چې د دیموگرافي له مخې چې د نفوسو وده، مړینه (نارینه او ښځینه) او نور ارقام هر وخت د څېړونکو او مؤسساتو په واک کې کېږدي. په مخ پر ودې هېوادونو کې د نفوسو وده د ټولنیزو، مذهبي او اقتصادي مقرراتو تابع ده.

• د ټولنیزې او روغتیا له مخې عادي وده په پام کې ده..

نو له همدې امله په افغانستان کې منځنی او عادي وده له ۰.۳، ۰.۲ سلنه محاسبه شوې ده. سره له دې

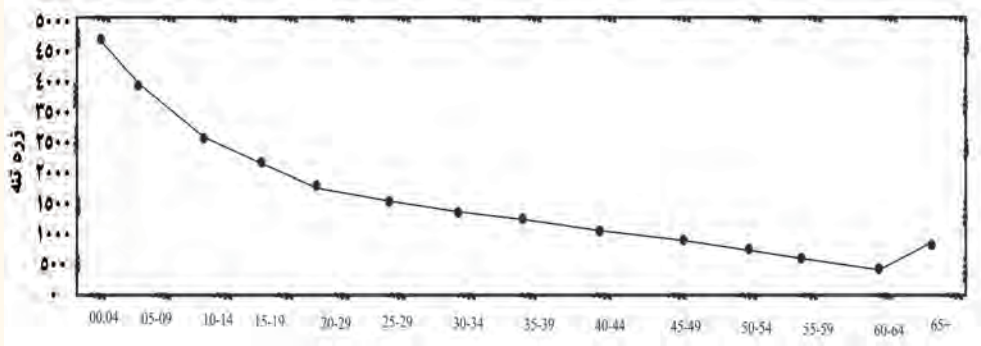
چې دقیقه احصایه نشته. د افغانستان د نفوسو په هکله اټکلي ارقام په رسمي ډول د لومړي ځل له پاره په ۱۳۱۵ لمریز کال کې خپاره شول. د افغانستان ټول نفوس په دې کال کې لس میلیونه او اويا زره ښوول شوي دي. په داسې حال کې چې په ۱۳۸۸ لمریز کال کې چې له ۲۰۰۹ میلادي کال سره سمون لري ۲۶ میلیونه څرگند شوي دي.

د پلان وزارت د ۱۳۲۹ لمریز کال د احصایې له مخې د ټول هېواد نفوس ۱۲ میلیونه اټکل کړي دي. د همدې کلونو د نفوسو وده په اټکل ولاړه ده.

د نفوسو لومړۍ بیلگه یزه څېړنه په ۱۳۳۲ لمریز کال کې، د هېواد په پلازمېنه کابل ښار کې د روغتیا د نړیوالې مؤسسې له خوا سرته ورسیده او د لسو ولايتونو په ۸۵ اړونده کلیو کې په تیت او پرک ډول د نفوسو د ترکیب (عمر، جنس، دنده او داسې نور) او نورو ځانگړتیاوو په باب معلومات راټول شول. له هغې څخه وروسته یوه بله بیلگه یزه څېړنه د کابل د کلیو (ده خدای داد) په باره کې په ۱۳۳۸ لمریز کال کې سرته ورسیده. دغه عملیه د دیموگرافي د پوهې له مخې د ساحې او د نفوسو د شمېر د محدودیت اود احصایې له مخې لازم ارزښت نلري او له هغې څخه سمه علمي نتیجه په لاس نه راځي. بشپړه سرشمېرنه د ۱۳۵۸ لمریز کال د جوزا د میاشتې په ۲۵ نېټه پیل او د چنگاښ د میاشتې په ۱۴ نېټه پای ته ورسیده. سره له دې چې دقیقه احصایه واخستل شوه، خو بیا هم وېي نه شوکولی چې د هېواد د ټولو سیمو احصایه واخلي. د ۱۳۵۹ لمریز کال د احصایې له مخې د افغانستان ټول نفوس ۱۵.۹۴ میلیونه تنه اټکل شوي چې د هغو له جملې څخه ۱۳.۴ میلیونه تنه دايمي استوگن نفوس او ۲.۵۶ میلیونه تنه نورکوچیان وو. د ټول نفوس ۱۵.۴ سلنه په ښارونو او ۸۴.۶ سلنه په کلیو کې ژوند کوي.

پدې کال کې په کلیو یا ښارونو کې میشت نفوس چې ټولې کورنۍ ۲،۱ میلیونه وې چې په منځني ډول د هرې کورنۍ غړي ۶ تنه ثبت شول.

په ۱۳۸۶ کال کې، د عمر له مخې د نفوسو د گروپونو بیلوالی



اضافي معلومات:

له ۱۳۴۰ څخه تر ۱۳۷۰ لمريز کلونو پورې د نفوسو د زیاتوالي معلوماتي جدول:

د ودې سلنه	کال	ګڼه
۳,۱	۱۳۴۰	۱
۳	۱۳۴۸	۲
۲,۸	۱۳۵۰	۳
۲,۶	۱۳۵۹	۴
۱,۹	۱۳۷۰	۵
۲,۰۳	۱۳۸۶	۶

په ټولګي کې د ننه فعالیت:



زده کوونکي دې په ډلو وویشل شي. هره ډله دې د نفوسو د اهمیت په باره کې بحث وکړي او د هېواد

د پرمختيا په باره کې دې د هغې اغېزې پخپلو منځو کې شريکې کړي.



پوښتنې:

- ۱- د مخ په ودې هېوادونو د نفوسو وده څرنگه ده؟
- ۲- د نفوسو وده څه ارزښت لري؟
- ۳- د افغانستان د نفوسو احصايه اټکلي ده که و افعي؟
- ۴- په کومو هېوادونو کې د نفوسو کنترول مجاز نه دی؟



له ټولګي څخه بهر فعاليت:

زموږ په هېواد کې د نفوسو وده د کومو لاملونو تابع ده؟ وروسته له دې چې د ليلونه مو په کتابچه کې وليکل، بله ورځ پرې په ټولګي کې بحث وکړئ.

د نفوسو څرنګوالی او په هېواد کې قومي جوړښت

په افغانستان کې د نفوسو څرنګوالی، د لاندنیو مطالبو له مخې مطالعه او ارزولی شو.

• د عمر له مخې.

• د جنس له مخې.

د نفوسو د څرنګوالي مطالعه د ټولنیزو او اقتصادي خدمتونو له مخې (کرنه، کانونه او داسې نور)

د ۱۳۵۸ لمریز کال راهیسې د هېواد په سطحه کومه سر شمیرنه نه ده شوې نو له همدې امله په افغانستان کې د نفوسو د ویش، ترکیب دودې د اندازې او اقتصادي او ټولنیزو ځانګړتیاوو په هکله مستند احصایوي معلومات په لاس کې نشته. خو په ۱۳۸۳ لمریز کال کې د نفوسو د څرنګوالي لومړیتوب د جنس (د نارینه او ښځینه) له مخې مطالعه شو.

• په ۱۳۸۳ لمریز کال کې د نفوسو د جنس له مخې د څرنګوالي لومړیتوب احساس شو. د اتیا ویمې لسیزې په پیل کې د ښځینه ووبه لور پاملرنه را وگرځیده، چې د هغو فعاله ونډه اخیستنه په ټولو برخو کې په څرګنده ښکاري. اوس د کتنې وړ شمیر ښځې په شورا (ولسي او مشرانو جرګه) کې دنده ترسره کوي. په همدې ډول د ښځو ونډه په دولتي ادارو کې په تیره بیا په پوهنې او د اقتصاد په بیلا بیلو سکتورونو کې زیاته شوې ده.

• د مخ پر ودې هیوادونو په ډله کې زموږ د هیواد د ټولو نفوسو (د صفر څخه تر ۱۵ کلنۍ پورې) ۴۴ سلنه او د (۱۵ څخه تر ۶۰ کلنۍ پورې) ۵۲.۹ سلنه او د ۶۵ کلنۍ څخه پورته ۲.۶ سلنه اټکل شوي ده.

په هېواد کې اقتصادي فعاله نفوس تر (۱۵ - ۶۵) کلنۍ پورې دی چې د هغې له جملې څخه ۸۰ سلنه د کرنې او مالدارۍ په برخه کې مشغول دي او پاتې نورې په صنایعو، کانونو او ټولنیزو خدمتونو کې بوخت دي او له ۶۵ کلنۍ څخه پورته غیر فعاله اقتصادي نفوس تشکیلوي.

۱- د کوچنیوالي عمر د مشغولیت له پلوه د حقوق بشر سازمان ۱۸ کلنۍ غوره کړی دی.

په افغانستان کې د عمر او جنس د جوړښت څرنگوالی:

کلیوالي نفوس		ښاري نفوس		کال
نارینه	ښځې	نارینه	ښځې	۱۳۸۸
۹۱۲۷۴۰۰ تنه	۸۷۵۲۳۰۰ تنې	۲۶۵۶۲۰۰ تنه	۲۵۰۳۰۹۰ تنې	
۱۷۸۷۹۷۰۰ تنه		۵۱۵۹۲۰۰ تنه		

په پورتنی جدول کې د ښځو شمېر د نارینه و په پرتله ۳.۵ ځلي لږ دی. خو د عمر له پلوه د کوچنیانو شمیر د پنځه کلنۍ څخه کېښته ۲۰ سلنه ۲۵ څخه کېښته ۸ سلنه ۴۰ څخه کېښته ۵ سلنه ۶۵ څخه کېښته ۴ سلنه

د افغانستان ټول نفوس جوړوي

په هیواد کې قومي جوړښت او د قومونو جغرافیایي ویش:

- په افغانستان کې د مېشتو قومونو جغرافیایي ویش په څه ډول دی؟
- د افغانستان اوسیدونکي او یا اتباع د تاریخي عنعناتو له مخې او همدارنگه د اساسي قانون له مخې ټول افغانان دي. خو د بشري جغرافیې له مخې زموږ په هیواد کې بیلا بیل قومونه ژوند کوي چې په لنډ ډول د هغو په اړه یادونه کوو.
- په دې خاوره کې پښتانه د تاریخي اسنادو له مخې د اریایانو ډېر پخوانی توکم بلل کېږي هغه ژبه چې پرې خبرې کوي د پښتو په نوم یا ډېري.
- هیروډت د یونان وتلي مورخ پښتانه د پک تویس او سیمو، پکتیس په نوم هم یاد کړي دي. پښتانه په ټول افغانستان کې استوگن دي، خو زیات شمیر یې په ختیځ کابل او د کابل په گاونډیو ولایتونو په جنوبي، جنوب ختیځ، ختیځ او جنوب لویدیځ کې په گڼه توگه ژوند کوي په شمالي ولایتونو کې هم اوسېږي.
- تاجکان د پښتنو په څېر د دې سیمې د اریایانو له ډیرو پخوا نیو قومونو څخه دي، چې بیلا بیل قومونه یې د هیواد په شمال کې له بدخشان څخه تر هرات او د هندوکش په جنوب کې له پروان څخه تر کابل پورې ژوند کوي. او په عمومي توگه په دري ژبه خبرې کوي.

- ازیبک او ترکمن هم د دې هیواد اوسیدونکي دي او د هېواد په شمال او شمال لویدیځ کې ژوند کوي. ازیبک قرغز، قزاق او ترکمن په ترکی او ازیبکي ژبو خبرې کوي.
- هزاره زموږ د هېواد اوسیدونکي دي چې په هزاره گي لهجه په دري ژبه خبرې کوي. په بامیانو او مرکزي لوړو سطحو کې اوسېږي.
- نورستانیان له اریایي قوم څخه دي او د دې هیواد له اصلي اوسیدونکو څخه شمېرل کېږي. د نورستانیانو داوسیدو سیمه نورستان او ژبه یې د ختیځ اریایي ژبو څخه ده. یو بل قوم چې اریایي نژاد لري، پشه یان دي چې په کونړونو او کاپیسا کې ژوند کوي. ژبه یې ختیځه اریایي رېښه لري.
- بل قوم چې اریایي نژاد لري بلوڅ دي چې د کندهار په جنوب او چخا نسور کې ژوند کوي. ژبه یې بلوڅي اریایي ده په پښتو او دري هم خبرې کوي.
- په همدې ترتیب زموږ په گران هیواد کې یو شمېر قزل باش، عرب اوسیدان هم ژوند کوي. په همدې ډول یو محدود شمېر هندوان اوسکان هم په کابل، ننگرهار، کندهار، گردیز، خوست او غزني کې ژوند کوي، چې د دې هیواد اوسیدونکي دي.

په ټولگي کې د ننه فعالیت:



د نفوسو څرنګوالی څه مفهوم لري؟ هره ډله به په دې هکله بحث وکړي. د ډلې استازې دې هم ټو لگیوالوته ووايي. چې په هېواد کې د میشتو قومونو په هکله بحث وکړي او خپل معلومات له نورو سره شریک کړي.

پوښتنې:

۱. هغه قومونه چې په افغانستان کې ژوند کوي، نومونه یې واخلي.
۲. د اضافي معلوماتو د جدول له مخې په کاربو ختو نفوسو سلنه پیدا کړئ
۳. د کوم عمر خلکو ته اقتصادي فعاله نفوس ویل کېږي؟

له ټولگي څخه بهر فعالیت:



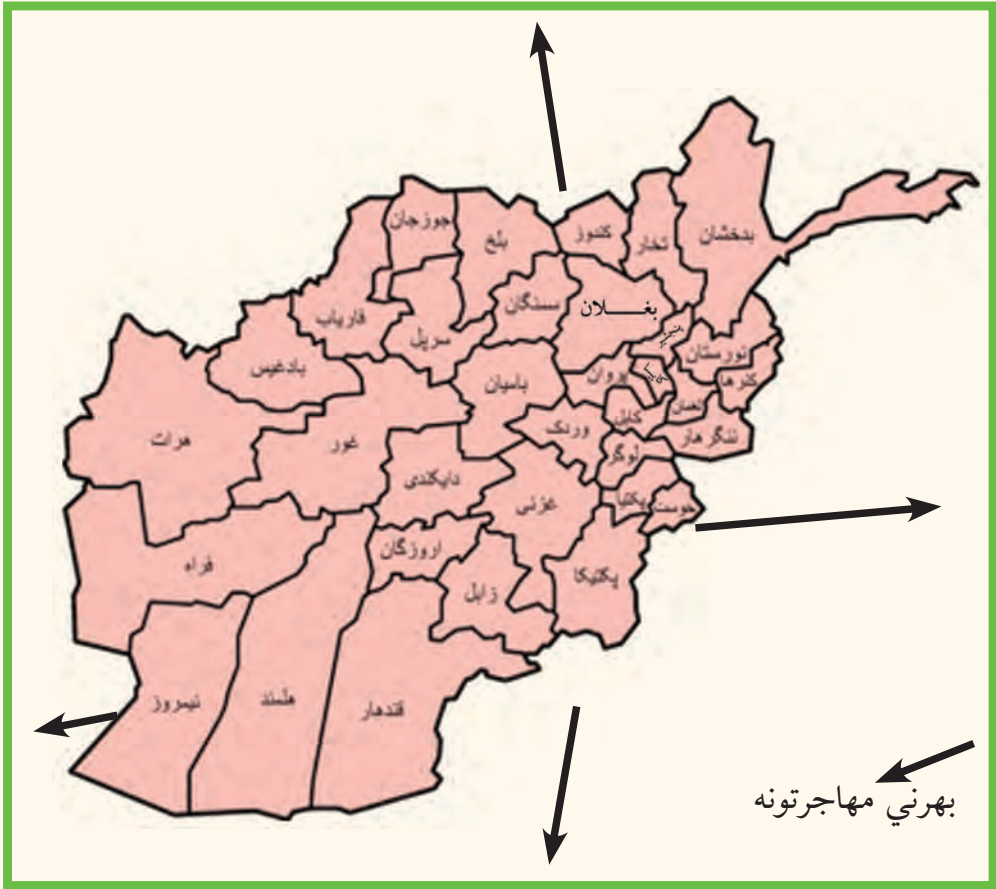
په افغانستان کې د استوګن قومونو په باره کې، له بیلا بیلو سرچینو څخه په ګټه اخیستنه، یوه لنډه مقاله ولیکئ.

اضافي معلومات

۱۳۸۶ (۲۰۰۷-۲۰۰۸)				
ټول دايمي استوگن نفوس				
نارينه (تنه)	بنځينه (تنې)	ټول نفوس (تنه)	فيصلي	عمر (په كال)
۱۱۷۸۳۶۰۰	۱۱۲۵۵۳۰۰	۲۳۰۳۸۹۰۰	۱۰۰	
۲۱۹۲۶۹۱	۲۳۲۱۸۷۱	۴۵۱۴۵۶۲	۲۰	۰۴-۰۰
۱۷۵۰۷۱۷	۱۶۹۴۹۶۲	۳۴۴۵۶۷۹	۱۵	۰۹-۰۵
۱۳۹۹۴۵۶	۱۲۵۳۶۸۷	۲۶۵۳۱۴۳	۱۱	۱۴-۱۰
۱۱۴۸۴۳۷	۱۰۱۷۴۴۴	۲۱۶۵۸۸۱	۹	۱۹-۱۵
۹۵۶۱۸۶	۹۰۴۷۱۲	۱۸۶۰۸۹۸	۸	۲۴-۲۰
۷۶۰۹۷۲	۷۷۹۷۲۱	۱۵۴۰۶۹۳	۷	۲۹-۲۵
۶۱۰۴۱۸	۶۷۶۸۰۵	۱۲۸۷۲۲۳	۵	۳۴-۳۰
۵۳۹۴۱۳	۵۹۵۲۷۱	۱۱۳۴۶۸۴	۵	۳۹-۳۵
۴۹۴۷۴۳	۴۸۶۵۳۴	۹۸۱۲۷۷	۴	۴۴-۴۰
۴۵۰۲۲۱	۴۰۲۴۶۱	۸۵۲۶۸۲	۴	۴۹-۴۵
۳۹۶۶۸۸	۳۲۳۹۲۵	۷۲۰۶۱۳	۳	۵۴-۵۰
۳۲۸۵۴۸	۲۵۱۶۲۶	۵۸۰۱۷۴	۳	۵۹-۵۵
۲۵۶۲۵۸	۱۹۰۹۰۶	۴۴۷۱۶۴	۲	۶۴-۶۰
۴۹۸۸۵۲	۳۵۵۳۷۵	۸۵۴۲۲۷	۴	۶۵ کلن او د هغې څخه پورته

نوټ: د کوچیانو ۱,۵ میلیونه نفوس پکې شامل نه دي.

۲-۵ کورني او بهرني مهاجرتونه او د نفوسو ځای پر ځای کیدل



د هغو مهاجرتونو په هکله چې زموږ له هېواده شوي، معلومات لری؟

زموږ په هېواد کې کورني، بهرني، سياسي او تاريخي مهاجرتونه چې د طبيعي پېښو د اغېزو له مخې کېږي، د هغو انگيزې په لاندې ډول دي:

- **سياسي مهاجرتونه:** سياسي مهاجرتونه هغه وخت کېږي چې فکري او عقيدتي ازادي موجوده نه وي. له ۱۳۵۷ لمریزکال څخه وروسته د روس دتهاجم او تيري له امله د افغانانو ډېرلوی مهاجرتونه چې په نړۍ کې ساری نه لري نورو هیواد و نو او لویو وچوته شوي دي، د افغانستان له پنځه میلیونو څخه زیات نفوس د نړۍ په گوټ گوټ کې مهاجر شول.

•اقتصادي مهاجرتونه:

د كليو، د كوچنيو او لويو ښارونو خلك لويو صنعتي ښارونو ته د كار او دندو د موندلو او د شتمنيو د لاس ته راوړلو او د خوندي ژوند لپاره مهاجرت كوي. د پورتنيو لاملونو په نظر كې نيولو سره د كليو خلك ښارونو لكه كابل، كندهار، هرات، مزار شريف او نورو صنعتي ښارونو ته مهاجرت كوي چې دغه كار لا تر اوسه دوام لري.

•تاريخي مهاجرتونه:

په ډيرو پخوانيو وختو كې اريا يانو له بلخ (بخدي) څخه شاوخوا سيمو ته ترهند او فارس پورې مهاجرت وكړ. يونانيانو، كوشانيانو او مسلمانانو يو پر بل پسې مهاجرت وكړ. • په ۱۳۴۹ لمريز كال كې د وچكالي له امله زموږ هېوادوال د خپلو كورونو پرېښودلو ته اړ شول چې د بادغيس، ارزگان او د هزاره جاتو لوړه سطحه په دې ډله كې راځي. • مو سمي مهاجرتونه د تودو او سړو سيمو ترمنځ كېږي يعنې مهاجرين په اوږي كې د څارويو د روزنې او همدارنگه د کرنې لپاره گاونډيو سيمو ته مهاجرت كوي. د هېواد کوچيان يې ښه مثال دي.

•د مهاجرت اغيزې:

مهاجرتونو په افغاني مهاجرينو مثبتې او منفي اغيزې كړي دي.

۱- د فعال اقتصادي نفوس له لاسه ور كول.

۲- د مغزونو تيښته (د پوهانو او ماهرو خلكو مهاجرت).

۳- منفي اغېزې لکه: په HIV او د پوستکي په ناروغيو اخته کيدل.

۴- باندنيو هېوادونو ته د سرمايي لېږدول.

مثبتي اغېزې لاندې دي:

۱- د خپل فرهنگ لېږدول او د نورو له فرهنگ سره آشنايي.

۲- د خپلې ژبې رواجول او د نورو له ژبو سره بلدتيا.

۳- د نوي تکنالوجيو سره بلدتيا.

۴- په پايله کې هر مدنيت د يوه مهاجرت زېږنده ده.

۵- د هغوی انساني حقوق تر پښو لاندې کيدل

په ټولگي کې د ننه فعاليت:



زده کوونکي دې په ډلو وویشل شي او هره ډله دې د لاندې پوښتنو په باره کې بحث وکړي او

د هرې ډلې استازي دې خپل معلومات په ټولگي کې وړاندې کړي.

۱. په سياسي مهاجرت او د هغه په انگېزه بحث وکړي.

۲. زموږ هېوادوالو ولې لویو صنعتي ښارونو ته مهاجرت کړی؟

۳- آیا تاریخي مهاجرتونه زموږ په هېواد کې شوي دي؟



پوښتنې:


- ۱- زموږ په گران هېواد کې اوسیدونکو ولې له کلیو څخه ښارونو ته مهاجرتونه کړي.
- ۲- د مهاجرت منفي اغیزې بیان کړئ؟
- ۳- آیا زموږ هېوادوال اوس هم نورو هېوادونو ته مهاجرت کوي. ولې؟



له ټولګي څخه بهر فعالیت:

ولې زموږ د هیواد اوسیدونکي نورو هیوادونو ته مهاجرت کوي؟ ددې سر لیک لاندې یوه مقاله ولیکئ او د جغرافیې په را تلونکي ساعت کې یې هم ټولګیوالو ته وړاندې کړئ.

۱,۳ دین



د مکې معظمې انځور

د افغانستان زیاتره خلک د کوم دین و مذهب پیروان دي؟

انسانان له خپلو عقیدو سره ژوند کوي. زموږ خلک هم له ډېرو پخوا وختو راهیسې د بېلا بېلو دینو نو پیروان وو. زموږ نېکونو اریایانو نوو سیمو ته له کوچیدو مخکې ساده آیین در لوده. دوی د طبیعت هغه عناصر چې په ژوندانه یې اغېز درلوده مقدس شمېرل. د افغانستان خلک، سره له دې چې دویدي او برهمني زړې عقیدې پیروان وو، د هیواد په ختیځ، شمال لویدیځ کې زر دشتي آیین رواج درلود. خو کله چې له میلاد څخه مخکې ۲۰۶ کال کې

اشوکا دبودايي دين د تبليغ او خپرولو له پاره ملا وتړله چې د هغه تاريخ نه زر کاله وروسته هم دی عقيدې او آيين د هېواد په ختيځ اوشمال کې بشپړ رواج ومونده، چې د فکري، هنري او فرهنگ له پلوه يې د دې خلکو په ژوندانه ژوره اغېزه در لوده. بودايي دين داشوکادنفوذ او سلطې په واسطه د هندوکش له جنوب څخه ترکندهاره پورې خپور شو.

د اسلام دمقدس دين په ظهور سره بېلابېل دينونه لکه زردستي، بودايي او لږ څه آسماني دينونه لکه يهوديت، مسيحيت په خراسان (افغانستان) کې پېرو او پلويان در لودل. خو داسې دين چې په ټول افغانستان کې عام رواج ولري او دملي دين په توگه ومنل شي، وجود نه در لوده. چې پدې ډول سره د هغه وخت خراسان يا اوسنی افغانستان د اسلام مقدس دين د منلو له پاره چمتو و. د حضرت عثمان(رض) په واکمنۍ کې، له ۲۵ هجري کال څخه وروسته اسلامي فتوحاتو په افغانستان کې پرمختگ وکړ. احنف بن قيس د هرات ښار ونيوه او خلک يې د اسلام په دين مشرف کړل. دريم خليفه حضرت عثمان (رض) عبدالله بن عامر بن کريز چې ۲۵ کلن ځوان و د ابوموسی اشعري په ځای وټاکه. عبدالله بن عامر اسلامي امپراطورۍ ترختيځ پورې وغزوله هغه سرخس، فارياب، تالقان، کندهار او غزنی فتح او اسلام يې هلته خپورکړل. کابل يې يو کال محاصره کړ او په مشکل سره يې فتح کړ. د وخت په تيريدو سره د افغانستان ټولې سيمې داسلام په دين مشرف شوې. يوازې کافرستان چې وروسته په نورستان ياد شو پخوانی دين يې تر ډېرې مودې پورې وساته چې په ۱۹م پېړۍ کې د اميرعبدالرحمن خان په دوره کې د اسلام په دين مشرف شول. د افغانستان د اسلامي جمهوريت د دولت رسمي دين د اسلام مقدس دين دی. د نورو دينونو پيروان، د خپل دين په پيروۍ او ديني مراسمو په سرته رسولوکې د قانون له احکامو سره سم آزادي. په افغانستان کې هيڅ قانون نه شی کولای چې د اسلام د مقدس دين د معتقداتو او احکامو

مخالف وي.

په اوسني وخت کې د افغانستان خلک ۹۹.۶ سلنه د اسلام د مقدس دين پيروان دي. يو شمير هندوان او سکان په افغانستان کې اوسېږي. هندوان اوسکان په کابل، جلال آباد، کندهار، چاريکارو، گرديز او نورو ښارونو کې اوسېږي چې اکثريې سوداگر دي. د افغانستان مطلق اکثریت خلک د حنفي مذهب پيروان دي او د تشيع مذهب پيروان هم لري. د افغانستان اهل تشيع په جعفري او اسماعليه مذهبونو ويشل شوي دي.

په ټولگي کې د ننه فعاليت:



زده کوونکي په ډلو ويشل کېږي او هره ډله دې له لاندنيو موضوعگانو څخه په يوه موضوع بحث وکړي او د بحث نتیجه دې په ټولگي کې شرحه کړي.

- آريايان دکوم ايين لرونکي وو؟
- بود ايني آيين څه وخت په کومه سيمه کې خپور شو؟
- د اسلام دين په افغانستان کې په څه ډول خپور شو؟



پوښتنې:

- لاندنۍ سمې او غلطې پوښتنې یو له بل څخه بیلې کړئ:
۱. اریایانو د طبیعت هغه عناصر چې په ژوندانه کې یې اغېزمن وو مقدس شمېرل.
 ۲. د افغانستان ټول خلک د یو مذهب یعنې اسلام پیرو دي.
 ۳. کومو خلکو په افغانستان کې د اسلام په خپرولو کې نقش درلوده؟
 ۴. په اوسني وخت کې د افغانستان خلک د کومو دینونو او مذهبونو پیرو دي؟



له ټولګي څخه بهر فعالیت:

د اسلام دمقدس دین د بنیګڼو په اړوند د ټولنو په هوساینې کې څو کړنې ولیکئ او ټولګیوالوته یې ولولئ.



په افغانستان کې له دیرشو څخه زیاتې خپلواکه ژبې شته چې د هیواد په بېلا بېلو سیمو کې خلک په بېلا بېلو لهجو پرې خبرې کوي.

د افغانستان د ژبو اهمیت، لکه د نړۍ د نورو ژبو پشان د ویو نکو په شمېر پورې اړه لري. د مثال په ډول پښتو او دري د هیواد په پراخه ساحه کې عمومیت لري او خلک په هغو خبرې کوي او تقریبا د افغانستان ټول خلک پرې پوهېږي په داسې حال کې چې په اورمړي او عربي یوازې په څو محدودو کلیو کې خبرې کېږي.

اندو اروپایي ژبې په دوو اریایي (اراني) او هندي ویشل کېږي. اریایي ژبه په عمومي ډول د هیواد په جنوب لویدیځ، شمال لویدیځ او شمال ختیځ کې زیاته رواج لري او مشهورې ژبې یې پښتو، دري، بلوچي،

اورمړي او پاميري غلچه يې ژبه يعنې غرنۍ ژبې دي. په هندي ژبه کې گورتي، کلشه يي، تيرايي، سندي او پنجابي شاملې دي. رويدا ژبه چې د آريايي هندي گروپ ترمنځ يوه څانگه ده چې کتي، بشکلي، واپگلي، پرسيني، اشکوني، پشه يي، پراچي اونورستاني په کې شاملې دي چې په عمومي ډول د نورستان او دهغه د شاوخوا خلک پرې خبرې کوي.

د افغانستان نورې ژبې ترکي او مغولي دي چې د وه لړۍ په کې شاملې دي. يوه لړۍ هغه ژبې دي چې په مرکزي آسيا پورې اړه لري لکه ازبکي، قزاقي او قرغزي. دويمه لړۍ يې په جنوب لوېديځ پورې اړه لري چې ترکمني او آذري احتوا کوي.

۳.۳ د ژبو جغرافيايي ویش:

د افغانستان ژبې چې خلک په يوه سيمه کې پرې خبرې کوي په لاندې ډول دي:

• **پښتو:** هغه کسان چې په پښتو خبرې کوي، تقريباً په ټول هيواد کې استوگن دي. خو زياتره پښتانه د افغانستان په ختيځو، جنوبي او جنوب ختيځو سيمو کې استوگنه لري. د اژه ډېرې لهجې لري چې د مشرقي او کندهاري لهجې يې يو له بل څخه توپير لري.

• **دري:** د هېواد د ډېرو پخوانيو ژبوڅخه ده د هېواد زيات شمېر خلک په مختلفو لهجو له دې ژبې سره آشنايي لري. څه نا څه په ټول هېواد کې ور سره بلديت لري.

• **بلوخي:** د هلمند، گود زېرې، صابري هامون او هېواد دلوېديځ سرحدونو يو شمېر خلک پرې خبرې کوي.

• **ازبکي:** د هېواد په شمالي ولايتونو کې يو شمېر خلک پرې خبرې کوي.

• **ترکمني:** يو شمېر خلک د هيواد په شمال او شمال لوېديځ کې د هرات تر ولايته پورې پرې خبرې کوي.

• **پراچي:** يو شمېر خلک د نجراب په يوه دره کې چې د تگاب له اله ساي سره نښتې ده، پرې خبرې کوي.

• منجي ژبه د بدخشان په منجان، واخي په واخان، سربگي د واخان په شمال، سنگليچي د منجان په ختيځ او د بدخشان د زيباک په جنوب، زيباکي ژبه د بدخشان په زيباک، اشکاشمي د بدخشان په

اشکاشم، شغني د بدخشان په اشکاشم او په شغنان، رو شاني اوو اشري د بدخشان په لویدیځ او د پنج د سیند په غاړه کې او قرغزي ژبه په کوچني پامير کې مرو چې دي.

• کټه وایگلي، شکوني او پاروني په نورستان کې، گوربتي ژبه په ختيځ نورستان، پشه يي ژبه په نو رستان کې د لغمان په درو، تگاب، نجراب، کوهستان، کاپيسا او پغمان، تيراهي د خيبر په لویدیځ او ډکه او جتي د جټا نو ژبه ده.

• په سندی، لهندا او پنجابي اهل هنود خلک خبرې کوي.

• اورمړي په لوگر، براهوي د چخانصور د شورابک په شاو خوا سيمو کې رواج لري. مغلي، او آذري ژبې اوس له منځه تللي دي. خو قزاقي د بلخ دو لایت په ځينو سيمو کې شته.

له پښتو او دري سره د افغانستان اکثريت خلک آشنایي لري او د دولت رسمي ژبې دي. په هغو سيمو کې چې اکثريت خلک يې له ازبکي، ترکمني، پشه يي، نورستاني، بلوچي گوجري او يا پاميري ژبو څخه په يوه ژبه خبرې کوي، هلته پر پښتو او دري سربېره سيمه ييزه ژبه هغو سيمو کې د دريمې رسمي ژبې په توگه دي.

په ټولگي کې د ننه فعاليت:



زده کوونکي په ډلوو ویشل شي، هره ډله دې له لاندنيو موضوعگانو څخه په يوه موضوع پخپلو منځو کې بحث وکړي. يو تن دې د خپلې ډلې په استازيتوب، موضوع په ټولگي کې شرحه کړي.

• د افغانستان خلک په کومو ژبو خبرې کوي. کومې ژبې دکوم دليل له مخې رسمي دي؟
• اندو اروپايي ژبه په څو برخو ویشل شوې ده؟ د هر گروپ مشهورې ژبې له سيمو سره واضح کړئ.

• درويدا، ترکي او مغولي ژبو په باره کې معلومات ورکړئ

- بلوځان، ازبیک اوترکمن د افغانستان په کومه سیمه کې ژوند کوي؟
- په بدخشان اونورستان کې کومې ژبې رواج لري؟



پوښتنې:

۱. د افغانستان هندوان په ()، () او () ژبو خبرې کوي.
۲. پشه یي ژبه د هېواد په کومو سیمو کې رواج لري.
۳. اوس کومې ژبې له منځه تللي دي او ویو نکي نه لري؟
۴. ولې پښتو اودرې رسمي ژبې دي؟
۵. کومې ژبې په کوم دلیل د درې یمو رسمي ژبو حیثیت لري؟



له ټولګي څخه بهر فعالیت:

د افغانستان مهمې ژبې په ترتیب په یوه جدول کې ولیکئ.

۱،۴- د مواصلاتو اهمیت:



په پورتنی انځور کې کومه لویه لارونۍ

مواصلاتی لارې د ټولنې او یوه هېواد د اقتصادي، ټولنيز او په پای کې سیاسي، کلتوري او اداري پرمختګ بنسټ ګڼل کېږي، ټولې اقتصادي اړتیاوې (کرنیزې، صنعتي او تجارتي)، ټولنیز، فرهنگي او سیاسي وده د مواصلاتي کرښو د ترقۍ او پرمختګ پرته امکان نه لري. د یوې هوسا ټولنې اقتصادي او صنعتي پرمختیا د مواصلاتي کرښو او نقلیه وسیلو په پرمختګ او

ترقی پورې اړه لري.

مخ پرودې هېوادونه چې د اقتصادي او صنعتي پرمختګ لومړني پړاوونه وهي، تر ټولو لومړی باید مواصلاتي او ترانسپورتي شرایط چمتو کړي، چې توليدي او تجارتي وسایل او کسب او کار وده او پراختیا ومومي. افغانستان د مخ پرودې هېوادونو په ډله کې په وچې پورې تړلی او غرنی دی. سیندونه یې هم ذرات خوړي او سیلابي رژیم په درلودلو د بېرېو دچلولو لپاره برابره دي. نو له همدې امله دځمکني مواصلاتي او هوایي سکتورونو وده د هېواد د بنسټیزو اړتیاوو څخه دي. له منظمې مواصلاتي شبکې پرته هر اړخیزه اقتصادي او ټولنیزه وده ممکنه نه ده. مواصلاتي لارې ښارونه او سیمې یو له بل سره نښلوي. اومه او د انرژۍ تولیدوونکي مواد صنعتي مرکزونو او صنعتي او کرنیز محصولات بازارونو او استهلاکي مرکزونو ته لیرد وي.

په دې برخه کې پانګه اچونه د یوه هېواد د اقتصاد بنسټ جوړوي، چې په ټول هېواد کې د اقتصادي، سیاسي، فرهنگي او اقتصادي پلان جوړونې د ودې او پراختیا سبب ګرځي. په لنډه توګه د مواصلاتو د اقتصادي اهمیت په هکله ویلی شو چې:

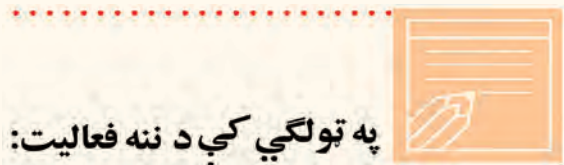
- د منظمو ترانسپورتي لارو څخه د ګټې اخیستنې په سبب بازار کې دکالیو بیه کمېږي.
- د سون د موادو په لګښت کې سپما کېږي او د سوداګرۍ مالونه د وخت له ضایع کېدلو پرته بازارونو ته لېږدول کېږي.

- بیلابیل قومونه دیواو بل له دود او دستور څخه خبرېږي. د هېواد ملي یووالی ټاکنېږي. چې ورسره په ستونزو او خټه سیمو ته په چټکۍ مرستې استول کېږي.

- د ترانسپورتي لارو په نه شتون کې سربېره پردې چې پورتنی موخې لاس ته نه راځي بلکې د فرهنگي او د ښوونې او روزنې د وروسته والي لامل هم کېږي.

زموږ په هېواد کې په تیرو وختونو کې د پورتنیو ستونزو په درک سره پخپلو پنځه کلنو پلانونو کې ډېره پرمختیایي بودجه، د موټرو د سرکونو د جوړولو لپاره بېله شوې وه. په وروستۍ تپل شوې له درې لسیزو څخه په زیاته اوږده داخلي جګړه کې ټولې مواصلاتي شبکې و بجاړې شوې او دهغو دویم

ځلي جوړولو ته اړتيا پيښه شوه. نو له همدې امله د موقت حکومت له تشکيل څخه وروسته د توکيو - جاپان په کنفرانس کې د هېواد د لويو لارو جوړولو او پراختيا لپاره د اقتصادي زيربنا په توگه د لومړيتوب حق ورکړل شو. اوس د حلقوي لويې لارې ۸۰ سلنه او له بندرونو سره نښلول يې بشپړ شوي دي. په همدې ډول يوله بل سره د ولايتونو او له مرکز سره دولسواليو نښلول دوام لري. له بلې خوا په پام کې دي چې ترانزيتي کرښې دشمال او لويديځ گاونډيانو سره فعالې شي او زموږ د هېواد د سوداگري اړيکې به په منطقه کې پراختيا ومومي.



په ټولگي کې د ننه فعاليت:

زده کوونکي په مناسبو ډلو کې تنظيمېږي. يوه ډله د مواصلاتو اهميت د هېواد د اقتصادي زيربنا په توگه او دويمه ډله د هېواد په اقتصادي او ټولنيزې ودې کې د مواصلاتو برخه تر بحث لاندې نيسي، د زده کوونکو د فعاليت پايلې د ډلې يو غړی، ټولگي ته وړاندې کوي. په پای کې ښوونکی د ډلې د فعاليت پايلې د خپلو معلوماتو په ورزياتولو را ټوله وي.



پوښتني:

په لنډه توگه ځواب ورکړئ:

۱- زموږ په هېواد کې ځمکنی او هوایي ترانسپورت ولې د مواصلات له نورو برخو څخه ښه وده کړې

ده؟

۲- ولې په تیرو پنځه کلنو پلانونو کې زیاته پاملرنه د مواصلاتو ودې ته راگرځول شوې وه؟

۳- ولې د توکیو جاپان د همکارو په کنفرانس کې زیاته پاملرنه د هېواد د لویولارو بیا جوړولو ته

اړول شوې وه.



له ټولگي څخه بهر فعالیت:

د ځمکنیو مواصلاتو اهمیت د هېواد د اقتصادي ودې له مخې په څو کړنښو کې ولیکئ او د جغرافیې د مضمون په راتلونکي ساعت کې یې له ځانه سره راوړئ او په ټولگي کې یې ولولئ.

۲،۴ - ځمکنی حمل او نقل



ایا پوهیږئ چې موټر کله زموږ هېواد ته وارد شو؟

د حمل و نقل دیو منظم مواصلاتي سیستم شتون د ټولیز او اقتصادي (صنایعویه گډون) د پرمختیابنسټ جوړوي او په هېواد کې د ټولنیز، اقتصادي یووالي درامنځته کیدو سبب گرځي اود خدماتي موادو او اطلاعاتو دلیرد لپاره اسانتیاوې جوړوي. په ملي سویه سوادگري پرمختگ کوي اوله هغې سره یوځای د پرسونل استخدام او عواید هم زیاتېږي. د ژوند کچه هم لوړېږي. ددې ډول زیر بناوو شتون په افغانستان کې، د ځمکې د جغرافیایي جوړښت په پام کې نیولو سره چې په ځانگړو او جلا سیمو ویشل کېږي، د حمل و نقل اسانتیاوې فوق العاده ارزښت لري. په تیره بیا د صنایعو پراختیا، چې له هغې پرته صنعتي موسسو ته داومو موادو او انرژي تولیدوونکي مواد او دهغو تولید ات لگښتي (استهلاکي) سیموته انتقالیدای نه شي.

د منځنۍ آسیا په جنوب کې دافغانستان دجغرافیایي موقعیت په پام کې نیولو سره د تاریخ له ډېرې پخوا دورې څخه د یوې اوږدې مودې لپاره د ختیځ او لویدیځ او دشمال او سویل تر منځ دسوداگرۍ اړیکو په تامین کې ډېر اهمیت لري. ددې تجارتي او فرهنگي اړیکو دوام د هېواد د ژوندانه دکچې په لوړولو کې داقتصاد او فرهنگ له پلوه ډېر مهم رول لوبوي. له میلاد څخه مخکې په څلورمه پېړۍ کې د پوځي یرغل په پای کې د یونان او هند ترمنځ سوداگریزې اړیکې د افغانستان له لارې تامین شوې وې. په لومړي میلادي کال کې د یونان باخترې پاچاهانو په وخت کې افغانستان د

سوداگرۍ اړيکو په تأمين کې لوړ مقام درلوده، بلخ دهغې لارې د نښليدوځای گڼل کيده. په همدې ډول د ورينمو او درملولاره (دکوشانيانود امپراطورۍ په دوره کې) له دې هېواد څخه تيريده. نو له همدې امله دبلخ ښار د لويديځ (اروپايي) او ختيځ (دچينايي او هندي) کاليو د تبادلې مرکز و.

د امير عبدالرحمن خان د حکومت په وخت کې د نوو کاروان سړايونو ابادول او په هېواد کې دننه د سوداگرۍ دمحصول لغوه کيدل دسوداگرۍ او اقتصاد لپاره زمينه برابره کړه. انگليسانو له کراچۍ څخه ترکوټې (چمن) پورې د اوسپنې کرښه و غځوله، خو د هېواد خارجي تجارت ته پاملرنه ونه شوه.

تر ۱۹۳۰ م کال پورې چې د ۱۳۰۸ لمريز کال سره سمون لري ټول مسافرتونو په پلي ډول وو او يا وړل او راوړل د حيواناتو په مرسته سرته رسيده. له هغې څخه وروسته په حمل ونقل کې له عصري وسايلو څخه گټه اخېستنه په چټکۍ وده وکړه.

په ۱۹۰۹ م کال کې د امير حبيب اله خان په دوره کې دلومړي ځل لپاره موټرونه د دملر له کمپنۍ څخه په ممبئي (ممبئي) کې وپېرېدل شول او په کابل کې په کار واچول شول. (۵۷) تنه کارگران هم ممبئي ته واستول شول چې د موټرو تخنيکي کارونه زده کړي. په دې ډول د موټرو شرکت د درباريانو له خوا جوړ شو. د يادونې وړ ده، چې بايسکل مخکې افغانستان ته وارد شوی و.

دکاروانونو د تگ او راتگ لارې تر ميم شوې. د موټرو لپاره نوي سړکونه د کابل - جلال اباد، جلال اباد - لغمان، کابل - جبل السراج، کابل - لوگر او کابل - غزني ترمنځ جوړ شول. د ټول هېواد په ښارونو کې کاروان سړايونه دسراجيه رباطونو په نوم په خلکو ودان شول. د دوه رباطونو تر منځ واټن شپږ کروه (تقريباً د ۱۸ کيلومتره) و. په دې سر بېره د سيندو له پاسه عصري پلونه د موټرو د تگ او راتگ لپاره جوړ شول.

د امانيه په دوره کې او له هغې څخه وروسته ځمکنيو مواصلاتو ته زياته پاملرنه وشوه. دسړکونو جوړول او د مواصلاتي کرښو پر مختيا يولازمي امر وگڼل شو. څرنگه چې افغانستان په وچې پورې تړلی هېواد دی او سمندر ته لاره نه لري. نو له همدې امله په هېواد کې دنننيو او بهرنیو اړيکو د تأمين لپاره له ځمکنی او په دويم پړاو کې له هوايي ترانسپورت څخه اغېزمنه طريقه نه شته.

د ځمکنيو ترانسپورتي لارو د جوړولو او پراختيا په مخکې زياتې ستونزې شته چې ځينې يې په

گوته کوو.

- د هېواد طبيعي جوړښت او غرنۍ بڼه.

- د غرنۍ او دښتي سيمو بيل اقليمونه.

- د عصري وسايلو، فني پرسونل او پوره پانگې نشتوالی.

لکه څرنګه چې تاسې پو هېرئ زموږ د هېواد درې په څلورمه برخه غرنۍ ده. دغه غرونه د شمال ختيځ څخه د جنوب لوېديځ په لور ديوه طبيعي ديوال په توګه پراته دي او هېواد يې په دوه شمالي او جنوبي برخو ويشلی دی. زياتره کولونه يې له ۳۰۰۰ مترو څخه زيات لوړوالی لري، چې د کال په زياته موده کې په واورو پټ وي او د تګ او راتګ په وړاندې خندا ګرځي. زياتې درې يې له شمال څخه جنوب ته چې سوريې لږ دی د سيندونو په اوږدو کې پرتې دي، چې د تګ او راتګ په وړاندې ستونزې جوړوي. په همدې ډول غرنۍ سيمې او پراخه شگلنې دښتې هم د ځمکني ترانسپورت د پراختيا په وړاندې ستونزې جوړوي، چې زياتې پانگې، عصري وسايلو او فني پرسونل ته اړتيا لري.

دهېواد دسيندونو بهيرونه او مسيرونه ، سره له دې چې دکارواني لوبو لارو په غځولو کې اغېز مننه مرسته کړې ده. خو دځمکني ترانسپورت په غځولو او پر مختګ کې يې ستونزې را منځته کړي دي. ددې تر څنګ چې ځينو ځايونو کې درې دومره تنګې دي، چې يوازې دسيند د بهيدو لاره يې جوړه کړې ده لکه ماهيپر، درونته، سالنګ او داسې نور، چې په ځينو ځايونو کې د غرونو د تورلو او دتونل دکيندلو لپاره اړتيا پېښېږي. سيندونه هم کړېږي او تاوړاتاوېږي او سرکونه بايد خو ځله دسيند له پاسه تير شي. سر بېره په دې بايد بېشماره پلونه او استنادي ديوالونه دواوړې د بنويديو په وړاندې جوړ شي. نو له همدې امله ددې ستونزې د حل لپاره زيات وخت، پوره پانگې او فني پرسونل ته اړتيا ده.

ددې ټولو ستونزو سره سره ځمکني ترانسپورت له ټولو نورو ترانسپورتونو څخه اړين او ګټور دی.

د اوسپنې دکربنو دپرمختګ په وړاندې پاسني يادشوي خنډونه د پاملرنې وړ دي، چې دهغې له مخې زموږ په هېواد کې داوسپنې کربنې نه وې جوړې شوې. خو په پام کې ده چې د ګاونډيو هېوادونو (ايکو او سارک) په مرسته دغه ستونزه په راتلونکي کې حل شي.

په ټولګي کې د ننه فعالیت:



زده کوونکي دې په مناسبو ډلو کې تنظیم شي، هره ډله دې په هېواد کې د موصلاتو په رول د اقتصادي او ټولنيزې زیر بنا په توګه په خپلو منځو کې بحث وکړي او د خپلو بحثونو پایلې دې یو زده کوونکی ټولګیوالو ته بیان کړي او ښاغلی ښوونکی دی د بحث پایلې، د خپلو معلوماتو سره را ټوله کړي.

پوښتنې:



په لنډه توګه جواب وواياست:

- ۱- د خپل هېواد د ځمکني ترانسپورت د پرمختګ په وړاندې سترې ستونزې په لنډه توګه توضیح کړئ.
- ۲- ولې ځمکني ترانسپورت له نورو ترانسپورتي ډولونو څخه په هېواد کې زیاته پراختیا موندلې ده؟
- ۳- د هېواد په اقتصادي پرمختګ کې د ځمکني ترانسپورت اهمیت توضیح کړئ.

لاندنۍ جملې بشپړې کړئ:

- ۱- موټر لومړی ځل لپاره د.....حکومت په دوره کې هېواد ته وارد شو.
 - ۲- د لومړي ځل لپاره د افغانستان له لارې د هند او یونان تر منځ د..... د حکومت په وخت کې تأمین شوی وی.
- سم ځوابونه د (س) په تورې او غلط ځوابونه (ن) په تورې په نښه کړي:
- ۱- ایا زموږ د هېواد جغرافیایي موقعیت د ختیځ او لویدیځ تر منځ د تجارتي اړیکو په تأمین کې ډیر اهمیت لري؟
 - ۲- ایا د موټر لپاره د سرکونو جوړول د امیر عبدالرحمن خان د حکومت په وخت کې پیل شول؟

له ټولګي څخه بهر فعالیت:



د هیواد د اقتصادي، ټولنيزې او کلتوري پراختیا په هکله د ځمکني ترانسپورت اهمیت په څو کرښو کې ولیکئ او د جغرافیې د مضمون په را تلونکي ساعت کې یې ټولګیوالو ته ولولي.

الف: خو ډوله ترانسپورتي وسایل پېژنئ؟



پورتنیو عکسونو ته په غور وگورئ چې دغه وسایل د ترانسپورت په کوم ډول پورې اړه لري؟

د ځمکنی ترانسپورت اصطلاح هغو وسیلو ته ویل کېږي چې د ځمکې د وچې برخې له پاسه حرکت کوي، لکه دبارورلو حیوانات، بایسکل، موټر سایکل، موټر (لاری، بسونه، مینی بسونه، اوگرېنډي موټرونه) او اورگاډي له ټولو ډولونو سره.

ددغو وسیلو په اختراع سره دسیمو او هېوادونو تر منځ واټن لنډېږي. هغه واټنونه چې کاروانونو په اونیو کې وهل، اوس ددې وسیلو په مرسته، خو ساعتونو ته را لنډ شوي دي. همدارنگه له دې وسیلو څخه په گټه اخیستنې درانه تجارتي مالونه، چې پخوایې د لېږدېدو توان نه وو، اوس په اسانۍ لېږدول کېږي.

بایسکل د ترانسپورت ډېره گټوره وسیله ده. هره ورځ په نړۍ کې په میلیونونو انسانان ورڅخه گټه اخلي. آن داچې په ځینو هېوادونو کې یې د بایسکل دچلولو لپاره ځانگړې واټونه او جاډې هم جوړې کړي دي.

دلومړي ځل لپاره بایسکل یوانگلیسي پوه کنت دوسواک په ۱۷۹۰م کال کې اختراع کړ، چې دوه څرخونه او یو چوکاټ یې درلود. اوس دنړۍ په هېوادونو کې په سلگونو ډوله بایسکلونه جوړېږي، چې نه یوازې ترانسپورتي وسیله ده، بلکه دسپورت لپاره هم گټور دي. د سون مواد نه لگوي، داستوگنې چاپیریال نه ککړوي. د چین دخلکو دځمکنی ترانسپورت زیاته برخه په تیره بیا په ښارونو کې بایسکل جوړوي.

زموږ هېواد ته بایسکل له موټر څخه مخکې د امیر حبیب اله خان د حکومت په وخت کې وارد شو.

اوس په زرگونو تنه خلك وړ څخه گټه اخلي.

بله وسيله چې له موټر سره ورته ده، خو دكوچني ماشين په مرسته، چې لږ تيل لگوي فعاليت كوي، د موټر سايكل په نوم ياديږي. څرنگه چې دتيلو لگښت يې لږ دی نو له همدې امله زياته گټه ورڅخه اخېستل كېږي. زموږ په هېواد كې يې استعمال له بايسيكل څخه وروسته دی .

د ۱۸ م پيړۍ په دويمه نيمايي كې د بخار ماشين په كشف سره، سمنگتن د انتقالولو يوه وسيله جوړه كړه، چې دبخار په واسطه يې حرکت كاوه چې دغه لومړنی جوړ شوی موټر گڼل كېږي. په انگلستان كې زياتې انتقالاتي وسيلې جوړې شوې، خو د ډېرو سكرود لگولو له امله يې زيات لوگي كاوه او د تخنيكي نيمگړتياوو له مخې يې زيات ټكرونه كول.

د ۱۹ م پيړۍ په دويمه نيمايي كې داسې موټر اختراع شو چې په نفتو يې حرکت كاوه. زموږ په هېواد كې كله چې مستر دين د برتانوي هند د خارجه چارو وزارت سكرتر په ۱۹۰۴ ز.يز.ديز كال په ډسمبر كې كابل ته سفر كاوه د نورو سوغاتونو تر څنگ يې يوه عراوه موټر هم امير حبيب اله خان ته ډالۍ كړ، چې ۷۰۰ ستر لنگ پونډه ارزښت يې در لوده. په هغه موټر كې د تيلو پر ځای لرگي سوځيدل او ماشين ته يې حرکت وركاوه.

اوس زموږ هېواد ته بيلابيل ډوله موټرونه وارد شوي دي لكه باروړونكي موټرونه (لاری، د طبيعي گاز اوتيلو ټانكرونه)، كوچني اولوی بسونه او گړندي موټرونه چې د نړۍ د ډېرو عصري كمپنيو څخه پېرودل كېږي.

د اوسپنې كرنښه د مالونو د وړلو او راوړلو ډېره پخوانۍ وسيله ده، چې دبخار د ماشين په واسطه په كار اچول شوې او داوسپنې كرنښې ورته غځيږي او نن سبا د ځمكني حمل و نقل ډېره ستره وسيله ده . په ۱۳۰۵ لمريز كال كې د شاه امان الله خان په دوره كې، كله چې د دارالامان عصري ښار جوړول پېل شول، د خلكو او تعميراتي مالونو د انتقال لپاره يو كوچنی اورگاډی د اوسپنې كرنښې سره هم هېواد ته وارد شو چې دا كرنښه د شاه دو شمشيره له زيارت څخه د دارالامان تر ماڼۍ پورې غځيدلې وه. دغې اورگاډي د بخار يو انجن (ماشين) او څو ډېې در لودې او هره ورځ به يې خلك او كالي په دې كرنښه انتقالول . تراوسه يې نښې دکابل په موزيم كې شته. دغې كرنښې له ۸-۷ كيلومترو پورې اوږدوالی در لوده او تر ۱۳۰۷ لمريز كال پورې فعاله و. د شاه امان اله خان له سقوط څخه وروسته، د هغه وخت حكومتونو د اوسپنې كرنښې له جوړولو او غځولو سره مينه ښكاره نه كړه.

ديادونې وړ ده چې په هېواد كې ټولې ترانسپورتي تصديگانې د ملي بس څخه پرته منحل اعلان شوی، دا تصدي د زرو څخه د زياتو بسونو په در لودلو د كابل ښار په دننه او دهېواد په ولايتونو كې فعاليت كوي او همدارنگه په نظر كې لري چې د بريښنايي بسونو پروژه چې دکابل ښار په داخلي جگړو كې ړنگه شوې وه دويم ځلي احيا كړي. بريښنايي بسونه سربيره پردې چې لږ لگښت لري د ژوند چاپيريال هم نه ككړوي.

اضافی معلومات (د مطالعی لپاره):

ځمکنی ترانسپورت په ځانگړې ډول د وسایطو واردولو د یادونې وړ پر مختگ کړی دی. په ۱۳۸۵ لمریز کال کې د ټولو ثبت شوو موټرو شمېر ۶۰۶۹۴۴ عرادو ته رسېده دا شمېر په ۱۳۸۶ لمریز کال کې ۸۷۳۷۰۱ عرادو ته لوړ شو چې ۸/۴۳ سلنه ډېروالی رابښي. شخصي او ټکسي موټر ډېر زیاتوالی ښکاره کوي او همدارنگه لاری د ۱۱۷۴۶۰ څخه ۱۳۵۴۴۶ او بسونه د ۴۸۵۱۳ څخه ۵۸۰۴۹ عرادو ته لوړ شوي.

ځمکنی ترانسپورت				
خصوصیات	د مقیاس واحد	۱۳۸۴ لمریز کال کې	۱۳۸۵ لمریز کال کې	۱۳۸۶ لمریز کال کې
ټول موټرونه	عراډې	۴۸۶۱۴۱	۶۰۶۹۴۴	۸۷۳۷۰۱
دولتي سکتور	عراډې	۲۸۵۱۰	۳۰۲۵۱	۳۳۳۰۶
خصوصي سکتور	عراډې	۴۵۷۶۳۱	۵۷۶۶۹۳	۸۴۰۳۹۲
لاری	عراډې	۱۰۰۸۸۳	۱۱۷۴۶۰	۱۳۵۴۴۶
دولتي سکتور		۱۱۳۴۱	۱۱۹۰۸	۱۲۹۱۵
دخصوصي سکتور	عراډې	۸۹۵۴۲	۱۰۵۵۵۲	۱۲۲۵۳۱
بسونه	عراډې	۴۱۷۱۳	۴۸۵۱۳	۸۰۴۹
دولتي بسونه	عراډې	۳۳۶۸	۳۵۸۶	۴۲۱۳
گړندي موټرونه	عراډې	۲۶۲۷۰	۳۱۴۱۶۵	۵۱۷۶۰۱
دولتي سکتور	عراډې	۱۲۵۷۹	۱۳۲۳۳	۱۴۵۰۱
موټر سیکلونه	عراډې	۶۴۸۱۷	۱۰۸۲۸۲	۱۲۷۹۵۹
دولتي سکتور	عراډې	۱۲۲۲	۱۵۲۱	۱۶۷۷
په هېواد کې د بهرنیو اتباعو و سایط	عراډې	۱۲۶۶۸	۱۳۲۹۶	۲۵۷۹۴

۱۳۸۶ لمریز کال در مرکزي احصایې د ادارې د کلنی احصایې ۲۰۵ مخ.

په ټولگي کې د ننه فعاليت:



زده کوونکي دې په مناسبو ډلو وویشل شي او ټولې ډلې دې په ټولنه کې د ځمکنی ترانسپورت په اهمیت او همدارنگه دهغه بې سازي زیاتوالي اغېزې دي د ژوندانه په چاپېریال باندې روښانه کړي او د ډلې یو غړی دې د بحثو نو پایله هم ټولگيوالو ته بیان کړي.

پوښتنې:



په لنډه توگه یې ځواب کړئ:

۱- د ځمکنی ترانسپورت د وسایلو د ډولونو نومونه واخلئ.

۲- د ترانسپورتي وسیلو اختراع کومې اسانتیاوې رامنځته کړي دي؟

لاندنۍ جملې بشپړې کړئ:

الف: د بایسکل مخترع دی.

ب: زموږ هېواد ته موټر د برتانوي هند د بهرنیو چارو دسکرتر سفر په وخت کې کابل ته راوړل شو.

سم ځواب په نښه کړئ:

الف: بایسکل د انتقال گټوره وسیله ده چې د ژوندانه چاپېریال نه ککړوي.

ب: پخوانۍ ټولې ترانسپورتي تصدی منحل شوي دي.

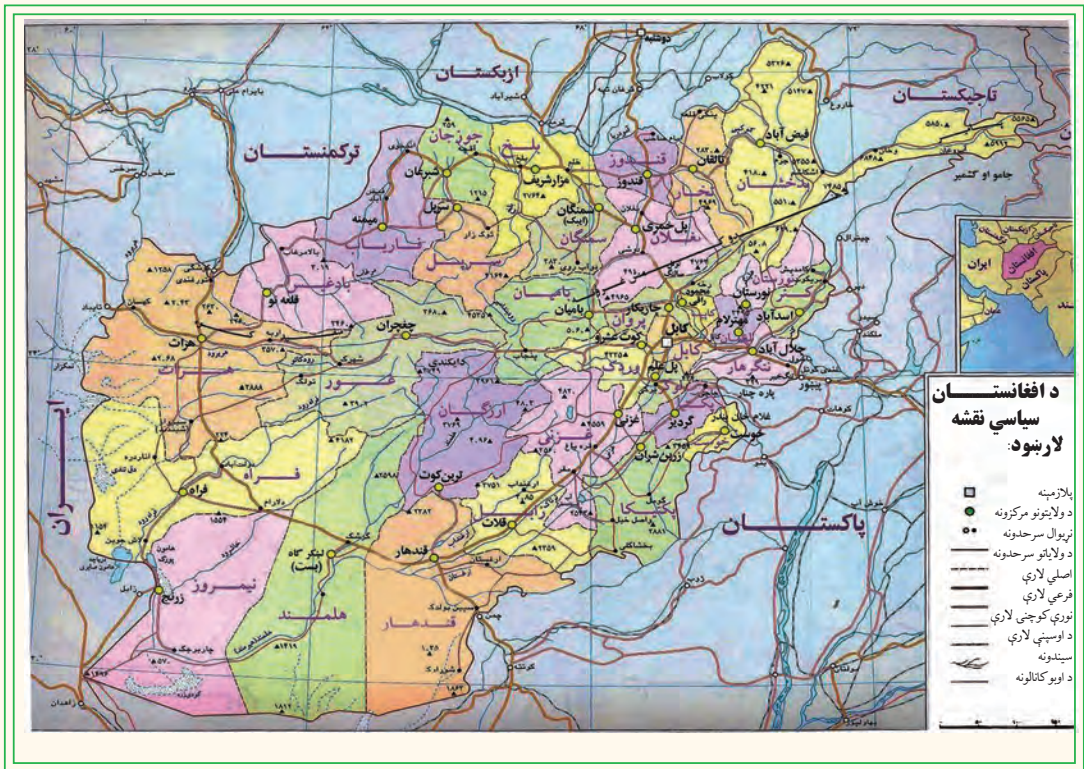
ج: د اوسپنې کرښه د امان اله خان د پاچاهۍ په دوره کې افغانستان ته وارد شوې وه .

له ټولگي څخه بهر فعاليت:



زموږ په هېواد کې د ځمکنی ترانسپورت (د اوسپنې کرښې) د سترې وسیلې د اهمیت په هکله تبصره ولیکئ او د جغرافې په راتلونکې ساعت کې یې ټولگيوالو ته بیان کړئ.

ب: د افغانستان د لویو لارو په هکله څه پوهېږئ؟



لوېې لارې په یوه هېواد کې، د بدن لپاره د وینې د شریانونو په معنا دي. هغه هېوادونه چې په هغو کې لوېې لارې لرې پرې پر مختلفې دي، په واقعیت کې په هغه هېواد کې ټولنیزه او اقتصادي وده په تپه درېدلی او د اقتصادي څرخ بیلې برخې لکه صنعتي تولیدات، کرنیز محصولات، عرضه او تقاضا، په بازار کې پېرودل او پلورل، مسافرتونه او گرځېدنه له یوه ځایه څخه بل ځای ته تلل او راتلل په بشپړ ډول له ستونزوسره مخامخ کېږي. هېواد او اړونده ټولنه په بشپړ ډول په فرهنګي او اقتصادي انزوا کې واقع کېږي.

ددې لپاره چې زموږ هېواد د اقتصاد او ټولنیز فعالیت له امله ارزښتمنده خوځښت ولري، باید په هېواد کې دننه د ټولو ولایتونو، ولسوالیو او کلیو ترمنځ او له هېواد څخه د باندې له گاونډیو هېوادونو سره سیاسي او اقتصادي همښني تماسونه ټینګ کړو، نو اړین برېښي چې مواصلاتي برخې ته یې ځانګړې پاملرنه وشي.

د امان اله خان او محمد ظاهر خان د پاچاهۍ په دوره کې، په تیره بیا د محمد داوود خان د صدارت په دوره کې ډېره هڅه وشوه چې هېواد له اقتصادي او ټولنیزې انزوا څخه وژغوري. په

ټولو پنځه کلن پلانونو کې د لویو لارو جوړولو ته، د اقتصادي زیر بنا په توګه، ځانګړې پاملرنه وشو. په پنځه کلن لومړي پلان (۱۳۳۰ - ۱۳۳۵) لمریز کال، دویم پلان (۱۳۳۵ - ۱۳۴۰) او دریم پلان (۱۳۴۱ - ۱۳۴۵) کالوکې د پرمختیایي بودجې ۵۰ سلنه په لویو لارو و لګیده او له ۲۵۰۰ کیلومترو څخه زیات قیر شوي او کانکریټي سرکونه جوړ شول.

خو په داخلي جګړوکې دغه ټولې جادې تر یوې اندازې پورې ویجاړې شوی، چې ترمیم یې غوښته. د پخوانیو لویو لارو پراختیا اود نوو لویو لارو جوړول، د دولت اساسي اړتیاوې دي. څرنګه چې خصوصي سکتور په دې برخه کې له پانګې اچونې سره مینه نه لري. نوله همدې امله د لویو لارو ترمیم او جوړول د دولت په غاړه دي.

لوی لارې په دوه برخو ویشل کېږي:

- ۱- حلقوي لویې لارې چې په هغو باندې ترافیک له یوې نقطې پیل او له یو دوراني حرکت څخه د نامنظمې داېرې یا بیضوي ته ورته داېرې په بڼه، د پیل له نقطې سره نښلي. لکه د کابل - مزار شریف - شبرغان - میمنې - بادغیس - هرات - کندهار - غزني او کابل حلقوي سرک.
- ۲- بېلې او پرېکړل شوې لارې، چې له حلقوي لویو لارو څخه جلا شوي دي لکه دکابل - خوست او داسې نورې لارې.

د هېواد مهمې لویې لارې عبارت دي له:

د هېواد شمالي لویه لاره:

د مرکزي او شمالي ولایتونو د سوداګرۍ او مواصلاتو په برخه کې، دغه لویه لاره ستره برخه لري. ددې پروژې ګټې په لاندې ډول دي:

- ۱- ددې لویې لارې په جوړیدو سره مرکزي ولایتونه مستقیماً له شمالي ولایتونو سره ونښلول شول. دغه لویه لاره د ښکاري درې له لارې څخه چې ۴۰ کاله یې دهېواد شمالي سیمې د مرکزي او جنوبي سیمو سره نښلولې، ۲۰۰ کیلومتره لنډه ده. په پای کې ترانسپورتي لګښتونو او د موټرو استهلاک کمېږي او په لږ وخت کې حاصلات سوداګریزو مرکزونو ته وړل کېږي.
- ۲- د هېواد د شمالي سیمو تولیدي محصولات په جنوب کې لګښتي مرکزونو ته او صادراتي مالونه د هېواد شمالي بندرونو ته په ډېر لږ وخت کې وړل کېږي.

۳- یوشیمر فابریکې لکه د بغلان د بورې فابریکه، غوري سمنټ، د گلېهار، پلخمری، جبل السراج نساجي او داسې نورې ددې لویې لارې په اړدوکې پرتې دي، دهغو تولیدات د وخت له

ضایع کیدو پرته دخرڅلاو بازارو نوته او همدارنگه اومه مواد او د اړتیا وړ نور مواد یې له همدې لارې څخه انتقالېږي.

د کابل - تورخم لویه لار:

دغه لویه لار د ترانزیتی لویو مشهورو لارو څخه ځانگړې اهمیت لري. دغه لویه لار د تورخم له لارې له پېښور سره نښتې ده له هغې څخه وروسته د اوسپنې د کربنې او قیر شوې لویې لارې په واسطه د کراچۍ له بندر سره اود هغې له لارې د هند د سمندر اوبو د نړیوالې لارې سره نښلې. له هغې څخه په گټې اخیستنې زموږ د هېواد د سوداگرۍ ټول مالونه د هند هېواد او د آسیا، اروپا او امریکا نورو هېوادونو ته صادرېږي. د نړۍ د هېوادونو څخه وارداتی مالونه د ترانزیت له حق څخه په گټې اخیستنې سره، زموږ هېواد ته واردېږي.

دغه لویه لار د فرعي قیرشوو لویو لارو په واسطه د کنړ، لغمان او نورستان ولایتونو او د ننگرهار له ولسوالیو سره نښتې ده.

ددې لویې لارې په اوږدو کې د برېښنا بندونه او د ننگرهار د کانال پروژه جوړه شوېده، چې د هغې په بشپړېدو کې یې ستر رول لوبولی دی. په همدې ډول د نوموړو ولایتونو تولیدي او کرنیز محصولات کابل او نورو استهلاکي مرکزونو ته انتقالېږي، چې په پای کې د نوموړو ولایتونو د اقتصادي پرمختگ سبب گرځي.

کابل - کندهار لویه لار:

دغه لویه لار د ترانزیتی فعالیت له مخې د هېواد دلویو لارو په ډله کې لومړی مقام لري، ځکه چې د کابل - کندهار لویه لار د کندهار - سپین بولدک له لارې د چمن د اوسپنې کربنې پواسطه د کراچۍ او گوادر (د عرب د سمندرگي په غاړه پروت دی) له بندرونو سره نښلوي. همدارنگه د کندهار - هرات د لویې لارې پواسطه د تورغونلۍ د بندر په واسطه د ترکمنستان له جمهوریت سره، د اسلام کلا د بندر په واسطه چې په هرات کې پروت دی او د نیمروز د ولایت د لارام - زرنج لویې لارې په واسطه د ایران اسلامي جمهوریت سره او د هغې لارې د اوسپنې د کربنې په واسطه د ایران د هېواد د شاه بهار له بندر سره د عرب د سمندرگي نړیوالو اوبو ته لاره پیدا کوي. ددې بندر له لارې نه یوازې افغاني مالونه بلکې د مرکزي آسیا د جمهوریتونو مالونه هم وارد اوصادرېږي.

د کابل - کندهار لویه لار، څو ولایتونه چې د تاریخي او تجارتي ځایونو لرونکي دي یو له بل سره نښلوي.

د کندهار - هرات - تورغندی (پخوانی قره تپه) لویه لار:

دغه لویه لاره د جوړښت له مخې ډېره عصري په کانکریټي ډول جوړه شوې وه. خو اوس د بیا رغونې په پایله کې قیر شوې ده. زموږ هېواد د ترکمنستان او د ایران اسلامي جمهوریت سره نښلوي. په همدې ډول دلویځو ولایتونو د مرکزونو د نښلولو له مخې اهمیت لري، چې کندهار او هرات په مستقیم ډول او فراه، نیمروز او هلمند په غیر مستقیم ډول نښلوي.

هرات - اسلام قلعه لویه لار:

ددې لویې لارې اوږدوالی ۱۲۴ کیلومتره دی او د هرات ښار د اسلام قلعه له بندر سره چې له ایران سره د افغانستان په سرحد کې پروت دی نښلوي. دغه لویه لار له ایران، ترکیې او نورو اروپایي هېوادونو سره په سوداګرۍ کې زیات اهمیت لري.

د پلخمری - شبرغان - فاریاب لویه لار:

دغه لویه لار د سوداګرۍ او اقتصاد له پلوه ځانګړی اهمیت لري او د هېواد د حلقوي لویې لارې برخه ده، چې د هېواد شمالي ولایتونه لکه بغلان، سمنګان، بلخ، جوزجان او فاریاب یوله بل سره نښلوي او د بادغیس د ولایت له لارې د هرات له ولایت سره نښلوي. له هرات سره دهغې په نښلولو دغه حلقوي لویه لار بشپړېږي. د هغې څخه د جلاشوو لویو لارو په واسطه د حیرتان، کلفت او د اندخوی د آقینې له بندرونو سره هم نښلوي.

د کابل - خوست لویه لار:

له ډېرو کلونو راهیسې د دویمې درجې لویې لارې په نامه یادیده خو کله چې د خوست د غلام خان د بندر سره وصل شوه او دهغې لارې د کرمې ایجنسۍ سره ونښته ځانګړی اقتصادي او سوداګریز اهمیت یې پیدا کړ. د هېواد جنوبي ولایتونه لکه لوګر، پکتیا او خوست یې له کابل سره ونښلول.

د کندز - بدخشان لویه لاره:

د هېواد مهم حاصل خیز کرنیز او صنعتي ولایتونه لکه کندز، تخار او بدخشان یو له بل سره نښلوي. همدارنګه د هېواد د شمالي لویې لارې په واسطه د حلقوي لویې لارې سره نښتي. په همدې ډول د کندز شیرخان بندر له لارې د تاجکستان له هېواد سره نښلوي.

دهېواد دلویو لارو جوړول سربېره پردې چې د هېواد د بیلابیلو سیمو تر منځ اقتصادي او تجارتې اړیکې، نږدې کوي، بلکې د هغو له لارې د جنوبي او مرکزي آسیا د هېوادونو تر منځ دوستانه اړیکو

کې هم مهمه برخه لري. نو د همدې موقعیت له مخې يوځل بيا د افغانستان تاريخي اهميت د جنوب ختيځې او مرکزي آسيا او مديترانې د حوزې په نښلولو کې څرگند وي.

د مطالعې لپاره اضافي معلومات

شماره	لويه لار	اوږدوالي په كيلومتر
۱	کابل - کنډز	۳۳۷
۲	کنډز - شير خان بندر	۶۳
۳	پلخمرې - شيرغان	۳۶۰
۴	شبرغان - ميمنه	۱۷۹
۵	کابل - تورخم	۲۳۲
۶	کابل - جلال آباد	۱۴۸
۷	جلال آباد - اسعد اباد	۹۰
۸	سرخکان - مهتر لام	۱۸
۹	کابل - کندهار	۴۸۳
۱۰	کندهار - سپين بولدک	۱۰۱
۱۱	کندهار - هرات - تور غندی	۶۷۹
۱۲	هرات - اسلام قلعه	۱۲۴
۱۳	کندهار - هرات	۵۶۷
۱۴	کابل - گردیز	۱۲۲
۱۵	گردیز - خوست	۱۱۴
۱۶	کنډز - تخار	۷۰
۱۷	تخار - بدخشان	۱۶۹

په ټولګي کې د ننه فعالیت:



زده کوونکي دې په مناسبو ډلو وویشل شي او هره ډله دې د هېواد په مواصلا تي نقشه کې د یوې لویې لارې تگلوری وټاکي، چې کوم ولایتونه سره نښلوي لکه دکابل - کندهار، کندهار - هرات، پلخمری - هرات، کابل - تورخم اوداسې نور. هره ډله دې د فعالیت پایله خپلو ټولګیوالو ته بیان کړي. ښاغلی ښوونکی دې د ډلې د فعالیت پایلې د خپلو معلوماتو سره یو ځای را ټولې کړي.



پوښتنې:

لنډه ځواب ورکړئ:

- ۱- د منځمهالې ادارې له جوړیدو وروسته ولې د لویو لارو پراختیا ته ځانګړې پاملرنه وګرځیده؟
- ۲- د هېواد په اقتصادي پرمختګ کې د لویو لارو اهمیت توضیح کړئ.
- ۳- د هېواد کومې ترانزیتی لارې د عرب سمندرګی له نړیوالو اوبو سره نښتی دي؟ لاندې جملې په خپلو کتابچو کې بشپړې کړئ.
- ۴- د هېواد لویې لارې په سترو دوو برخو..... او..... ویشل شوي دي.
- ۵- د شمال حلقوي لویه لار د.....،..... او..... بندرونو له لارې د تاجکستان، ازبکستان او ترکمنستان د هېوادونو سره نښتی ده.
- ۶- زمور د هېواد د.....،..... او..... لویو لارو له لارې د ایران له هېواد سره نښتی دی.



له ټولګي څخه بهر فعالیت:

د افغانستان نقشه رسم کړئ او په هغې کې د هېواد حلقوي لویه لار رسم کړئ او د جغرافیې د مضمون په را ټلونکي ساعت کې خپلو ټولګیوالو ته وښئ.

۳،۴ د هوایي ترانسپورت په هکله څه پوهېږئ؟



هوایي ترانسپورت د هېواد دلېرې پرتو سیمو او نړۍ په نږدې کولو کې ارزښتناکه رول لوبوي. خو دغه ترانسپورت د نورو ترانسپورتونو پرتله د انرژیکي موادو د ډېر لگښت له کبله په لوړه بیه تمامېږي خو سیاسي، تجارتي او نظامي اړیکې په چټکۍ ټینګوي، نو له همدې امله هر هېواد د خپل مالي او اقتصادي شرایطو له مخې ددې سکتور ودې ته ډېر ه پاملرنه کوي.

لکه چې پوهېږو افغانستان غرنی هېواد دی. د هندوکش، بابا او فیروز کوه غرونو دیوه طبیعي حایل په توګه هېواد په دوو شمالي او جنوبي برخو ویشلی دی. په دې سر بېره زموږ هېواد په وچې پورې تړلی دی. د لویو لارو غځول د خلکو اړتیا ته ځواب نه شي ویلای. نوله همدې امله د هوایي حمل و نقل اهمیت زیات او دپاملرنې وړ دی. دغه هېواد له یوې خوا سمندر ته لار نه لري او له بله پلوه دغرونو په واسطه په کوچنیو او بیلو جغرافیایي سیمو ویشل شوی دی، چې دغه ډول طبیعي شرایط ټولنیز او آن سیاسي ستونزې لري. د همدې اصل له مخې د اړتیاوړ زیاتره مواد په مناسب وخت په هېواد کې دننه او بهر کې مصرف کونکو ته په ټاکلي وخت نه رسېږي.

زموږ هېواد د هوا نوردۍ فعالیت اوله الوتکو څخه د مسافرنو او تجارتي مالونو په وړلو او راوړلو کې ډېر لرغونتوب نه لري. د هوا نوردۍ د فعالیت پیل په ۱۳۰۶ لمريز کال د امان اله خان د پاچاهۍ په دورې پورې مربوط ګڼل کېږي چې د لومړي ځل لپاره یوې کوچنۍ روسي الوتکې په میاشت کې دوه ځله د کابل او ترمز ترمنځ په الوتنې پیل کړې و.

په ۱۳۱۷ لمريز کال کې د جرمني د لوفت انزا دکمپنۍ یوه درې ماشینه الوتکه له برلین څخه هرات او کابل او له کابل څخه جاپان ته الوتنه کوله.

هوایي لومړنۍ شرکت په هېواد کې د آریانا افغان هوایي شرکت په نوم، د مسافرنو او تجارتي مالونو

دحمل ونقل په منظور په ۱۳۱۷لمریز کال کې جوړ او په فعالیت پیل وکړ. څرنگه چې پوره تاسیسات او امکانات یې نه درلودل، نو له همدې امله د هېواد اړتیاوو ته یې ځواب نشوویلای. نوپه ۱۳۳۵لمریز کال کې دملکي هوانوردۍ ریاست جوړ شو. دهغې په جوړیدو سره په افغانستان کې د هوانوردۍ د پراختیا او پرمختګ لپاره زمینه برابره شوه. د هوانوردۍ ریاست په کندهار، مزارشريف، هرات او جلال اباد کې د هوابي ډگرونو په جوړولو اقدام وکړ. بهرنۍ هوابي نمایندګۍ هم دافغانستان له هوابي ډگرونو څخه ګټه اخلي. له هوابي ترانسپورت څخه د مسافرنو او هغه مالونو او کالو دانتقال لپاره ګټه اخېستل کېږي، چې حجم یې لږ او ارزښت یې زیات وي.

په ټولګي کې د ننه فعالیت:



زده کوونکي دې په مناسبو ډلو وویشل شي او هره ډله دې د هوابي ترانسپورت د پرمختګ په اهمیت او اړتیا بحث وکړي او پایلې دې دډلې یو غړی ټولګیوالوته وړاندې کړي.



پوښتنې:

- ۱- سمي جملې د (س) په توري او ناسمي جملې د (ن) په توري په نښه کړئ.
- ۱- هوابي ترانسپورت د نورو ترانسپورتونو پرتله ډېره انرژي لګوي.
- ۲- د ملکي هوانوردۍ ریاست په جوړیدو سره د هوانوردۍ د پراختیا لپاره وخت برابر شو. لاندې جملې بشپړې کړئ.
- ۱- د هېواد دملکي هوانوردۍ فعالیت د.....پاچاهۍ په دوره کې په ۱۳۰۶لمریز کال کې پیل شو.
- ۲- د هېواد لومړني داخلي شرکت د.....په نوم په ۱۳۳۳لمریز کال په فعالیت پیل وکړ. لنډ ځواب ورکړئ.
- ۱- له هوابي ترانسپورت څخه د کومو مالونو د انتقال لپاره ګټه اخېستل کېږي؟
- ۲- د هوابي ترانسپورت د پراختیا لاملونه بیان کړئ؟



له ټولګي څخه بهر فعالیت:

د هوابي ترانسپورت د اړتیا او پراختیا په باره کې مقاله ولیکئ او د جغرافې د مضمون په راتلونکي ساعت کې یې له ځانه سره راوړئ او خپلو ټولګیوالوته یې وړاندې کړئ.

الف - د هېواد هوایي شرکتونه او ډگرونه



د کابل دنړيوال هوایي ډگر يوه برخه

د ملکي هوایي ریاست په ۱۳۳۵ لمریز کال کې جوړ شو، چې په هغه وخت کې یې دوه سترې موسسې د هوا پېژندنې او هوانوردۍ په نوم درلودلې چې د نړۍ د ملکي هوانوردۍ د موسسې غړیتوب یې هم درلود، چې دهغو د مالي او معنوي مرستو څخه یې په ټولو برخو کې ګټه اخیستله، د هوایي ډگرونو جوړول او مراقبت، دمخبرو اود دستګاوو او د هوانوردۍ د وسیلو او میتورولوژی Meteorology د ستیشنونو نصبول، د ټولو تشبثاتو او د هوایي حمل و نقل د موسسو تنظیم او اداره، د ملکي هوانوردۍ اړونده د ټولو مقرراتو او اصولنامو اجرا کولو او په پای کې په نوموړو څانګو کې دارتیا وړ فني پرسونل روزنه، ددې ریاست سترې دندې ګڼل کیدې.

د کابل دنړيوال ډگر جوړول:

ددې ډگر د جوړولو کار په ۱۳۳۹ لمریز کال کې پیل شو، او په ۱۳۴۱ لمریز کال کې پای ته ورسیده، چې د دننیو او بهرنیو الوتکو د ګټې اخیستنې وړ وګرځید. په دې سربېره دغه ډگر یو عصري ترمینل چې په ټولو وسایلو سمبال دی لکه مخابرات، هوایي ترافیک، دګمرک څانګې، تعلیمي مرکز، تخنیکي ورکشاپونه او داسې نور هم لري. دغه ډگر په وروستیو کلونو کې نور هم پراخه شو، په ۱۳۸۸ لمریز کال کې د جاپان د هېواد په مرسته ددې ډگر په لویدیځه برخه کې نوی ترمینل چې په نوو وسایلو او ملحقانو سمبال دی هم جوړ شو.

په نورو ولایتونو کې د هوایي ډگرونو د جوړولو پلان هم عملي شو، په لومړي پړاو کې د کندهار، هرات، کندز او جلال اباد د ډگرونو جوړیدل پیل شول.

له هغې جملې څخه د کندهار هوایي ډگر د کندهار دښار د جنوب ختیځ په ۸ کیلو مترۍ کې د سپین بولدک په لاره کې په یوه پراخه ساحه کې جوړ شوی. دغه هوایي ډگر د کابل د نړیوال هوایي ډگر په شان دهر ډول الوتکو د گټې اخیستنې لپاره مناسب دی. دا ډگر په ابتدایي او محلي ډول په ۱۳۳۰ المریز کال کې د گټې اخیستنې وړ گرځېدلې و.

د کندهار هوایي ډگر په ټولو عصري تاسیساتو لکه هوټل، ترمینل، مخابراتي وسایلو او داسې نورو سمبال دی.

په لنډه توگه ویلای شو چې په ۱۳۸۸ المریز کال کې تقریباً ۳۷ هوایي ډگرونه وو. چې له هغې ډلې څخه د کابل او کندهار هوایي نړیوال ډگرونه لومړۍ درجه پر مختللي تاسیسات او د الوتکو د منځني قیر شوی لارې لري.

د هرات، مزار شریف، جلال آباد او کندز هوایي ډگرونه د لږ ظرفیت په لرلو په دویمه درجه کې دي ترمینل او د الوتکو د منځني قیر شوی لارې لري نور ۱۴ هوایي ډگرونه دریمه درجه او ۷ نور څلورمه درجه کې راځي چې ترمینل او د الوتکو د منځني خامه لارې لري د هغو سربېره پنځمه درجه هوایي ډگرونه هم په هېواد کې شته.

د یادونې وړ ده چې هغه عواید چې د نړیوالو ډگرونو له مقرري سره سم د بهرنیو الوتکو له الوتنو څخه په ۱۳۸۸ المریز کال کې د دولت خزانې ته تحویل شوي دي په لاندې ډول دي:

۱- دهرې بهرنۍ الوتکې له ټول وزن څخه، دیوټن (۵۰۰) افغانۍ د دولت عوایدو ته تحویل شوي دي.
۲- دهرې بهرنۍ الوتکې له الوتنې څخه ترافیکې خدمتونه (۷۵۰۰) افغانۍ اخیستل شوي دي.
۳- هره بهرنۍ الوتکه چې له څلورو ساعتونو څخه زیاته په هوایي ډگر کې تم شوې، د درولوکرایه د (پارکنګ ټکس) وړ څخه اخیستل شوی دی.

۴- هره بهرنۍ الوتکه چې په ترانزېټي توگه زموږ د هېواد له فضا څخه تیرېږي، (۲۰۰۰۰) افغانۍ اویا د هغې معادل ۴۰۰ امریکایي ډالره وړ څخه اخیستل شوي دي.

ب- د هېواد هوایي شرکتونه:

۱- د آریانا افغان هوایي شرکت لومړنی دولتي شرکت دی چې په ۱۳۳۳ المریز کال کې یی د مسافرانو او د سوداگرۍ د مالونو په حمل و نقل کې رسماً په فعالیت پیل کړی، لومړنی پانگه یی درې سوه زره امریکایي ډالره وه، چې په هغې کې ۵۱ سلنه د دولت ونډه او ۴۹ سلنه د انډییمان

شرکت ونډه وه.

د دې شرکت لومړنۍ الوتنې د ۳-DC الوتکې په مرسته چې د ۲۸ مسافرانو ظرفیت یې درلود له کابل څخه د کندهار، هرات او مزار شریف ښارونو ته یې الوتنه کوله.

دوه کاله وروسته دانډیمار لوی شرکت دپان امریکن په شرکت کې مدغم شو او کله چې ۴-DC او ۶-DC په نوم دوه الوتکې وپېرودلې شوې دآریانا شرکت نړیوالو هوایي ډگرونو ته لار پیداکړه. دآریانا افغان هوایي شرکت لومړنۍ بهرنۍ الوتنه له کابل څخه د بحرین په لور وه، چې د ۱۳۳۴ لمريز کال دغوايي په میاشت کې له ۲۸ مسافرانو سره سرته ورسېده.

د آریانا افغان هوایي شرکت سره له دې چې په درې لسيزو داخلي جگړو کې ډېر مالي، اقتصادي او کادري تاوانونه ولیدل، بیا هم ۴-۲۱ AN الوتکه او ۷۲۷-B څلور الوتکې ۳۰۰-Airbus یوه الوتکه او ۳۱۰-Airbus نوی ماډل دوه الوتکې لري چې هره ورځ له پلان سره سم د هرات، کندهار، مزار شریف، جلال آباد، زرنج، لښکرگاه، بادغیس، فیض آباد، کندز او مېمنې ته الوتنې کوي.

په همدې ډول دآریانا هوایي شرکت د نړۍ ۱۷ لوی ښارونه هم د خپلو الوتنو دپوښښ لاندې نیولې او د پراختیا په حال کې دي. د نړۍ هغه ښارونه چې آریانا ورته الوتنه کوي د ډهلي، امرتسر، تهران، مشهد، اسلام آباد، دو شنبې، ارومچې، باکو، مسکو، دوبي، شارجه، استانبول، انقره، ریاض، جده، کویت او فرانکفورت نومونه اخیستلای شو.

د آریانا افغان هوایي شرکت د خپلو الوتکو په الوتنو سربېره داخلي خصوصي شرکتونو او بهرنیو هوایي شرکتونو ته لکه انډین ایر لاین، دآسمان هوایي شرکت، د اذر بايجان هوایي شرکت، د عرب متحده اماراتو او دپاکستان هوایي شرکت ته هم لازم ځمکنې ټول خدمات برابر وي. بار وړونکو لویو الوتکو (کارگو) بارول او تخلیه کول او نور لازم خدمتونه په چټکۍ سرته رسوي.

۲- هوایي خصوصي شرکتونه له صافی ایرویز، پامیر او کام ایر څخه عبارت دي. چې د فعالیت جواز یې د افغانستان له پانگې څخه د ملاتړ له ادارې څخه تر لاسه کړی دی او د خپلو الوتکو په مرسته کورنیو او بهرنیو کړښو کې په خدمت بوختې دي. پر عوایدو باندې د مالیاتو دقانون له مخې ۱۰ سلنه داخلي عواید او دوه سلنه بهرنۍ عواید په هغه ټکس سربېره چې د هوا نوردۍ وزارت او آریانا افغان هوایي شرکت ته ورکوي، د دولت خزانې ته یې هم تحویلوي.

په ټولګي کې د ننه فعالیت:



زده کوونکي دې په مناسبو ډلو وویشل شي، هره ډله دې د هوایي ډګرو په اهمیت او اقتصادي ارزښت باندې په خپلو منځو کې بحث وکړي او د بحث پایلې دې خپلو ټولګیوالو ته ووايي.



پوښتنې:

- سم ځواب د (س) په توري او ناسم ځواب د (ن) په توري په نښه کړئ.
 - ۱- دملکي هوا نوردۍ ریاست په ۱۳۳۵ لمریز کال کې جوړ شوی دی.
 - ۲- دکندهار هوایي ډګر له ۱۳۳۰ لمریز کال راهیسې دگټې اخیستنې وړ دي.
- لاندې جملې بشپړې کړئ:
- ۱- دهبواد هوایي نړیوال ډګرونه له..... او..... څخه عبارت دي.
 - ۲- له هغو بهرنیو الوتکو څخه چې په ترانزیتی ډول دافغانستان له فضا څخه تېرېږي له هرې الوتنې څخه.....افغانی عواید لاس ته راځي.
- لنډ ځواب ورکړئ:
- ۱- د دولت خزانه ته د بهرنیو شرکتونو د الوتکو له الوتنو څخه څومره عواید تحویلېږي؟
 - ۲- د هېواد په کومو ولایتونو کې دویمه درجه ملکي هوایي ډګرونه جوړ شوي دي؟



له ټولګي څخه بهر فعالیت:

زده کوونکي دې په هېواد کې د هوایي ډګرونو د جوړولو د اړتیا په هکله، دځمکې دجوړښت او جغرافیایي موقعیت په پام کې نیولو سره په سېمه ییزه او نړیواله سطحه تبصره وکړي او دجغرافیې د مضمون په راتلونکي ساعت کې دې بیان کړي.

الف: د اړیکو اهمیت:



اړيکي د مخابراتو (د افکارو د راکړې ورکړې ټينګول، او د پيغامونو استول او اخيستل) او ترانسپورټيشن څخه عبارت دي چې د تيرولو ستونډو د مواصلاتو په برخه کې له هغو څخه يادونه شوی ده. مخابرات Tele Communication د خلکو ترمنځ د ليکنو، غږونو، عکسونو يا د دواړو په واسطه د افکارو، احساساتو او اطلاعاتو دراکولو ورکولو معنا لري، يا په بل عبارت مخابرات د خبر، احوال، تجارتي، صنعتي، رسمي، شخصي پيغامو او د معلوماتو د وړاندې کولو او رسولو وسيله ده چې له يوې سيمې څخه بلې سيمې ته کېږي چې دننه او بهر بېلا بېلې سيمي سره نښلوي. د اړیکو ټينګولو لپاره له بېلا بېلو ډولونو او وسيلو څخه گټه اخيستل کېږي لکه اخبار، راډيو، تلگراف، ټيلفون، ټلويزيون، پُست، فکس او

انترنیت. دغه ټول له لېرې واټن څخه د اړیکو چټکې وسیلې دي. په اوسنی نړۍ کې غږ او عکس د الکترونیکي بهیر په توګه د سیم، راډیو او تلویزیوني څپو پواسطه د فضاء له لارې اونوري څپې د نورې فایبر په واسطه سره نښلې. راډیوي اونوري څپې په یوه ثانیه کې د ۳۰۰۰۰۰ کیلومترو په چټکۍ حرکت کوي. په داسې حال کې چې الکترونیکي نښو لېږد هم په همدې اندازه کې دي.


د مخابراتو اهمیت په هکله دیادونې وړ ده چې د اړیکو دې برخې ته د ټولني داعصابو اصطلاح ورکړ شویده. ځکه چې په ټولنه کې د افکارو د انتقال او راکړې ورکړې بڼه و سیله ده، په هغو ټولنو او هېوادونو کې چې مخابرات یې بڼه فعال دي، په دې معنا چې د ټولني اعصاب بڼه کار کوي او ټولني هم بڼه پر مختګ کړی دی.

مخابراتي لومړنۍ وسیله د تلګراف اختراع ده چې د مورس د نښو د اختراع له مخې د بریښنا د جریان په واسطه د سیم په اوږدو کې لیرل کېده. نن ورځ عکسونه، غږونه، تلویزیوني عکسونه د سپورمکیو، راډیو او نورې فایبر له لارې دڅو ثانیو څخه په لږه موده کې د نړۍ ګرد چاپیره مخابره کېږي.

مصنوعي سپورمکیو د مخابراتو او اړیکو په برخه کې ډېر لوي انقلاب رامنځته کړی دی، چې د ټیلیفون او موبایل، تلویزیون او انټرنېټ د تکنالوژۍ د پراختیا سبب شوی ده. په دې سربېره، مصنوعي سپورمکی ځمکې څخه په بېلابېل لوروالي عکسونه اخلي او خپلو ځمکنیو مرکزونو ته یې انتقالوي، چې د هغو له مخې بېلابېل تصویرونه او جغرافیایي نقشي جوړېږي.

اوس زموږ په هېواد کې هم د مخابراتو وزارت ملي او نړیواله ګیت وې Gate-way د کابل دښار دمتهاب کلا په ساحه کې جوړه کړې ده. دځمکني تم ځای او مصنوعي سپورمکی په واسطه فعالیت کوي. یولوی دیش او مخابراتي او تخنیکي پرمختللی سیستم

لري. له دې گيت وې څخه په ملي او نړيواله کچه گټه اخېستل کېدی شي. اوس دولتي ارتباطات او مخابراتي شرکتونه دټيلېفوني، فکس، تلویزیوني او انټرنیټي اړیکو لپاره له هغې څخه گټه اخلي او دهبواد ۳۶۴ ولسوالۍ او ادارې د همدې گيت وې په مرسته له نړۍ سره نښتي دي. همدارنگه د مخابراتوخصوصي شرکتونو دنړيوال فعالیتونو لپاره د خپلواکه گیتوویو د گټې اخېستنې اجازه هم ورکړ شویده. د نوري فایبر په مرسته د ځمکې له لارې دهبواد مخابراتي اړیکي له نړۍ سره را منځ ته شوي دي، چې د مخابراتو له مصنوعي سپورمکیو پرته خورا ارزانه تمامېږي.




زده کوونکي دې په مناسبو ډلو وویشل شي او هره ډله دې په اوسنۍ نړۍ کې اړیکوپه اهمیت پخپلومنځوکې خبرې وکړي او د بحث پایله دې دډلې یو غړی خپلوټولگیوالوته وړاندې کړي. ښوونکی دي د فعالیت په پای کې وړاندي شوی معلومات را ټول او لنډیز دې زده کوونکو ته و وایي.



د جملوتش ځایونه بشپړ کړئ:

- ۱- ارتباطات ۰۰۰۰۰۰- او ۰۰۰۰۰۰۰ احتواکوي.
- ۲- د نوري او راډیويي څپو چټکوالی په یوه ثانيه کې ۰۰۰۰۰۰۰۰۰ کیلومتره دی.

ايا پوهېږئ چې د مخابراتو دوزارت د پُست رياست كوم خدمتونه سرته رسوي؟



پورتنی عکس ته وگورئ او ووايست چې د موټرو او بايسیکلونو سپرلی کومې دندې سرته رسوي.

د افغانستان پُستي کارونو د لومړي ځل لپاره په ۱۸۷۰م کال کې د امير شيرعلي خان په دوره کې رواج وموند. په هغه وخت کې يوه پُسته خانه په مرکز کې د کابل په بالاحصار کې د (چاپار خانې) په نوم او په لويو ولايتونو کې په ابتدايي ډول جوړې شوی. دولتي مکتوبونه او شخصي ليکونه يې په را جستر شوي ډول ديو مثقال او دوه مثقاله په وزن د پُسته خانې په مرکز کې منل. پُستي ټکټونه د شاهي او ثنار او دهغې وخت په مروجوسکو په بيه، په سپين کاغذ په کمزوري رنگ چاپ او دمکتوبونو او ليکونو له پاسه نصبول. دهغه وخت مشهور پُستي ټکټونه د زمري د سر په نامه ياديدل. او له نصبولو څخه مخکې يې يو کنج غوڅيده. دپُستي د انتقال لپاره له

یومرکز څخه بل مرکز ته ټاکلي وخت په پام کې نه وه نیول شوی. انتقالات د پستي د ټاکلي حد تابع وو.

هغه دولتي مکتوبونه چې دفوري کلمه ور باندې لیکل شوې وه. فوق العاده پسته گیل کېده د پسته بردار په نوم یادیده، دغه پسته پر اسپ سپاره استوونکي له خوا چې چاپار په نوم یادیده، اصلي ځای ته لېږدول کېده.

د مکتوبونو ویش د ویشونکو مستخدمینو له خوا کېده چې د لیک رسوونکي په نوم یادیدل. که کوم دولتي مکتوب چې به کوم بهرني هېواد ته استول کېده، دهغه استونه د ځانگړي قاصد له خوا سرته رسیده.

پورتنیو اجرائاتو تر ۱۸۷۸م کال پورې دوام در لوده. له ۱۸۹۲م کال څخه وروسته یعنی د امیر عبد الرحمن خان د واکمنۍ په دوره کې د پستي منظم کارونه رامنځته شول. په ۱۹۰۷م کال یعنی د امیرحبيب اله خان په دوره کې پستي کارونو بڼه پرمختگ وکړ. د پسته خانو په شمېر او پستي کړنوکې زیاتوالی راغی. د دولتي مکتوبونو لپاره ځانگړي ټکټونه چاپ شول. په دې وخت کې د پستي دفترونه د ډاکخانو په نوم یادیدل. یوه ډاکخانه په پېښور کې هم جوړه شوې وه. پستي کارونه د امانیه په دوره کې ډېره پراختیا وموندله او د داخلي د وزارت په چوکاټ کې د پست او تلگراف عمومي مدیریت جوړ شو.

په ۱۹۲۵م کال کې د کابل او مشرقي ترمنځ د لومړي ځل لپاره د پستي د حمل او نقل لپاره له موټر څخه گټه واخېستل شوه او د تبادلې یو دفتر په تورخم کې هم جوړ شو. نور دفترونه په اسلام کلا، دایران په طبیات، د مزارشريف په تاشگدر، سپین بولدک او تور غنډۍ کې جوړ شول.

افغانستان په ۱۹۲۸م کال کې د نړۍ د پستي اتحاديې غړیتوب حاصل کړ او د پست اداره د د پیلوماتیکو لارو دنړۍ د پستي کنوانسیون د حکمونو سرته رسولو ته ژمنه شوه. پستي سیستم مخ په سمون شو.

په ۱۳۴۴ لمريز کال کې د مخابراتو رياست د مخابراتو وزارت ته لوړ شو، د پست د انتقال لپاره پستي سرويس موټرونه د کابل څخه د تورخم او کندهار په لور په کار واچول شول. د افغانستان په پسته کې پستي قلمونه لکه مکتوبونه، پست کارتونه، کوچنۍ بستې، چاپ شوي مواد، درندويانې او پارسلونه شامل دي. ددې قلمونو تبادله د ځمکې او هواله لارې، د دننيو خدماتو سربېره، په نړيواله کچه د آريانا افغان هوايي شرکت لخوا سرته رسېږي.



په ټولگي کې د ننه فعاليت:



زده کوونکي دې په مناسبو ډلو وویشل شي او هره ډله دې د پستي په سترو خدمتونو پخپلو منځو کې بحث وکړي. د خپل بحث پایلې دې د ډلې یو غړی خپلو ټولگيوالو ته تشریح کړي. ښاغلی ښوونکی دې د بحث پایله د خپلو معلوماتو په ور زیاتولو را ټوله کړي.



پوښتنې:

لنډ ځواب وواياست:

۱- د لومړي ځل لپاره پُستي کارونه د کوم پاچا په وخت کې مروج شول؟

۲- په پُستي خدمتونو کې کومې برخې شاملې دي؟

لاندې جملې بشپړې کړئ:

۱- د امير شيرعلي خان د حکومت په وخت کې د کابل په بالاحصار کې پُسته خانه د
..... په نوم جوړه شوه.

۲- د امير شيرعلي خان د حکومت په وخت کې بېړنۍ پُسته د اسپ په سپرلي چې د
..... په نوم يادیده لېږدول کېده.

۳- د امير حبيب اله خان د حکومت په دوره کې پُستي دفتر د
..... په نوم يادیده.



له ټولگي څخه بهر فعاليت:

زده کوونکي دې ديو پارسل دپاسه لازمي لارښوونې وليکي، چې د پُستي له لارې يو اروپايي هېواد ته په مصؤن ډول د پام وړ تن ته ورسېږي.



تيليفون داسې وسيله ده چې غږ لېرې او نژدې سيمو ته انتقالوي.

په لسمې پېرې کې زياتې اختراعاتګانې د ارتباطاتو او رسنيو په برخه کې را منځته شوي. لکه عکاسي، سينما، چاپ اوداسې نور، چې د خلکو په ژوند کې يې ستر بدلون راووست. خو ډېره مهمه اختراع تيليفون او تلگراف وو. چې د چټکو ارتباطاتو لپاره يې له لېرې سيموسره را منځته کړه. تيليفون له دوو کلمو څخه جوړ شوی دی. د Tele دويلو او phone د غږ په معنای.

د هېواد لومړنی د تيليفون دستګاه د مسي سيمي لين په واسطه د امير حبيب اله خان او دهغه د ورور نصراله خان د استوګنې په ځای کې د يو کيلومتر په اوږدوالي فعاليت کاوه او بل لين يې د امير د استوګنځي او دهغه وخت تر قومانداني پورې او دريم لين يې د ارګ له دروازې څخه د بابر تر بن پورې غځيدلی و.

زمور په هېواد کې د تيليفون لومړنی بطري لرونکې سوچبورډ چې د ۲۵ لينونو ظرفيت يې درلوده د امير حبيب اله خان د واکمنۍ په دوره کې د ارګ په شمالي څلي (برج) کې جوړ شو. د امان الله خان د پاچاهۍ په دوره کې په ۱۲۹۸ لمریز کال کې يو (۵۰) لینه سوچبورډ د شاه دو

شمشیره د پسته خانې په ودانۍ کې نصب شو او تېلېفوني اړیکې د مرکز او نورو ښارونو تر منځ جوړې شوې. په همدې ډول د هېواد پلازمینه د تلگراف په مرسته د لویو نړیوالو مرکزونو تر منځ وصل شوه.

په لومړي سر کې په دولتي دایرو کې له تېلېفون څخه گټه اخیستنه موجه شوه، وروسته انفرادي اشخاصو هم وکولای شول د ولایت له مرکز څخه یو له بل سره خبرې وکړي او شخصي او تجارتي پیغامونه ولېږي.

له تېلېفون څخه گټه اخیستنه د سیمې لین دغځېدنې او د لویو لارو په اوږدو کې د پایو په نصبولو سره ممکن شوه. لومړني تېلېفون ځانگړې انډل در لوده چې دهغه په مرسته به له سویچبورډ (د خپرولو د مرکز سره) او له هغه ځایه به د سویچبورډ د مسوولو کسانو (اپریتر) په مرسته پیام وړ ارتباط را منځته کېده.

په ۱۳۲۲ لمریز کال کې د ۵۰۰۰ لینونو اتومات لومړنۍ دستگاه د المان د زیمنس له کمپنۍ څخه وپېرودل شوه او په کابل کې په کار واچول شوه او لومړنۍ تېلېفوني مخبره د کابل او پاریس ترمنځ ټینگه شوه. په همدې ډول د پاریس د ترانزیت مرکزونو د افغانستان تېلېفوني مخبره د نړۍ له نورو هېوادونو سره ټینگوله.

په ۱۳۴۰ لمریز کال کې د مخبرې ترانزیت له نورو مرکزونو سره د ډهلي، لندن او مسکو سره هم ټینگ شو، وروسته تېلېفون په پرمختللي ډول د انالوگ او ډیجیټل په بڼه تبدیل شو ددې تېلېفوني مرکزونو ولایتي او نړیوال اړیکې د ستیلاټ (مصنوعي سپورمکي) له لارې ټینگېږي.

موبایل:

موبایل په ۱۹۸۰ م کال کې د ارتباط وسپلې په توگه وپېژندل شو او په ۱۹۸۳ م کال کې د امریکا د متحده ایالتونو په شیکاگو کې د ټولو دگټې اخیستنی لپاره وړاندې شو. موبایل په کمزورو لنډو څپو کار کوي چې پیغام د اتنن پایگاه ته مخبره کوي او یایي اخلي. گټه اخیستونکي کولای شي له هر ځای څخه تېلېفون وکړي او یا پیغام تر لاسه کړي.

زموږ په هېواد کې په وروستیو دیرش کلنو جگړو کې ټولې مخابراتي شبکې تر یوې اندازې او یا په بشپړ ډول ویجاړې شوې او آن دا چې په وروستیو کلونو کې خلک د نړیوالې مخبرې لپاره گاونډیو هېوادونو ته سفر کاوه. د افغانستان د غرنی جوړښت په پام کې نیولو له مخې او دیوزیات



شمير مهاجرينو شتون په باند
نيوهېوادونو کې، ارتباطاتو
د جوړولو په منظور لويې
خصوصي کمپنۍ لکه
افغان بيسيم او روشن په
۳۸۲ المریز کال کې MT
N په ۳۸۴ المریز کال او
اتصالات په ۳۸۵ المریز
کال کې په فعالیت پیل وکړ.
نن ورځ په ټول هېواد کې په
سلگونو زره گډون کوونکي
لري، چې کولای شي په ټول

هېواد کې د اړوندو انتنونو او له هېواد څخه د باندې د ارتباطي سپورمکيو په مرسته خپلې ټيلېفوني
اړيکې جوړې کړي. زموږ د هېواد ټيلېفوني کود ۰۰۹۳ دی. ددې کود په مرسته، له بهرنيوهېوادونو
څخه هېواد ته دننه ټيلېفوني اړيکې ټينگيدلای شي.

له ټيلېفون څخه په گټه اخېستنه اقتصادي او تجارتي اړتياوې او د خلکو ورځنۍ ستونزې په
ډېرې چټکۍ او لږ وخت کې حل کېږي. د خلکو ترمنځ د تفاهم ډېره چټکه او ارزانه وسيله گڼل
کېږي.

په ټولگي کې د ننه فعالیت:



زده کوونکي دې په مناسبو ډلو وویشل شي او هره ډله دې د ټيلېفون د اهميت په هکله پخپلومنځو
کې بحث وکړي او د فعالیت پایلې دې د ډلې يو غړی خپلو ټولگيو الوته وړاندې کړي. ښاغلی
ښوونکی دی د فعالیت پایلې را ټولې کړي.



پوښتنې:

لنډ ځواب ووياست:

۱- تېلېفون په سوداگرۍ کې څه ارزښت لري توضیح يې کړئ؟

لاندې جملې بشپړې کړئ:

۱- زموږ په هېواد کې لومړی ځل تېلېفون..... د حکومت په وخت کې استعمال شو.

۲- زموږ په هېواد کې دمويايل لويي کمپنۍ له..... او..... څخه عبارت دي.

سم ځواب د (س) په توري او ناسم ځواب د (ن) په توري په نښه کړئ.

۱- په ۱۹ م پېړۍ کې د اړيکو په برخه کې با ارزښته اختراع تېلېفون او تلگراف دی.

۲- زموږ په هېواد کې تېلېفون څخه لومړی ځل د امان اله خان د پاچاهۍ په دوره کې گټه واخېستل

شوه.



له ټولگي څخه بهر فعاليت:

په ورځني ټولنيز ژوند کې د تېلېفون د اهميت په هکله يو څوکړښي وليکئ او د جغرافيه په را

تلوونکي ساعت کې خپلو ټولگيوالوته يې وړاندې کړئ.

د: انټرنېټ، ایمیل او فکس Internet, E-mail and Fax



له انټرنېټي خدماتو څخه څنگه گټه اخېستلای شو؟

له انټرنېټ څخه گټه اخېستنه، د انټرنېټي شبکې، کمپیوتر اوله هغې څخه د گټې اخېستنې په طریقې پوهېدلو اړینه ده. انټرنېټ په ۱۹۶۷م کال کې رامنځته شو، د انټرنېټ د رامنځته کولو فکر د امریکا د متحده ایالتونو د دفاع وزارت څخه پیل شو، چې په هغه وخت کې له انټرنېټ څخه د اطلاعاتو د تبادلې د باوري سیستم په عنوان گټه اخېستل کېده. وروسته انټرنېټ د علمي زده کړو دسرچینې او د خوړسنيو له یو ځای کیدو څخه را منځته شو. د ۱۳۶۹ لمریز کالونوپه لسيزه کې په ټوله نړۍ کې په میلیونونو رسنيو د انټرنېټ له نړیوالې شبکې سره ونښتې. انټرنېټ هغه وسیله ده چې د نویو علمي او فني پرمختگونو د اندازه کولو توان لري او هغې له بشپړیدلو سره مرسته کوي. انټرنېټ له دوو کلمو Inter له International نړیوال او Net د Network له شبکې څخه اخېستل شوي دی.

انټرنېټ بې مثله نړیواله معلوماتي وسیله ده، هر څوک هر ډول معلومات چې غواړي له هغې څخه لاس ته راوړلی شي.

انټرنېټ په حقيقت کې د سيستم يا شبکې نوم دی چې د نړۍ ټولې کمپيوټرې شبکې سره نښلوي. د انټرنېټ لپاره ډېر پروگرامونه جوړ شوي دي او د جوړېدو په حال کې دي انټرنېټ د ايميل يا برېښنا ليک لويه سر چينه ده. څه موده مخکې يوازې پيغامونه د انټرنېټ له لارې استول کېدل.

اوس ټيلېفون، تلویزيون، راډيو اونور موضوعات دهغې پرمخ راتلاي شي.

زموږ په هېواد کې انټرنېټي فعاليتونه د څوکمپنيو له لارې سرته رسېږي.

له انټرنېټ او ايميل څخه د جغرافيه په مضمون کې څه گټه اخېستل کېږي؟

له نورو جغرافيه پوهانو سره د اړيکو ټينگول د ايميل E mail له لارې سرته رسېږي. انټرنېټ ددې امکان برابر وي چې جغرافيه پوهان دنړۍ په بيلابيلو سيمو کې خپلمنځي اړيکي ټينگې کړي او يوډبل په نظرياتو پوه شي.

د ايميل يا برېښنالیک: په انټرنېټ کې کولای شو د خپل نظر وړ شخص سره دهغه د ايميل ادرس په علاوه کولو اړيکي ټينگې کړو. له نورو څخه مطالب لاس ته راوړو او يا علمي اطلاعات او داسې نور هغه ته واستوو.

انټرنېټ او جغرافيه:

مينه وال کولای شي چې د پام وړ جغرافيه موضوعگانو دموندلو لپاره، اړونده انټرنېټي سايتونو ته ور ننوځي او د اړتيا وړ اطلاعات لکه متن، عکسونه، نقشې او فلم لاس ته راوړي. نو موږي اطلاعات د پرنټر printer په مرسته چاپ او يا په کمپيوټر کې زېرمه او ثبت Save کړي.

د انټرنېټ ډېره لويه گټه داده چې د هغه په مرسته بېلابېلې موضوعگانې پلټلای شو. هر يو زموږ څخه کولای شي چې د جغرافيه د اړتيا وړ اصطلاح په ليکلو سره لکه اوقيانوس، نقشه، مهاجرت او داسې نور، په هغه صورت کې چې د سايت فهرست او يا ادرس په واک کې ولرو او يا د څېړنې د وسيلې له لارې Search Engine دقيق معلومات لاس ته راوړو. د جغرافيه د پلټنې د سايتونو له جملې څخه کولای شو د Google, M SN, Amazon, yahoo, Hot mail او Gmail داسې نورو نومونه واخلو.

ايا کله مو د فکس په مرسته پيغام استولي دي؟



پورتني عكس په غور وگورئ او ووياست چې نوموړې دستگاه د اړيكو د ټينگولو له مخې څه اهميت لري؟

د فکس دستگاه په نړيوالو اړيكو کې مهم رول په غاړه لري. دغه دستگاه په څو ثانيو کې استول شوي پيغامونه د ليکلي پيغام په توگه اخېستونکي ته د نړۍ هرې نقطې ته رسوي. د فکس دستگاه د فوتوکاپي ماشين سره ورته ده، خو په ټيليفون سنباله ده. دغه دستگاه د پيغام د استولو په وخت، پيغام په کلمو او کرښې په الکترونيکي نښو چې دانتقال وړوي تبديلوي. د پيغام اخېستونکي دستگاه، دغه لاس ته راغلي نښې په ليکلو نښو اوړي او دقيقه نسخه د اصلي نسخې په څېر بهر ته راباسي.

په ټولگي کې د ننه فعاليت:



زده کوونکي دې په مناسبو ډلو وویشل شي. هره ډله دې د ایمیل او انټرنېټ دموضوعگانو او گټو په هکله پخپلو منځو کې بحث وکړي او د ډلې يو غړی دې د بحث پایله خپلو ټولو لگېوالو ته وړاندې کړي. همدارنگه ښاغلی ښوونکې دې د ډلې د فعالیت پایله دې را ټوله کړي.



پوښتنې:

۱- په لومړي ځل انټرنېټ په کوم هېواد کې په کارپیل وکړ او د څه لپاره ورڅخه گټه اخېستل کېده؟

لاندي جملې بشپړې کړئ:

۱- د انټرنېټ اصطلاح له دوه کلمو او څخه ترکيب شوې ده چې معنایې نړيواله شبکه ده.

۲- د جغرافيي ډیپلټني سايټونه له.....،.....،.....، او داسې نورو څخه عبارت دي.

سم ځواب د (س) په توري او ناسم ځواب د (ن) په توري په نښه کړئ:

۱- په ۱۹۸۳ ميلادي کال کې د اطلاعاتو په ميليونونو رسنيو په ټوله نړۍ کې د انټرنېټ له شبکو سره وصل شوی.

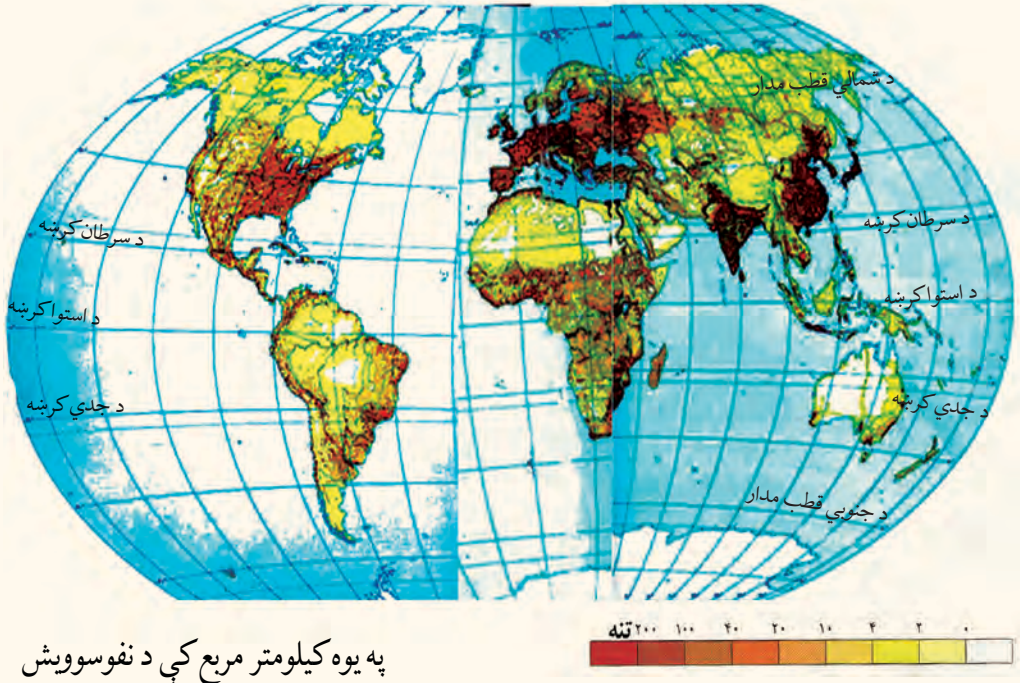
۲- انټرنېټ له علمي او زده کړې له سر چينو او د ډېرو رسنيو د پيوستون څخه منځته راغلې دی.



له ټولگي څخه بهر فعاليت:

زده کوونکي د انټرنېټ دامکانانو په لرلو سره د جغرافيايي اصطلاحگانولکه اور غورځونې د فعاليت او ټوريسم په هکله دې معلومات راټول ثبت يا زېرمه کړي او خپلو ټولگېوالو ته دې د جغرافيايي په راتلونکي ساعت کې وړاندې کړي.

۵-۱ د نفوسو ویشل او گڼوالی



په یوه کیلومتر مربع کې د نفوسو ویش

آیا پوهېږئ چې په ځمکه کې نفوس په څه ډول ویشل شوی دی؟

د نفوسو د ویش پورتنی نقشه په غور ولولئ او وویاست چې ډېر زیات او ډېر لږ نفوس د نړۍ په

کومه برخه کې ځای پرځای شوی دی. ولې؟

د نفوسو گڼوالی د ځمکې د سطحې په یوه واحد ساحه کې د اوسېدونکو خلکو د شمېر څخه

عبارت دی. د نفوسو د گڼوالي د معلومولو لپاره باید د یوې سیمې نفوس د همغې سیمې په

پراخوالي ویشل شي.

د نړۍ نفوس په ۲۰۱۰ میلادي کال کې ۶،۸ میلیاردو تنوته ورسید، چې د ځمکې پرمخ ژوند

کوي. دغه نفوس په ټوله نړۍ کې په مساوي ډول نه دي ویشل شوي. یاپه بل عبارت اقلیمي شرایط

د ځمکې جوړښت او نور اقتصادي، بشري او سیاسي لاملونه د نفوسو په تمرکز اغېز لري. لکه

دبنتي سیمې (هغه تودې او سوځونکي سیمې چې پوره اوبه هم ونه لري)، لوړې، نااواره سړې

سیمې، د غرونو لړۍ، جبې، گن او لنډه بل لرونکي ځنگلونه، استوایي توده او لنډه بله هوا، قطبي سره هوا، له سواحلو او د حمل او نقل له لارو څخه لیرویالی، د نفوسو ډېره لږه پاملرنه یې ځانته را اړولې ده. آن دا چې په ځینو سیمو کې د سلگونو کیلومترو په واټن لږې سیمو کې هم د انسانانو نښې په سترگو نه ښکاري. په داسې حال کې چې د ځمکې په بله سیمه کې لکه: په ښو اقلیمي شرایطو (معتدله آب او هوا او پوره باران)، مناسب جغرافیایي موقعیت، اوارو او ښېرازو ځمکو، پوره اوبولرونکو ځمکو، د سیندونو او سمندرونو په غاړو، بندرونو، د صنایعو، کانونو او د ارتباطي لارو په شاوخوا کې ډېر خلک استوگنه کوي، چې د ځینو ځایونو په یوه کیلومتر مربع کې له زرو څخه زیات خلک ژوند کوي. په دې ترتیب په یوه سیمه کې د نفوسو استوگنه د فزیکي، اقتصادي سیاسي او بشري لاملونو پایله ده. چې د دې لاملونو اغېزې په لنډه توگه بیانوو:

• **فزیکي عواملو اغېزې:** لکه جغرافیایي موقعیت (عرض البلدونه)، لوړې سیمې، اقلیمي شرایط، اوبه او داسې نور د ځمکې پرمخ د تل لپاره لیدلای شو، چې په مستقیم یا غیر مستقیم ډول د ځمکې د منابعو څخه په گټه اخیستنې باندې اغېزه لري. دغه لاملونه د نفوسو د زیات گڼوالي او یا برعکس د یوې سیمې د نفوسو د کموالي لامل گرځي.

• **د اقتصادي لاملونو اغېزې:** په طبیعي منابعو او بشري فعالیتونو ولاړ دي، چې له کانونو، اوبو، د خاورې له ډولونو، نباتاتو، حیواناتو، د پانگې په شتون او په نوې تکنالوژۍ، د کار په شرایطو، صنایعو او داسې نورو څخه عبارت دي، چې د نفوسو په گڼوالي اغېز لري یعنې د صنعتي پراختیا او د نفوسو د ځای پر ځای کیدنې تر منځ متقابل اړیکې شته دی. په هر ځای کې چې د صنعت او له هغې څخه وروسته د هغې پورې تړلي خدمتونه را منځته شي، نو زیات نفوس په هغې سیمې کې جذب بیږي.

د یادونې وړه چې تر ۱۸ مېلادي پېړۍ پورې کرڼه او د هغې اړوند لاملونو (اوبو، خاورې، او اقلیم) د نفوسو په استوگنې ټاکونکې اغېزه درلوده، لکه د مصر په هېواد کې د نیل د سیند وادي او

داسې نور.

زموږ د هېواد اقتصاد تر اوسه پورې په کرڼه ولاړ دی او د نفوسو ډېره زیاته برخه له همدې لارې ژوند کوي.

- د سیاسي لاملونو: په برخه کې د حکومت پرېکړې او د اداري مرکزونو له تشکیل څخه یادونه وکړو که چېرې دولت د هېواد ځینو سیمو ته د پرمختیایي پروگرامونو په برخه کې پانگې اچونې، د کارونو پیدا کولو او یا خدماتي امکاناتو او روغتیایي فعالیتونو ته پاملرنه ونه کړي، د نفوسو گڼوالی هلته لږ وي.
 - بشري لاملونه: په پورتنیو موضوعاتو سره بېرته لېرې پرتې سیمې، چې د حمل و نقل لارې او ارتباطي وسایل په لاس کې نه لري، خلک هلته په تیت او پرک ډول ژوند کوي.
- د هغو لویو وچو دننه سیمې چې له سیندونو او سمندرونو څخه لېرې پرتې دي د ساحلي سیمو پر تله لږ تجارتي امکانات لري، لږ نفوس پکې استوگنه کوي.

Densely population region د پورتنیو لاملونو په پام کې نیولو سره د نړۍ گڼ نفوسه سیمې
کولای شو په درې حوزو په نښه کړو:


۱- لومړنۍ گڼ نفوسه سیمه د آسیا د لویې وچې جنوبي سیمه (پاکستان، هند او بنگله دیش)، د جنوب ختیځې آسیا ځینې برخې (اندونیزیا) او ختیځه آسیا (د چین ختیځ، د کوریا ټاپو وزمه او جاپان) دي.

د دې سیمې په هېوادونو کې په منځني ډول د نفوسو گڼوالی په یوه کیلومتر مربع مساحت کې له ۱۰۰ تنو څخه زیات دی. او په ځینو ځانگړو ځایونو کې په یوه کیلومتر مربع مساحت کې له ۱۵۰۰ تنو څخه زیات دي. چې لامل یې موسمي آب و هوا، د کرنې (د وریجو کرنې) ښه شرایط او د نفوسو طبیعي زیاتوالی دی.

۲- دویمه گڼ نفوسه سیمه د اروپا په لویه وچه کې د پانگوالی په دوره کې رامنځته شوې ده. د دې سیمې په ځینو هېوادونو کې د نفوسو منځنی گڼوالی په یوه کیلومتر مربع پراخوالي کې له ۲۰۰

څخه تر ۴۰۰ تنوته رسېږي. په همدې ډول په صنعتي سيمو کې د نفوسو گڼوالي په يوه كيلومتر مربع مساحت کې له ۵۰۰ څخه تر ۱۰۰۰ تنو پورې رسېږي. چې ډيرزيات يې د سيندونو په غاړه، په بندرونو او د صنعتي مرکزونو په شاوخوا او د کرنې ورسيمو کې ژوند کوي.

درېمه گڼ نفوسه سيمه د امريکا د متحده ايالتونو د شمال ختيځې ځينې برخې (نيوانگلنډ، نيو يارک، پنسلوانيا او د پنځه گونو جهيلونو شاوخوا) او د کاناډا جنوب ختيځ دی. چې د هغې لامل تجارتي او صنعتي فعاليتونه دي.



زده کوونکې دې، په مناسبو ډلو وویشل شي. پخپلو منځو کې د مشورې له مخې دي لاندني جدولونه کاپي او بشپړ کړي او د ډلې استازی دی خپلو ټولگيو الوته وړاندې کړي.

موقعیت	د نفوسو د میشته کیدلو لاملونه
د چین ولسي جمهوریت او د هند هېواد	
شمال لویدیځه اروپا	
د امریکا د متحده ایالتونو شمال ختیځ او د کاناډا جنوب ختیځ	
د همالیه غرونه	
د امازون ځنګلونه	
د ګرینلینډ ټاپو	

په لاندې جدول کې د نفوسو منځنۍ ځای پرځای کیدنه د مالټا، بنگله دیش او استرالیا په هېوادونو کې محاسبه کړی.

ګڼه	هېواد	د هېواد مساحت په کیلو متر مربع	نفوس	د نفوسو ګڼوالي په یوه کیلو متر مربع مساحت کې
۱	موناکو	۲	۳۲۲۷۰ تنه	۱۶۱۳۵ تنه
۲	سنگاپور	۶۴۷	۴,۳۵۳,۸۹۳ تنه	۶۷۲۹,۳ تنه
۳	مالټا	۳۱۶	۳۹۶,۸۵۱ تنه	
۴	بحرین	۶۶۸	۶۷۷,۸۸۶ تنه	۱۰۱۴ تنه
۵	بنگله دیش	۱۴۷۵۷۰	۱۴۱,۳۴۰,۴۷۶ تنه	
۶	مغولستان	۱,۵۶۵,۰۰۰	۲,۷۵۱,۳۱۴ تنه	۱,۷ تنه
۷	استرالیا	۷,۶۸۶,۸۵۰	۱۹,۹۱۳,۱۴۴ تنه	
۸	کاناډا	۹,۹۷۰,۶۱۰	۳۲,۵۰۷,۸۷۴ تنه	۲/۳ تنه



پوښتنې:

لنډځواب وویاست:

۱. د آسیا د جنوب او جنوب ختیځو هېوادونو د نفوسو د ګڼوالي لامل بیان کړئ.
۲. د اروپا په شمال لویدیځ کې د اروپا د نورو سیمو په نسبت ولې ګڼ نفوسه سیمې منځته راغلې دي.
۳. د شمالي امریکا کومې سیمې ګڼ نفوسه دي، لامل یې بیان کړئ؟
۴. د آسیا د ډېر ګڼ نفوسه هېوادونو نومونه واخلي.
۵. د نړۍ په ټولو برخو کې ولې نفوس په مساوي ډول نه دی ویشل شوي؟

۶. کوم سياسي لاملونه د نفوسو په گڼوالي زيات اغېز لري څرنگه؟
 ۷. آیا بشري عوامل هم کولای شي د نفوسو پر ځای پر ځای کیدنی اغېز وکړي؟ څرنگه؟
 سم ځواب په نښه کړئ.

۱- کوم طبيعي لاملونه په يوه سيمه کې د نفوسو دگڼوالي سبب کېږي؟

الف: مناسب اقليمي شرايط او اوبه

ب: لوړې او سړې قطبي سيمې

ج: گڼ او لنډه بل لرونکي استوايي ځنگلونه

د: ټول ځوابونه سم دي

۲- کوم اقتصادي لاملونه په يوه سيمه کې د نفوسو دگڼوالي سبب گرځي؟

الف: ابتدايي کرنه

ب: په صنايع کې پانگه اچونه

ج: د پرمختيايي پلانو نو تطبيق

د: ټول ځوابونه سم دي

له ټولگي څخه بهر فعاليت:

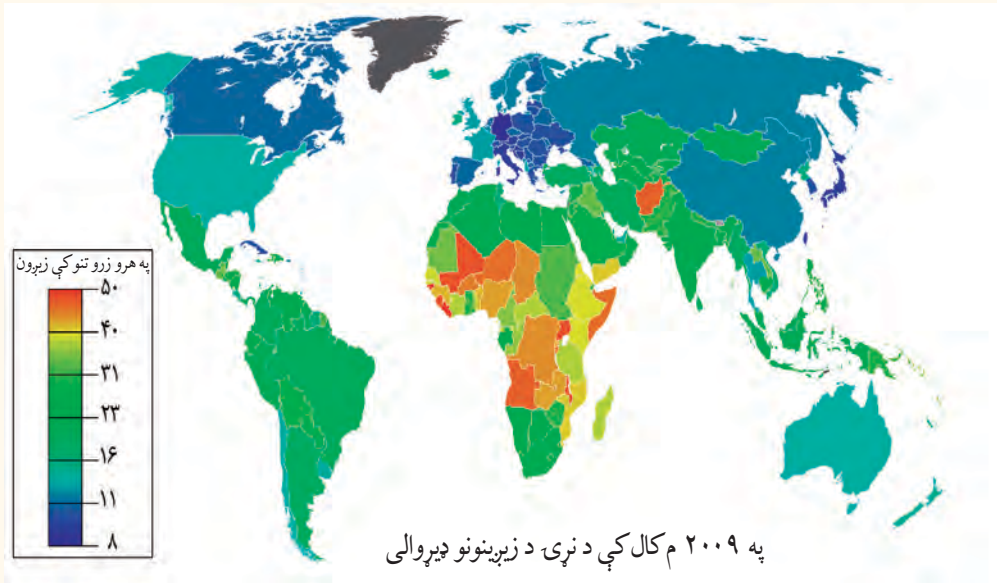


لاندې پوښتنې ته ځواب ووايست او د جغرافيه په راتلونکي ساعت کې يې خپلو ټولگيوالو ته وړاندې کړئ.

که چېرې ستاسې ټولگي ۶ متره اوږد والی او ۴ متره سور ولري او د زده کوونکو شمېر ۶۰ تنه وي، تاسې مهرباني وکړئ د ټولگي په يوه متر مربع کې د نفوسو گڼوالي محاسبه کړئ.

ستاسې له نظره د ټولگي د زده کوونکو مناسب شمېر بايد څو تنه وي. ولي؟

۲,۵ په نړۍ کې د نفوسو د زياتوالي او لږ والي ستونزې



د نفوسو موضوع د پراختیا له مخې د دوو جلا موضوعاتو تر عنوان لاندې لوستل کېږي.

۱- د نړۍ په هېوادونو کې د نفوسو زياتوالی:

د نړۍ نفوس په ډېره چټکۍ زياتېږي، ځکه چې زېږونه Birth Rate له مړینې Death Rate څخه زيات دي.

د شلمې پېړۍ په پېل کې دغه د نفوسو زياتوالی په کال کې ۱۰ ميليونه، دهمدې پېړۍ په نيمايي کې په کال کې ۳۵-۴۰ ميليونو پورې او اوس له ۶۰ څخه تر ۶۵ ميليونو تنو پورې په کال کې زياتېږي.

د ملگرو ملتونو د احصايې له مخې د نړۍ نفوس

(اضافي معلومات)

د ځمکې ټول نفوس	کال
۱,۶۱۷ میلیارده تنه	۱۹۰۰ میلادی
۲,۲۵۲ میلیارده تنه	// ۱۹۴۰
۲,۹۸۲ میلیارده تنه	// ۱۹۶۰
۳,۶۱۰ میلیارده تنه	// ۱۹۷۰
۴,۳۳۶ میلیارده تنه	// ۱۹۷۹
۶,۶۰۰ میلیارده تنه	// ۲۰۰۸
۶,۸ میلیارده تنه	// ۲۰۱۰

له پاسني جدول له مطالعې څخه دې نتيجه ته رسيږو چې د نړۍ نفوس په وروستيو تقريبا ۵۰ کلونو کې په ډېره چټکۍ زيات شوی دی.

د نفوسو دغه زياتوالی په دوه لاملونو پورې اړه لري:

- د نفوسو طبيعي زياتوالی.
- د نفوسو ميخانيکي زياتوالی.

الف: د نفوسو طبيعي زياتوالی: Natural Increase

د نفوسو دغه زياتوالی د زېږونو په زياتوالي او د مړينې په کموالي پورې اړه لري. د مثال په ډول که په يوه هېواد کې زېږونه په زرو کې ۴۰ وي او مړينه په زرو کې ۲۰ وي د نفوسو زياتوالی به ډير زيات وي.

د نفوسو زياتوالی په ډېرو لاملونو پورې اړه لري، چې ډېر زيات مهم يې په يوه هېواد کې ټولنيز اقتصادي او کلتوري لاملونه دي. په تيره بيا وقيوي او معالجوي طب وده او پرمختيا د نفوسو په زياتوالي ډېره اغېز لري. چې له يوه پلوه د مړينې د کموالي سبب گرځي او له بله پلوه منځني عمر اوږدېږي. خو د نفوسو دغه زياتوالی د نړۍ په ټولو هېوادونو کې په يو ډول نه دی. مور کولای شو چې دغه ټول په دوه برخو ووېشو: لومړی ډول د شمالي امريکا او اروپا پانگه والو هېوادونو او د چين او روسيې ځانگړتيا ده. د هغو خصوصيات ډېره لږه زېږونه چې نور هم دکمښت په حال کې دي او لاملونه يې په لاندې ډول دي:

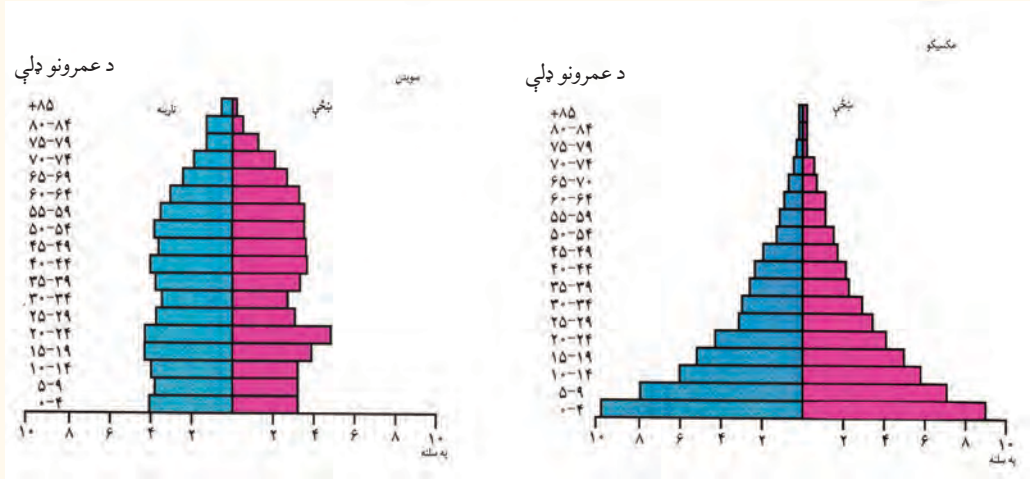
۱ - په پرمختللو هېوادونو کې ښاري نفوس اکثریت لري. ښکاره ده چې زېږونه په ښاري کورنیو کې له کلیوالي کورنیو څخه لږ وي.

۲ - په دې هېوادونو کې ښځې ټولنیزو کارونو ته جلب او جذب شوي دي. معمولاً هغه ښځې چې له کور څخه د باندې کارونه لري، نسبت هغو ښځو ته چې کار نه کوي د ماشومانو شمېرې لږ وي. په پرمختللو هېوادونو کې د زېږېدنو او مړینو دواړو شمېر لږ وي. د نفوسو طبیعي زیاتوالی ۰,۵ - ۱ سلنه یا په زرو کې له ۵ - ۱۰ پورې وي. کله یې اندازه له دې څخه هم کمه وي. دغه لږ زیاتوالی د پرامختللو هېوادونو ځانګړتیا ده.

دویم ډول زیاتوالی د مخ پر ودې هېوادونو ځانګړتیا ده لکه آسیایي، افریقایي او د لاتیني امریکا هېوادونه، چې هغه د زیاتو زېږونو څخه عبارت دی، چې په لاندې لاملونو پورې اړه لري: د اقتصادي ودې ډېره ټیټه سطح، د میکانیزه (ماشیني) کرنې نه شتون، بیسواډي د اکثریت خلکو له پاره د حفظ الصحې نشتوالی، په ټولنه کې د عنعنوي فرهنگ څخه د ښځو پیروي کول او د هغوی له وخت څخه مخکې نکاح او داسې نور.

په آسیایي، افریقایي او د لاتیني امریکا په هېوادونو کې د روغتیايي خدماتو د سمون په پایله کې په مړینه کې کمښت راغلی دی، نو همدغه لامل ددې سبب شوی دی چې د نفوسو زیاتوالی زیات شي. له زیاتو زېږونو سره جوخت د نفوسو طبیعي زیاتوالي چټکوالی مومي چې د نفوسو دغه زیاتوالی له ۲ څخه تر ۳ سلنه پورې د تغیر په حال کې دی. چې په هرو زرو تنو کې له ۲۰ څخه تر ۳۰ پورې زیاتوالی مومي. دغه زیاتوالی زیاتره د وروسته پاتې ټولنو او هېوادونو ځانګړتیا ده.

د پرمختللو صنعتي هېوادونو او مخ پر ودې هېوادونو د نفوسو د ودې د مقایسې لپاره د عمر هرم په راتلونکي مخ کې وګورئ. د عمر په هرم کې افقي کرښی د نفوسو شمېر په سلنو او په عمودي کرښو باندې د نارینه او ښځینه شمېر په مختلفو عمرونو ښودل کېږي ماشومان او نوي ځوانان (له صفر څخه تر ۱۸ کلنۍ) او سپین زېږي (له ۱۵ کلنۍ څخه د زیات عمر خاوندان) معمولاً اقتصادي فعال نفوس نه ګڼل کېږي. لویان (له ۱۵ - ۶۵ کلنۍ پورې) اصلي تولیدوونکي او اقتصادي فعاله ډله ګڼل کېږي. دنړۍ په بیلا بیلو برخو کې د عمر هرمونه سره توپیر لري مخ پر ودې هېوادونو لکه مکسیکو کې د هرم قاعده لویه وي یعنې په هرو ۱۰۰ تنو کې زیات نفوس له ۰ - ۱۵ کلنۍ پورې وي. دغه هېواد ځوان نفوس لري. هغه هېوادونه چې ډېر زیات ځوان نفوس لري، نو باید د ځوانانو اړتیاوو د پوره کولو له پاره په تیره بیا د ښوونې او روزنې، د هغوي لپاره د کار په پیدا کولو کې پانګه واچوي. په پرمختللو صنعتي هېوادو لکه سویډن کې زېږونې او مړینه دواړه



لږ دي او ژوند ته زيات هيله من دي. په دې هېواد کې د هرم قاعده کوچنۍ ده او فعال اقتصادي نفوس زيات دی، خو نفوس ورو ورو د سپين ږېرتوب په لور پرمخ ځي. دغه شميرنه بايد ديوه کال په اوږدو کې ترسره شي، پایله يې په سلنه اعلان شي. کله چې زېږېد له مړينې څخه زيات وي، د نفوسو طبيعي زياتوالی شتون لري.

$$\frac{\text{د زېږونو شمير} - \text{د مړينې شمېر}}{\text{ټول نفوس}} = \text{د نفوس طبيعي زياتوالی}$$

ب: د نفوسو ميخانيکي زياتوالی:

د نفوسو د طبيعي زياتوالي سره يوځای د نفوسو ميخانيکي خو ځنښت يعنې مهاجرتونه هم د نفوسو په زياتوالي کې د پاملرنې وړ اغېز لري.

په هېواد کې دننه مهاجرتونه يوازې د نفوسو د بيا ځای پر ځای کيدنې سبب گرځي او د هېواد نفوس تغير نه کوي، خو له هېواد څخه د باندې مهاجرتونه د نفوسو په شمېر باندې اغېز لري. که چېرې هېواد ته له باندې څخه مهاجرتونه له هېواد څخه بهرته مهاجرتونو په نسبت زيات وي د نفوسو ميخانيکي زياتوالی را منځته کېږي. او برعکس يې د نفوس د کمښت سبب گرځي. د يوه هېواد د نفوسو په مطلقې ودې کې بايد پر زېږيدنو او مړينو سر بېره مهاجرتونه هم وشمېرل شي.

د نفوسو مطلقه وده = (د زېږونو شمېر - د مړينې شمېر) + هېواد ته له باندې څخه مهاجرت.

د نفوسو مطلقه وده = (د زېږونو شمېر - د مړينې شمېر) - له هېواد څخه نورو هېوادونو ته مهاجرت، د نفوسو ډېره زياته طبيعي او ميخانيکي وده د اضافي نفوسو over population مسأله رامنځته

کوي. د اضافي نفوسو اصطلاح هغه وخت رامنځته کېږي او استعمالېږي چې په يوه سيمه کې د منابعو له شتو امکاناتو څخه زيات نفوس استوگنه ولري او يا له ټاکلو ټولنيزو هدفونو څخه زيات وي. کله هم بنيادي نفوس مناسب وي، خو نامناسب ویش رواج ولري. په ځينو ماخذونو کې د مناسبو نفوسو اصطلاح کارول شوي ده. خو دغه اصطلاح هم کوم ټاکلي تعريف نه لري. اضافي نفوس نسبي اصطلاح ده چې په سيمه کې له منابعو څخه گټې اخېستنې په اندازې پورې اړه لري. د مثال په ډول پرمختللي هېوادونه له مخ پر ودې هېوادونو څخه له همدې موجوده منابعو څخه د خلکو له پاره بڼه کار او زيات امکانات برابر کړي دي. نوله همدې امله د اضافي نفوسو مطالعه د تکنالوژۍ د پرمختگ په کچې پورې اړه لري.

په پای کې ويلي شو چې د نفوسو چټکه وده او د زېږونو زياتوالی د وروسته پاتې هېوادونو ځانگړتيا ده. د نفوسو دغه طبيعي زياتوالی اقتصادي بودجه محدود وي او فشار پرې زياتوي او کارونه په تپه دروي.

په پخوانيو وختونو کې صحي خدماتو زياته پراختيا نه وه کړې قحطي، ناروغي او جگړې د نفوسو د محدودولو لاملونه وو. خو نن ورځ نفوس په بې ساري ډول زيات شوی دي او وروسته پاتې هېوادونه چې له لورې، ناروغيو او بیکارۍ سره لاس په گريوان دي. دغه بیکاري د بيوزلی او بيوزلي د فقر او يا غير قانوني مهاجرتونو سبب گرځي.

ټولنپوهان دغې زيات زياتوالي ته د نفوسو چاودنه وايي او ټولنې ته يې زيات خطر بولي. د نړۍ ټول نفوس چې په ۲۰۱۰م کال کې ۶,۸ ميليارده وو. په ۲۰۵۰ ميلادي کال کې به ۹ ميليارده او په ۲۱۵۰ ميلادي کال کې د اټکل له مخې ۱۱ ميلياردو ته د رسيدو وړاند وينه شوې ده چې که کنترول نه شي نو نړۍ به له فاجعې سره مخامخ کړي.

په ټولگي کې د ننه فعاليت:



زده کوونکي دې په مناسبو ډلو وویشل شي او لاندې جدول دي کاپي او بشپړ کړي او هغه پوښتنه چې له جدول څخه لاندې ليکل شوي دي، ځوابونه ووايي او د ډلې استازي دی هغه خپلو ټولگيوالو ته وړاندې کړي.

هېوادونه	د نفوسو گڼوالی په یوه کیلومتر مربع ساحه کې	زېږونونه په ۱۰۰۰ تنو کې	مړینه په زرو تنو کې	طبیعي زیاتوالی په زرو تنو کې	د نفوسو وده په سلنه
برازیل	۱۸ تنه	۲۶	۸	۱۸	۱,۸
ایتویي (حبشه)	۴۷ تنه	۴۹	۱۹		
جاپان	۲۳۰ تنه	۱۲	۸	۴	۰,۴
عربستان سعودی	۸ تنه	۳۶	۵		
آلمان	۲۲۹ تنه	۱۱	۱۲		
کنیا	۴۷ تنه	۴۳	۱۰	۳۳	۳,۳
د امریکا متحده ایالتونه	۲۳۹ تنه	۱۴	۹		
فرانسه	۱۰۶ تنه	۱۳	۱۰		
بنگلہ دیش	۷۹۱ تنه	۴۱	۱۴		

الف: د هغو هېوادونو د نفوسو طبیعي وده چې معلومه نه ده محاسبه کړئ.

ب: د ټولو هېوادونو طبیعي وده په سلوکې محاسبه کړئ.

ج: آیا کولای شئ چې هېوادونه د نفوسو د لږې او زیاتې ودې له مخې و ویشئ. دغه کار څرنگه کیدای شي؟



پوښتنې:

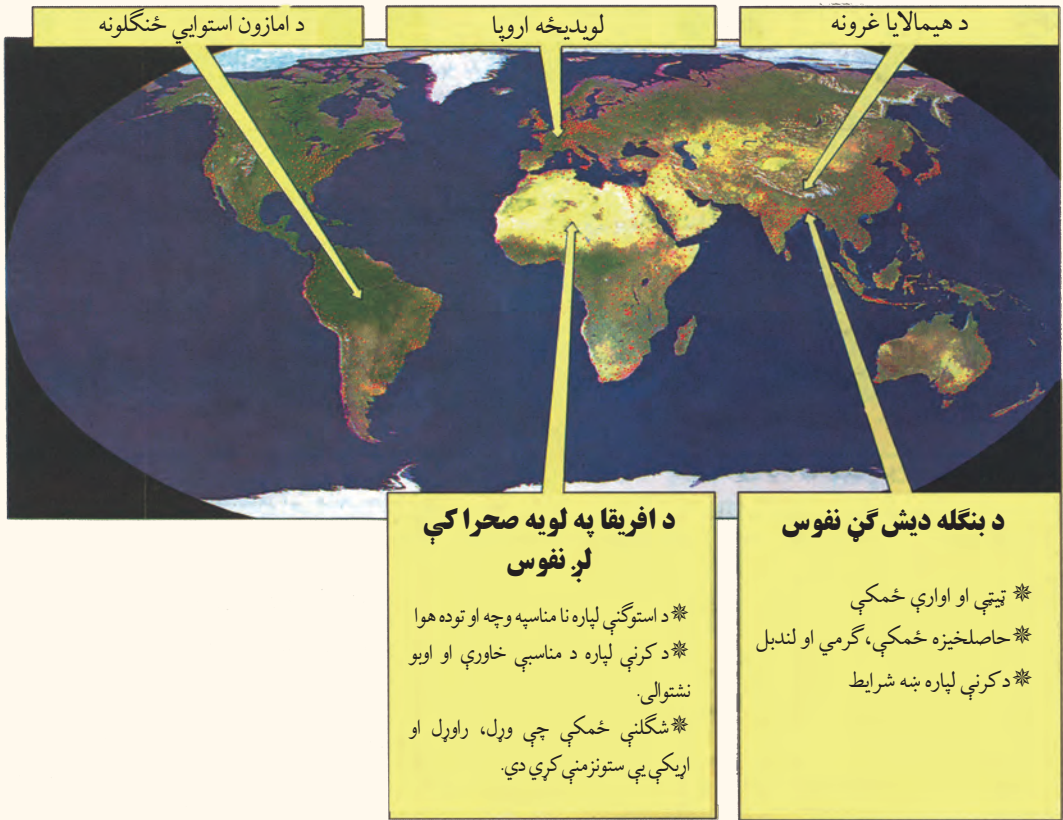
- ۱- مخ پر وده هېوادونو کې کوم لاملونه د نفوسو د چټکې طبیعي ودې سبب ګرځي؟
- ۲- د نړۍ په پرمختللو هېوادونو کې کوم لاملونه د ورو ودې باعث ګرځي؟
- ۳- په یوه هېواد کې کوم لاملونه د اضافي نفوس د ودې سبب ګرځي؟
- ۴- د اضافي نفوسو اصطلاح هدف څه ده، څرګنده یې کړئ؟
- ۵- د ټولنې د عمر په جوړښت او ترکیب کې د طبیعي نفوسو چټکه وده په څه ډول ده واضح یې کړئ؟
- ۶- په هغو هېوادونو کې چې د نفوسو وده یې ورو ده د ټولنې د عمر جوړښت په څه ډول دی توضیح یې کړئ؟



له ټولګي څخه بهر فعالیت:

لاندې پوښتنوته ځواب برابر کړئ او د جغرافیې په راتلونکي ساعت کې یې خپلو ټولګیوالو ته وړاندې کړئ. آیا زموږ د هېواد نفوس په چټکې زیاتېږي؟ که چېرې دغه نفوس په همدې ډول زیات شي، څه ستونزې به رامنځته کړي؟ څرنگه کولای شو د نفوسو د زیاتوالی مخنیوی وکړو؟

د نړۍ په ځینو هېوادونو کې د فعاله اقتصادي نفوسو د لېروالي ستونزې.



تاسې په تیر لوست کې د اضافي نفوسو په باره کې معلومات حاصل کړل. اوس د نفوسو د کمښت ستونزې مطالعه کوو. د نفوسو کنټرول په هغو هېوادونو کې چې په هغې کې اضافي نفوس شتون ولري، ګټور کاردی. خو په یو شمېر نورو هېوادونو کې، د نفوسو د کنټرول له مخې د زېږونو شمېر له مړینې څخه لږ دي. همدغه لامل سبب کېږي چې د بوډاگانو نفوس چې عمر یې له ۶۵ کلنۍ څخه زیات وي یا متقاعد او د ناتوانو خلکو شمېر زیاتیږي. په دې صورت کې صنایع د بشري قوې له کمښت سره مخامخ کېږي او د صنایعو پرمختګ محدودیږي. په پای کې په ټولنه کې له موجوده بشري استعدادونو څخه په ټولنه کې په ګټوره توګه ګټه نه اخیستل کېږي دغه حالت په هغو هېوادونو کې چې د فعاله اقتصادي نفوسو په کمښت De population اخته وي (۱۸ څخه تر ۶۵ کلنۍ)، لیدل کېږي. او د شتو

صنایعو او منابعو په کار اچولولپاره اقتصادي فعالو نفوسو ته اړتیا لري. نو مجبوراً باید دغه اړتیا د زېږونو د هڅونې (د مثال په ډول اروپایي هېوادونو کې چې د فعاله اقتصادي نفوسو له کمښت سره مخامخ دي معمولاً د کورنیو د هڅونې، د جایزو په ډالۍ کولو او یا کورنۍ د کار او ژوندانه د وسایلو او دماشومانو د ساتنې د ځانگړو اسانتیاوو په پام کې نیولو له مخې هڅول کېږي). یا هېواده ته د بهرنیو مهاجرینو په جلبولو سره دغه ستونزه حلوي.

په پای کې ویلای شو چې اضافي نفوس او کم نفوس دواړه حالتونه هېواد ته ستونزې پېښوي. یوتن انګلیسي ټولنپوه د مالتوس په نوم باور درلوده چې د ځمکې سر چینی د نفوسو د اړتیاوو په نسبت چې هره لحظه شمېرې مخ په زیاتیدو دی، محدودې دي. کورنۍ باید د زېږونو د محدودولو لارې کنترول شي. له دویمې نړیوالې جګړې څخه وروسته د نفوسو دغه بېساري زیاتوالی د نړۍ د اقتصادي ستونزو $\frac{2}{3}$ برخې جوړوي. د ۱۹۵۰ میلادي کلونو په لسیزه کې پرمختللو هېوادونو، مخ پر ودې هېوادونو ته د اقتصادي او فرهنگي پرمختګ له پاره د کورنیو د محدودولو وړاندیز وکړ. هند لومړنی هېواد و چې د کورنیو د محدودولو له پالیسۍ سره یې په ۱۹۵۲ میلادي کال کې موافقه وکړه وروسته دغه پالیسي د چین او د مصر په هېواد کې هم پلې شوه. د چین هېواد په دې برخه کې زیات بریالیتوبونه په برخه شول. د نفوسو د زیاتوالی ضریب چې ۱۹۵۵ میلادي کال کې ۴ سلنه و په ۱۹۹۶ میلادي کال کې ۱,۷ سلنې ته راښکته شو، چې دهغې له مخې هرې چینایي کورنۍ ته له یوه ماشوم څخه زیات ماشومان منع شول. په داسې حال کې چې په هند کې د نفوسو د زیاتوالي ضریب له ۲,۶ - ۳,۹ سلنه دی.

د مالتوس د نظریې برخلاف ځینې ټولنپوهان باور لري چې زیات نفوس د تولیداتو د زیاتوالي او د اقتصادي ودې سبب ګرځي، نو د نفوسو د زیاتوالي موضوع باید ازاده پرېښودل شي. له همدې امله یو شمېر هېوادونه د کورنیو له محدودولو سره مخالفت کوي او ګڼ نفوسه کورنۍ

هڅوي. دغه پاليسي په ۱۹۳۰ ميلادي كال كې په نازي آلمان كې پلې شوې وه. همدارنگه بلجيم، سويډن، انگليستان او فرانسې كې هم په بېلابېلو وختونو كې يې پلويان درلودل. ددريمې نړۍ په ځينو هېوادونو كې له خپلواكۍ وروسته د بزگرانو او كارگرانو د زياتوالي لپاره او په خارجيانو باندې نه تكيه كول، د نفوسو د زياتوالي له پاليسي څخه پلوي كوله. په پاي كې ويلاى شو، په هغو شرايطو كې چې د لگښت وړ منابع او د نفوسو اندازه يوله بل سره متناسبه نه وي او د مصرف كوونكو فشار له اندازې څخه زيات وي ويلاى شو چې په منابعو فشار شته كه د نفوسو د زياتوالي ضريب كم نه شي دغه فشار نور هم زياتيږي. يابه بل عبارت كه چېرې د يوه هېواد د اقتصادي ودې پلان د نفوسو د زياتوالي سره متناسب نه وي اقتصادي او ټولنيزې ستونزې را منځته كوي. د نفوسو لږوالى هم د اقتصادي ودې په تپه دريدلو د صنايعو دنه پرمختگ سبب كېږي او د يوه هېواد د وروسته پاتې كيدو لامل گرځي.

په ټولگي كې د ننه فعاليت:



زده كوونكي دې په مناسبو ډلو وويشي. هره ډله دې په لاندې موضوعاتو پخپلو منځو كې بحث وكړي او د فعاليت پايله دې، د ډلې استازې خپلو ټولگيوالو ته وړاندې كړي. آيا زموږ د هېواد منابع د هېواد د نفوسو اړتياوو ته ځواب ويلاى شي يا نه؟ كه چېرې د هېواد اړتياوو ته ځواب ويلاى شي، ولې زموږ خلك بېوزلي او بېكاره دي او بهرنيو هېوادونو ته مها جرت كولو ته اړكېږي په دې برخه كې پخپلو منځو كې بحث وكړئ.



پوښتنې:

لنډ ځواب و وایاست

- ۱- ولې مخ پر ودې زیاتو هېوادونو کې د کورنیو په محدود ولو ټینګار کېږي؟
- ۲- د کورنیو محدود ول څه پایلې لري؟
- ۳- د کورنیو محدود ول په کومو هېوادونو کې اغېزمن دي؟
- ۴- ولې ځینې هېوادونه د کورنیو د محدودولو مخالف دي؟



له ټولګي څخه بهر فعالیت:

لاندې موضوع تحلیل کړئ او د جغرافیې په راتلونکي ساعت کې یې خپلو ټولګیوالوته وړاندې کړئ.

اضافي نفوس په یوه هېواد کې د کومو ستونزو سبب ګرځي. د هغې لپاره د حل کومه لاره وړاندې کوی؟



مهاجرت څه ته وايي او څو ډوله مهاجرتونه پېژنئ؟

مهاجر يا Immigrant هغه چا ته ويل کېږي چې د استوگنې ځاي ته بدلون ورکړی او د يوه اداري واحد څخه بل اداري واحد ته نقل مکان شوی وي. مهاجرتونه د انسان د تاريخ په اوږدوکې سرته رسيدلي او بيلا بيل ډولونه لري، چې ځينې په هيواد کې د ننه کېږي، لکه کليوال چې ښارونو، صنعتي سيمو او نوو کرنيزو ځمکو ته مهاجر کېږي او داسې نور. ځينې نور له نړيوالو سرحدونو څخه تير يږي او بهرنی مهاجرت بلل کېږي.

دغه مهاجرتونه په بېلا بيلو هيوادونو کې په بېلا بيله اندازه پلي شوي دي. نوموړي زياتره مهاجرتونه اختياري مهاجرتونه دي چې پخپله خوښه د زياتې اجورې اوښه ژوند له پاره کېږي.

خو اجباري مهاجرتونه هم کېږي چې خلک د سياسي او نظامي شخړو په سبب مهاجرت ته اړ شي. هغه څوک چې په هيواد کې د ننه نقل مکان کوي په هيواد کې د ننه د بيخايه شوي په نوم يادېږي. د ملگرو ملتونو د ارقامو له مخې شميرې په ۱۳۸۷ لمریزکال کې ۲۴ ميليونه وو او هغه خلک چې له نړيوالو سرحدونو څخه اوږي دنپناه اخیستو ونکو په نوم يادېږي. لکه فلسطينيانو چې په عربي هيوادونو

کې او افغانانو په گاونډيو اود نړۍ په نورو هيوادونو کې پناه اخیستي ده د هغو پناه اخیستونکو ټول شمېر ۱۶ ميليونو ته رسېږي چې افغانان هم په کې شامل دي. ځينې نوموړي مهاجرتونه لنډ مهاله دي چې لومړني ځای ته د بهر ته راگرځيدو نيت لري. لکه زموږ د هيواد کوچيان چې د آب وهوا، خرڅايونو د او دموسم د تغير له مخې بيا بېرته لومړني ځای ته راگرځي. دايمي مهاجرتونه هم شته چې لومړني ځای ته د راگرځيدو نيت نه لري.

مهاجرتونه بيلا بيل لاملونه لري، چې کولای شو د هغې ځينې برخې دلته يادې کړو:

۱. طبيعي لاملونه: طبيعي لاملونه هم د مهاجرت سبب گرځي لکه په سيمه کې د اوبو کمښت د آب و هوا د شرايطو خرابتيا، د خاورې کمزورتيا يا طبيعي آفتونه لکه زلزله، سيلابونه، سمندري طوفانونه، وچکالي او داسې نور.

۲. اقتصادي لاملونه: اقتصادي لاملونه د مهاجرت بنسټيز لامل دي، اوس دغه مهاجرت دمخ پر ودې هيوادونو ځانگړتيا ده. ځکه په دې هيوادونو کې د کليو او ښارونو ترمنځ ډيره نا برابري ده. په داسي حال کې چې په پر مختللو هيوادونو کې د کليوالو ژوند په ډيره چټکۍ سره ښاري ژوند ته نژدې شوي دي. برعکس په دې هيوادونو کې ښاري خلک مينه لري چې له ښارڅخه د ښار څنډو او کليوته مهاجرت وکړي، چې په پاکه هوا او چاپيريال کې په ارامه ژوند وکړي.

مخ پر ودې هيوادونو کې ددې مهاجرت اصلي لامل اقتصادي دي. د کليوالو پر عايدات يوازې لومړنی اړتياوې پوره کوي نو نشي کولای چې په کليو کې اقتصادي فعاليت پر مخ بوځي. له بلي خوا د نفوسو طبيعي ودې له مخې په کليو کې ځمکه او اوبه د ټولو اوسيدونکو د اقتصادي فعاليت له پاره کافي نه دي. دکرني ماشيني کيدل هم د يو زيات شمېر بزگرانو د بيکارۍ سبب گرځي او مهاجرت ته اړکيږي.

دغه مهاجرين چې زياتره يې ځوانان دي او په ښار کې خپله دنده له بزگرۍ څخه په غير بزگرې کارونو بدلوي په ښارونو کې دغه مهاجرين هغه دندې چې لاس ته يې را وړي هم ناکافي دي. ځکه هغوي ماهر کارکوونکي نه دي، نو په هغو کارونو لاس پورې کوي چې سطح يې ټيټه او عايد يې لږ وي لکه: لاسي خرڅلاو او درانه فزيکي کارونه او داسي نور. نو په پای کې په لومړني استوگنځي کې او هغه ځای ته چې د ژوندانه لپاره يې ورته سترگې نيولي وي د نفوسو په زياتوالي او کمښت، د نفوسو د عمر په ترکيب، د کار قوه، بيکارۍ مزدورۍ، همدارنگه فرهنگ، او ژبه اغيزه کوي.

د اقتصادي مهاجرتونو بل ډول دکر نېزې ځمکې په پر اختيا، د اوبو لگولو په نويو پروژو، صنعتي سيمو

د کانونو په را ایستلو او تجارتي فعالیتونو او یا برعکس د کورنیو عاید کموالي، بیکاري، د کار خانو تعطیل په سبب منځته راځي.

۳. سیاسي مهاجرت: دغه اصطلاح زیاتره د سیاسي پناه اخیستو نکو له پاره کارول کېږي. هغه چاته کارول کېږي، چې د بیلا بیلو لاملونه له مخې لکه جګړې، ډار، سیاسي تعقیب، مذهبي عقایدو، د ټولنیزو ډلود اړیکو او هغه قومي اقلیتونه چې اصلي هېواد ونه یې پرې ایښي دي او له بل هېواد څخه یې د پناه اخیستنې غوښتنه کړي وي لکه افغاني پناه اخیستونکي چې له ۱۳۵۷ لمريز کال څخه وروسته یې گاونډيو او د نړی هېوادونو ته مهاجرت کړی دی او یا د بوسني او هرزه گوني د پخواني (یوگوسلاویا) پناه اخیستونکي او په افریقا کې د رونډا د کمپ پناه اخیستونکي او د سوډان د داد فور پناه اخیستونکي او داسې نور. په جینوا کې د ۱۹۵۱ میلادي کال د کنو انسیون پرېکړې، د پناه اخیستونکو د حالت په هکله او د هغو حقونو څخه د دفاع له پاره په یو مهم سند بدل شوي دي. د پناه اخیستونکي او یا د پناه اخیستنې د غوښتنې اصطلاح هغه چاته ویل کېږي چې په اصلي هېواد کې د عقیدتي فعالیت (ایدیالوژیکي او سیاسي)، نژاد، ژبې، ملیت او قوم له مخې د تعقیب لاندې وي او یا عملاً (روحي او فزیکي) زندان او مړینې شکنجې خطر لاندې وي.

د اقتصادي او سیاسي مهاجرینو ترمنځ ګڼېکې یوازې له هېواد څخه جلا توب او بېوزلي ده. د اقتصاد له مخې مهاجرت، مهاجر وپخپله منلی دی او د خپلې اقتصادي بڼې په ښه والي پسې ګرځي. په داسې حال کې دویم یې (سیاسي مهاجر) ځان قرباني بولي، سره له دې چې په ارامه او مطمینه فضا کې ژوند کوي.

۴- مذهبي مهاجرتونه: دغه ډول مهاجر تونه په مذهبي او نورو ټولنیزو او فرهنگي مسایلو باندې د قیوداتو او محدودیتونو وضع کولو له مخې کېږي. د دې ښه مثال په ۱۹۴۷ میلادي کال کې په هندوستان او پاکستان باندې د هند د لویې نیمې وچې ویش و چې دهغه په پای کې په میلیونو د هند و مذهب د پیروانو کورنۍ له پاکستان څخه هند ته او په مقابل کې په میلیونونو مسلمانې کورنیو له هند څخه پاکستان ته پخپله خوښه مهاجرت وکړ. په لنډه توګه ویلای شو، هغه لاملونه چې د مهاجرت سبب ګرځي هغه له اقتصادي، بیکاري، طبیعي افتونو، سیاسي، مذهبي، فرهنگي او نور لاملونو څخه عبارت دي.

هغه لاملونه چې د مهاجرینو جذب او هڅونې سبب ګرځي عبارت دي د ښه ژوندانه له امکانو څخه، ښه ښوونه او روزنه، داستوګنې ښه ځای او په کورنیو پورې تړاو.



په ټولگي کې د ننه فعاليت:

- زده کوونکي په مناسبو ډلو وویشئ. په لاندې موضوعو عگانو دې پخپلو منځو کې بحث وکړي او د مباحثې پایلې دې ډلو لپاره استازي ټول لگيوالوته وړاندې کړئ.
۱. په هیواد کې د ننه مهاجرت اوله هیواد څخه بهر مهاجرت.
 ۲. د مهاجرت اقتصادي لاملونه.
 ۳. هغه لاملونه چې د هغې له مخې افغانان نورو هېوادونو ته مهاجر شوي.
 ۴. که چېرې مهاجرت له کلیو څخه ښارونو ته ادامه ولري په کلیو او ښارونو کې څه ستونزې رامنځته کوي. تاسې د دې مهاجرت د کمولو له پاره د حل کومې لارې وړاندې کوئ.



پوښتنې:

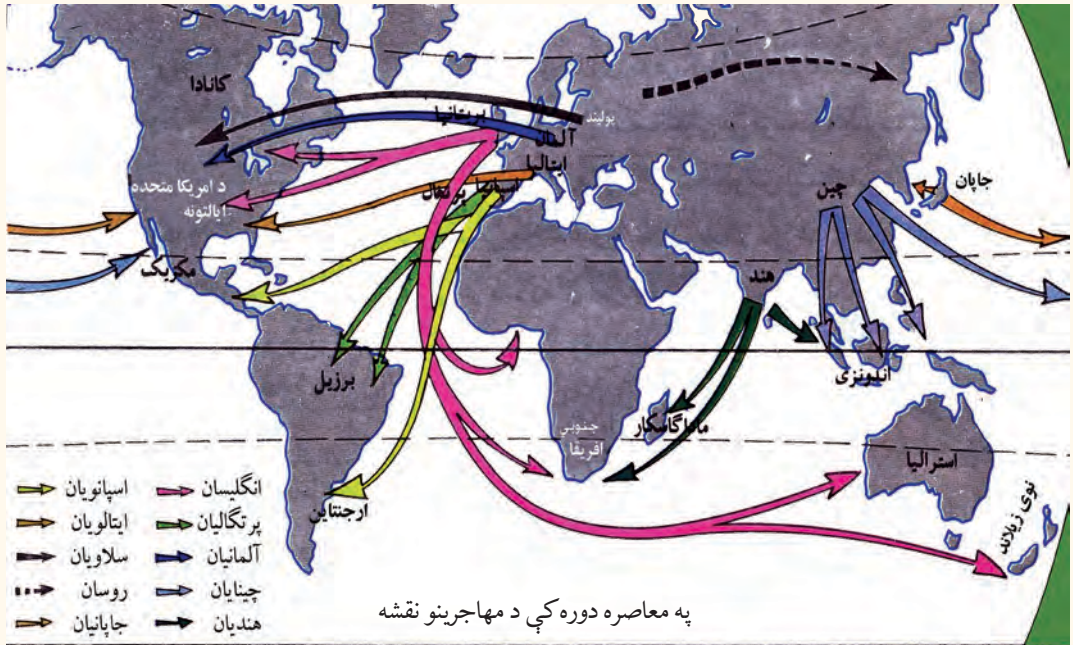
- لاندې جملې بشپړې کړئ:
۱. د کوچیانو مهاجرت زموږ په هیواد کې ----- مهاجرت دی.
 ۲. د فلسطینیانو مهاجرت د اردن او لبنان هیوادونو ته ----- ډول مهاجرت دی.
- لنډ ځواب وویاست:
۳. کوم طبیعي لاملونه د مهاجرت سبب ګرځي؟
 ۴. ولې د مخ پر ودې هیوادونو خلک له کلیو څخه ښارونو ته او پرمختللي هیوادونه برعکس له ښارونو څخه کلیو ته له مهاجرت سره مینه لري؟
 ۵. د څو اقتصادي ډوله مهاجرتونو نومونه واخلئ.
 ۶. کوم سیاسي لامل د مهاجرت سبب ګرځي؟
 ۷. د ۱۹۵۱ میلادي کال د اپریل کنوانسیون چې په ژنوکې لاسلیک شو پناه اخیستونکي یې څه ډول تعریف کړ؟



له ټولگي څخه بهر فعاليت:

- زده کوونکي دې په دې موضوع چې ولې له مخ پر ودې هیوادونو څخه خارجي مهاجرتونه کېږي. د دې مهاجرتونو د مخنیوي له پاره د حل کومې لارې وړاندې کوئ. یوه مقاله ولیکئ او د جغرافې په راتلونکي ساعت کې یې خپلو ټولو لگيوالو ته وړاندې کړئ.

نړیوال مهاجرتونه او د هغو پایلې



ولې خلک له هیواد څخه د بهر مهاجرت سره مینه لري؟

لکه چې په تیرولو ستونزې یادونه وشوه، مهاجرت د دوو لاملونو له مخې کېږي.

۱. نامساعد لاملونه: لکه طبیعي، اقتصادي، ټولنیز، سیاسي او مذهبي لاملونه چې په مخکینیو لوستونو کې ورڅخه یادونه شوي ده.

۲. جزبونکي لاملونه: لکه د یوې ساحې د نفوسو کموالي، رابنکونکې سیمې، د ځمکې لاندې منابع، د کار زیاتوالي او ډیره اجوره.

مهاجرتونه د تاریخ په اوږدو کې رامنځته شوي دي او تراوسه جریان لري. ځیني په هیواد کې دننه وي، چې په هیواد کې دننه د مهاجرت په نوم یادېږي، ځیني له نړیوالو سرحدونو څخه په تیریدو سره کېږي، چې د بهرنیو مهاجرتونو په نوم یادېږي. مهاجرین غواړي چې د اړونده هیواد له سیاسي، اقتصادي یا ټولنیزو شرایطو څخه گټه واخلي. د آریانو مهاجرتونه ختیځ، جنوب او لویدیځ ته او یاد ختیځي آسیاد خلکو مهاجرت، د امریکا لویې وچې او همدارنگه نړیوال مهاجرتونو د ۱۵ م پېړۍ د جغرافیایي لویو اکتشافونو په پایله کې پراختیا وموندله او د نړۍ نورو سیمو ته د اروپایانو د مهاجرت سبب شو. په هغه وخت کې په یوه نیمه پېړۍ کې ۷۰ میلیونه تنه مهاجر شول، چې له خپلې پانگې څخه په نوې نړۍ کې گټه واخلي او په سوداگرۍ لاس پورې کېږي. په پایله کې د امریکا او اوقیانوسیا لویې وچې گڼ نفوسه شوې. چې ښه مثال یې د

شمالی امریکا هیواد ونه دي. چي ۹۵ سلنه نفوس یې اروپایي مهاجرین او ۲ سلنه یې افریقایي توریوستکي دي. د ۱۹ پېړۍ په ټوله دوره کې د نفوسو زیاتوالی او اقتصادي بحران د مهاجرتونو سبب شو چې دهغو پواسط د اروپا اضافي نفوسو د گڼوالي د روند بار کم شو. یوازي د انگلستان په هیواد کې له ۱۸۱۵ میلادي څخه تر ۱۹۲۰ میلادي پورې ۱۷ میلیونه تنو مهاجرت پیل کړ. دغو مهاجرتونو دوه اړخونه درلودل، دایمي مهاجرین او د اداري کارکونکو او مذهبي مبلغینو مهاجرت چي موقتي جنبه یې لرله. ددې دوو مهاجرینو له ترکیب څخه د بریتانیا امپراتوري رامنځته شوه. چي وروسته دغه مهاجرتونو په بېساري ډول په نړیواله ستونزه بدل شوه او هیواد



ونه یې اړکړل چي د مهاجرینو د منلو له پاره مقررات وضع کړي. د امریکا دمتحده ایالتونو کانگرس د مهاجرینو دمخنیوي له پاره په ۱۹۲۴ میلادي کال کې د مهاجرینو په نوم قانون تصویب کړ. دغه قانون امریکا ته په هغه شمېر مهاجرین چي له بیلا بیلو هیوادونو څخه کولای شي امریکا ته راشي مقررات وضع کړل. نوموړي قانون زیات د هغو مهاجرینو مخه نیوله

چي د جاپان او چین ژېړنژاد او توکم پورې یې اړه درلوده. وروسته د نورو هیوادونو په باره کې هم عملي شو. ددې مقرري له مخې مهاجرین باید خپله پانگه هم له ځانه سره ولري. هغوی کولای شول چي له پنځو کلونو وروسته په امریکا کې د اوسېدنې تابعیت حاصل کړي او یا له امریکا څخه خارج شي. اوس برعکس زیاتره نړیوال مهاجرین د دریمې نړۍ له هیوادونو څخه پرمختللي صنعتي هیوادونو ته کېږي چي بنسټیز لامل یې اقتصادي اوسپنې لامل دي. کله چي د یوې کورنۍ عایدات یوازې د لومړنیو اړتیاوو پوره کول وي او یا حد اقل معاش وي، هغوی د دې توان نه لري چي په هیواد کې د ننه پانگه واچوي. له بلې خوا ورځ په ورځ نفوس زیاتېږي او د نفوسو طبیعي زیاتوالی او داسې نور مشکلات ددې سبب ګرځي چي خلک له کلیو څخه ښارونو او خارجي هیوادونو ته مهاجرت وکړي. څرنګه چي هغوی له مهاجرت له پاره قانوني اسناد نه لري. نو له غیر قانوني اوقاچاقی لارو څخه استفاده کوي. نو د ستونزو په منلو او آن د

تلفاتو په منلو ځانونه ټاکلي هیواد ونو ته رسوي. دغه نفوس د یوه هیواد فعال اقتصادي نفوس (له ۱۵ کلنه څخه تر ۶۵ کلنه پورې) احتوا کوي څرنګه چې دهغوي یو شمیر دکار کولو رسمي ویزه اوکار کولو اجازه او د کار ځانګړې مهارت نه لري نوله همدې امله لږمعاش او خراب چاپیریال کې چې د دولت نظارت څخه لېرې وي شاقه او غیر صحي کارونو ته مخه کوي. دیا دونې وړ خبره دا ده چې یو شمیرپر مختللي پانګه وال هیواد ونه د نفوسو د طبیعي کنترول له مخي د بشري قوي له کمښت سره مخامخ دي چې د دې ستونزې د حل له پاره د قانوني لارې مهاجر کارگران مني. په لویدیځه اروپا کې تقریباً ۱۱ میلیونه مهاجرکارگران کارکوي. د مهاجروکارگرانو د منلو له مخې المان په لومړۍ درجه کې دی، ورپسې انگلستان، فرانسه، سویس او سکندیناوي هیواد ونه دي.

د لویدیځي اروپا هیواد ونه په ورستیو کلونو کې له ګاونډیو هیوادونو (ایتالې، پرتګال او هسپانې) موسیمي مهاجرو کارگرانو د کموالي د احساس له مخي، د جنوب ختیځې اروپا، ترکیې، د انتیل د ټاپوګانو او افریقا د هیوادونو کارگرانو ته متوجه شول. المانیان معمولاً د ترکې اویو ناني مهاجرو کارگرانو څخه، فرانسویان د شمالي افریقا د مهاجرو کارگرانو څخه او انگلستان د مشترک المنافع د هیوادونو له کارگرانو څخه ګټه اخلي. د امریکا متحده ایالتونه د مکسیکو له موسیمي کارگرانو څخه کار اخلي.

په همدې ډول د نړۍ د پرمختللو پانګه والو هیوادونو څخه مخ پرودې هیوادونو ته هم مهاجرت کېږي د هغوی پانګه په کار کې پوهه په تیره بیا د هغوی په کار کې تجربه ده چې پخپلو هیوادونو کې یې حاصله کړې ده. په کال کې د دي مهاجرینو شمیر تقریباً له ۲۰۰ څخه تر ۳۰۰ زرو پورې رسیږي، چې د کار او د ښه ژوند په لټه کې خپل هیواد ونه پرېږدي او د لویو وچو ترمنځ په مهاجرت لاس پورې کوي. نوي سیمې دغه مهاجرین په پرانیستې غېږه او زیاتو امکاناتو او ښه ژوند په برابرولو مني. خارجي مهاجرتونه، له هغه هیوادونو څخه چې مهاجرت کوي د نفوسو په کمښت او هغو هیوادونو ته چې مهاجرت کېږي د نفوسو د زیاتوالي سبب ګرځي. د مخ پرودې هیوادونو ټول مهاجرین ځوان او فعال اقتصادي نفوس تشکیلوي. د دې مهاجرت له مخې د مخ پر ودي هیوادونو فعال اقتصادي نفوس کمیږي، چې په پای کې د اقتصادي رکود سبب ګرځي.

په ټولگي کې د ننه فعاليت:



- زده کوونکي دې په مناسبو ډلو وویشل شي. د لاندې موضوعو عکاسانو په باره کې دې پخپلو منځو کې بحث وکړي او مباحثي پایله دې د ډلې مشري په ټولگي کې وړاندې کړي.
۱. د یوه هیواد کوم نامساعد عوامل اوسیدونکي د وطن پر بنسټ دوتنه اړیاسي. دغه ستونزه پخپلو کې وارزوي.
 ۲. کوم لاملونه د مهاجرینو د جذب سبب ګرځي. زموږ له هیواد څخه زیات مهاجرین کومو هیوادونو ته تللي دي. ولې؟
 ۳. تاسې له کلو څخه ښارونو ته د مهاجرینو د کموالي او مخنیوي لپاره اوباله وطن څخه دباندې مهاجرت له پاره څه وړاندیز لرئ؟
 ۴. د خارجي مهاجرتونو اغیزې د هیواد په اقتصاد او نفوسو ترکټي لاندې ونیسي.
 ۵. د مخ پر ودې او پر مختلفو پانګه وال هیوادونو د مهاجرینو شرایط پر تله کړئ.



پوښتنې:

۱. کوم لاملونه د مهاجرینو د جذب سبب ګرځي؟
۲. کوم لاملونه د مهاجرینو مخه نیسي؟
۳. د جغرافیایي لویو اکتشافاتو څخه وروسته کومو لویو وچو زیات مهاجرین منلي دي؟
۴. ولې د امریکا د متحده ایالتونو کانګرس په ۱۹۲۴ میلادي کال کې امریکا ته د مهاجرینو قانون وضع کړ؟
۵. کوم لاملونه له دریمې نړۍ څخه پر مختلفي صنعتي هیوادونو ته د مهاجرت سبب ګرځي؟
۶. کومو مهاجرتونو ته قانوني او کومو مهاجرتونو ته غیر قانوني مهاجرتونه وایي؟



له ټولگي څخه بهر فعاليت:

زموږ په هیواد کې کوم لاملونه د د اخلې او خارجي مهاجرتونو د زیاتوالي سبب ګرځي. د دې تحلیلي مطلب په باره کې مقاله ولیکئ او د جغرافیه د مضمون په راتلونکي ساعت کې یې خپلو ټولو لگیاو لو ته وړاندې کړئ.



په نړۍ کې ولې بیلابیل توکمونه او نژادونه شته؟

الف: توکم (نژاد)

توکم دخلکو ډلې ته ویل کېږي چې د ظاهري خپري، د پوستکي او وېښتانو رنګ، بیلوونکي نېبو او ارثي ګلې ځانګړتیاوې ولري. د نړۍ ټول خلک په دريو اصل توکمونو ویشل شوي دي. چې له سپين يا اروپايي توکم، ژېړ توکم يا مغولي توکم او تور يا استوايي توکم څخه عبارت دي. له يادو شوو توکمونو څخه هر يو توکم ځانګړي ارثي مشخصات لري. لکه د وېښتانو شکل او رنګ، د پوستکي رنګ او دسترګو، پزې او د سردکوپړۍ جوړښت او داسې نورې ځانګړتیاوې. **سپين توکم (نژاد):** لوړه ونه، سپين پوستکی، جګه پزه او خرمايي وېښتان او پرانېستي سترګو ځانګړې بڼه او داسې نور.

ژېړ توکم: ژېړ پوستکې، تور او صاف وېښتان، لږه ريره، ګرد سر، بادامي سترګې لڼده پزه، ټيټه ونه او لږ غوندې چاغ وي.

تور توکم (نژاد): تور يا نصواري ته ورته پوستکی او بلنه پزه، ګرګوتي وېښتان او پېرې شونډې لري.

گډ يا دوه رگه توکم: د مهاجرتونو او د مختلفو توکمونو تر منځ دودونو په پايله کې منځته راغلي دي لکه مولات او سامبو توکمونو.

سره پوستکي: اصلاً د ژېړ توکم پورې اړه لري، خو د مذهبي عقيدوله مخې په مخ او وېښتانو نکريزي وهي. نوله همدې امله د سور پوستکو په نوم مشهور شوي دي.

ستاسې په نظر دنوموړو توکمونو په منځته راتللوکې کوم لاملونه اغېزه لري؟ په داسې حال کې چې ټول انسانان له يوه مور او پلار څخه يعنې آدم (ع) او بي بي حوا (ع) څخه پيدا شوي دي. پوهان دې پوښتنې ته داسې ځواب وايي:

توکمونه د طبيعي چاپېريال د بېلابېلو شرايطو، اقليم او خوړو سره د تطابق له مخې چې په انساني ژوند باندې اغېزه لري، را منځته شوي دي. نوموړي طبيعي شرايط په بېلابېلو توکمونو اغېزه کوي. د مثال په ډول په کومو ځايونو کې چې تور پوستکي ژوند کوي د لمر وړانگې په عمود ډول لگېږي او د هوا تودوخه زياته وي او لمر دسيمې د اوسيدونکو په پوستکي په مستقيم ډول اغېزه کوي، له اړتياو اندازې څخه زياته تودوخه انسانانو ته تاوان اړوي. نو له همدې امله ددې هېوادونو د اوسېدونکو جسم (اورگانېزم) د زرگونو کلونو په تېرېدو سره له اندازې څخه دزياتې تودوخې سره توافق کړي دي او په پای کې دتور رنگه نسجونو ماده يې په پوستکي کې را ټولېږي. دغه نسجي ماده (ميلانين) د پوستکي ايدرمس رنگينه طبقه داسې حجرات لري چې د پوستکي رنگ جوړوي، ژېړ، نصواري، سور او آن داچې تور رنگ لرونکي وي.

د هغو خلکو پوستکي چې ډېر ميلانين لري د بدن پوستکي يې زيات تور وي، دغه ماده د لمر دورانگو د نفوذ مخه نېسي او پوستکي د لمر د وړانگوله سوځېدو څخه ژغوري. د وخت په تېرېدو سره په دې ډله کې د پوستکي توروالي مېراني گرځي، زېره او گرگوتي وېښتان د سر کاسه له تودوخې څخه ساتي.

سپين پوستکي زياتره په شمالي معتدله سيموکې ژوند کوي، په داسې سيمو کې زيات اورښت، لنډبل او زياتره وريځ وي او خلک يې له لمر څخه لږه گټه اخلي، نو له همدې امله يې بدن زيات لمر ته اړتيا لري. د هغوی په بدن کې د ميلانين ماده يوازې په اوږي کې زياتېږي. هغه وخت چې د انسان بدن د لمر د وړانگو پواسطه د اړتيا وړ وېتامين ډي جذبوي د انسان پوستکي غنم

رنگه گرځي.

په هغو ځايونو کې چې ژېړ پوستکي ژوند کوي، په هغه ځايوکې معمولاً باد او طوفانونه لگېږي، چې له ځان سره خاورې، ميده شگې انتقالوي. د کلونو په تېرېدو سره له دې بادونو او طوفانونو سره توافق کوي او د ژېړ پوستکو سترگې تنگېږي، چې وکولای شي دخاورې او شگوپه وړاندې وساتل شي. دغه نښه په ژېړ پوستکو کې ارثي گرځي اود زياتره خلکو ورځني خواړه وربچي وي، چې ډېر لږ غذايي مواد لري. ټول توکمونو د دکاوت او استعداد له مخې توپير نه لري، د هغوی ظاهره څېره لکه چې ورڅخه يادونه وشوه د طبيعي او محيطي شرايطو محصول دی. ځينې پوهان باور لري چې سپين توکم، عالي توکم دی او ژېړ او تور توکم له شاته پاتې توکمونو څخه گڼل کېږي. هغوی يوازې جسماني کارونه سرته رسوي. توکم پالونکي تراوسه په ځينو هېوادونو کې همدغه نظر عملي کوي. په دې هېوادونو کې تور پوستکي له سپين پوستکو څخه لږ ارزښت لري نو تور پوستکي تحقير وي او لږه حق الزحمه ورکوي.

۱۹۶۵م کال د ملگرو ملتونو عمومي غونډې د ټولو ډولونو توکميز توپير د له منځته وړلو لپاره نړيواله معاهده لاسليک کړه. د هغې له مخې يې د هر ډول نظرياتو خپرېدل چې په توکمي امتيازاتو ولاړ وي منع کړل. توهين اود هر ډول توکميز توپير لپاره هڅې جنايت گڼي. دغه موضوع د اساسي قانون د دويم فصل په ۲۲ ماده کې درج شوې ده. چې د افغانستان په اتباعو کې هر ډول تبعيض او امتياز منع دي. د افغانستان اتباع بنځې وي او که نارينه د قانون په وړاندې مساوي حقونه او وجايب لري.

په ټولگي کې د ننه فعاليت:



زده کوونکي دې په مساوي ډلو وویشل شي او هر هره ډله دې په لاندې موضوعگانو پخپلو منځو کې بحث وکړي او د بحث پایله دې د ډلې داستازي په واسطه خپلو ټولگيوالوته وړاندې کړي.

۱- په بشري توکمونو کې کوم توکم دکي اوډېر استعداد لري؟

۲- ولې تور توکم تور پوستکي او ظاهري ځانگړې څېره لري؟

- ۳- ولې سپين توکم ظاهري ځانگړي خصوصيات لري ؟
- ۴- سره پوستکي دنړۍ په کومه لويه وچه کې استوگن دي او دڅپرې د سوروالي علت يې توضيح کړئ؟
- ۵- گډ توکم په څه ډول منځته راځي؟



پوښتنې:

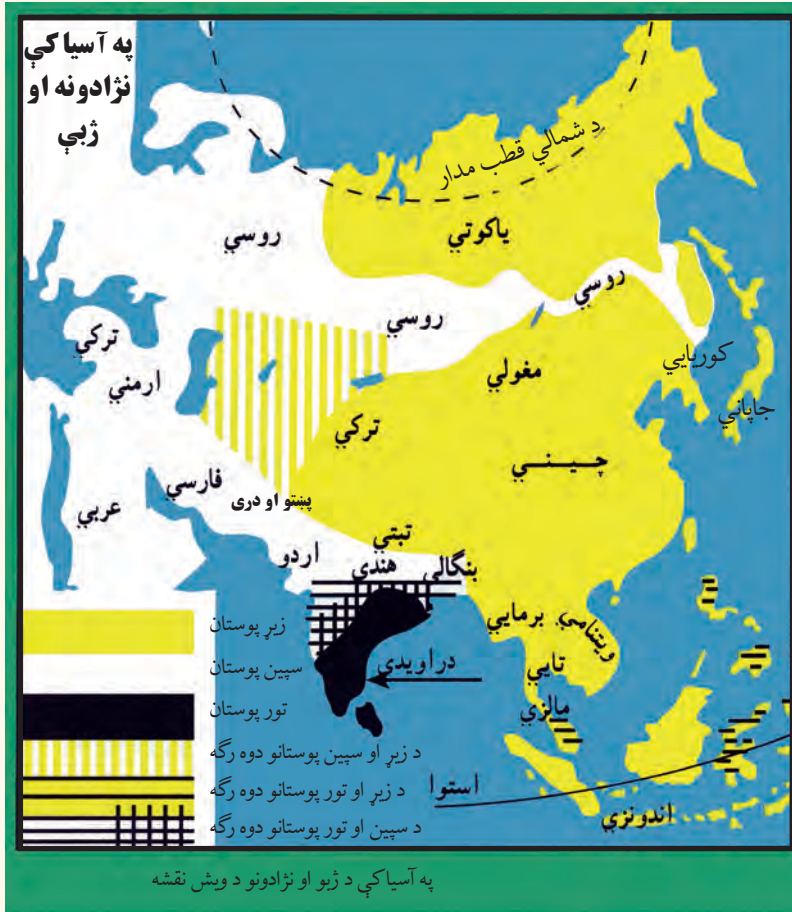
- لنډ ځواب ورکړئ:
- ۱- د تور پوستکو ظاهري ځانگړتياوې بيان کړئ.
- ۲- سور پوستکي په نړۍ کې په کوم توکم پورې اړه لري؟
- سم ځواب په نښه کړئ:
- ۱- د نړۍ ټول خلک په څلورو توکمونو لکه سپين، تور، او ژيړ توکم ويشل شوي دي.
- ۲- سپين توکم لوړه ونه، سپين پوستکي، جگه پزه، تورگورگوتي وېښتان لري.
- ۳- توکموونه د بېلابېلو طبيعي محيطونو، اقليم او خوړو محصول دي.
- لاندې جملې بشپړې کړئ:
- ۱- گډ توکموونه د مهاجرت او د ودونو پواسطه منځته راغلي لکه او
 ۲- د اساسي قانون د دويم فصل مادې له مخې د افغانستان اتباعو ترمنځ هر ډول تبعيض او امتياز منع دی.



له ټولگي څخه بهر فعاليت:

لاندې موضوع تحليل کړئ او د جغرافيه په راتلونکي ساعت کې يې ټولگيوالوته وړاندې کړئ.
 زموږ د هېواد خلک په کوم توکم پورې اړه لري. د هېواد اساسي قانون په کومه ماده کې هر ډول تبعيض منع شوي دي.

ب: د توکمونو جغرافیایي ویش



د نړۍ په کومو لویو وچو کې د سپین نژاد، او تور نژاد نفوس متمرکز شوي دي؟

د آسیا د لویې وچې نفوس له بېلابیلو توکمونو څخه جوړ شوي دي، چې زیاتره یې زیر توکم جوړ وي او پاتې نور یې سپین پوستکي او تور پوستکي دي. د هغوی د جغرافیایي ویش په باره کې لنډ معلومات وړاندې کېږي.

د آسیا د لویې وچې توکمیز ګروپونه:

الف زیر توکم: د آسیا په لویه وچې کې ددې توکم خلکو د نورو توکمونو په پرتله ډېر نفوس تشکیل کړي دي. مغلان، تبتیان، ساموډیان، ترکمنان، قرغېزبان د شمالي چین خلک، کوریایان په لږ څه توپیر همدغه توکمي ځانګړتیا وې لري، د جنوب ختیځې آسیا خلک (جنوبي چین، کامبوج، لاوس، تایلند، برما او ویتنام او آن جاپانیا چې د

پوستکي رنگ يې روښانه دي د همدغه توکم برخه جوړوي. ددې توکم ځينې فرعي ډلې دشمالی سايبيريا د تندرا او تياگه په ځنگلونو (ستنې ډوله پاڼې لرونکي ځنگلونو) کې د څو زر زوخلکو د ډلې په څېر ژوند کوي.

ب- سپين توکم: په هندوچين کې د سپين پوستکو توکم نسبتاً لږ شمېر موندل کېږي، چې په ابتدايي ډول ژوند کوي. د سپين پوستکو د استوگنې اصلي ځاي د همالياد غرونو د لږو لويديځې سيمې او دهند نيمه وچه ده. افغانان، ايرانيان، بلوڅان، قفقازيان او روسان د سپين توکم بڼې بېلگې دي. همدارنگه سامي توکم ه په عربستان، سوريه، اردن، اسرائيل، د ترکيې يوه برخه او کردستان کې استوگن دي په سپين غنم رنگه توکم پورې اړه لري.

ج: تور توکم: تور توکم په استوايي سيمو کې ژوند کوي، چې توکم پېژندونکي هغوي ته نگریتو Negritos وايي. دغه تور پوستکي کورۍ کورۍ وېښتان لري چې سوچه بېلگه يې په سيلون، هند کې د هماليې د غره په جنوب کې، د ملاکا په ټاپو وزمه، د انديمان او نيکوبار په ټاپوگانو کې تیت شوي دي. دغه خلک په نيمه ابتدايي حالت ژوند کوي او زياتره يې په ځنگلونو کې استوگن دي چې زياتره يې د هماليه د غرونو په جنوب کې استوگنه کوي.

د اروپا د لويې وچې توکميزي ډلې:

د اروپا اوسيدونکي تقريباً ټول سپين پوستکي دي او په شمالي، ختيځ، الپي، دينارکي او مديترانه يي ډلو ويشل شوي دي. شمالي او ختيځ سپين توکم برخې داستوگنې ځای سکنديناوي هېوادونه، انگلستان، د فرانسې شمال، المان، لهستان (پولينډ) د روسيې اروپايې برخه ده، الپي توکم يې د اروپا په مرکزي او لويديځو برخو کې استوگن دي. په داسې حال کې چې مديترانه يي توکم څانگه يې غنم رنگه څېره لري د مديترانې د سمندرگي په شاوخوا هېوادونو کې ځای پر ځای شوی دي د اروپايي توکم دينارکي برخه په البانيه او دختيځې اروپا په ځينو هېوادونو کې ژوند کوي. لاپنيان د اروپا په ډېره شمالي برخو کې استوگن دي.



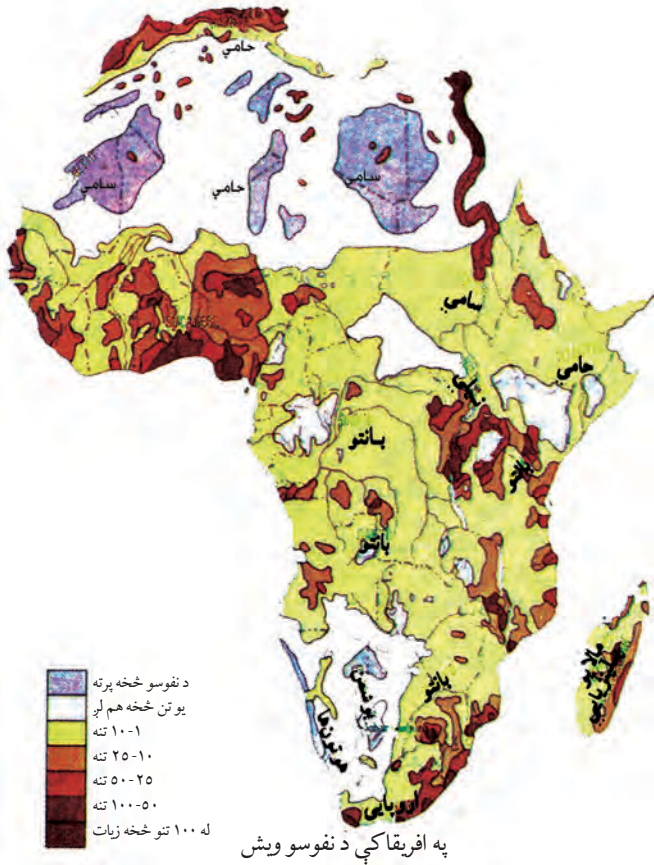
د افريقا د لويې وچې توکميزي ډلې:

د افريقا توکميزي ډلې تور پوستان، عربان، بربريان، آسيان او اروپايان تشکيلوي. تور پوستان د افريقا ۷۰ سلنه نفوس جوړوي، چې ټول يې د لويې صحرا په جنوب کې استوگن دي. تور توکم هم په څلور وډلو ويشل کېږي: چې عبارت دي له بانتو، نيلوت Pygmies پيگمي Bushmen او هوتن تـHottentots څخه.

د دې هرې ډلې په څېره کې زيات توپيرونه ليدل کېږي. بانتو د افريقا د تور پوستانو ډېره لويه ډله ده چې د افريقا په لويديځ کې په تيره بيا د دې سيمې د ساحل په اوږدو کې په مرکزي افريقا کې، په ختيځ او جنوب ختيځ برخو کې او د مادغاسکر په ټاپو کې ژوند کوي.

د هغوي د بدن پوستکی قهوه اي، پلنه پزه، ډبلې شونډې او کورۍ کورۍ وېښتان لري. نيلوت خلک جگه ونه لري (۱۸۳ سانتي متره) چې په سوډان، يوگندا او کينيا کې ژوند کوي. پيگميان په استوايي ځنگلونو کې استوگن دي. ونه يې ټپټه ده (لوروالي يې ۱۴۷ سانتي مترو پورې رسېږي).

بوشمن او هوتن تـ ټپټه ونه لري او دکالاهاري دښتې په شاوخوا کې ژوند کوي. عربان او بربران د لويې صحرا په شمال کې استوگن دي. عربان غنم رنگه دي او تور وېښتان



لري د افریقا په شمال لویدیځ کې سپین پوستکي بربر قبیلې ژوند کوي چې په نسل کې داسپانیې او ایټالېې له خلکو سره ورته والی لري. نو له همدې امله د الجزایر، تونس او مراکش هېوادونو، خلک د بربر د هېوادونو په نوم یادوي.

سپین پوستکي اروپایې مهاجر، له استعمار څخه وروسته په افریقا کې تیت شول. د تمرکز اصلي ځای یې په شمال لویدیځ کې (المغرب) او په جنوب کې (جنوبې افریقا او زمبابوې) دي. همدارنگه په کینیا او زایر کې هم ژوند کوي، مهاجر آسیایان له اروپایانو څخه زیات دي. هنديان په جنوبې افریقا، کینیا او یوګندا کې استوګن دي. د مورشس د ټاپوګانو نفوس زیاتره هنديان دي. د ماد غاسکر زیاتره نفوس مالایي یان او پولینزي یان دي.

د امریکادلوې وچې توکمیزې ډلې:

د امریکا زیات اوسېدونکي سپین پوستکي یا ګله توکم څخه دي. د امریکا د لوېې وچې اصلي اوسېدونکي سور پوستکي دي. چې په اصل کې د زیر توکمیه برخه ده، چې د مذهبي عقیدې له مخې خپل مخ او بښتان په نکریزو سره کوي. شمېر یې په شمالي امریکا کې ډېر محدود دی، خو په مکسیکو او السلوادور کې د نفوسو اصلي عنصر ګڼل کېږي، د بولیویا، ګواټمالا، اکوادور، پیرو او پاراګوای د لوړوسیمو نیم نفوس سور پوستکي دي. د امریکا په لویه وچه کې د سپین پوستکو دزیاتوالي لامل د نړۍ له بېلا بېلو هېوادونو څخه امریکاته د سپین پوستکو مهاجرت ګڼل کېږي زیر پوستکو له چین او



د امریکا په لویه وچه د نژادونو د ویش نقشه

جاپان څخه دې لويې وچې ته مهاجرت کړې دی. تور توکم د غلامۍ او غلامانو د خرڅلاو د رواجولو په پايله کې امريکاته له افريقا څخه راوړل شوي دي. له پورتوريکو، کيوبا او دومينکن پرته نور ټول ټاپوگان د تور پوستکو د استوگنې سيمې گڼل کېږي او د ونزويلا، سورينام، فرانسوي گيانا او پانامې کې تور پوستکي ژوند کوي.

دوه رگه او گډ توکمونه د سپين پوستکو او تور پوستکو د ودونو په پايله کې (مولات Mollstes) اوتور پوستکو او سور پوستکو د وادوکولو په پايله کې زانبوس (Zanbus)) د څلورنيمو پېړيو په اوږدو کې را منځته شوي دي، زياتره دغه توکمونه د مرکزي او جنوبي امريکا په هېوادونوکې ژوند کوي. په اقيانوسيه کې زيات نفوس سپين پوستکي اروپايي مهاجرين دي. يو لږ شمېر تور پوستکي او زير پوستکي او دوه رگه توکمونه هم شته.

د استراليا توکميزې ډلې:

د اروپايانو له مهاجرت څخه مخکې په استراليا کې ۵۰۰ تور پوستکې قبيلې مېشتې وې چې د خلکوشمېرې څه ناڅه شپيته زرو تنو ته رسیده. د استراليا اروپايي کېدنه له (۱۸۳۰) م کال څخه وروسته د اروپايانوله مهاجرت سره پېل شوه. لومړني مهاجرين يې هغه محکومين وو چې د هېواد د پرېښودو په جزا محکوم شوي وو. اوس ددې لويې وچې د دوه رگه وو نفوس اکثريت جوړوي. د هغې لامل داوه چې سپين پوستکې ښځه حاضره نه وه چې دې ټاپوگانو ته مهاجرت وکړي، نو له همدې امله يې له بومي ښځو سره يې ودونه وکړل او گډ نفوس يې را منځته کړ.

په ټولگي کې د ننه فعاليت:



زده کوونکي دي په مناسبو ډلو ووېشل شي او يو له پوښتنو څخه دې ديو اوبل په مشوره ځواب برابر کړي او ددې استازې دې خپلو ټولگيوالوته وړاندې کړي.

- ۱- د نقشې له مخې په نړۍ کې د سپین توکم د استوګنې ځای تثبیت کړي.
- ۲- د نقشې له مخې په نړۍ کې د زېر توکم د استوګنې ځای تثبیت کړي.
- ۳- د نقشې له مخې د تور توکم د استوګنې ځای تثبیت کړي.
- ۴- د زېر توکم خصوصیت وليکئ.
- ۵- ګل توکم څه ته وايي او دغه توکم د نړۍ په کومه لويه وچه کې زیات دی.



پوښتنې:

- لاندې تش ځایونه په مناسبو کلمو ډک کړئ.
- ۱- د آسیا د لويې وچې اکثریت نفوس تشکیلوي.
 - ۲- د اروپا اکثریت نفوس توکم، د افریقا توکم تشکیلوي.
 - ۳- د تور پوستکو او سپین پوستکو دواو کولو په پایله کې ګل توکم را منځته شو.

لنډ ځواب ورکړئ:

- ۱- د اروپایي سپین توکم غنم رنګه برخه د نړۍ په کومو هېوادونو کې ژوند کوي.
- ۲- د افریقا د لويې وچې د توکمیزې ګروپونو نومونه واخلي.
- ۳- سور توکم ځانګړتیا وې بیان کړئ.
- ۴- ګل توکم څه ته وايي او دغه توکم زیاتره په کومه لويه وچه کې شتون لري؟



له ټولګي څخه بهر فعالیت:

مهاجرین په کومو لویو وچو کې د نفوسو د زیاتوالي سبب شوي. ددې مطلب لاندې مقاله وليکئ او د جغرافیې په را ټلونکې ساعت کې په ټولګي کې وړاندې کړئ.

شپږم خپرکی

۶-۱ د نړۍ د مهمو دینونو په هکله څه پوهېږئ؟



پاسنی نقشه په غور ولولئ او و وایاست چې په نړۍ کې کوم دینونه زیات پېروان لري؟

دین د انسانانو د فرهنگ ډېر مهم عنصر دی. هر یو دین له یوه ټاکلي ځای کې منځته راغلي دي او وروسته نورو سیمو ته خپور شوي دي. دینونه معمولاً له سیاسي، نژادي، ژبني او اقتصادي سرحدونو څخه اوږي او د نفوذ ساحه یې له پورتنیو لاملونو څخه د هېڅ یو تابع نه ده، دینونه ډیپروانو د عقیدې له مخې په لاندې برخو ویشل کېږي:

۱. انیمیزم Animism یا د طبیعي پدیدو د عقیدو پېروان: انیمیزم د انسانانو له لومړنیو آیینونو څخه گڼل کېږي، د دې آیین پېروان وايي چې ټول شیان او جمادات روح لري. ددې آیین پېروانو په تیرو وختونو او دورو کې په تیره بیاله تاریخي دورې څخه مخکې، طبیعي په تیره بیاحیرانوونکي (خارق العاده) شیانو او پدیدو ته د خدایي خاصیت قابل و، لکه بریښنا، تندر، رو ښنایي، طوفان، باران او داسې نور د ماورای طبیعت قدرت په صفت پېژندل. دغه آیین اوس په قطبي، بیاباني او لېرې پرتو ځنگلي سیمو کې په تور پوستو او زېړ پوستو خلکو کې لیدل کېږي.

۲. د ارباب انواع د عقیدې پېروان: ددې عقیدې پېروانو باور درلوده چې هره حادثه او پدیده جلا خدای لري. دغه آیین د یونان له مدنیت څخه پېل شوی دی او د روم د مدنیت په وخت کې اعلی درجې ته ورسیده لکه د اورغورځوونکي (اتشفشان) خدای، د بریښنا او تندر خدای، د سمندرونو خدای، د ستورو خدای، د باران خدای او داسې نور.

۳. د اسماني دينونو پېروان: دغه دينونه زياتره اخلاقي اړخ لري او د خدای (ج) عبادت کوي. چې د هغې د لارښوونې له پاره يې بيلابيل پيغمبران درلودل لکه يهوديت، مسيحيت او اسلام چې ترټولو کامل دين د اسلام مقدس دين دی.

له بيلابيلو دينونو څخه د خلکو پيروي ځينې وختونه په ټولنيز چاپيريال کې د زياتو توپيرونو سبب گرځي. مثلاً هندوان د غوايي غوښه نه خوري او د غوايي غوښه خوړل په کې منع دي. د هغوي د ژوندانه په قلمرو کې د غوايي د غوښې د خرڅلاو مرکزونه، نه ليدل کېږي. همدارنگه مسلمانان او عيسويان چې خپل مري بنځوي. د هغوی د ژوندانه په ساحه کې هدېرې ليدل کېږي. په هغو ځايونو کې چې هندوان اوسېږي، نو هلته د مرو د سوځيدو ځايونه ليدل کېږي، ځکه چې هغوی خپل مري سوځوي.

د رخصتۍ ورځې هم په بيلابيلو دينونو کې توپير لري، چې په اقتصادي فعاليتونو او نورو کارونو اغېز لري. دبيلگې په ډول په اسلام کې د جمعې ورځ او په عيسويت کې د يکشنبې ورځ رخصتي وي. په اسلامي سيمو کې د معمارۍ ځانگړې سبک شتون لري او کورونه د حريم ټاکلي ځايونه لري. جماتونه گلدستې، رواقونه، منارونه او گنځې په اسلامي هېوادونو کې ځانگړې سبک لري چې په عيسويت کې داډول سبک نه ليدل کېږي.

په ټولگي کې د ننه فعاليت:



زده کوونکي په مناسبو ډلو و ویشي. هره ډله دې دنړۍ دينونو په نقشه کې دانمیزم، ارباب الانواع او اسماني دينونو د عقيدو دنفوذ ساحه، په نښه کړي اوهره ډله دې راپول شوي معلومات خپلوټولگيوالو ته وښيي.

پوښتنې:



لنډ ځوابونه ورکړئ:

۱. دنړۍ دينونه په عمومي ډول په څو برخو ویشل شوي دي؟
۲. اينمیزم څه ډول مذهب دی؟
۳. ارباب الانواع له انمیزم سره څه توپير لري؟
۴. کاملترين دين کوم يو دی؟
۵. په يوه سيمه کې د يو ځانگړي فرهنگي سيمي په رامنځته کيدو کې د مذهب د آيين اغيزي واضح کړئ.

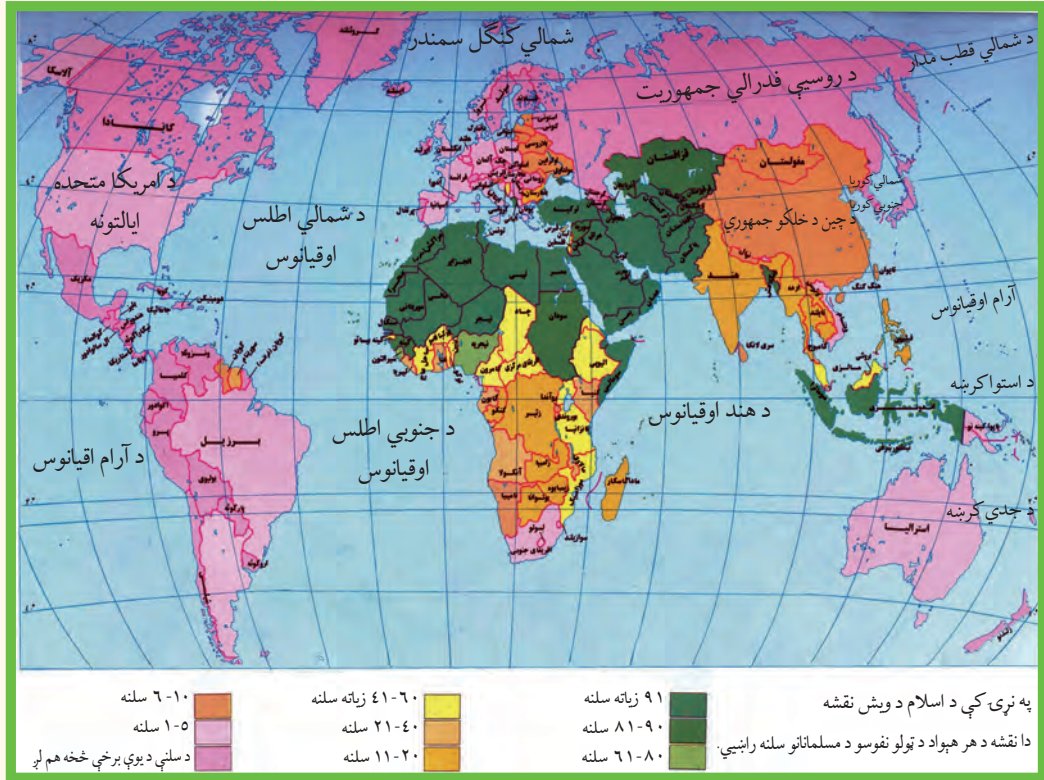
له ټولگي څخه بهر فعاليت:



د نړۍ د دينونو او آيينونو نومونه واخلي او دين او آيين ترمنځ توپيرونه واضح کړئ.

الف: د اسلام سپیڅلی دین

د نړۍ د اسلامي هیوادونو په هکله څه پوهیږئ؟



پورتني نقشې ته څیر شئ او و ویاست چې زیات اسلامي هیوادونه د نړۍ په کومه لویه وچه کې پراته دي؟

د اسلام سپیڅلي دین د الهي و حدانیت او ټولنیز عدالت په بنسټ ولاړدی، چې د حضرت محمد(ص) په بعثت او دقرانکریم په نازلیدو سره په مکه مکرمه کې انسانانو ته وړاندي شو. کله چې حضرت محمد(ص) له مکې معظمې څخه مدینې منورې ته هجرت وکړ، له هغې څخه وروسته داسلام مقدس دین په ډیره چټکۍ خپور شو اود ختیځ اولویدیځ په افکاروېپې زیاتې او دایمي اغیزې وکړې. زیاتروخلکو دقناعت اوبڼه والي له مخې اسلام و منه او نورېپې هم اسلام ته دعوت کړل نو ځکه په ډېره لږموده کې په پراخه ساحه کې خپور شو. اوس د نړۍ په ټولو هېوادونو کې اسلامي دعوت په یوه ډول یا بل ډول وجود لري. نن ورځ مسلمانان د ځمکې په پراخه ساحه کې استوگن شوي دي. تقریباً د نړۍ د نفوسو پنځمه برخه مسلمانان دي. د آسیالویه وچه د نړۍ د مسلمانانود استوگنې لومړنۍ سیمه ده. ددې لویې وچې اسلامي

هېوادونه په منځني ختيځ، منځني آسيا، جنوبي او جنوب ختيځې آسيا کې پراته دي. د دې اسلامي هېوادونو د خاورې پراختيا ۱۵ ميليونه كيلومتره مربع او نفوس يې د آسيا د لويې وچې د نفوسو دريمه برخه جوړوي. په آسيا کې ۲۷ هېوادونه مسلمانان دي چې د هغو څخه د ۱۸ هېوادونو رسمي دين اسلام دی.

د يادونې وړه چې د اسلام سپېڅلی دين د آسيا په جنوب ختيځ کې (اندونيز يا کې) د هند گجراتي او ايراني سوداگرانو په ۱۳ پېړۍ کې له سوداگرۍ سره يوځای د اسلام دين هم خپورکړ، ترڅو چې د وخت حاکمانو هغه ومانه او دهغه د خپرولوله پاره يې هڅې وکړې. نن ورځ ددې سيمې زيات مسلمانان په اندونيزيا، ماليزيا، بروني او فلپين کې استوگنه لري.

د افريقا لويه وچه د اسلام دويم مرکز گڼل کېږي. د افريقا په لويه وچه کې د مسلمانانو داستوگنې سيمه ددې وچې په شمال کې پرته ده دغه ناحيه د مديترانې د سمندرگي په جنوب کې د سواناد تحت استوايي سيمې، په ختيځ کې د سره سمندرگي او په لويديځ کې د اطلس د سمندر پورې غزیدلې ده. په نورو افريقايي هېوادونو کې په مختلفو فيصدي استوگن دي.

د اروپا او امريکا په لويه وچه کې د پاملرنې وړ شمېر مسلمانان اوسېږي. د اروپا په لويه وچه کې په البانيي، بوسني او هرزگوني او په امريکا کې سورينام په دواړو لويو وچو کې اسلامي سيمې گڼل کېږي. د ۲۰۰۰ ميلادي کال د احصايې له مخې په ۶۳ نورو هېوادونو کې هم له ۱-۳۸ سلنه پورې مسلمانان ژوند کوي. اوس په نړۍ کې داسې هېواد نه شته چې هلته مسلمانان نه وي د زياتو معلوماتو لپاره د دې لوست اړوند جدول ته مراجعه وکړئ.

د اسلامي نړۍ هېوادونه د اقتصاد او نفوسو له پلوه يوډول نه دي، خو په ځينو کارونو کې گڼې موخې لري. اسلامي زيات هېوادونه د طبيعي منابعو له مخې لکه نفت، طبيعي گاز، د ډبروسکاره، مس، ر بر او داسې نورو له پلوه ډېر شتمن دي. د نړۍ په ۶۵,۵ سلنه د نفتو زېرمې د فارس په خليج (په عرب خليج) کې پرتې دي. د همدغوسر چينود شتون له مخې د نړۍ د استعمارگرانو د پام وړ وگرځيدلي دي. په همدې ډول زيات اسلامي هېوادونه د استعماري هېوادونو د لاس وهنې اود متخصصينو د نشتوالي له مخې له خپلو منابعو څخه هم گټه نه شي اخېستلای. په همدې دليل په ارزانه بيه د لومړنيو اوموتوکو دسر چينو(منابعو) محصولات صادروي او په مقابل کې په لوړه بيه له پرمختللو هېوادونو څخه کالي واردوي. د اقتصاد له پلوه په شتمنو هېوادونو پورې تړلي دي.

لاندني جدول ۲۰۰۰ ميلادي كال د احصايي له مخي ترتيب شوی دی

اضافي معلومات

د مسلمان شميرنه په سلنه	د اروپا لويه وچه	گڼه	رسمي دين	د مسلمان شميرنه په سلنه	د افريقا د په لويه وچه کې	گڼه	رسمي دين	د مسلمان شميرنه په سلنه	د آسيا په لويه وچه کې	گڼه
۸۴	اذربايجان	۱	اسلام	۹۹,۷	الجزاير	۱	اسلام	۹۹/۶	افغانستان	۱
۳۸,۸	الباني	۲		۳۵	تانزانيا	۲	اسلام	۹۳,۵	اردن	۲
۴۳	بسينيا و هرزگونيا	۳	اسلام	۹۸,۹	تونس	۳	-	۷۶/۲	ازبکستان	۳
				۹۴,۱	جيبوتي	۴	-	۷۶/۵	اندونيزيا	۴
				۵۹	چاد	۵	اسلام	۸۲/۷	امارات	۵
	د امريکا د لويې وچې هيوادونه سورينام	۱	اسلام	۸۷,۶	سنيگال	۶	اسلام	۹۹/۲	متحد عرب ايران	۶
				۷۰/۳	سودان	۷	اسلام	۸۲/۴	بحرين	۷
				۹۸,۳	سومالي	۸	اسلام	۶۴/۴	بروني	۸
				۴۵,۹	سيراليون	۹	اسلام	۸۵/۸	بنگله ديش	۹
۱۹/۶			-	۳۸/۶	ساحل عاج صحرا	۱۰	اسلام	۷۸/۶	تاجکستان	۱۰
				۱۰۰	کومورو	۱۱	-	۸۷/۲	ترکمنستان	۱۱
				۹۸	گامبيا	۱۲	-	۹۷/۴	ترکيه	۱۲
				۸۶,۹	گينه	۱۳	اسلام	۹۶	پاکستان	۱۳
				۶۷,۳	گينه بسياو	۱۴	-	۸۶/۲	سوريه	۱۴
			اسلام	۳۹,۹	ليبيا	۱۵	اسلام	۸۷/۷	فلسطين	۱۵
			اسلام	۹۶,۱	مالي	۱۶	-	۴۲/۲	قزاقستان	۱۶
			اسلام	۸۲	مصر	۱۷	-	۶۰/۸	قرغزستان	۱۷
			اسلام	۸۴,۴	المغرب	۱۸	اسلام	۸۲/۷	قطر	۱۸
			اسلام	۹۸,۳	موريتاني	۱۹	اسلام	۹۴	عربستان سعودي	۱۹
			اسلام	۹۹,۱	نيجير	۲۰	اسلام	۹۶	عراق	۲۰
				۹۰/۷	نيجريا	۲۱	اسلام	۸۷/۴	عمان	۲۱
				۴۵/۹	ولتای عليا (بورگينا فاسو)	۲۲	اسلام	۸۳	کويت	۲۲
				۴۸,۶	ارتيريا	۲۳	-	۵۵/۳	لبنان	۲۳
				۵۰		۲۴	اسلام	۱۰۰	مالديو	۲۴
						۲۵	اسلام	۶۰/۴۵	ماليزيا	۲۵
						۲۶	اسلام	۹۸/۹	يمن	۲۶

په برما، سريلانکا او فلپين کې يوزيات شمېر مسلمانان ژوند کوي او دهند دنفوسو ۱۲ سلنه مسلمانان دي. د اسلامي نړۍ د کنفرانس غړي ۵۷ هېوادونه دي چې ۲۵ هېوادونه يې په اسيا، ۲۷ هېوادونه يې په افريقا ۳ هېوادونه يې اروپا او ۲ هېوادونه يې په امريکا کې دي.

په ټولګي کې د ننه فعالیت:



زده کوونکي دې په مناسبوډ لو کې تنظیم شي او هره ډله دې د نړۍ په ټولو لویو وچو کې د اسلام د دین د خپریدو د علتونو په هکله پخپلو منځو کې مباحثه وکړي او د ډلې استازی دې بحث پایلې په ټولګي کې وړاندې کړي. ښوونکی دې د بحث پایلې له خپل معلومات سره یوځای کړي او زده کوونکو ته دې توضیحات ورکړي.



پوښتني:

لنډ ځواب ورکړئ

۱. د اسلام د دین بنسټ په څه شي ولاړدي؟
۲. په حضرت محمد(ص) لومړنۍ وحی څه وخت او په کوم ځای کې نازل شوه؟
۳. ولې اسلامي هېوادونه دنړۍ د استعمارگرانو د پاملرنې وړدي؟

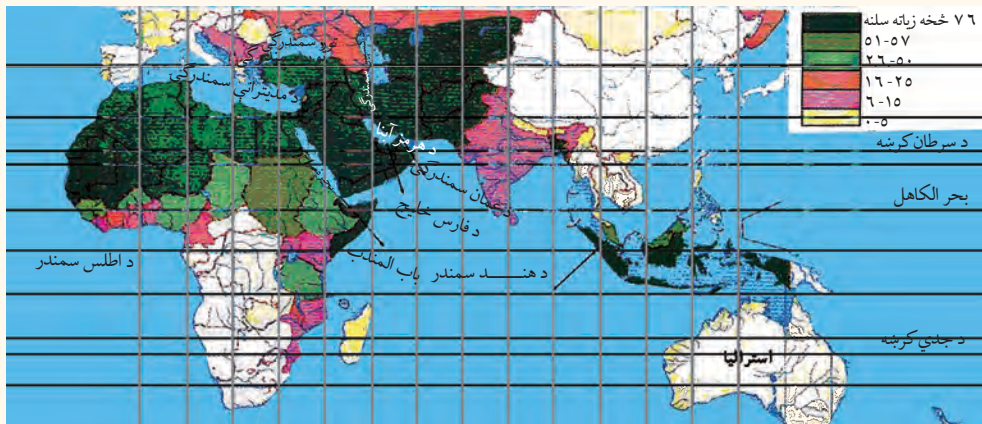
سم ځواب په نښه کړئ:

۱. د آسیا د جنوب ختیځ په کوم هېواد کې د نړۍ ډېر زیات نفوس ژوند کوي؟
- الف: مالیزیا ب: اندونیزیا ج: بنګله دیش د: افغانستان

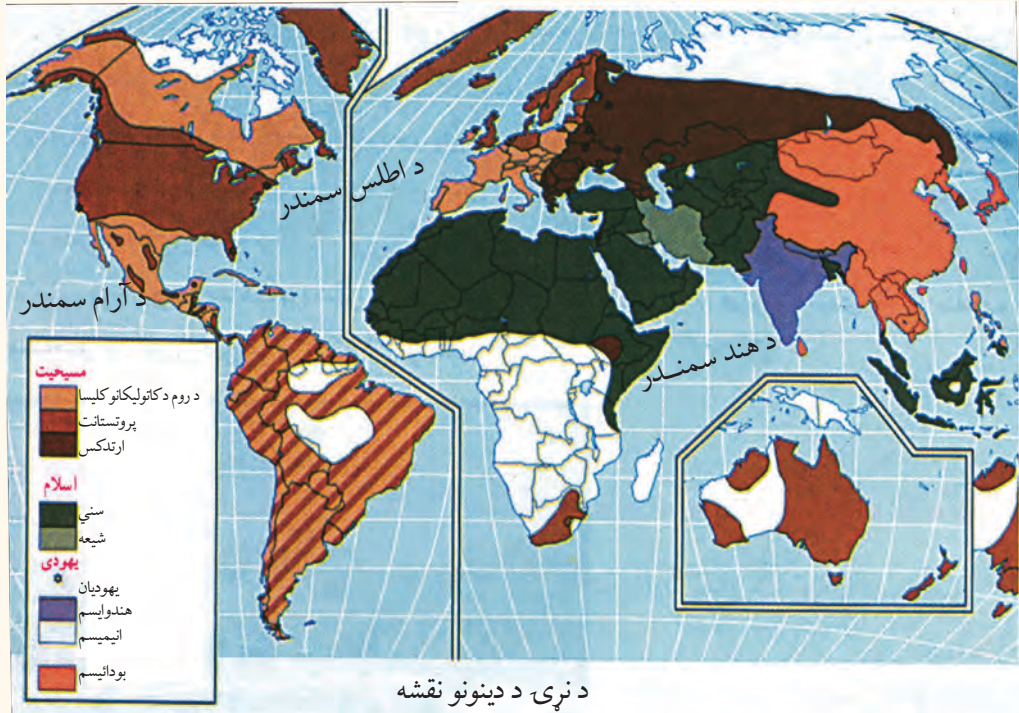


له ټولګي څخه بهر فعالیت:

له ورکړ شوي نقشې او د نړۍ د اسلامي هېوادونو دلست څخه په گټې اخیستنې د اسلامي هېوادونو بې نومه نقشه کاپي او بشپړه کړئ او د جغرافیه د مضمون په راتلونکي ساعت کې یې د لویو وچو په بیلوالی ټولګي کې وړاندې کړئ.



ب- د مسیحیت د دین په اړه څه پوهېږئ؟



پورتني نقشې ته وگورئ او ووايست چې د عيسويت د دين د پيروانو د نفوذ سيمې د نړۍ په کومو لوبو وچو کې پرتې دي؟

عيسويت د آسماني نړيوالو د ينونو له جملې څخه دی چې زيات پيروان لري او د لومړۍ ميلادي پېړۍ په لومړيو کې څرگند شوی دی او د دويمې ميلادي پېړۍ په پای کې په ډيره چټکۍ يې پراختيا موندلې ده.

دغه دين لومړی د حضرت عيسی (ع) بن مريم په واسطه په فلسطين کې خلکو ته ور وپېژندل شو. څرنگه چې حضرت عيسی (ع) پلار نه درلوده، نو ځکه د عيسی (ع) بن مريم په نوم يا د شوی دی.

پيروان يې دهغه د پيدايښت په هکله ډېرې نظريې لري. آن داچې ځنې هغه د الوهيت په درجه کې هم گوري. له همدې امله دنن ورځې عيسويت له توحيد څخه منحرف شوی او شرکونو او زياتو خرافاتو په کې ځای نېولې دی عيسويان په تثليث عقیده لري يعنې په دريو خدايانو باور لري: خدای، خدای زوی (عيسی بن مريم) او روح القدس يا مريم.

حضرت عيسی (ع) د بني اسرائيلو په انبياوو کې وروستنی پيغمبر دی او د حضرت عيسی (ع) او حضرت محمد (ص) د پيدايښت ترمنځ بل پيغمبر نه دی رالېږل شوی. حضرت عيسی (ع) پخپل ژوند کې واده نه دی کړی او نه يې د استوگنې له پاره کور جوړ کړی دی.

د مسیحیت دین د لومړی کنستانتین په وخت کې له ۳۰۶ څخه تر ۳۳۷ میلادي کلونو پوری رسمي



دین او کلیسا د روم د امپراطور د حکومت د مستقیم نظارت لاندې و او قوانین یې له مسیحیت سره موافق کړل، د سان پیترو لومړنی کلیسا په اوسني واتیکان کې جوړه شوه.

د مسیحیت د دین دسترو څانگو په باره کې څه پوهېږئ؟

د عیسویت مذهب په ۲۵۰ مذهبي فرقو ویشل شوی دی چې له هغې جملې څخه یې درې غوره برخې په لاندې ډول دي:

۱. کاتولیک: د کلي او عمومي په

معنای. دغه اصطلاح دهغې پخوانۍ کلیسا په باره کې چې په نورو څانگو ویشل شوی نه وه او درومي کاتولیک په نوم یادیده، استعمالیده. د کلیسا په راس کې پاپ و. په لاتینی ژبه کې د پاپ اصطلاح د پلار په معناده.

د روم اسقف د دغې برتری له مخې په ټولې مسیحي نړۍ باندې د مستقیم او مرکزي کنترول مدعی شو. د کاتولیکانو له نظره پاپ له ټولو گناهونو، تیروتنو او اشتباگانو څخه مصئون دی. د کلیسا کار کوونکي باید واده ونه کړي. دغه مذهب په لومړۍ درجه په ایټالیه، بلجیم، فرانسه، اسپانیه، پرتگال او په ځانگړې توگه په لاتیني قوم کې او په دویمه درجه د اتریش، پولینډ، مجارستان، چک، سلواک، کرواتې او سلواني (پخوانۍ یوگو سلاویا) او اقلیتونه یې د بریتانیا په اتحادیه او نورو اروپایي هېوادونو کې په سترگو کېږي.

۲. ارتودوکس Orthodox: د کامل او صحیح په معنای. د روم امپراطوري په ۴۷۶ میلادي کال کې په دوو ختیځو او لویدیځو برخو وویشل شوه. په همدې دلیل کلیسا هم د لویدیځ روم په کلیسا (کاتولیک) او یوناني ختیځ روم (ارتودوکس) وویشل شوه. د لویدیځ روم کلیسا هڅه کوله چې خپل نفوذ په سلاویانو (بلغارستان) کې پراخه کړي. دغه عمل د ختیځ روم کلیسا ناراضه کړه.

په همدې ډول مسلمانانو دیرموک په جگړه کې د حضرت عمر(رض) د خلافت په دوره کې ۶۲۶ میلادي کال کې ختیځ روم ته ما ته ورکړه او د سورېې او فلسطین سیمې یې ازادې کړې. د امویانو د خلافت په دوره کې ترکیه هم د مسلمانانو په لاس کې ولویده. د روم امپراطور دریم لیوی د اسلام د دین د نفوذ دمخنیوي لپاره ځینې مذهبي اصلاحات یې عملي کړل. په ۷۶۶ میلادي کال کې فرمان صادر شو چې د هغه له مخې دانځورونو او تمثالونو نصبول په کلیسا کې منع شول. دغه عمل یې یو ډول بت پرستي وگاڼه. دغه عمل په ختیځې او لویدیځې اروپا کې عکس العملونه رامنځته کړل. په ختیځ روم کې د نظامي قوې په زور عملي شول، خو د روم په ښار کې دریم پاپ ګری ګورس مذهبي شورا جوړه کړه او فتو اېې صادره کړه چې هر څوک چې په کلیسا کې تصویرونو او تمثال ته احترام نه کوي د ایمان له دایري څخه خارجېږي.

د دې دواړو مذهبي فرقو ترمنځ لوی اختلاف په لاندې ډول دی:

۱. ارتودوکس په قطعي ډول د دې اصل مخالف دي چې د روم پاپ د مسیحي کلیسا په ټولو ټولنو عمومي ریاست ولري.

۲. د روم پاپ معصوم نه دی، باید په ایماني او اخلاقي مسایلو کې تیروتنې ونه کړې. د ارتودوکس د کلیسا کارمندان په واده کولو کې خود مختار دي.

د روسیې، صربستان، رومانیه او یونان زیاتره خلک او په عمومي ډول پر سلاویانو کې د ارتودوکس مذهب زیات پیروان لري.

۳. **پروتستانت** protestant: د اعتراض کوونکي په معنایي.


کاتولیکي کلیسا چې زیاتره د شکوه او جلال پسې ګرځیده نو د خپلو اړتیاوو دپوره کولو لپاره یې د ګناهونو د بخښنې پانې اولوحې خر خولې او روحاني مقام یې د پیسو په مقابل کې پلورلو. آلمان کې مارتین لوتر روحاني (۱۴۸۳-۱۵۴۶ میلادي کال پوري ژوندي و د اعتراض لاندې راوستل په ۱۵۱۷ میلادي کال د اکتوبر په ۳۱ اعتراضه لیک چې ۹۵ مادې یې درلودې ولیکه. په ۱۵۳۴ میلادي کال کې انجیل د لاتینې ژبې څخه چې مذهبي ژبه وه په آلماني ژبه و ژباړل شو او د انجیل لوستل اسانه شول. نوزیاتره خلک د لوتري کلیسا پلویان شول. چې شرایط یې اسانه وو او ډېر لږ یې شاعیرو او رسم و رواجونو ته پاملرنه کوله دغه مذهب دلو تریسم په نوم هم یادېږي.

د پروتستانت څانګه په اروپا کې په جرمني قومونو کې زیات پیروان لري. ددغه مذهب پیروان په فنلنډ، سویلېن، ناروي، ډنمارک، انگلستان، هالنډ، المان، اتریش او دسویس، چک، سلواک د هېوادونو په یوه برخه کې او هم د اروپا په نورو هېوادونو کې ځینې کوچنۍ لږه کی ژوند کوي.

د جغرافیایي لویو اکتشافاتو څخه وروسته، په ۱۶میلادي پېړۍ کې چې اروپایانولویې استعماري امپراتورۍ جوړې کړې، نو په ټوله نړۍ کې یې خپل فرهنگ او مذهب خپور کړ. اوس د اروپا په ټولو پخوانیو مستعمرو کې په بیلابیلو سلنو ددې دین پیروان شته د مثال په ډول د ټولو جنوبي او منځنۍ امریکا د هېوادونو مذهب کاتولیک او د شمالي امریکا د هېوادونو پروتستانت او کاتولیک دی. په همدې ډول هغه افریقایې هېوادونو کې چې یو وخت د اروپا د استعمار لاندې وو دغه مذهبونه شته.

ښه مثال یې جنوبي افریقا، ایتوپی او دگینې د خلیج ساحلي هېوادونه دي.

د اسیا او اوقیانوسې د پخواني استعمار لاندې هېوادونو کې په مختلفو سلنو ددې مذهب پیروان شته دي. سره له دې هم عیسوي دین د جنوبي امریکا په دريو هېوادونو کې (ارجنټاین، بولیوی او پیرو) په یو افریقایې هېواد (لیسوتو) او په دريو اروپایي هېوادونو (مالت، ناروي او واتیکان) کې د هېوادونو رسمي دین گڼل کېږي.



زده کوونکي دې په مناسبو ډلو وویشل شي او هره ډله دې د نقشي له مخې په نړۍ کې د عیسویت د دین د خپریدو د لاملونو په هکله پخپلو منځو کې بحث وکړي او دکار نتیجه دې د ډلې استازی خپلو ټولگیوالو ته وړاندې کړي.



پوښتنې:

لنډ ځواب ورکړئ:

۱. د عیسویت دین ولې په دې نوم یادېږي؟
۲. دیني اسرا ئیلو په نیانو کې وروستنی نبي څوک و؟
۳. د حضرت مسیح (ع) د زېږیدني په هکله خپل معلومات وړاندې کړئ
۴. د عیسویت د دین مهمې څانگې کومې دي؟
۵. د کاتولیکي او ارتودوکس د کلیساوو ترمنځ توپیر څه دی واضح یې کړئ؟



له ټولگي څخه بهر فعالیت:

د اروپا له لویې وچې څخه د باندې د عیسویت د دین دخپریدو په هکله تبصره وکړئ او د جغرافیې په راتلونکي ساعت کې یې خپلو ټولگیوالو ته وړاندې کړئ.

ج- د تائوییزم taicism او شینتوییزم shintoism آینونوپه هکله څه پوهېږئ؟

د نړۍ د ادیانو نقشه په (۱۲۳) مخ کې ولولئ او د تائوییزم او شینتوییزم د آیین ساحه په کې په نښه کړئ. تائو په چینی ژبه کې د لارې او طریقې په معنای دغه ښوونځی یا مکتب د چین په لوی فیلسوف لاو تزو او یا لاووتان پورې اړه لري. یو افسانوي سړی چې د څېړني او مطالعې خاوند و، د هغه د ژوندانه د سرگذشت په هکله کوم معلومات په لاس کې نه شته. آن دا چې د موجودیت حقیقت یې هم له پوښتنې لاندې دی.

داسې روایات شته چې دغه شخصیت د چو په ایالت کې له میلاد څخه مخکې په ۶۰۴ کال کې نړۍ ته راغی او ځینې دهغه د زېږېدلو نېټه له میلاد څخه مخکې ۵۰۷ کاله بولي.

د تائوییزم فلسفه د کنفسیوس له عصر څخه په چین کې مخکې ده.

د چین قوم او ملت په دغې عقیدې ولاړ دی. د تائوییزم آیین په ۱۶۵ میلادي کال کې د هوان له خوا د هان د لړۍ خاقان په واسطه رسمي شو او دهغه په نوم یې معبد جوړ کړ، خو دومره زیات پرمختګ یې ونه کړ. د تانګ د لړۍ بنسټ اېښودونکي په ۶۱۸ میلادي کال کې په هغه ایمان راوړو. له دې څخه وروسته تائوییزم په سازماني بڼه رسمي دین شو.

• شینتوییزم په لغت کې (د خدایانو د لارې) په معنای او د جاپان د خلکو آیین دی.

ددې آیین له مخې زیات شمېر خدایان شته، چې امپراطور هم د خدایانو له ډلې څخه شمېرل کېږي. دغه آیین د جاپان له میلاد څخه په مخکې تاریخ پورې اړه لري.

جاپانیاں باور لري چې له جاپانیاڼو څخه پرته، نور باید په دې هېواد کې ژوند ونه کړي او جاپانیاں هم باید په بل ځای کې مړه نه شي. جاپانیاں خپله سیمه الهي هېواد بولي او نور هېوادونه ددې ځانګړتیاوو لرونکي نه گڼي.

د شینتوییزم آیین د جاپانیاڼو ډېر پخواني آیین دی، چې وروسته یې د کنفسیوس او بودایي آیینونو د اغېزو لاندې تحول وکړ. اوسنی بڼه یې اداب، عنعنات، د مقدسو ځایو زیارت، جشنونه او عمومي اخترونه دی. دغه مسألې په مذهبي اړخ غلبه لري. ددې آیین پیروان په جاپان او د ختیځې آسیا په زیاترو هېوادونو کې ژوند کوي

په ټولگي کې د ننه فعاليت:



زده کوونکي دې په دوه نغري ډلو وویشل شي د تائویزم او شنتویزم د آینونو د فلسفې په غوره ټکو دې پخپلو منځو کې مباحثه وکړي او د بحث پایلې دې خپلو ټولگیوالوته وړاندې کړي.



پوښتنې:

۱. د تائویزم د آیین معناڅه ده او دغه آیین په کوم هېواد کې رامنځته شو؟
۲. د تائویزم آیین پیروان په کومو هېوادونو کې استوګنه لري؟
۳. د شنتویزم د آیین معناڅه ده او دغه آیین په کومو هېوادونو کې زیات پیروان لري؟
۴. د شنتویزم د آیین له مخې د جاپانیانو نظر د خپل هېواد په باره کې بیان کړی.



له ټولگي څخه بهر فعاليت:

د تائویزم او شنتویزم د آیینونو په هکله خپل نظر په څو کرښو کې ولیکئ.

د-بودايي او هندوييزم د آيينونو په هکله څه پوهېږئ؟

په (۱۲۳ او ۱۲۹) مخ کې د نړۍ د مذهبونو نقشه په غور ولولئ او ووايست چې بودايي دين د نړۍ کومو هېوادونو ته پراختيا موندلې ده؟

بودايي Buddha آيين له ميلاد څخه پنځه پېړۍ مخکې رامنځته شو. د هغه موسس د سيدارتا په نوم يو شهزاده و چې په (۳۰) کلنۍ عمر کې يې په دې لار کې برياليتوب تر لاسه کړ او د گوتاما لقب ورته ورکړ شو څرنگه چې پوهې او حقيقت ته ورسیده نو بودا (عقل او فيلسوف) ونومول شو.

بودا باور درلود چې انسان بايد خپل نفساني تمايلات شهوت او غضب و پېژني او هغه کنترول کړي. بودايي آيين ډير پلويان او کتابونه لري چې له ټولو څخه يې زيات مقدس تری پتيکار (درې ټوکړۍ گل) دی. نن ورځ ددې آيين ډېر پيروان په هند، جاپان، چين، مغلستان، تبت، برما، کامبوج، تایليند بوتان او د نړۍ په نورو سيمو کې ژوند کوي. مقدس ښارونه يې په هند کې بنارس او په تبت کې لهاسا دی. دغه آيين د کامبوج، بوتان او تایليند په هېوادونو کې رسميت لري. د يادونې وړه چې د بودا مجسمه لومړی په گندهارا (د جلال آباد په هلمه کې) د کنشکا د حکومت په وخت کې په افغانستان کې جوړه شوې وه. وروسته په باميانو کې لويې مجسمې په غره کې وتورل شوې او د بوديزم د زيارت کوونکو ډېر ستر ځای گڼل کيده. ددې آيين له سترو فرقو څخه لامائيزم دی. لامائيزم د بوديزم ځانگړی بڼه گڼل کېږي او زيات قلمرويي په تبت کې دی چې د کار واک يې د روحاني رئيس په لاس کې دی چې لا ما نومېږي.

هندوييزم Hinduism يو ټولنيز مذهبي سيستم دی چې د ۱۵۰۰ ميلادي کال په شاوخوا کې يې په هندوستان کې رواج درلوده. نن ورځ د هند زياتره خلک ددې آيين پيروان دي.

ددې آيين ځانگړتيا دروح تناسخ دی. د هندوانو په باور هر انسان په نړۍ کې د خپلو نیکو او بدو عملونو مسؤل دی. د هغوی په باور که چېرې انسان خپل ژوند په سمه توگه سرته ورسوي، نو روح يې دښه سړي جسم ته او که بد کاره اوسي نو روح يې د مجازاتو له پاره د بد سړي جسم ته آن دا چې حيواناتو ته انتقالېږي او تر هغه وخته دې کار ته دوام ورکوي تر څو چې انسان نیک کارونه سرته ورسوي.

هندوان بايد طبقاتي قوانين مراعات کړي او داسې باور ولري چې د هغو په رعايت سره بيا په دې نړۍ کې زېږېږي او د هوسا ژوند خاوندان به شي. د هندوانو آيين درې خدايان لري برهما (د موجوداتو خالق)، ویشنو (د موجوداتو د ساتنې خدای) او شيو (د موجوداتو د له منځه وړلو خدای) ددې آيين مقدس کتاب ويدا (د برهمنانو ودا Vda) نوم لري. دغه کتاب دهند دارايانو له پاره هم سپيڅلی (مقدس) دی، چې د سانسکریت په ژبه ليکل شوی دی. د هند ددې پخواني دين اصول مذهبي سرودونه او دستورونه گڼل کېږي. چې لرغونتوب يې له ميلاد څخه ۷ پېړۍ مخکې دی.

هندوييزم په کاست مذهبي طبقاتو باور لري، چې نوموړي طبقات له برهمنانو، ویشيا، کشتريا او شودرا څخه عبارت دي. چې د هرې طبقې مقام په ټولنه کې ټاکل شوی دی د پاملرنې وړنقطه داده چې دنړۍ ټول لوی دينونه او آيينونه د آسيا په لويه وچه کې څرگند شوی دی او د نړۍ نورو سيموته خپاره شوي دي. هر دين او آيين په بيلابيلو فرقو ويشل شوی دی.



په ټولگي کې د ننه فعالیت:

زده کوونکي دې په مناسبو ډلو وویشل شي او هره ډله دې د بودیزم او هندوییزم د آیینونو په غوره ټکو بحث وکړي او د ډلې استازی دې د فعالیت نتیجه خپلو ټولگیوالو ته وړاندې کړي. ښوونکی دې موضوع را ټوله او د خپلو معلوماتو سره دې ټولگي ته وړاندې کړي.



پوښتنې:

لنډ ځواب ورکړئ

۱. د بودیزم د آیین بنسټ اېښودونکی څوک و، چېرې رامنځته شو او مقدس کتاب یې څه نوم مېږي؟
 ۲. د بودیزم آیین د نړۍ په کومو هېوادونو کې پیروان لري؟
 ۳. د هندوییزم په آیین کې د روح تناسخ په کومه معنا کارول کېږي؟
- لاندې جملې بشپړې کړئ:

۱. د هندوییزم مقدس کتاب په نوم یادېږي.

۲. د بودایانو مقدس کتاب په نوم یادېږي.



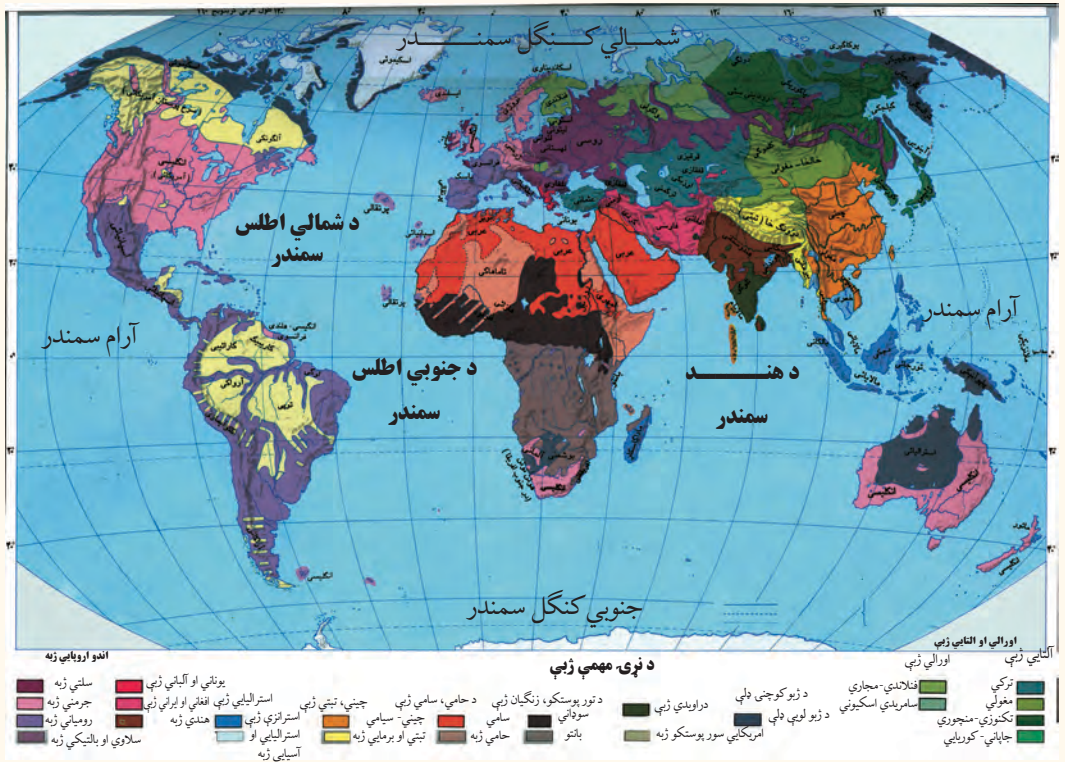
له ټولگي څخه بهر فعالیت:

گرانو زده کوونکو د بودیزم او هندوییزم په سیاسي فلسفي مسألو خپله تبصره ولیکئ او د جغرافیې د مضمون په راتلونکي ساعت کې یې خپلو ټولگیوالو ته ولولي.

اضافي معلومات

ګڼه	هېوادونه	هندواییزم	بودیزم	تانواییزم	شتواییزم	ګڼه	هېوادونه	هندواییزم	بودیزم	تانواییزم	شتواییزم
۱	اندونیزیا	% ۳/۴				۱۰	فجی	% ۳۳/۳			
۲	انګلیستان	% ۱				۱۱	شمالي کوریا	% ۲۲/۸			
۳	بنګله دیش	% ۱۲/۴	% ۰/۶			۱۲	مالیزیا	% ۱۹/۲			
۴	بوتان	% ۲۰/۵	% ۷۴			۱۳	میانمار	% ۷۲/۷			
۵	تاوان	% ۴۳/۴	% ۳۴/۵			۱۴	موريس	% ۴۹/۶			
۶	پاکستان	% ۱/۲				۱۵	نیپال	% ۸۰/۶			
۷	جاپان		% ۸۴/۲			۱۶	ویتنام	% ۴۹/۲			
۸	چین	% ۸/۵	% ۲۰/۱			۱۷	هند	% ۸۱/۳	% ۹/۱		
۹	سنگاپور	% ۴۲/۴									

آیا د نړۍ مهمې ژبې پیژنی؟



پورتني نقشه په غور سره مطالعه کړئ. د دې نقشې مختلف رنگونه دنړۍ د بيلابيلو ژبو ښکارندويي کوي.

ژبه دصوتي سمبولونو دقراردادي کسب کوونکي سيستم څخه عبارت ده، چې انسان دهغې په وسيله خپلې تجربې تبادلې کوي او راتلونکو نسلونو ته يې ليردوي. ژبه د پوهولو او را پوهولو (د افهام او تفهيم) وسيله اود علايمو سيستم دی، چې دپوهې د انتقال او حاصلولو، معاشرې او دخلکو دتفاهم له پاره کارول کيږي او د انسانانو دکار او فعاليت په بهير کې منځته راغلې او په تدريجي ډول يې تکامل کړی. خبرې کول انسان ته ددې توان ور بخښي چې خپلې تجربې وساتي او هغه راتلونکي نسل ته وليردوي. د دنيا هغه ژبې چې يوه ريښه ولري د ژبو دکورنۍ په نوم ياديږي. دنړۍ د ژبو کورنۍ په لاندې

ډول دي:

الف: اندو اروپايي ژبې: د ژبو دغه برخه د ژبو د ډلو ډيره پراخه ډله ده، چې د اندو اروپايي په بيلابيلو څانگو (لاتين، بالتیک، سلاويک، جرمانیک، اريک او ارمني) ويشل شوې ده.

ب: دنيگرو ژبه کې لاندې دوه ژبې شاملې دي:

۱- د سوډان په جنوب، د چاد په جمهوريت، نايجريا او د افريقا په استوايي هيواد نوکي خلک په دې ژبې خبرې کوي.

۲- **د بانټو ژبه:** دکانگو، زمبيا او انگولا دحوزې خلک پرې خبرې کوي.

ج: حامي او سامي ژبه: په عربي آسيايي او دافريقا د شمالي برخې په هيوادونوکي اکثريت لري.

• **سامي ژبه:** د عربستان په ټاپو وزمه، د مصر په عربي جمهوريت، ليبيا، الجزاير، مالي او په مراکش کې مروج ده.

• **دحامي ژبه:** په حبشه، الجزاير، نايجر او دسنيگال په يوه برخه کې خلک پرې خبرې کوي.

د التايي او اورالي ژبو کې لاندې پنځه ژبې شاملې دي:

۱- د فن په ژبه د الپ، فنلنډ، اويستاک او د اروپايي روسيې شمالي خلک پرې خبرې کوي.

۲- **ترکي:** په ترکيه، ترکمنستان، ازبکستان، قزاقستان، قرغزستان، چين او افغانستان کې پرې خبرې کوي.

۳- **منگوليايي:** په منگوليا (مغلستان) او د چين په شمال کې خلک پرې خبرې کوي.

۴- **د توگوس ژبه:** د سايبيريا په شمال کې په تيره بيا د تايگا او تندرا سيموکې مروج ده.

۵- جاپاني او کورايي ژبه: د جاپان په ټاپوگانو او د کوريا په ټاپو وزمه کې خلک پرې خبرې کوي.

نورې ژبې:

- ۱- ماليزيائي او پولنزيائي ژبه: ماليزيائي او پولنزيائي ژبه د جاوا، سوماترا په ټاپوگانو، د کمبوديا په يوه برخه او د بورنيو په ټاپوگانو کې رواج لري.
- ۲- دامريکا اصلي او بومي ژبه د امازون په حوزه کې مروج ده.

- ۳- د دراويدن ژبه: د هند په جنوب کې او د سربلانکا په يوه برخه کې رواج لري.
- ۴- چيني ژبه د يوې کتلې په توگه د چين په هيواد کې رواج لري.

اضافي معلومات

د نړۍ مهمې ژبې چې زيات ويونکي لري. (شميرې په ميليون تنو)

ژبه	مورنۍ ژبه	د ژبې ټول ويونکي
ماندرين چينايي	۸۵۳	۱۲۱۳
هندي	۳۴۸	۴۵۴
اسپانوي	۳۴۶	۴۰۱
انگليسي	۳۳۰	۴۸۷
بنگالي	۱۹۷	۲۰۴
عربي	۱۹۵	۲۳۰
پرتگالي	۱۷۳	۱۸۶
روسي	۱۶۸	۲۸۰
جاپاني	۱۲۵	۱۲۶
آلمان	۹۸	۱۲۴
فرانسوي	۷۴	۱۲۶
مالاي انډونيزيائي	۵۴	۱۶۴
ايتالوي	-	۶۲
اردو	-	۶۱

آيا پوهيږئ چې د نړۍ زيات خلک په کومو ژبو خبرې کوي؟

- مخامخ جدول په غور ولولئ
- ماندراتي ژبه د ختيځې آسيا له ډير و معروفو ژبو څخه ده. د نړۍ پنځمه برخه خلک يا تقريباً ۸۵۳ ميليونه چينايي او په مجموع کې په نړۍ کې ۱۲۱۳ ميليونه تنه ژوندکوي.

- انگليسي ژبه چې د اند و اروپايي ژبو يوه څانگه ده چې ميليونونه انسانان په هغې خبرې کوي او د نړۍ په ۵۰ هيوادونو کې رسمي ژبه ده.

• عربي ژبه چې دسامي ژبې له کورنۍ څخه ده دنړۍ له ۲۲ هيوادونو څخه په زياتو هيوادونوکې رسمي ژبه ده او په هغې خبرې کوي. د يادونې وړ ده چې د ژبې پر اختياله سياسي حدودو سره مطابقت نه لري. ښايي په يوه هيواد کې څو ژبې وي. خو د يوه هيواد ټول هغه خلک چې د هغه هيواد په سياسي حدودوکې ژوند کوي، خپل ځان په يوه واحد پورې تړي او په هغې افتخارکوي. لکه افغانستان. په دې هيواد کې له ۳۰ څخه زياتې ژبې او لهجې شته خو ټول په دوو رسمي ژبو پښتو او دري ليکل او لوستل کوي او په هغوسيموکې چې زياتره خلک يې په اوزبکي، ترکمني، بلوچي، پشه يي، نورستاني او پاميري ژبو خبرې کوي د پښتو او دري سر بېره په هغه سيمه کې دريمه رسمي ژبه ده.

• برعکس په نړۍ کې داسي هيوادونه هم شته چې بيل سياسي حدود لري خو په يوه ژبه خبري کوي لکه عربي ژبه چې په عربستان، سوريه، عراق، مصر، ليبيا کې مروج او رسمي ژبه ده.

په ټولگي کې د ننه فعاليت:



زده کوونکي دې په مناسبو ډلو وویشل شي او دنقشي له مخې دی دنړۍ ډلوبو ژبو سيمي وټاکي. د ډلې استازی دې لاس ته را غلي معلومات خپلوټو لگيو لو ته وړاندې کړي. ښوونکی دی وړاندې شوي مطالب د خپلو معلوماتوسره په مناسب ډول را ټول کړي.

پوښتنې:



لنډ ځواب وليکئ

۱- ژبه يا لسان تعريف کړئ

- ۲- دسامي او حامي ژبې دنړۍ په کومو هیوادونو کې رواج لري؟
- ۳- د پنځو هغو لویو ژبو نومونه واخلى چې زیات شمیر خلک پرې خبرې کوي؟
- ۴- ولې په نړۍ کې چینایي ژبه زیات و یونکي لري؟
- ۵- په اندو اروپایي ژبو کې کومې ژبې شاملې دي؟
- ۶- التایي او اورالي ژبې په کومو ځانگو ویشل شوي دي؟

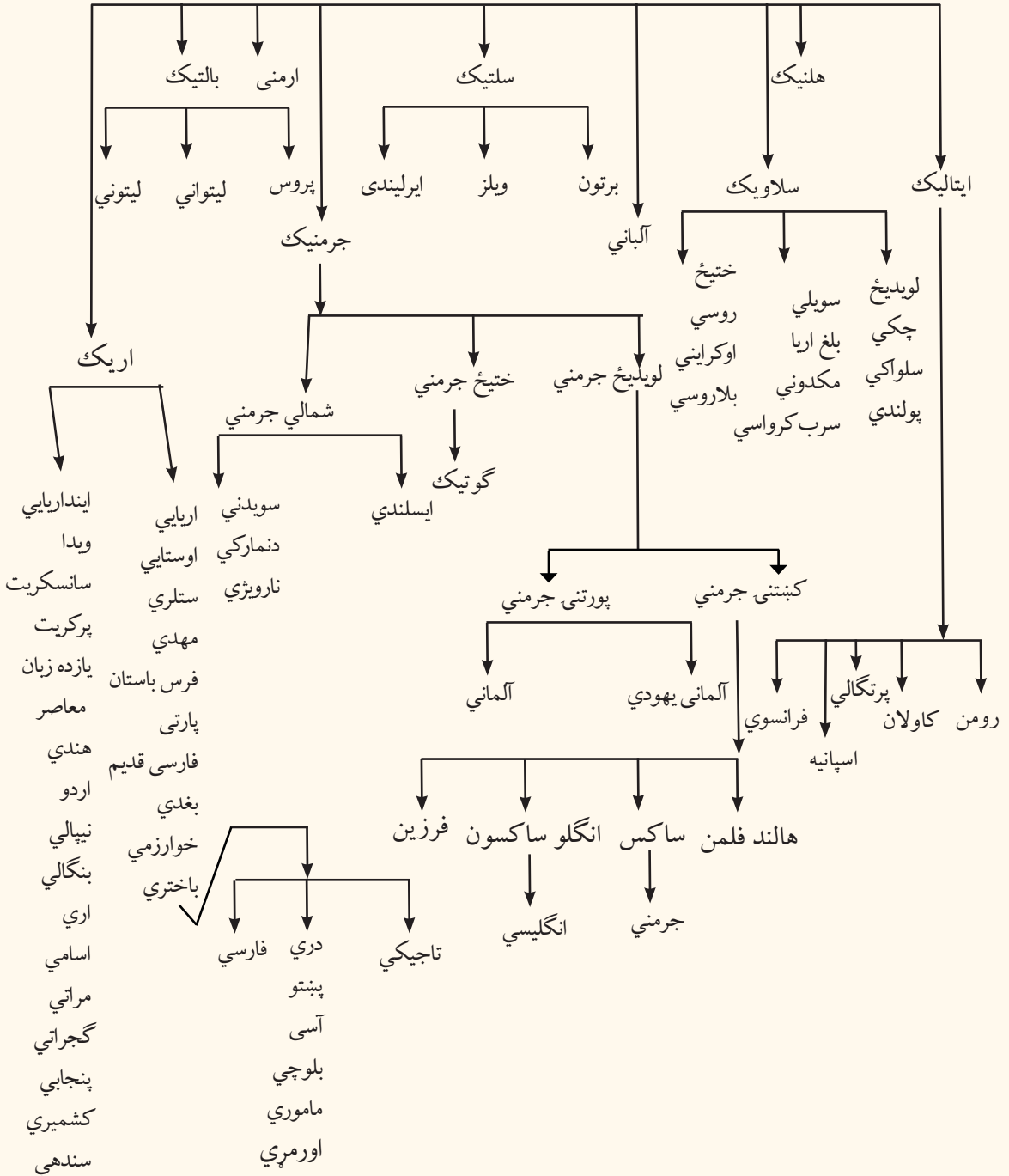
له ټولګي څخه بهر فعالیت:



زده کوونکي دې د ژبې د اهمیت په باره کې څو کرښې ولیکي او د جغرافیې په بل ساعت کې دې خپلو ټولو لګیوا لو ته وړاندې کړي.

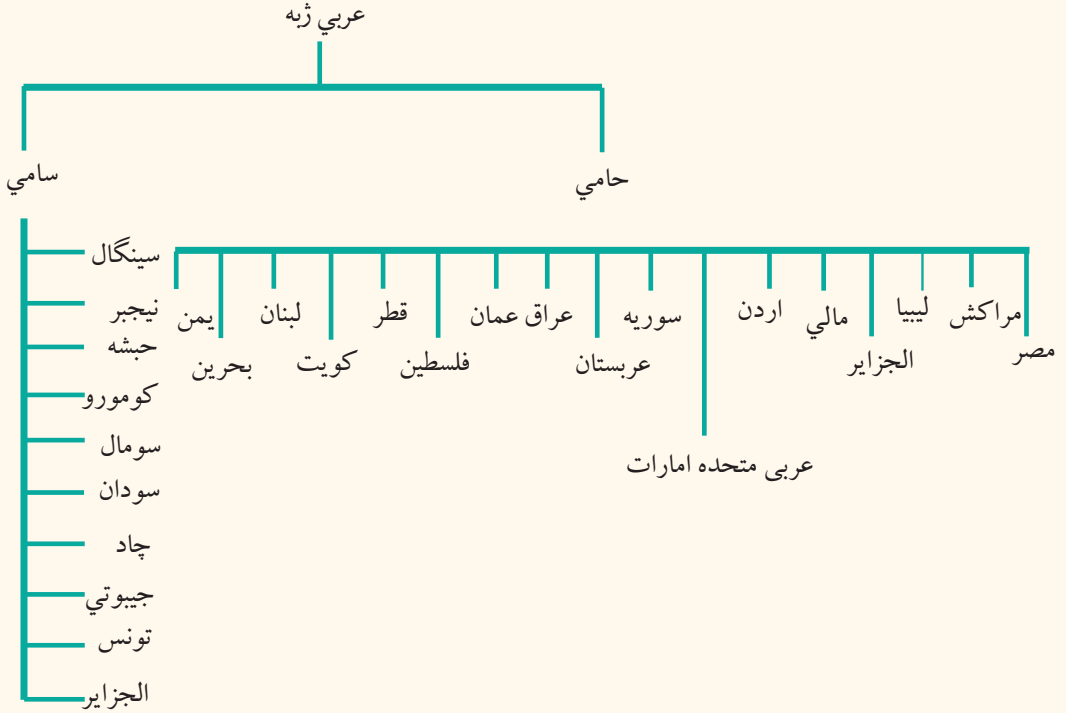
اضافي معلومات:

د اندو اروپايي د ژبو کورنۍ



الف-عربي ژبه

ستاسې په نظر عربي ژبه په کومو هیوادونو کې رسمي ژبه ده؟



په (۱۳۷) مخ کې د نړۍ د ژبو نقشه ولولئ د حامي ژبې د نفوذ ساحه له سامي څخه بيله کړئ.

دا خبره څرگنده ده چې دهیوادونو او ملتونو تر منځ اړیکې د ژبې د پراختیا او د اړیکو نه شتون د ژبې بیلوالی او محدودیت منځته راوړي. لکه عربي ژبه چې د اسلام د مقدس دین د خپریدو او نفوذ له مخې په ټوله نړۍ کې خپره شوې ده.

عربي ژبه د نړۍ د مسلمانانو د مقدس کتاب ژبه ده. نو له همدې امله ځانگړی ارزښت لري.

سره له دې چې قرآن کریم په ډیرو ژبو ژباړل شوی دی، خو د نړۍ ټول مسلمانان هغه په اصلي ژبه یعنی عربي تلاوت او زده کوي. نو له همدې امله ټولو مسلمانانو ته په کار ده چې د قرآن کریم او نبوي احادیثو

د تلاوت او د الهي احكامو څخه دگټې اخېستنې له پاره د عربي ژبې قاعدې زده كړي. هغه وخت د عربي ژبې زده كړې د قواعدو تدوين او وضع كولو ته اړتيا پېښه شوه، چې د اسلام دين غير عرب هيوادونو او قومونو ته ورسیده او هغه هيوادونه او قومونه د عربي ژبې حوزې ته ورننوتل او په دوامدار ډول يوبل ته نژدې شول. لږ لږ يې د عربي په زده كړه پېل وكړ، خبرې او ليكل يې پرې كول. ددغو قواعدو ترتيب كولو دوه هدفونه درلودل.

۱- په قرآن، نبوي احاديثو او نورو شرعي حكمونو باندې د آسانه پوهېدلو له پاره .

۲- د نورو ژبو له تصرف څخه د عربي ژبې ساتنه.

په دې ډول عربي ژبې د اسلامي نړۍ په زياتو سيمو كې د محلي ژبو ځای ونیوه آن دا چې په منځنيو ميلادي پېړيو كې علمي او ادبي كتابونه چې پوهانو ليكل او راټولول، زياتره په عربي ژبه وو. نوله همدې امله عربي ژبه د خپل عصر علمي او نړيواله ژبه گڼل كېده. اوس هم د نړيوالو ژبو په ډله كې ده.

عربي ژبه د آسيا او افريقا په لويو وچو سربېره دمسلمانانو دنفوذ په پايله كې د اروپا په جنوب كې تر پرتگال هم ورسیده. تر اوسه د عربي اصطلاحات د ادبي، نظامي، تجارتي، بېرۍ چلونې، ستورو پيژندنې او علومو (په كيميا، رياضي، بيالوژي، طب او درمل جوړولو) كې كارول كيږي. دغه اصطلاحات زياتره په فرانسوي، ايتالوي او اسپانوي ژبو كې رواج شوي دي.

د نړۍ له ۲۲ هيوادونو څخه چې رسمي ژبه يې عربي ده. لس هيوادونه په افريقا او ۱۲ هيوادونه يې په آسيا كې پراته دي.

اضافي معلومات:

د نړۍ هغه شمېر هیوادونه چې رسمي ژبه یې عربي ده په لاندې ډول دي.

آسیایي هیوادونه چې رسمي ژبه یې عربي ده:	افریقایي هیوادونه چې رسمي ژبه یې عربي ده:
۱- اردن	۱- الجزایر
۲- عربو متحده امارات	۲- تونس
۳- سوریه	۳- جیبوتي (عربي او فرانسوی)
۴- عراق	۴- چاد عربي او فرانسوی
۵- عربستان سعودي	۵- سوډان
۶- عمان	۶- سومالي
۷- فلسطين	۷- کومورو
۸- قطر	۸- لیبیا
۹- کویت	۹- مصر
۱۰- لبنان	۱۰- مراکش
۱۱- یمن	
۱۲- بحرین	

په ټولګي کې د ننه فعالیت:



- زده کوونکي دې په مناسبو ډلو وویشل شي او هره ډله دې په لاندې موضوعګانو پخپلو منځنو کې بحث وکړي. اوپایلې دې د ډلې استازي خپلو ټولو لګیوا لوت ته وړاندې کړي.
- هغه هیوادونه چې رسمي ژبه یې عربي ده لست یې کړئ.
 - ولې د اروپا په لویه وچه کې تر اوسه د عربي ژبې لغات او اصطلاحات په کیمیا، ریاضي، بیالوژي، طب او داسې نورو برخو کې استعمالیږي.



پوښتنې:

لنډ ځواب ورکړئ

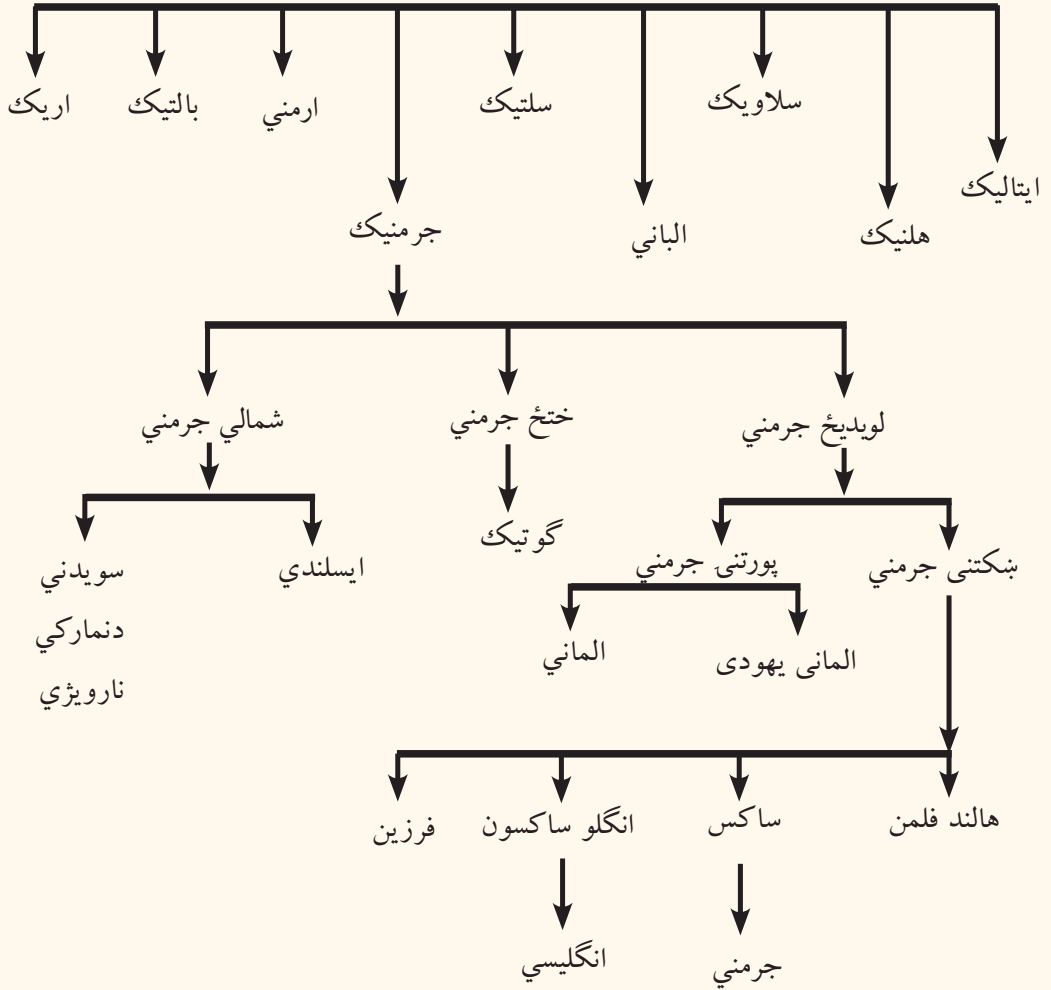
- ۱- ولې عربي ژبه په زیاترو هېوادونو کې خپره شوې ده؟
- ۲- عربي ژبه د آسیا او افریقا په څو هیوادونو کې رسمي ژبه ده؟
- ۳- د عربي ژبې ریښه معرفي کړئ.



له ټولګي څخه بهر فعالیت:

ولې د عربي ژبې زده کړه د نړۍ د ټولو مسلمانانو له پاره اړینه ده؟
 تر دې سرلیک لاندې مضمون ولیکئ او د جغرافیې په راتلونکي ساعت کې یې خپلو
 ټولګیوالو ته وړاندې کړئ.

دهند او اروپايي ژبې جدول



ولې دنړۍ زیاتره خلک د انگلیسي ژبې له یادونې سره مینه لري؟

پورتني جدول په غور ولولئ او وویاست چې انگلیسي ژبه د اندو اروپايي ژبو له کومې ډلې څخه ده؟

د انگلو ساکسون د استعمار له دورې څخه د فرانسې د نور مانډي خلکو ترفتحې پورې یعنې له ۵۰۰

څخه تر ۱۰۶۶ ميلادي كال پورې په انگلينډ كې ډيره پخوانۍ مروجه ژبه انگليسي وه. دغه سوچه تو تيايي ژبه ډيره مشكله او له خولهدجو څخه مركبه وه دنور مانديانو پواسطه د انگلينډ له فتحي څخه وروسته فرانسوي ژبه هم مروجه شوه او تر ۱۲۵۰ ميلادي كال پورې انگليسي او فرانسوي ژبه په انگلينډ كې استعماليدې.

وروسته ددې دوو ژبو ديوځاي كېدو او گډيدو پواسطه بالاخره يوه بله ژبه د سوچه انگليسي ژبې په نوم منځته راغله. نوله همدې امله انگليسي ژبه له توتاني Teutonie (پخوانۍ انگليسي)، لاتيني او فرانسوي ژبې (نورماندي) څخه مركبه ده. بياهم انگليسي ژبه د عمومي خصوصياتو او دصرف او نحوې دجوړښت له مخې په بشپړ ډول توتاني شميرل كيري.

وروستنۍ سترتغير چې په انگليسي ژبه كې را منځته شويوله بل پسي دبهرنيو كلماتوله داخليدلوڅخه عبارت دى، چې د معاصرو علومو د پرمختگ او د عمومي افكارو د پراختياپورې اړه لري. يو زيات شمېر كلمې په دې ژبې ورزياتې شوي، چې ډيرې يې يوناني، فرانسوي او ځينې عبراني او لاتيني دي.

انگلستان په ۱۹ پېړۍ كې يوه پراخه مستعمراتي امپراطوري جوړه كړه، چې لمريه كې نه پرېوته. په هغو مستعمروكې د اقتصادي منابعو د ښكياك سربيره دخپل فرهنگ په خپرېدوې هم پيل وكړ. چې غوره برخه يې انگليسي ژبه او مذهب دى. هغه خلك چې مورنۍ ژبه يې انگليسي ده. په نړۍ كې يې شمېر ۳۳۰ ميليونو ته رسېږي. دنړۍ د ۱۵۷ ميليونو نور نفوسو لپاره دويمه ارتباطى ژبه ده.

همدا رنگه انگليسي د بریتاني په پخوانيو ۴۹ مستعمره هيوادونوكې چې اوس يې خپلواكي هم اخیستې ده او دهيواد اصلي ژبې يې ډير انكشاف نه دى كړى، انگليسي ژبه دلومړنۍ رسمي ژبې او په ځينو هيوادونوكې د دويمي رسمي ژبې په توگه منل شوې ده.

د انگليسي ژبې زده كړه ديوې نړيوالې ژبې په توگه د نړيوال تفاهم سربيره په جغرافيه او نورو علموكې د معلوماتي منابعو او معتبروماخذونويه توگه په انترنېټ، كتابونو او مجلوکې له انگليسي څخه گټه اخلي.

په ټولگي کې د ننه فعاليت:



زده کوونکي دې په مناسبو ډلووویشل شي او د انگلیسي ژبې د پرمختیا په لاملونو دې پخپلو منځو کې بحث وکړي او د ډلې استازي دې دخپل بحث نتیجه خپلو ټولو لگیاو لو ته وړاندې کړي. ښوونکی دی د ډلې بحث له خپلو معلوماتو سره را ټول کړي او ټولگي ته دې توضیح کړي.

پوښتنې:



لنډځواب ورکړئ

- ۱- انگلیسي ژبه ولې دنړۍ په ۹۴ هیوادونو کې د رسمي ژبې په توگه منل شوېده؟
- ۲- انگلیسي ژبه له کومو پخوانیو ژبو څخه جوړه شوېده؟
- ۳- ولې زیاتره ځوانان غواړي انگلیسي یاده کړي؟
- ۴- دنړۍ ټولو لویو وچوته د انگلیسي ژبې د خپریدو لامل توضیح کړئ.

له ټولگي څخه بهر فعاليت:



د انگلیسي ژبې د زده کړې د اړتیا په هکله څوکرښې ولیکئ او دجغرافیې د مضمون په را تلونکي ساعت کې یې خپلو ټولو لگیاو لو ته وړاندې کړئ

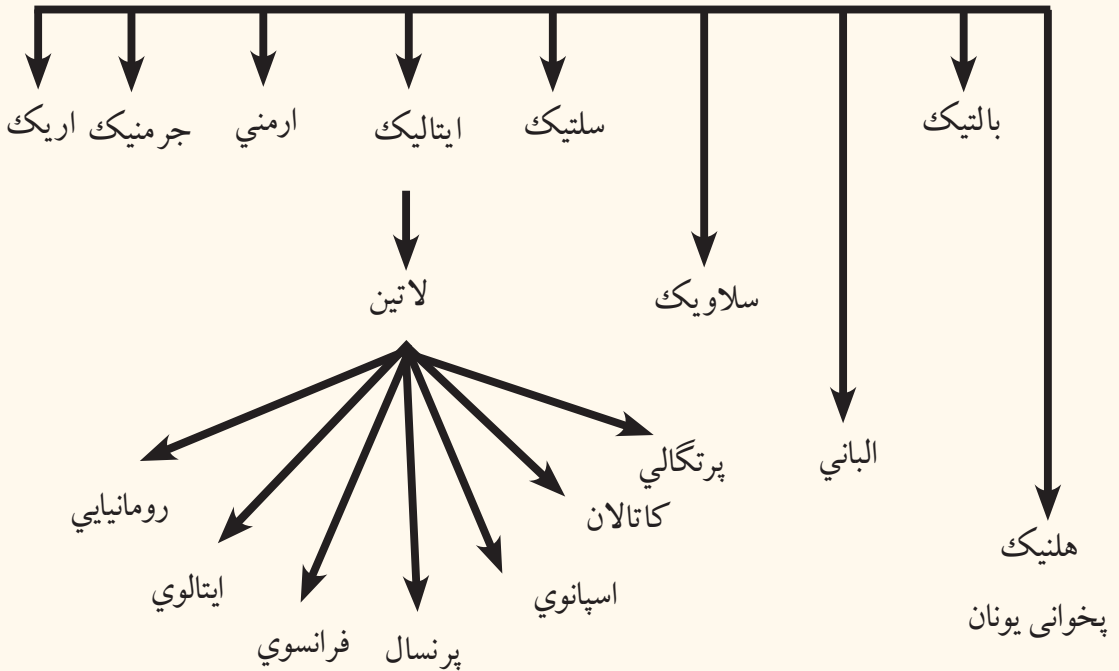
اضافي معلومات

هغه هيوادونه چي په هغې کي انگليسي درسي ژبې په توگه منل شوې ده (له انگلستان پرته په ۴۹ هيوادونو کي رسمي ژبه ده)

د امريکا په لويه وچه کې	د افريقا په لويه وچه کې	د اروپا په لويه وچه کې	په اوقيانوسيه کې	د اسيا په لويه وچه کې
۱- انټيگوا او باربودا	۱- اوگاندا	۱- انگلستان	۱- استراليا	۱- سينگاپور
۲- دامريکا متحده ايالتونه	۲- بوتسوانا	۲- ايرلنډ	۲- تونگا	
۳- بهاما	۳- تانزانيا	۳- مالټا	۳- تو والو	
۴- باربادوس	۴- زيمبابوي	۴- ساموا		
۵- بليز	۵- ناميبيا	د سلیمان ټاپوگان		
۶- ترينيداد او توباگو	۶- سوازيلنډ	۶- فيجي		
۷- جاميکا	۷- سراليون	۶- کريباتي		
۸- دومنيکا	۸- شيل	۸- مارشال		
۹- سنت کيټس او نويس	۹- گانا	۹- ميکونزي		
۱۰- سنټ لوسيا	۱۰- کامرون	۱۰- ناورو		
۱۱- سنټ وینسنت او کرناډين	۱۱- کينا	۱۱- وانو اتو		
۱۲- کاناډا	۱۲- گامبيا	۱۲- پا پواکيني		
۱۳- گرینادا	ليستو	۱۳- پالائو		
۱۴- گويانا	۱۴- لائبريا			
	۱۵- مالايو			
	۱۶- موريس			
	۱۷- نايجريا			
	۱۸- زامبيا			
	۱۹- جنوبي افريقا			

ج-لاتيني ژبه (فرانسوي، اسپانوي اوپرتگالي)

دهند او اروپايي ژبې کورنۍ



د (۱۳۷) مخ نقشه او پورتنی جدول ولولئ او وویاست چې د لاتيني ژبې څخه کومې ژبې منځته راغلې دي.

رومي ژبه (د ایتالیایانو پخوانۍ ژبه) د اندو اروپايي ژبو د کورنۍ له ډلې څخه ده چې د پخواني روم د امپراتورۍ لاندې سیمو کې پرې خبرې کېدلې. په لويديځه اروپا کې یې ورو ورو تغیر وکړ او په محلي لهجو تبدیله شوه لکه د اسپاني، پرتگالي او فرانسې او په ختیځ کې د ارومانيې او البانيې دخلکو ژبې د بېلگې په توگه یادولای شو. د رومیانو پخواني آثار له میلاد څخه مخکې په شپږمې پېړۍ پورې اړه لري، خو د لاتین ادبیات په درېمې پېړۍ کې پېل شول. فرانسوي، اسپانوي او پرتگالي ژبې د ژونديو ژبو له ډلې څخه دي چې د استعمار

او نورو لاملونوله مخې دژبې د اصلي ويونکو له حوزې څخه د باندې يې رواج و مونده او پراخ گرامر لري. اسپانيه، پرتگال او فرانسه هغه هيوادونه دي چې د جغرافيايي اکتشافاتو ورسته يې وکولای شول چې د امريکا، افريقا، آسيا او اوقيانوسيه کې لوېې مستعمرې لاس ته راوړي په هغو سيموکې يې خپل کلتور او فرهنگ هم مروج کړ، چې ددغه کلتوري نفوذ يوه مهمه برخه ژبه گڼل کيږي.

د اروپا د استعمارلاندي هيوادونو کې د څوپيريو ولکې په پای کې د مستعمره هيوادونو محلي او سيمه يزو ژبو وده ونه کړه. سره له دې چې خپلواکه هيوادونه هم دي، خودپخوانيو استعماري ژبو د نفوذ له مخې يې خارجي استعماري ژبه دخپل هيواد د رسمي ژبې په توگه منلې ده. لکه فرانسوي ژبه د نړۍ په ۲۶ هيوادونوکې، اسپانوي ژبه د نړۍ په ۱۹ هيوادونوکې او پرتگالي ژبه دنړۍ په ۶ هيوادونوکې رسمي او لومړنۍ ژبه او په ځينو هيوادونو کې دويمه رسمي ژبه ده.

د زياتو معلوماتو له پاره هغه جدول چې ضميمه دی ولولئ.

د لاتیني ژبې څانگې چې د ژبې د اصلي ټاټوبي څخه بهر په نورو هېوادونو کې د رسمي ژبې په توگه منل شوی دی

د لاتیني ژبو څانگې

فرانسوی		اسپانوی		پرتگالی	
لویه وچې	هېوادونه	لویې وچې	هېوادونه	لویې وچې	هېوادونه
اروپا	موناکو	اروپا	اندورا	افریقا	انگولا
آسیا	فلپین	افریقا	گینه استوایی	جنوبی	برازیل
افریقا	منځنی افریقا	جنوبي امریکا	ارجنتاین	امریکای	ختخ تیمور
افریقا	بنین	جنوبي امریکا	اکوادور	آسیا	ساوتومه و ترنسیپ
افریقا	برونډی	جنوبي امریکا	السلوادور	افریقا	کپ ورود
افریقا	یورکینافاسو	جنوبي امریکا	اوروگوای	افریقا	گینې بیسوا
افریقا	توگو	جنوبي امریکا	بولیوی	افریقا	
افریقا	چاد	جنوبي امریکا	پیرو		
افریقا	جیبوتی	جنوبي امریکا	پاناما		
افریقا	روندا	جنوبي امریکا	پاراگوئی		
افریقا	ساحل عاج	جنوبي امریکا	دومینکین		
افریقا	سینګال	جنوبي امریکا	چیلی		
افریقا	سیشل	جنوبي امریکا	کلمبیا		
افریقا	کومورو	جنوبي امریکا	کستاریکا		
افریقا	ګا بون	جنوبي امریکا	کیوبا		
افریقا	گینه	جنوبي امریکا	گو ایتیمالا		
اروپا	لوکز مبورک	جنوبي امریکا	نیکاراګوا		
افریقا	مادغسکر	جنوبي امریکا	ونزوئلا		
اروپا	موناکو	جنوبي امریکا	هندوراس		
افریقا	نیجریا				
افریقا	نیجر				
افریقا	کامیرون				
افریقا	کانګو برازیل				
افریقا	کانګو کنشاسا				
منځنی امریکا	هایتی				
شمالي امریکا	کانادا (انګلیسی و فرانسوی)				

په ټولگي کې د ننه فعاليت:



زده کوونکي دې په مناسبو ډلو وویشل شي او هره ډله دې دلایینې ژبې د یوې څانگې (پرتگالي، اسپانوي، فرانسوي او نورو) په باره کې پخپلو منځو کې بحث وکړي. چې ولې دنړۍ په زیاتو هیوادونو کې نوموړې ژبې تر اوسه پورې رسمي ژبې دي؟ د بحث پایلې دی د ډلې استازی ټولگي ته بیان کړي او بنوونکی دی د ډلې د بحث پایلې له خپلو معلوماتو سره راټول کړي او ټولگي ته دې وړاندې کړي.

پوښتنې:



لنډ ځواب ورکړئ:

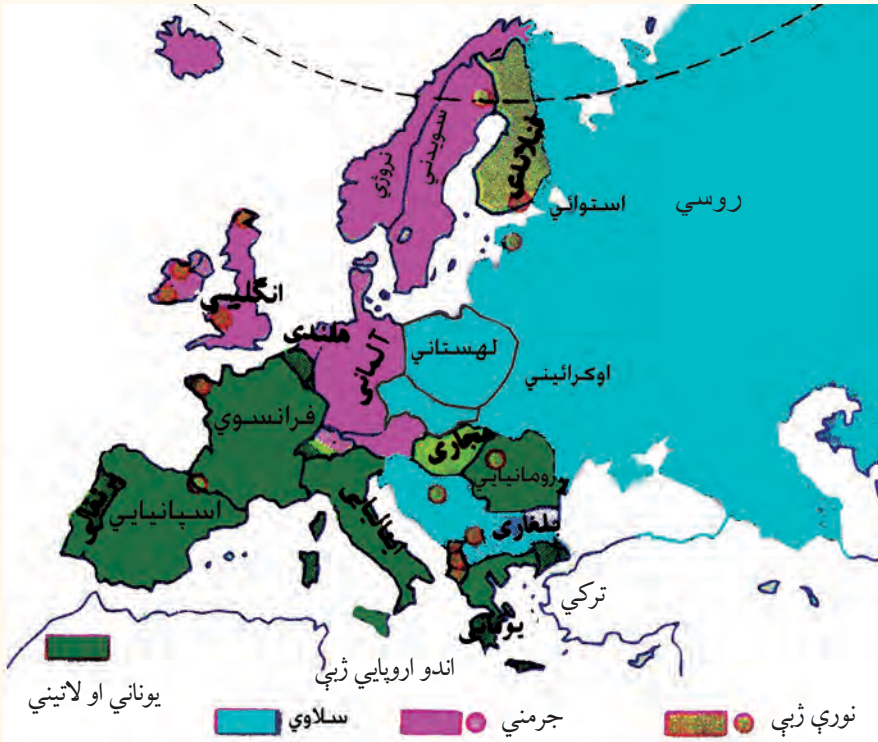
- ۱- دلایینې ژبې دکورنۍ څانگې معرفي کړئ.
- ۲- فرانسوي ژبه، له فرانسې پرته دنړۍ په څو هیوادونو کې رسمي ژبه ده؟
 - ۱- فرانسوي ژبه دلاندې ژبو دکورنۍ یوه څانگه ده
- الف: جرمنیک ب: لاتین ج: سلاوي د: سانسکرت
- ۲- اسپانوي او پرتگالي ژبې د لاندې ژبو څانگه ده.
- الف: سلاوي ب: پخواني یونان ج: لاتین د: جرمنیک

له ټولگي څخه بهر فعاليت:



د هغه جدول په مرسته چې دهیوادونو رسمي ژبه پکې فرانسوي، پرتگالي او اسپانوي ده د نړۍ په نقشه کې تثبیت کړئ او د جغرافیې د مضمون په راټلونکي ساعت کې یې خپلو ټول لگيوا لو ته وړاندې کړئ.

د- جرمني ژبه



د جرمني ژبې د جغرافیایي ویش نقشه ولولئ او په نقشه کې د جرمني ژبې د نفوذ ساحه تثبیت کړئ. د زیاتو معلوماتو لپاره اړونده جدول هم ولولئ.

یوې قبیلې له میلاد څخه مخکې د لومړنۍ زرکلنې دورې په منځنۍ برخې کې د المان په شمال اود سکندیناوي دټاپووزمې په جنوب کې ژوند کاوه او له دویمې میلادي پېړۍ څخه وروسته یې نورو سیموته مهاجرت وکړ، چې اوس، هلته استوګن دي. د جرمني ژبه د اندو اروپایي ژبو له ډلې څخه ده چې انګلو ساکسون ژبې (الماني، هالنډي او انګلیسي)، د ایسلیند دخلکو ژبه او د سکندیناوي ژبې (دناروي، سویډن او ډنمارک د خلکو ژبې) او ګوتیک ژبه Gothic احتواکوي. د ګوتیک د ژبې اثار د میلادي څلورمې پېړۍ را پدېخوا موجود دي.

جرمني ژبه په دوه محلي لهجو ویشل شوې ده:

۱- د لوړو سیمو جرمني ژبه، چې په جنوبي برخه کې پرې خلک خبرې کوي او د جرمني ژبې رسمي ادبیات جوړوي.

۲- د اوارو سیمو جرمني ژبه چې د هیواد په شمالي جلگو کې پرې خبرې کیږي. له دې ژبې څخه فلاندي او هالنډي ژبې مشتق شوي دي. الماني ژبه د المان د هېواد سربېره د اطریش، لختین شتین اوسویس (الماني، فرانسوي او ایتالوي رسمي ژبې دي). د لوکزمبورگ ۷۰ سلنه خلک او د هالنډ یوشمېر خلک په الماني ژبه خبرې کوي.

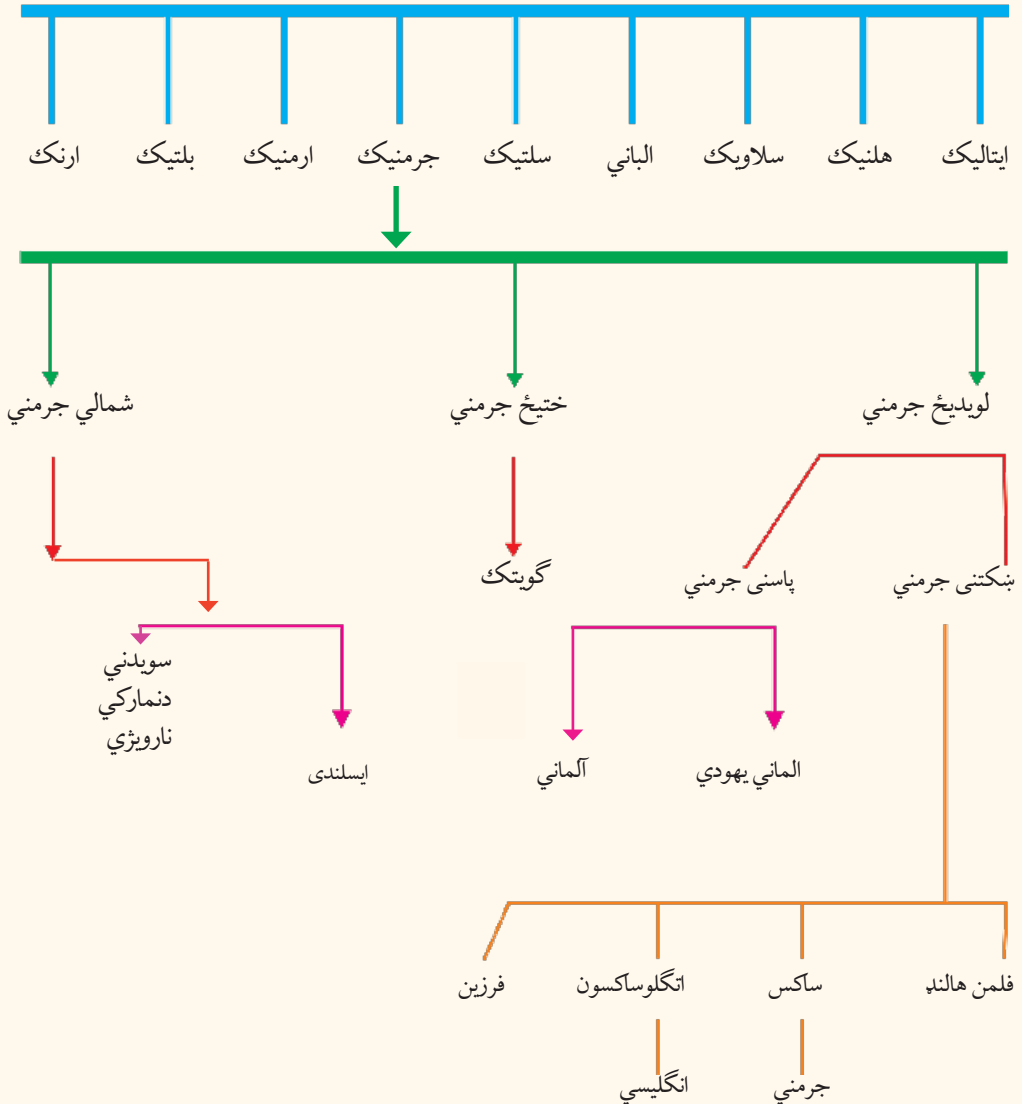
د یادني ورده چې انگلیسي ژبه هم د جرمني د اوارو سیمو دخلکو د ژبې یوه څانګه ده چې د انګلو ساکسون Anglo Saxon د قبیلې د خلکو پواسطه په شپږ مه میلادي پېړۍ کې انګلستان ته یو وړل شوه او وروسته د فرانسوي تورو سره ګډه شوه. د انګلستان خلک او د ایرلینډ د یوې برخې خلک په هغې ګرېږي.

په ټولګي کې د ننه فعالیت:



ټولګي دې په مناسبو ډلو وویشل شي او هره ډله دې د نقشې له مخې د جرمني ژبې سیمې په نښه کړي او د ډلې استازی دې هغه هېوادونه چې په هغې کې الماني ژبه ډیره مروجه ده خپلوتو لګیوا لو ته ور وپېژني.

د اندو اروپايي کورنۍ ژبې





پوښتنې:

لنډځواب ورکړئ

- ۱- د اروپا کومې ژبې د جرمني ژبې یوه برخه ده؟
- ۲- د جرمني ژبې څخه کومې ژبې را بیلې شوي دي؟
- ۳- د سکندنوي ټاپو وزمې هغه ژبې چې جرمني رېښه لري نوم واخلي؟
- ۴- الماني ژبه د کومو هېوادونو رسمي ژبه ده؟

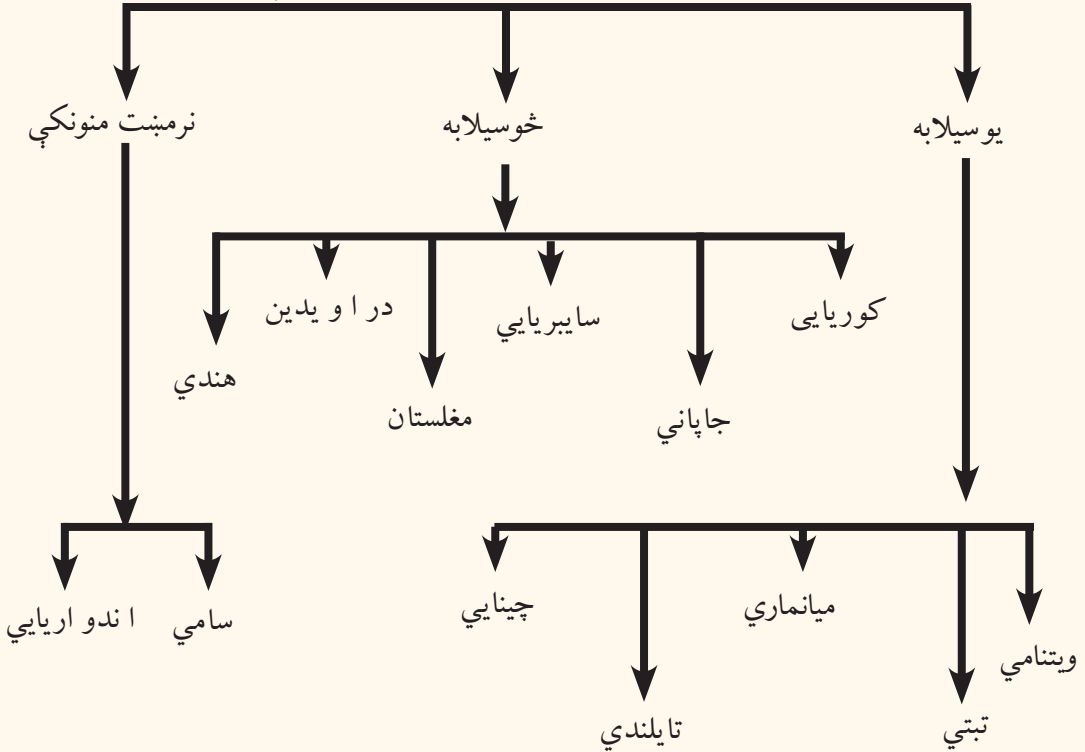


له ټولګي څخه بهر فعالیت:

د اروپا د لویې و چې نقشه یې لیکنې رسمه کړئ. د ژبو د عمومي جدول په مرسته د جرمنیک (لویدیځ، ختیځ او شمالي جرمني) د هند او اروپایي ژبو د کورنۍ سیمې او څانګې په بیلابیلو رنگونو رنگ کړئ او د جغرافیې د مضمون په را تلونکي ساعت کې یې خپلو ټولو لګیوالو ته وړاندې کړئ.

هـ- د چینایي، جاپاني او اندونزیایي ژبو په باره کې څه پوهیږئ؟

د اسیا د لویو وچو ژبې



د (۱۳۷) مخ نقشه او چارت ولولئ او ویاست چې چینایي ژبه له جاپاني څخه څه توپیر لري؟

چینایي ماندرین ژبه لکه د ویتنامي (انامي)، تبتی، تایلندي او میانماري (برمایي) ژبو په څیر د ژبو پوهنې د اصطلاح له مخې یوهیجا یي (یوسیلابه) ژبو دي. د دې ژبې کلمې جلا سیلابونه لري. دکلماتو صرف ډیر لږ دهغو دتغیر سبب گرځي.

چینایي ژبه ډیره پخوانۍ او د پراخو ادبیاتو لرونکې ده. د دې ژبې الفبا څلور سوه توري لري او مصوره ده او څوسوه فرعي نښې هم لري. نو له همدې امله د هغې زده کړه ستونزمنه ده او هر څوک هغه نه شي زده کولای او د ولس د بیسوادۍ سبب گرځیدلی وه. له همدې امله دهغې د اسانولو له پاره هڅې شوي دي. ددې ژبې ویونکي پخپلو منځو کې نژادي او توکمیزې اړیکې لري او دشمبر له مخې د آسیا د لویې وچې نیم نفوس جوړوي او دنفوذ ساحه یې د آسیا په ختیځ کې ده.

- په خو سیلابه ژبني ډله کې کوریایي، جاپاني، د سایبریا د خلکو زیاته برخه، منځنۍ آسیا، د راویدی او هندي ژبې شاملې دي. چې په دې ژبني ډله کې د پسوند او پیشوند ډېرې پېچلې کلمې موجودې دي.

• هغه ژبې چې نرمښت منونکې دي د جلا عنوانو تر سرليک لاندې مخکې معرفي شوي دي. اندونزيایي ژبه: چې د مالایي ژبې (د ماليزيا د هېواد د جنوبي برخې) څخه بيله شوې ده د اندونزيا د هېواد رسمي ژبه ده. په ۱۹۲۸ ميلادي کال کې د ملي ژبې په توگه وټاکل شوه. د وخت په تيريدو د عربي، چيني، هالنډي، پرتگالي، سانسکريتي، تاميلي، فرانسوي او انگليسي ژبې کلمې په دې ژبې کې شاملې شوې دي. د بېلگې په توگه په دې ژبې کې تقريباً د هالنډي ژبې ۷۰۰۰ کلمې شته دي.

په ټولگي کې د ننه فعاليت:



زده کوونکي دې په مناسبو ډلو وویشل شي. د ژبو د کورنۍ نقشه دې په (۱۳۷) مخ کې په غور ولولي او بیا وروسته دې د زېږو ستو خلکو ژبې د هغو د اړونده هېوادونو سره یو د بل په مرسته وټاکي ښوونکي دې د فعالیت پایله د خپلو معلوماتو سره راټول کړي

پوښتي:



لنډ ځواب ورکړئ

۱- د ماندرين چينايي ژبې ځانگړتياوې و وياست.

۲- آسيایي يو سېلابه ژبې کومې دي؟

سم ځواب انتخاب کړئ

۱- چينايي ژبه په کومه کورنۍ پورې اړه لري:

الف: يوسيلابه ب: څوسيلابه ج: نرمښت منونکي د: ټول ځوابونه سم دي

سم ځوابونه غوره کړئ.

۱- اندونزيایي ژبه له مالایي ژبې څخه بيله شوې ده.

۲- ماندرين چينايي ژبه ۴۰۰ توري او څوسوه نښې لري؟

۳- د ويتنامي، تبتي، تایلنډي او برمايي ژبې څوسيلابه ژبې دي؟

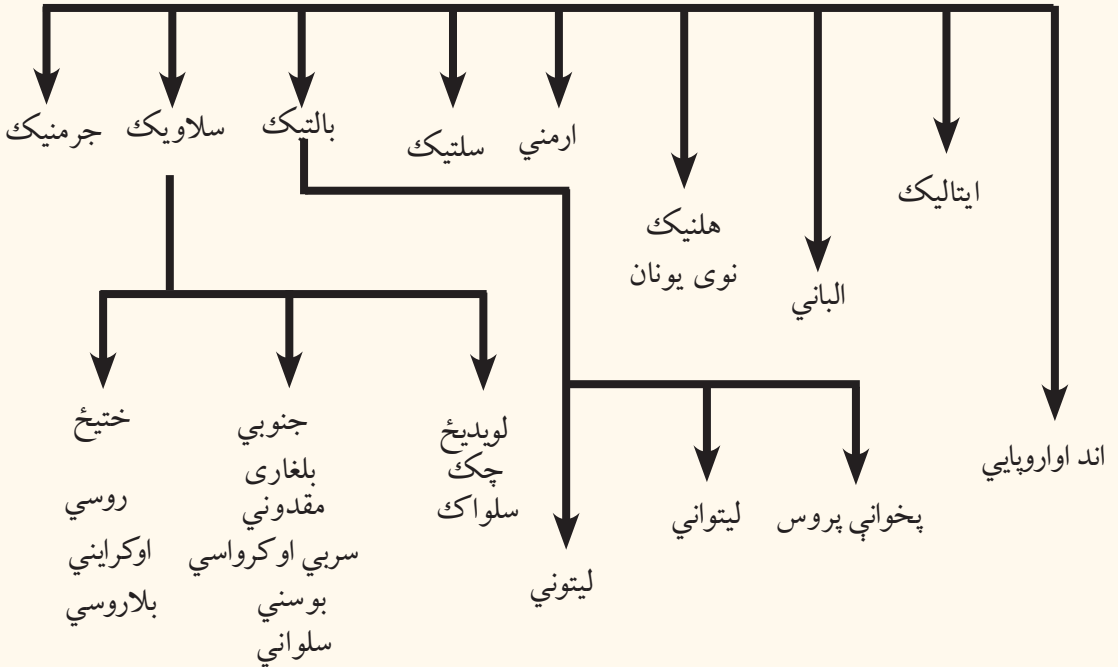
له ټولگي څخه بهر فعاليت:



د آسيا د لويې وچې نقشه بې ليکنې رسم کړئ او يو سيلابه او څوسيلابه ژبې په جلا رنگونو رنگ کړئ او په راتلونکي ساعت کې يې خپلو ټولو لگيو او ته وړاندې کړئ.

و- د بالټیک- لیتواني او سلاوي ژبې

دهندو اروپایي ژبو کورنۍ



د (۱۳۷) مخ نقشه او پورتنی گراف په غور ولولئ او وویاست چې سلاوي ژبه په کومه ژبنۍ کورنۍ پورې تړلې او کومې څانگې لري؟

سلاوي ژبه د هندو اروپایي ژبو له څانگو څخه ده چې په ختیځه اروپا او د بالکان په نورو سلاوي هېوادونو کې مروج ده.

د مسیحیت د لومړۍ پېړۍ پیل کې بالټیکې او سلاوي قبیلو د ختیځې اروپا لویه برخه نیولې وه، چې په لويديځ کې یې د جرمني قبیلې او په جنوب کې یې اریایي قبیلو استوګنه درلوده د پنځمې پېړۍ څخه وروسته سلاویانو د خپل نفوذ سیمه په بېلابېلو خواوو کې پراخه کړه او اوس سلاوي ژبې د ختیځې اروپا په پراخه ساحه کې رواج لري.

سلاوي ژبه زیاتې محلي لهجې لري چې ډیره مهمه یې روسي ژبه ده، چې دسایبریا په ټایگا، د ترانس سایبریا د اوسپنې کرنې په دواړه اړخونو، آذربایجان او اوکراین کې مروج ده.

سلاوي ژبه په څو محلي لهجو هم ویشل کیږي، چې د هنګري او بالکان یوڅه خلک او همدارنگه چکیان، سلواکیان، پولنډیان، سریان، بوسنیان، کرواتیان، بلغاریان او دمقدونې خلک په هغې خبرې کوي.

دبالتیک دسمندرگی د سواحلو د خلکو ژبه د سلاوي له ژبې سره ورته والی لري او لیتوانیایي ژبه هم د سلاوي ژبې د کورنۍ څانگه گڼل کیږي.

په ټولگي کې د ننه فعالیت:



زده کوونکي په مناسبو ډلو وویشئ چې د سلاوي ژبې د غوره څانگو په باره کې پخپلو منځوکې بحث وکړي او د بحث پایله دې خپلو ټولو لگیاو لو ته وړاندې کړي. ښوونکی دې د بحث موضوع را ټوله او له خپلو معلوماتوسره یو ځای دې ټولگي ته وړاندې کړي.

پوښتنې:



لنډ ځواب ورکړئ

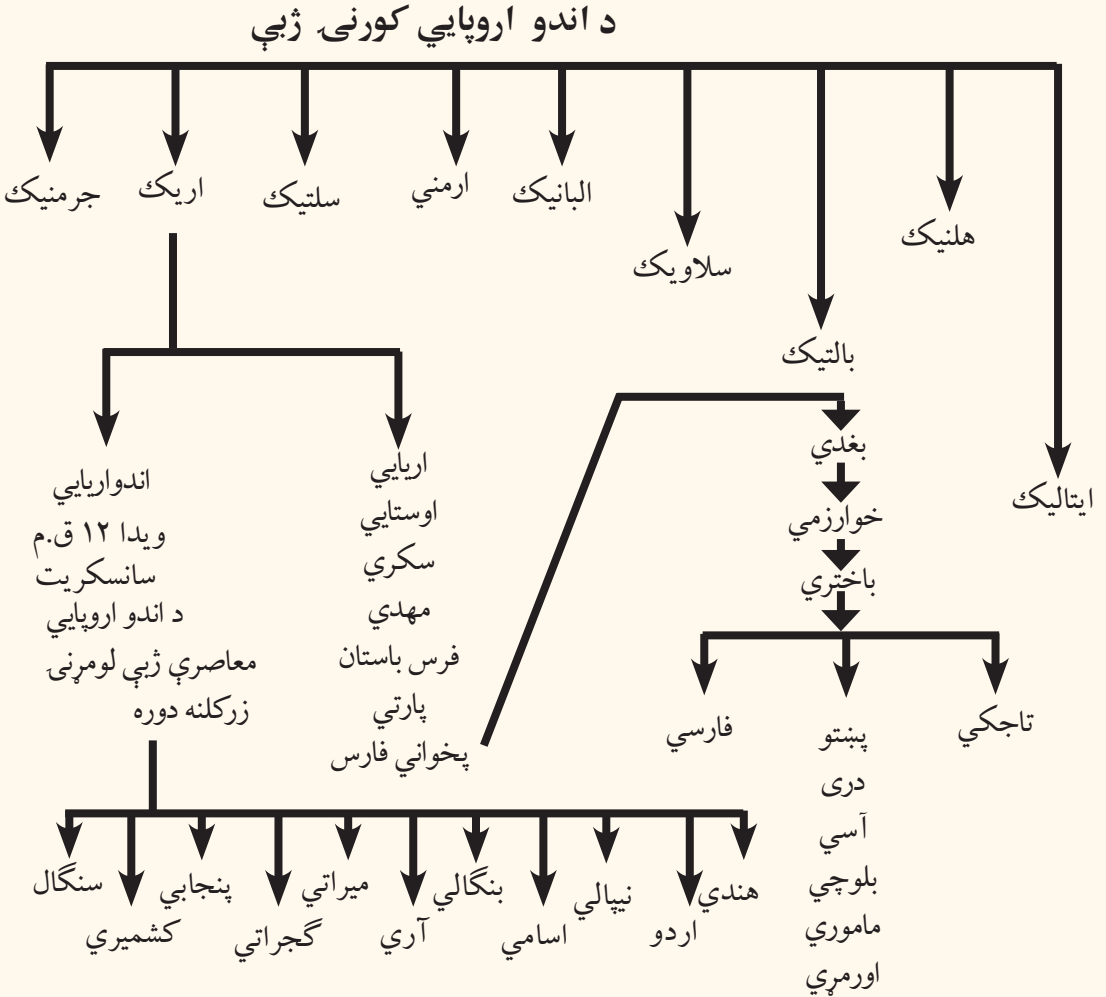
- ۱- سلاوي ژبه د کومې ژبنۍ لویې کورنۍ څانگه گڼل کیږي؟
 - ۲- سلاوي ژبه د اروپا په کومه برخه کې زیات ویونکي لري؟
 - ۳- د سلاوي ژبې مهمې څانگې معرفي کړئ.
 - ۴- دبالتیک ژبه په کومو څانگو ویشل شوې ده؟
- سم ځوابونو په نښه کړئ
- ۱- سلاوي ژبه د اندو اروپایي ژبو څانگه ده ()
 - ۲- سلاوي ژبه زیاتره په ختیځه اروپا او د بالکان په نورو هېوادونو کې مروج ده؟
 - ۳- د سلاوي ژبې مهمه څانگه روسي ژبه ده ()

له ټولگي څخه بهر فعالیت:



د اروپا نقشه بې لیکنې رسم کړئ او د سلاوي ژبې د نفوذ سیمه په یورنگ په نښه کړئ او د جغرافیي د مضمون په راتلونکي ساعت کې یې خپلو ټولو لگیاو لو ته وړاندې کړئ.

ز-هندي او اردو ژبې



د (۱۳۷) مخ نقشه او پورتنی جدول په غور ولولئ او وویاست چې د اردو ژبه د کومې ژبنۍ ډلې پورې اړه لري.

هندي ژبه د هند اصلي او رسمي ژبه ده. اردو د پاکستان او بنگالي د بنگله دیش اصلي او رسمي ژبې دي.

اردو په تاریخي لحاظ د سانسکریت څخه مشتق شوې ده له فارسي سره گډه شوې او له هغې څخه یوه نوي ژبه د اردو په نوم جوړه شوې ده. په پای کې دیلابیلو لاملونو له مخې د پاکستان، بنگله دیش او هند د یوې برخې گډه ژبه گڼل کیږي. دغه ژبه د شاه جهان د حکومت په دوره کې ۱۶۲۷-۱۶۸۵ میلادي کال پورې (په هند کې د تیموریانو دکورنۍ بنسټ ایښودونکي د ظهردین بابر لمسی چې دهند د مغلانو په نوم هم یادېږي) د اردو ژبې په نوم ونومول شوه.

د اردو ژبه د پخوانۍ فارسي، ترکي او هندي ژبو څخه جوړه شوې ده. لومړني بنسټونه يې په هند کې د مسلمانو فاتحينو په راتلو سره ايښودل شوي دي. څرنگه چې دسلطان محمود غزنوي او د هغه د زوي د سلطان مسعود د حکومتونو په دوره کې هند يانو ته د غزنويانو په دربار کې لوړې څوکۍ ورکړل شوې وې. په هند کې د غزنويانو د دربار ژبه هم فارسي (دري) او دهند مسلمانو حاکمانو په همدې ژبې خبرې کولې. نو له همدې امله ددري ژبې اغيزې په اردو ژبه کې را منځته شوي. د اردو اصطلاح ترکي ده او معنا يې عسکر او د عسکرو قرارگاه ده.

څرنگه چې ترک، فارس او هنود عسکر په يوه عسکري غونډ ځاي کې يوځای وو، نو د اردو ژبه له دريو ژبو ترکي، دري او هندي څخه جوړه شوه او د اردو په ژبه ياده شوه، چې وروسته د انگليسانو د څو پېړيو د واکمنۍ په واسطه انگليسي اصطلاحات پرې هم ور زيات شول.

په ټولگي کې د ننه فعاليت:



په ټولگي کې دننه فعاليت:

زده کوونکي په دوه نفري ډلو وویشئ هره ډله دې د اردو ژبې په تاريخچه پخپلو منځوکې بحث وکړي او د بحث موضوع دې خپلو ټولو لگيو لو ته وړاندې کړي. د مضمون بنوونکي دې د بحث موضوع را ټوله کړي او لاس ته راغلي معلومات دې له زده کوونکو سره شريک کړي.



پوښتنې:

لنډ ځواب ورکړئ

۱- د اندو اريايي معاصرې ژبې کومې دي؟

۲- د اردو ژبه ولې په دې نوم يادېږي؟

لاندي جملې بشپړې کړئ.

۱- د اردو ژبه د د حکومت په دوره کې د اردو په نوم ياده شوه.

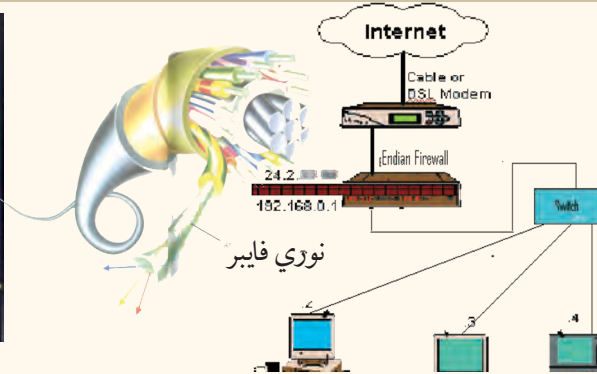
۲- د اردو ژبه له _____، _____ څخه جوړه شوې ده.



له ټولگي څخه بهر فعاليت:

زده کوونکي دې د جنوب ختيځې آسيا نقشه بې ليکنې رسم کړي او اردو ژبي هېوادونه دې په جلا رنگ، رنگ کړي او د جغرافيه د مضمون په راتلونکي ساعت کې دې په ټولگي کې زده کوونکو ته وړاندې کړي.

اووم څپرکي 1-7 اړيکي او نړيواله کېدنه Globalization



آيا د نړيوال کيدو له موضوع سره آشنای؟

هغه پرمختگونه چې د پوهنې په بيلابيلو برخو کې رامنځته شوي. لکه مخابرات، په تيره بيا هغه معلومات چې د مصنوعي سپور مکيو، رادار او انټرنېټ او داسې نورو څخه لاس ته راځي، نړۍ يې له پخوا څخه ډيره نژدې کړې ده. دهېوادونو ترمنځ اړيکي يې ټينگې کړي دي.

له ليرې څخه معلوماتو Remote sensing په سوداگرۍ، صنعت، ترانسپورت (ځمکنې، هوايي او سمندري)، فرهنگ او د هيوادونو او له يوې سيمي څخه بلې سيمي ته د مالونو او کاليو په لېږدولو کې آسانتيا رامنځته کړې ده. نو همدې ټولو مسائلو نړيوال کيدنه، په تيره بيا په جغرافيه کې الکترونيکي مخابراتو او د مصنوعي سپور مکيو اړيکو خپل حقيقي اړخ غوره کړی دی. د یادونې وړ اسانتياوې يې د جغرافيه په بيلابيلو برخو کې برابرې دي او په دې اساس يې نړۍ په يوه لوړ مقياس د انسانانو گډوډ جوړ کړ د ساينس او تکنالوژۍ د پرمختگ، فضاتو د انسان سفر، فضايي تم ځايونو شتون او مصنوعي سپور مکيو ليرل د ځمکې شاوخوا ته انسان وکولای شول چې د هغو په مرسته په بيلابيلو برخو کې اړيکي يوله بل سره نژدې کړي. د مثال په ډول د مصنوعي سپورميو په مرسته انسان کولای شي له کابل څخه نيويارک، کاناډا او دنړۍ نورو لېږو سيمو ته، له مکاني واټن سره سره په ډير لږ وخت کې تماس ونيسي.

په دې سربېره په سوداگرۍ، بانکي چارو، د اسعارو د تبادلې او راکړې ورکړې، فرهنگي او ترانسپورتي چارو او نظامي چارو کې دنړۍ ټولې سيمي د معلوماتو د پوښښ لاندې راولي. نو زماني او مکاني واټن د تماس لپاره نژدې شوي دي، چې د نړيوالتوب Globalization مفهوم افاده کوي. د اړيکو پرمختگونه يا Telecommunication لکه پرمختللي رادار، تيلفونونه، موبایل، انټرنېټ، فکس او د نړۍ د سپورمکيو سيستمونه د نړۍ هيوادونه يوبل ته نژدې کړي او هغه واټن چې دنړۍ د هېوادونو ترمنځ موجود و، له منځه لاړ.

د ارتباطي او اطلاعاتي وسيلو چټکه وده لکه فکس، کمپيوتر، انټرنېټ، تيليفون، تلویزيون او داسي نورو د هېوادونو د نژدې کولو لپاره زمينه برابره کړې ده د مثال په ډول که چېرې د وارداتي مالونو

وارد وونکي وغواړي له جاپان څخه زيات سوداگريز مالونه او کالي نيويارک او دوبي ته وارد کړي. وارد وونکي د انټرنېټ په مرسته د اړوند و کمپنيو څخه د مالونو دلېر ډولو غوښتنه کوي. په لومړي پړاو کې فرمايش اخيستل کېږي او وروسته صادر وونکې کمپنۍ د مالونو بيه، کرایه او د مالونود بيمه کولو اطلاع ورکوي.

واردوونکي د الکترونيکي اوز په واسطه د مالونو بيه د انټرنېټ پواسطه مقابل لوري بانکي حساب ته استوي. او وخت پر وخت د انتقالاتي وسايلو خط السير د مصنوعي سپور مکيو، انټرنېټ، موبایل پواسطه کنټرولېږي، ترڅو چې مالونه اخيستونکي ته ورسېږي. دلېردونې دابهير د نوري فايبر يا الکترونيکي اسانتيا وو په مرسته اسانه شوي ده او د زرگونو کيلو مترو واټن په يوه دقيقه کې تنظيموي. دغه په نړۍ کې د ارتباطي وسايلو دنړيوالتوب گټه ده.

په ټولگي کې د ننه فعاليت:

گران زده کوونکي په دريو ډلو له ویشلو څخه وروسته دنړۍ د دريو مهمو وسايلو لکه راديو، تلويزيون او تيليفون په باره کې بحث وکړي او د بحث پايله دې د ډلې استازي خپلو ټولو لگيو لو ته بيان کړي او ښوونکي دې له خپل معلومات سره د فعاليت نتيجه را ټوله کړي.

پوښتنې:

- له څلور ځوابونو څخه سم ځواب غوره کړئ
- ۱- گلوبلايزيشن عبارت دي له:
 - الف: اړيکې ب: نړيوالتوب ج: سياسي نظام د: د اړيکو نشتوالی
 - ۲- تيليفون دلاندې موضوعاتو لپاره کارول کېږي:
 - الف: د کاليوتبادله ب: د سوداگريزو کاليو تسليمول ج: د موسسو او افرادو ترمنځ د اړيکو تامينول
 - د: هيڅ يوسم نه دی
 - جمله بشپړ کړئ:
 - ۳- انټرنېټ په نړۍ کې
 - لنډ ځواب ووايست:
 - ۴- د عصري پرمختللو ارتباطي وسايلو نومونه واخلي.

له ټولگي څخه بهر فعاليت:

ارتباطي وسايل کوم مفهوم افاده کوي او ارزښت يې په کومه برخه کې دی؟ مهرباني وکړئ هغه په کتابچو کې وليکئ او د جغرافي په راتلونکي ساعت کي يې شرح کړئ.

د اړیکو دغوره وسیلو ډولونه:



د اړیکو څو ډوله وسیلې پېژنئ؟

د پیغام په انتقال کې د جغرافیایي حقایقو موندل، د نورو علومو په څیر، د اړیکو د وسیلو پورې اړه لري. نوله همدې امله د اړیکو د وسایلو غوره ډولونو زده کړه د جغرافیایي څانګې د زده کوونکو لپاره حتمي او اړین کار دی. په تیره بیا د نن ورځې څېړنې د لمړیز نظام، مصنوعي سپورمکیو او د هغه تحولاتو او د حقایقو د موندلو په هکله لکه کانونه، کرنیز زیانونه او داسې نور او همدارنگه نوي پرمختګونه د کایناتو او دسیارو په هکله د حقایقو موندل او د هغو اړیکې له ځمکې سره هغه اړینې مسألې دي چې د مخابراتي وسایلو پواسطه سرته رسیږي.

انسانانو د ژوندانه له لومړیو وختونو څخه په ځمکه کې له اشارو، نښو او ساده وسیلو څخه ګټه اخیستله. همدا رنگه ډول (دهل) او نغاره به یې وهله او بیا وروسته یې له اهلي حیواناتو څخه ګټه اخیستله او په پای کې له موټر، سیم لرونکي تېلفون موندلوګ او بې سیم تېلفون، رادیو، تلویزیون، انټرنېټ او رادار څخه یې ګټه اخیستله.

ډیجیټل تېلفون او موندلوګ څخه ګټه اخیستنه په اوسني وخت کې مخابراتي ستونزې حل کړي او یوله بل سره یې اړیکې ټینګې کړي.

د تیلی کمونیکشن په برخه کې اختراعګانو دنړۍ څېره بدله کړه او د اړیکو په سیستم کې پرمختګونه په هوانوردۍ، سمندري ترانسپورت او د حمل و نقل په ډیرو نورو برخه کې بنسټیز تغیرات رامنځته کړي. لوی بدلونونه په تیره بیاله دویمې نړیوالې جګړې څخه وروسته اختراعګانې چټکې شوې. ډله ییزې اړیکې (مېلپیا) په اروپا او امریکا کې د اړیکو معاصرې دستګاوې جوړې شوې.

د ارتباطي وسیلې په توګه د رادیو را منځته کیدلو، وکولای شول چې انسانان یوله بل سره نژدې کړي او د رادیو منځنۍ، لنډې، اوږدې او FM څپې لېرې واټنونه د غږ د خپرولو پواسطه نژدې کړي. د سوداګریز و مالونو اخبار خپرول، د تولیدي، صنعتي او تخنیکي مالونو اعلانول، ورځپاڼې، تلویزیون، انټرنېټ سپورمکی د اړیکو ډېرې لویې وسیلې شمېرل شوي، چې په جغرافیایي څېړنو کې ورڅخه زیاته ګټه اخیستل کېږي. د ګوګل Google د انټرنېټ سایټ کې هغه پروګرام چې د (PC

Glob) یا د نړۍ د اطلس په نوم یادېږي، ځای پرځای شوی دی چې اقتصادي او فزیکي، اوبو او هوا او داسې نورو په باره کې معلومات انسان ته ورکوي. فضايي او کیهاني سفرونه او د مصنوعي سپورمکیو او ځمکې تر منځ د اړیکو ټینګول په پرمختللي ډول بدل شوي دي او معاصرې کیهاني څېړنې وکولای شول چې د طبیعت د ځینو رازونو په پېژندلو او کشفولو کې له انسان سره په ډیره بڼه طریقه مرسته وکړي. په مصنوعي سپورمیکو کې د پرمختللو کمرو نصبول د ځمکې د کرې او سمندرو په باره کې د ځینو حقیقتونو د روښانه کولو سبب شوي دي او نوې موضوعګانې یې د ځنګلونو، کانونو، سمندرونو او د ژوندانه د چاپېریال په هکله سپړلي دي.

د انسان د ژوندانه په ټوله موده کې د اړیکو عمده وسیلو پر مختګ کړی دی چې لاندې برخې لري:

- ۱- لومړنۍ وسیلې: لکه الوتونکي (هدهد او کوترې) او اهلي حیوانات لکه لکه آس، اوبښ، خر، قاطر.
- ۲- عصری وسیلې: لکه د میډیا د اړیکو وسیلې (رادیو چې منځنۍ، لنډې، اوږدې او FM څپې لري)، تلویزیون، موبایل، کمپیوتر، انټرنېټ، مصنوعي سپورمۍ چې پاس ورڅخه یادونه وشوه.

په ټولګي کې د ننه فعالیت:



زده کوونکي په بیلو ډلو وویشئ، چې د اړیکو د وسیلو نومونه واخلي او د سپورمکیو نقش دفضا او ځمکې په نوو کشفیاتو کې بیان کړي.

پوښتنې:



سم ځواب وټاکئ:

۱- میډیا عبارت دی له:

الف: اخبار ب: ډله ییزې اړیکې ج: رادیو د: هیڅ یو

۲- د سپورمکیو څخه د جغرافیې په کومو مسألو کې ګټه اخیستل کېږي؟

۳- د اړیکو اصلي وسایل _____، _____، _____، او _____، احتوکوي.

له ټولګي څخه بهر فعالیت:



ګرانو زده کوونکو د تیلې کمونیکیشن په باره کې لنډ معلومات ورکړئ او له موبایل څخه ګټه اخیستنه پخپلو کتابچو کې ولیکئ او د جغرافیې د مضمون په راتلونکي ساعت کې یې ټولګي ته وړاندې کړئ.

الف: پُست post په نړۍ کې

ايا د پُست په باره کې معلومات لرئ؟

له ډيرې پخوا زمانې را هيسې په نړۍ کې پُستې شتون در لوده، چې نوموړي فعاليتونه په چين، مصر، يونان او د پخواني روم په امپراتورۍ کې له حيواناتو او الوتونکو څخه په گټه اخېستنه ليکونه او پيغامونه انتقاليدل. کله چې په اقتصاد کې مختلف شغولونه منځته را غلل نو د پُستي خدمتونوپه واسطه يې خپلې اړتياوې يې د اړيکو په برخه کې پوره کولې. په هغه وخت کې پُستي تشکيلات نيم دولتي وو، چې دغه حالت د منځنيو پېړيو تر نيمايي پورې دوام وکړ. خودغه کار ورو ورو تغير موند. کله چې غوښتنې زياتې شوې، پُست غوره پرمختگ وکړ.

همدا رنگه د امويانو او عباسيانو د امپراطورۍ په دوره کې د پُستې سيستم څخه گټه اخيستل کيده او هغه يې د ښارونو او هېوادونو د امنيت لپاره ډيره بڼه وسيله گڼله. د هارون الرشيد په زمانه کې خالد برمکي د امپراطورۍ د پُستي متصدي په توگه مقرر شوچه د البريد په نوم ياديده.

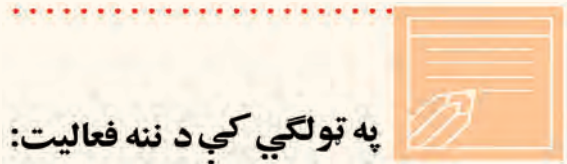
د چاپ د ماشين اختراع او په بيلابيلو هېوادونو کې د ليک لوست او لومړنيو زده کړو زياتيدل، دنوو لويو وچو کشفيدل، د حمل و نقل د وسايلو زياتوالي دتگ او راتگ لپاره اسانتياوې او دهغو تر منځه يې اړيکي زياتې کړې چې په پای کې په اړيکو کې وده زياته شوه.

په شپاړسمې ميلادي پېړۍ کې پُست د هېوادونو له سرحدونو څخه بهر شو او د فرانسوا تاکسي په همت لومړي ځل لپاره پُستي خدمتونه رامنځته شول او په اروپاکې شو هېوادونه د پُستي موادو چې يوازې ليکونه يې احتواکول، په تبادلې لاس پورې کړ.

په ۱۸ مې پېړۍ کې پُستې ساحه پراخه شوه او وېې کولای شول چې د اړيکو د يوې باوري وسيلې په توگه خلکو ته وسپارل شوه. هېوادونو خپل منځي د پُستي تبادلې لپاره دوه اړخيزې سراسرې موافقتنامې لاسليک کړې. دبخار د بېړيو اختراع او د اوسپنې کربنې د منځته راتللو سره پُستې فعاليتونه چټک شول. نړيواله پستي راکړه ورکړه د وخت د حمل و نقل له وسيلو څخه گټه اخېستنه، د پُستې تشريفاتو د ساده کولو او د اجرتونو په باره کې د يوډول توب له را منځته کېدلو پرته ممکن نه وه. نوله همدې امله راولانډ هل انگليسي Mr Rawland Hill په ۱۸۴۰ ميلادي کال کې نرخنامه او د هيواد د سرحداتو په دننه کې يوپنې پُستي ټکټونه رواج کړل.

لومړي ځل د نړۍ د پستي اتحاديې د ټولومتدنو هېوادونو ترمنځ په ۱۸۶۸ ميلادي کال کې

د المان د هېواد د پُست د ادارې دکارکوونکي هانري پواسطه طرحه شوه او خپل دولت ته يي وړانديز وکړ چې په پورتنۍ طرحه په يوه کنفرانس کې چې د دولتونو استازي په کې گډون ولري بحث وشي. وروسته د ۱۸۷۴ ميلادي کال د ستمبر په ۱۵ نېټه د ۲۱ غړو هېوادونو ترمنځ د کنفرانس په پايله کې پريکړه چې د برن د معاهدې په نوم يادېږي لاسليک شوه، نوموړې پريکړه په حقيقت کې د پُستې د اتحاديې بنسټ گڼل کېږي. کله چه د پست د عمومي اتحاديې سره ډېر شمېر هيوادونه يو ځاي شول د پست د جهاني اتحاديې په نوم ونومول شوه چه په ۱۹۹۶ م کال کې يي د غړو شمېر ۱۸۹ هيوادونو ته ورسيد.



په ټولگي کې د ننه فعاليت:

زده کوونکي دې په ډلو وویشل شي او هره ډله دې د پُست د اسانيتا وو په باره کې بحث وکړي او د خپل بحث پايلې دې منظمي کړي او تنظيم شوې معلومات دې په ټولگي کې وړاندي کړي

پوښتنې:



لنډه ځواب ورکړئ:

۱. فرانسوا تاکسي څوک دی؟
- ۲- د بخار بېړيو او داوسپنې کرسنې اختراع په نړيوالې پستې کې کوم تحولات را منځته کړل؟ لاندې جملې بشپړې کړئ
۳. دنړۍ پستې اتحاديې د لومړي ځل لپاره د ټولو هيوادونو تر منځ په ___ کال کې د ___ له خوا په سويس کې جوړه شوه.

له ټولگي څخه بهر فعاليت:



د پستې رول د انسانانو په ژوند باندې تشریح کړئ، چې له يوه مخ څخه زيات نه وي.

ب: په نړۍ کې تېلفون او موبایل Telephone and Mobil

د نړۍ په سطحه د الکاټل (Alcatel) د سمندر لاندې د کيبلونو نقشه.



آيا کولاي شي د تېلفون او موبایل پواسط مختلف پيغامونه خپل د نظر وړ شخص ته وليږي.

په عصري تکنالوژۍ کې تېلفون Telephone او موبایل Mobil په ډله ییزو رسنیو کې د اړیکو ډیره مهمه برخه لري او له هغو څخه په جغرافیایي مسایلو کې د اړیکو د نیولو په برخه کې د یوې وسیلې په توګه ګټه اخیستل کېږي لکه: (آب و هوا، زلزلې او لرګیدنې، د سوداګریزو او اقتصادي معلوماتو په برخه کې...) نو له همدې امله د تېلفون او موبایل څخه ګټه اخیستنه په جغرافیایي موضوعګانو کې د ټولو زده کوونکو لپاره مهم او اړین دي. لکه چې مخکې ورڅخه یادونه وشوه، د لومړي ځل لپاره ګرام هام بل Gramham Bell تېلفون اختراع کړ، چې د انسانانو په ژوند کې لوی قدم وو. وروسته یې سیمه تېلفون اختراع شو، چې په ۱۸۹۷ میلادي کال کې لومړنی پیغام د ګلیمو مارکوني Guglielmo Marconi پواسطه له اروپا څخه د اطلس د سمندر څخه هغه خواته مخابره شو. دغه آزمایش و بنودله چې د رادیويي څپو پواسطه د اړیکو نیول امکان لري، چې دغه عمل د شفاهي پیغام د لېږلو پیل دی، چې له یوه سړي څخه بل سړي ته د کوچني ماشین پواسطه استول کېږي.

نولسمه پېړۍ د اړیکو او رسنیو په برخه کې د ډیرو اختراعګانو شاهد ده، چې یې سیمه اړیکې د ملګري هوا نوردۍ او جوي څېړنو په برخه کې مهم تغیرات را منځته کړي دي.

د دویمې نړیوالې جګړې څخه وروسته ډیرې او چټکې اختراعګانې را منځته شوې او عصري تېلفونونو د زړو تېلفونونو ځای ونیوه. ملګرو ملتونو په ۱۹۷۰ میلادي کال کې یې پرې مخابراتي مرکز جوړ کړ د ملګرو ملتونو نماینده (مک براین) لومړنی پیغام د پاریس له یونسکو څخه د ټولې نړۍ هېوادونو ته خپور کړ. په ۱۹۴۷ میلادي کال کې د ترانزیستور Transistor اختراع د نړۍ د مخابراتو په برخه کې زیاتې اسانتیاوې را منځته کړې. د Mobile Radio Communication د لنډې تاریخچې څخه دا را څرګندېږي چې د مخابراتي د انفرادي خدماتو پروګرام په ټولنیز ژوندانه

کې د اړیکو د زیاتویر مختلفو سبب شوی دی. د انفرادي مخابراتی له تخنیک څخه گټه اخیستنه چې په ۱۹۶۰ میلادي کال ۶۲ سلنه وه په ۱۹۷۰ میلادي کال کې ۷۲ سلنې ته زیاته شوه. اوس د شخصي مخابراتي خدمات (P C S) (Personal Communacation service) په چټکۍ مخ په زیاتیدو دي.

بې سیمه تیلیفون چې لاتین نوم یې سیلولر Cellular دی، هغه ډول پرمختللي تیلیفون ته ویل کېږي چې د دوه تنو تر منځ اړیکي ټینګوي او هرځای ته د انتقال وړ وي. دسیلولر کلمه دCell یا حجرې له کلمې څخه اخیستل شوې ده، چې د موخوله مخې لویه یا کوچنۍ ساحه د موبایل دپوښښ لاندې راولي. چې دغه کار د موبایل د کمپنۍ په ظرفیت پورې اړه لري او ټاکلې ساحه د پوښښ لاندې راولي. موبایل مخابراتي محرمیت هم لري چې هره کمپنۍ په هر هېواد کې ځانګړی نمبر هم لري چې د کود نمبر د دایرولو پرته اړیکې نیول نا شوني دي.

په ټولګي کې د ننه فعالیت:



د لومړي ځل لپاره تیلیفون دکوم مخترع پواسطه رامنځته شو او په انسانانو کې دکومو تحولاتو لامل شو؟ مهرباني وکړئ په دې برخه کې خپل معلومات یوله بل سره شریک کړئ.

پوښتنې:



سم ځواب انتخاب کړئ.

- ۱- د تیلیفون مخترع له لاندنیو مخترعینو څخه کوم یودی؟
الف: گراهامیل ب: انتوني ج: ماریا د: گګلیمومارکوني
- ۲- سیلولر عبارت دی له:

الف: یو ډول پرمختللی تیلیفون دی چې د دوو کسانو تر منځ اړیکې ټینګوي
ب: انترنېټي ساحه ده ج: د انالاګ تیلیفون ساحه ده د: هیڅ یو

سم ځواب په نښه کړئ

۳- ملګرو ملتونو په ۱۹۷۰م کال کې له تراو پرته مخابراتي مرکز جوړ کړ.

۴- ترانزیستور په نړۍ کې زیاتي مخابراتي اسانتیاوی منځته راوړي.

لنډځواب ورکړئ

۵- P C S اصطلاح تشریح کړئ

له ټولګي څخه بهر فعالیت:



له موبایل څخه گټه اخیستنه په خپلو کتابچو کې ولیکئ او د جغرافیې له ساعت کې یې په ټولګي کې بیان کړئ.

ج- فکس Fax په نړۍ کې



د فکس ماشین په جغرافیایي موضوعگانو کې څه مهم نقش لري؟

د جغرافیې په ټولو څانگو کې یو له مهمو اړتیاوو څخه یوه له فکس څخه گټه اخیستنه ده چې دهغې پواسطه پیغامونه لېږي او نژدې سیمو ته استول کېږي. له فکس څخه گټې اخیستنې د اړتیاوړ حقیقتونو دمستند کولو لپاره په جغرافیې او نورو برخو کې ډېرې آسانتیاوې رامنځته کړي دي، لکه صنعت، سوداگری، تولیدي وسایل، صادرات، واردات او داسې نور.


فکس نوی تکنالوژي ده چې په ۱۹۲۴ میلادي کال کې چې د ریچارد رنجر *Rechard H Ringer* پواسطه اختراع شو او لومړنی پیغام یې له نیویارک څخه لندن ته واستوه.

په ۱۹۷۰ میلادي کال کې د ماشین په جوړښت او اجزاو کې د سمون لپاره بدلونونه رامنځته شول.

فکس د لیکلي پیغام د انتقال وسیله ده، چې د کاغذ پر مخ لیکلي پیغامونه او رپوټونه دې ماشین ته ننه باسي او په څو ثانیو کې ټاکلي ځای ته رسېږي.

فکس میخانیکې وسیله ده چې دهغې پواسطه اطلاعات او اسناد په لیکلي ډول د یوه سند په توگه انتقالېږي.

د فکس د ماشین له اختراع څخه وروسته تجارتي او صنعتي اسانتیاوې رامنځته شوې. د فکس د ماشین په مرسته حقایق ثبتیږي، سوداگریز فرمایشو اخلي اسناد لېږدول کېږي، صادراتي او وارداتي اقلام او رسمي او شخصي اسناد استول کېږي فکس نه یوازې په سوداگریزو او صنعتي موضوعگانو کې په کار وړل کېږي. بلکې په مصنوعي سپور میکروکې هم ورڅخه کار اخېستل کېږي. محرم اسناد اونوي کشفیات له ځمکې څخه فضاتو او له فضا څخه ځمکې ته لېږل کېږي. نوله همدې امله فکس له ډله ییزو رسنیو څخه دی چې د هغه پواسطه شخصي او رسمي پیغامونه، سوداگریز، حقوقي او صنعتي معاملات او داسې نور په لنډ وخت کې لیرې او نژدې سیمو ته سملاسي استول کېږي.



زده کوونکي دې په څو ډلو وویشل شي او هره ډله دې د فکس د کار په څرنگوالي، فعالیت او اهمیت باندې د ژوندانه په بېلابېلو برخو کې کار وکړي. دهرې ډلې استازی دې د خپل بحث پایله په ټولګي کې وړاندې کړي.

پوښتنې:

لنډ ځواب ورکړئ:

۱- فکس څه شي دی؟

۲- له فکس څخه دگټې اخېستې ځایونه په نښه کړئ.

سم ځواب غوره کړئ:

۴- د فکس پواسطه لاندې مهم مفاهیم استول کېږي.

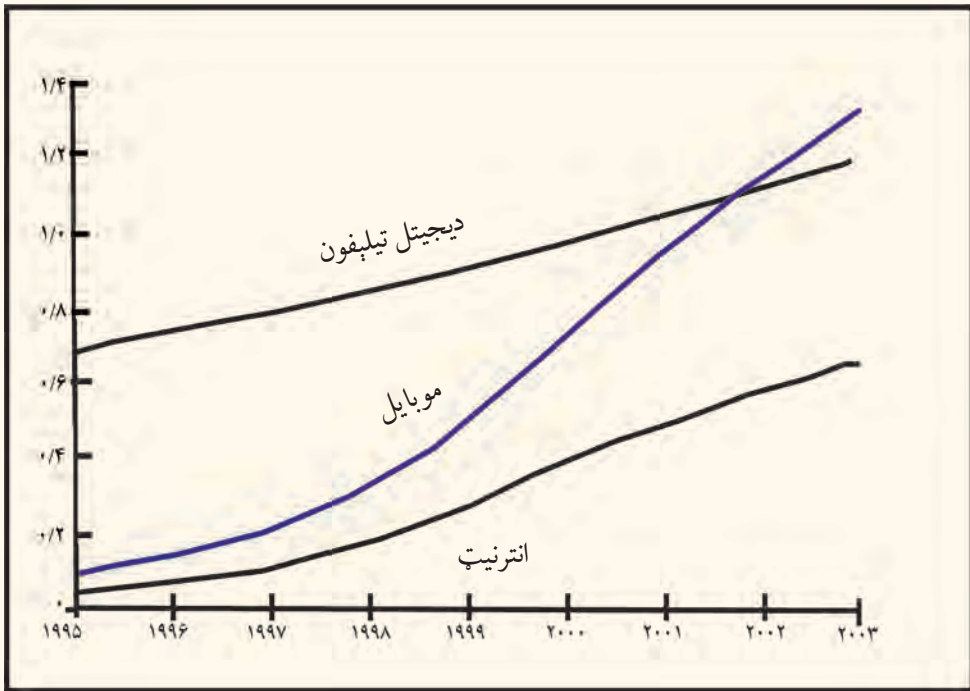
الف: جغرافیایي ب: صنعتي ج: صادراتي او وارداتي د: ټول سم دي.

له ټولګي څخه بهر فعالیت:

زده کوونکي دې د فکس د اسانتیاوو په باب لنډه مقاله ولیکي او د امکان په صورت کې دې په ټولګي وړاندې کړي.

د-انټرنېټ او ایمیل: mail Internet and E

له انټرنېټ او ایمیل څخه څرنگه گټه اخیستل کېږي؟



په نړۍ کې اړیکو او خبرتیاو ته د لاس رسې نسبت

د مخابراتو ډېره نوې وسیله انټرنېټ او ایمیل دی، چې په جغرافیې او نورو علومو او د ژوندانه په نورو برخو کې ځانگړې دندې سرته رسوي. جغرافیه پوهان د څیړنو په ټولو مرکزونو کې د پیغامونو د انتقال لپاره له دواړو وسیلو څخه گټه اخلي له ټولو مهمه خبره داده چې د پیغامونو اخیستل او په ځانگړې او محرمانه ډول د هغې لپارې، په هره اندازه چې و غواړو، په لنډ وخت کې سرته رسېږي. له دواړو وسیلو څخه گټه اخیستنه په ټولو دولتي سوداگریزو مؤسسو او شخصي ډول سرته رسېږي.

کمپیوټر د نولسمې پېړۍ په نیمایي کې په کار پیل وکړ. له ۱۹۴۴ - ۱۹۵۱ میلادي کلونو کې یې زیاته وده وکړه. کله چې ولیم شاکلي ډیجیټل Digital ماشین کشف کړ، کمپیوټر نوره هم وده وکړه. انټرنېټ د کمپیوټر ځانگړې پروگرام دی، چې د یوې بېلې شبکې په واسطه د کمپیوټر سره نښلول کېږي او بیل بیل پروگرامونه لري. چې نه یوازې پیغامونه انتقالوي بلکې تصویرونه، علمي متنونه او نور

ټولنيز، سوداگريز، سياسي ۰۰۰ او داسې نور د کمپيوټر له لارې د انټرنټ پواسطه د پام وړ شخص ته رسوي. هر څوک او هره موسسه کولای شي په بيلو ادرسونو خپل ځانگړي سايټونه پرانيزي او د هغو څخه گټه واخلي.

انټرنېټ يو تنظيم شوي سيستم دي چې د بشر په نننۍ ټکنالوژۍ کې د پيغامونو او اطلاعاتو په انتقال کې د چټکې او بڼې منع په توگه کارول کېږي.

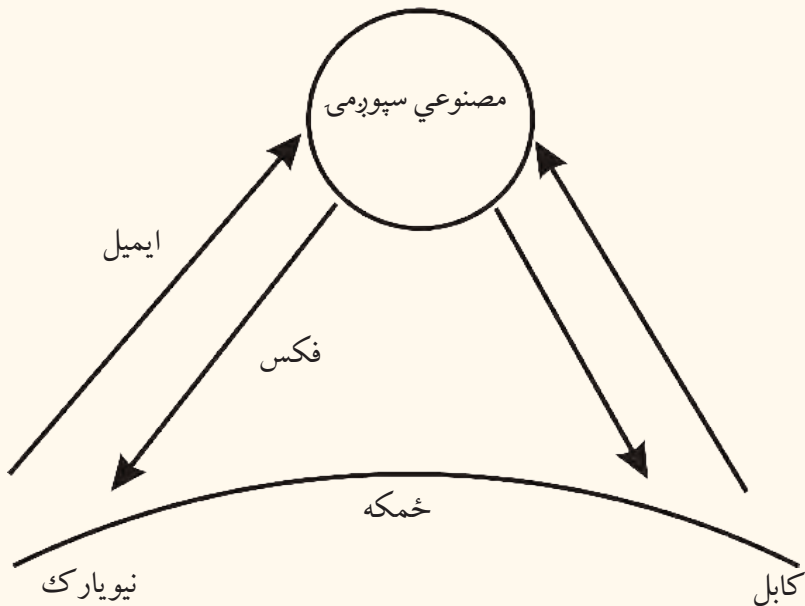
ټول اسناد چې د انټرنېټ له لارې په کمپيوټر کې شامل شي، له چاپ وروسته لاس ته راځي. انټرنېټ ارتباطي ډېره بڼه وسيله ده، چې د نړۍ ټول هېوادونه په دې پروگرام کې شامل دي. له ۱۹۹۰ ميلادي کال څخه مخکې د کمپيوټر پواسطه هيڅ ډول اسانتياوې نه وې لومړنۍ څانگه يا ديارتمنت چې د کمپيوټر ماشين پواسطه يې دمخبر اتوارپکې جوړې کړې د امريکا د متحده ايالتونو پوځي څرنيز مرکز وو (DOD) په ۱۹۶۷ م کال کې A C M د کمپيوټري ماشينري مؤسسه د امريکا په متحده ايالتونو کې ياد A R P A دفتر و يو کوچنی ماشين يې جوړ کړ چې له يو کمپيوټر څخه بل کمپيوټر ته معلومات انتقال کړي. له يوه کمپيوټر څخه بل کمپيوټر ته د پيغام انتقال په دې پورې اړه لري چې لومړی دغه پيغام د (Interface Message Process, I M P) پواسطه په کمپيوټر کې داخل شي.

د کلبفورنيا اولاس انجلس پوهنتون نو وکولای شول چې د انټرنېټ پواسطه د يوتا Utah له پوهنتون سره اړيکې جوړې کړي. د انټرنېټ پروگرام په ۱۹۹۰ ميلادي کال کې دنړۍ په سطح په کار پيل وکړ. په کياتو کې او سني فضايي پروگرامونه څېړي او د رازونو دکشفولو لپاره د انټرنټ پواسطه په ډيره آساني له يوه ځای څخه بل ځای ته لېږدول کېږي

په جغرافيه کې د انټرنېټ نقش د جغرافيايي حقايقو موندل دی. په دې ډول د قطبونو د کنگلونو، دځمکې دکرې د تودوخي، د اوزون د طبقې نازک کيدل او د انرژۍ د سرچينو د موندلو لکه نفت، گاز اوداسي نورو، طبيعي سرحدونو، په سمندر کې دکبانو د استوگنې د ځای د معلومولو، د ځنگلونو د ساتنې، د آب و هوا وړاندوينه، د تودوخي او سړو د درجې ټاکنه، د خاورې پېژندنه او داسي نورو

برخوکې ورڅخه کار اخېستل کېږي. چې خبرورکونکو په وب سایټ کې اچولي دي او وروسته د انټرنېټ، په مرسته هغه اخلي. له انټرنېټ څخه معلومات د دوه تنو، یا دوه دولتي یا شخصي مؤسسو ترمنځ تبادلې کېږي په دې شرط چې دهغه بل لوري د ایمیل کود ورته معلوم وي. د مثال په ډول (<http://www.google.Com>).

د انټرنېټ اړیکې د سپورمکیو اود نوري فایبر سره دي زیاتره پیغامونه او کرنیز، اقتصادي معلومات اوداسی نور په دقیق ډول د ځمکې څخه اخلي او دوهم ځل یې خپل اړوند مرکز ته مخابره کوي. ایمیل Electronic Mail هم نوې تکنالوژی شمېرل کېږي. چې د سوداگریزو، صنعتي، سیاسي، فرهنگي او انفرادي پیغامونو په لېږلوکې ډیرې سترې دندې سرته رسوي او د همدې ماشین په مرسته سملاسي دلېرې او نژدې واټن ترمنځ ډېر ژر ارتباطات تامینېږي. لنډیزې ایمیل (e-mail) دی.



ایمیل پیغامونه رادیويي څپو په مرسته اخلي او لېږي چې د ایمیل دیوې دستگاه د مرکز څخه د بلې دستگاه په آدرس پیغام استول کېږي او په څو ثانيو کې اړونده آدرس ته رسېږي.

په ټولگي کې د ننه فعالیت:



زده کوونکي دې په مناسبو ډلو وویشل شي او هره ډله دې د انټرنټ او د هغه د استعمال په هکله په خپلو منځو کې بحث وکړي د بحث پایلې دې خپلو ټولگيوالو ته وويي.

پوښتني:



لنډ ځواب ورکړئ:

۱- د ډیجیټل ماشین اختراع د کومو لویو تحولاتو سبب شوه؟

۲- د کمپیوټر پواسطه پیغامونه په څه ډول استول کېږي؟

۳- ایمیل څه ته وايي؟ تعریف یې کړئ

. جمله بشپړه کړئ:

۴- انټرنېټ په لومړي ځل په () په کارېدل وکړ.

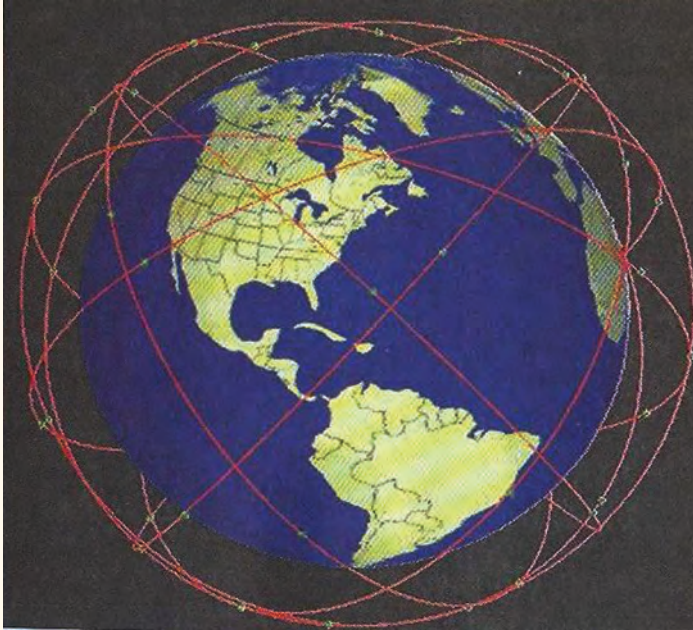
له ټولگي څخه بهر فعالیت:



له کمپیوټر څخه د گټې اخیستنې څرنگوالی ولیکئ او د جغرافیې د مضمون په ساعت کې یې په ټولگي کې بیان کړئ.

۲-۷ د سپوږمکيو شبکه Satellite Network

د نړيوالو سپوږمکيو د اړيکو سیستم



ایا د مصنوعي سپوږمۍ په باره کې معلومات لرئ؟

امصنوعي سپوږمۍ او ريموټ سنسنگ *Remote Sensing* د نوې تکنالوژۍ ډيره عصري وسيله ده، جغرافيه پوهان يې د دې وړکړي چي د جغرافيه اړونده ځمکې په کرې او فضا کې مسایل چي تر اوسه نه دي کشف شوي، کشف کړي او انسان وکولای شي هغه رازونه وپيژني چي تر اوسه ندې کشف شوي

د مصنوعي سپوږمکيو څيړنو Satellite Network د ځمکې او فضا په هکله معلومات زيات کړي دي. د هغو رول په جغرافيه کې څرگند دی لکه دکرنې، کانونو، طبيعي زيرمو په هکله څيړنې، د آب وهوا وړاند وینه، د ځنگلونو شتون، د کبانود بنکارسيمې د بېرېو لار بنوونه د سوداگريزومالونو انتقال اوداسي نور. همدارنگه د کيهان نوردانو لپاره يې د فضايي مسافرت شرايط برابرکړي دي، چي د سپوږمکيو په مرسته فضا ته سفر وکړي.

د سپورمکي مخابراتي سيستم د کمپيوټر او تيليفون په مرسته سرته رسيري، چې د سيلو لږ تيليفون cellular phone يا cell په نوم ياديږي. د سپورمکي مخابراتي سيستم د نوې تکنالوژۍ پيچلي سيستم دي چې له فضا څخه ځمکې ته اطلاعات لېږي چې د Down Link او هغه پيام چه له ځمکې څخه فضا ته ليري Link up په نوم ياديږي. سپورمکي په فضا کې د استوا په کرښې، عمود، مايل يا موازي په ټاکلو مدارونو کې د ځمکې په شاوخواځای پر ځای شوي دي. ځينې مصنوعي سپورمکي د ځمکې څخه په يونقطه کې ثابتې ساتلې کېږي چې دا حالت د جيو ستشري Geo Stationary په اصطلاح ياديږي.

انسانان کولای شي چې د سپور مکيو په مرسته د لمريز نظام او دهغه اړونده سيارو او دهغو څخه د ځمکې په برخه کې زيات معلومات حاصل کړي لکه د ځمکې لوړې برخې، د ځمکې پر مخ روانې اوبه، د اور بڼت اندازه او داسې نور. تازه څېړنو ښودلې ده چې سپور مکيو انسان ته د دې وس ورکړی دی چې د طبيعت ځينې رازونه پيدا کړي او دزياتو معلوماتو لپاره دغه ډول څير نې په چټکۍ دوام لري هغه هېوادونه چې سپورمکي لري په لاندې ډول دي: د امريکا متحده ايالتونه، روسيه، چين، هند او داسي نور ځينې نورهيواد ونه هم غواړي چې دغه نوې تکنالوژي ولري.



ټول مخابراتي مسایل د سپورمکیو له لارې تنظیمیري لکه رادیو، تلویزیون او داسي نور. زیاتي سپور مکی په فضاکی د پیغا مونود لیرلو او رادیویی خپو لپاره فعالیت کوي او ټولې نړۍ ته د رادیو ځانگړې خپې لیردوي. په ځینو نورو مخابراتي برخو لکه نظامي، استخباراتي او داسی نوروکې هم فعالیت کوي.

یادونه:

سپورمی په فضاکی د فعالیت پر وخت د دوه وزرو په واسطه چې دهغی دواړو خواو کې دي خپله د اړتیا وړ انرژي له لمرڅخه اخلي.

په ټولگي کې د ننه فعالیت:



ز ده کوونکي په مناسبو ډلو وویشی او په جغرافیه کې دې د مصنوعي سپور مکیو د اهمیت دآب وهوا د وړاند وینې، د اقتصادي، کرنیزو او پوځي موضوعگاتو په هکله دې بحث وکړي او د بحث پایلې دې د ډلې مشر خپلوټو لگیوا لو ته بیان کړي.

پوښتني:



لنډ ځواب و رکړئ

- ۱- جیو سټشنري Geo Stationary کوم حالت ته ویل کېږي؟
- ۲- Satelit Network په جغرافیه کې کوم خدمتونه سرته رسوي؟

لاندي جمله بشپړه کړئ:

۳- هغه پیغامونه چې له مصنوعي سپورمی څخه ځمکې ته رسیږي او هغه پیغامونه چې له ځمکې څخه مصنوعي سپورمی ته استول کېږي..... په نوم یادېږي.

له ټولګي څخه بهر فعالیت:

د مصنوعي سپور مکیو د ډولو نو او دهغو لپاره د اړتیا وړ انرژۍ په باره کې مقاله ولیکئ او د جغرافي د مضمون په راتلونکي ساعت کې یې خپلو ټولګیوالو ته وړاندې کړئ.

۸-۱ د سون د مواد و لوګي او غازونه



په هغه ځای کې چې اوسپړی، آیا دکومې دستګاه لوګی او غازتاسې ربروي؟

د بدن سلامتي او روغتیا د انسان لپاره د ژوندانه اصلي اړتیاوې ګڼل کېږي. هر هغه لامل چې د انسان سلامتی او روغتیا ته تاوان اړوي مضر دي. نو له همدې امله باید د انسان د ژوندانه ځای له هر ډول ککړتیا او مضره موادو و څخه پاک وي. له دې پرته به زموږ د ژوندانه چاپیریال متضرر وي، باید هغه ښه وپېژنو او د حل لاره ورته ولټوو. طبیعت په فطري ډول پاک دی او د څښتن تعالی له تحفو څخه دی نوله همدې امله د چاپیریال پېژندنه چې د جغرافیې لویه برخه ده باید په بشپړ ډول وپېژنو. د ژوندانه چاپیریال د ژوندانه د ټولو پدیدو یوه ټولګه Complex ده چې انسان، حیوان او نبات لپاره یې د ژوندانه شرایط برابر کړي دي. مهمې برخې یې ځمکه، داستوګنې ځای، خاوره، اوبه، نباتي پوښښ، حیوانات او اتموسفیر تشکیلوي.

د وخت په تیریدو سره انسانان په دې پوهیدلي چې همدغه چاپیریال کولای شي چې زموږ ټولې اړتیاوې پوره کړي نو په چټکي له خپل چاپیریال سره اړیکي ټینګې کړې. په دې برخه کې یې زیاتې تجربې لاس ته را وړلې، د طبیعت له ښکلا او ستونزو سره اشنا شول او د هغه له ګواښونو سره یې مقابله وکړه.

انسانانو پوهنه حاصل کړه چې هر چاپیریال کې باید له طبیعت سره اړیکې ټینګې کړو چې د هغه له امکاناتو څخه ګټه واخلو. تودې او وچې سیمې د کرنې او د خوړو د برابرولو لپاره مناسبې نه وي. هغه ښې سیمې چې د سیندونو او جهیلونو په ګارو کې پرتي وی ټول شرایط یې د ژوندانه لپاره برابر کړي وو. نو د همدې سیندونو په ګارو کې لوی تمدنو نه رامنځته شول.

په هر ځای کې انسان هڅه کوي چې د طبیعي چاپیریال شرایط و پېژني او خپل ژوند له هغو سره برابر کړي او یا چاپیریال ته د خپلو اړتیاوو له مخې بدلون ورکړي.

هغه چاپیریال چې موږ په کې ژوند کوو ځانګړې نظم او قانون لري چې د خدای (ج) له خوا تنظیم شوي دی، د باران اوریدل، د باد لګیدل، د نېټو وده، ټول د یوه قانون د بنسټ له مخې فعالیت کوي. موږ باید طبیعي قوانین وپېژنو او دهغورعایت وکړو او خپل چاپیریال پاک وساتو له هغې پرته زموږ طبیعي ژوند اغیزمن کوي او د ټولو موجوداتو لپاره ژوند ستونزمن کوي.

متاسفانه له صنعتي تاسیساتو، فابریکو، په ځمکې باندې صنعتي پاتې شونو او ګلخانه یې مضرو غازونو پورته کیدل د ځمکې اتموسفیر ککړوي او دانسان، حیوان او نبات ژوند له خطر سره مخامخوي. د هوا د ککړتیا په باره کې باید د یوه ځای د آب و هوا په باره کې مستند او دقیق معلومات ولرو. اتموسفیر د انسانانو، حیواناتو، او نباتاتو لپاره د ژوندانه یوه مهمه پدیده ده. نو له همدې امله دغې حیاتي سرچینې ته باید پوره پاملرنه وشي اوله دې سرچینې څخه باید په ښه توګه ګټه واخیستل شي. هغه لوګی او غازونه چې دسون له موادو څخه پورته کیږي په ټوله نړۍ کې یې هوا ککړه کړیده ککړه فضاء د انسان او نورو حیواناتو پر تنفسي سیستم په مستقیم ډول ناوړه اغیزه کوي او د کاربن ډای اکساید او کاربو مونو اکساید، د متان غاز، کلور وفلوروکاربن او د نایتروجن اکساید تعاملات د یویني په دوران، او تنفسي جهاز او نورو باندې روغتیايي ناوړه اغیزه لري د ځمکې پر مخ د غازونو او دودونو سرچینه د ډبرو سکاره، نفت

اورلگيدنې او صنعتي کارخانو څخه عبارت دي.



د کابل د ښاري فضاء د حمل و نقل د وسیلو او د نفوسو د زیاتوالي او د ښاري ککړ تیا پواسط غیر صحي او ککړه شویده چې زموږ د ښاریا نو په روغتیا یې نا وړه اغیزه کړې ده. هغه مواد چې په مجموعي ډول د هوا د ککړ تیا سبب گرځي په لاندې ډول دي:

۱. زهري مواد
۲. کیمیاوي مواد
۳. دغبرونو خپریدل
۴. د اضافي غیرصحي مواد راټولېدل
۵. د مصنوعي او اتومي مواد ویاتې شوني
۶. د مضرو اجسامو له راټولېدل
۷. سوځیدنې
۸. د مناسب کانا لیزسیون نه شتون او داسې نور.

په ټولگي کې د ننه فعالیت:



زده کوونکي په ډ لو وویښی. دمضرو غازونو په باره کې دې چې زموږ په روغتیا ناوړه اغیزه کوي بحث وکړي او دهغو پایلې دې خپلو ټولو لگيو او ته بیان کړي.



پوڻتني:

لنڊ ڄواب ورڪري:

۱. د ژوندانه چاپيريال تعريف ڪري
۲. ڪوم مواد د ژوندانه د چاپيريال د ڪڪر تيا سبب ڪرڻي.
سمه جملہ په نښه ڪري
۳. آيا په فضا ڪي مضره غازونه د وينې په دوران او تنفسي سيستمونو باندې مستقيمہ اغيزه لري ()
۴. د مضره لوگيو او غازونو اصلي منبع د ڄمڪي پر مخ اور لگڻدنې گڻل ڪڀري () .



له ٽولگي ڇه بهر فعاليت:

ز ده ڪوونڪي دې د ڪابل د ښار د هوا د ڪڪر تيا او د هغي د ضرر په باره ڪي معلومات راپول ڪري او په ٽولگي ڪي دې ورباندې خبرې و ڪري.

الف- د وړلو- راوړلو (حمل او نقل وسيلې):



د ژوند پر چاپيريال باندې د نقلیه وسایلو غازونه او لوگی څه منفي اغیزې لري؟

نقلیه وسایل د انسان له اړتیاوو څخه گڼل کېږي چې د کالیو او خلکو په انتقال کې ډېرې اسانتیاوې برابرې. خودلته نقلیه وسایل په ښارونو کې د هوا د ککړتیا د لامل په توگه څېړل کېږي.

نقلیه وسایل په فضاء، ځمکه او اوبو کې د انتقال لپاره کارول کېږي. انتقالی شبکې په ټوله نړۍ کې د حمل و نقل ستونزې حلوي. خو د دې ترڅنګ د لوګي او غازونو خپرول د ژوندانه چاپيريال ککړوي او د انسان، حیوان او نبات لپاره تنفس ستونزمن کوي.

د نقلیه وسایلو مضر لوګي او غازونه هوا ککړوي او د ټولو ژونديو موجوداتو د روغتیا لپاره ناوړه هوا منځته راوړي د اوسنیو څېړنو له مخې نقلیه وسایل هوا ککړوي. د هوا دککړتیا غازونه، لوګي، کاربن ډای اکساید، نایتروجن اوکساید، سلفر، سرپ او داسې نور دي.

. نوهر لامل چې د چاپيريال د ککړتیا سبب گرځي د Pollution په نوم یادېږي.

په نړۍ کې د نفوسو زیاتوالی ډېرو نقلیه وسیلو ته اړتیا لري. د دې وسایلو ککړوونکي مواد د هوا د ککړتیا سبب گرځي.

د وروسته پاتې هیوادونو د ژوند چاپيريال په ښاري او صحي معیا رونو سمبال نه دي. پر مختللي هیواد ونه په دې توانیدلي دي چې تریوې اندازې د نقلیه و سیلو د مضر و موادو مخه ونیسي، ځکه چې پدې هیوادونو نوي تکنالوژي او دنقلیې ښی وسیلې د دې سبب شوي دي چې د مضر و غازونو مخه ونیول شي هغه نقلیه وسیلې چې د لوګي او غازونو لامل گرځي، اجازه نه ورکول کېږي چې تگ او راتگ وکړي.

په دې ورستيو كالوكې زموږ گران هيواد افغانستان د زياتو نقلیه وسيلو په لرلو په تيره بيا د کابل ښار چاپيريال د ککړ تيا له مخې له ډيرو ستونزو سره مخامخ دی. د کابل دښار ښکلي فضا مضرو غازونو او د زړوموترو لوگيو اودبې کيفيته تيلوپه استعمال سره چې په هواکې د سلفرو او سريو د زياتوالي سبب کيږي خرا به کړې ده. کولای شو د نقلیه وسيلو ککړ تيا په ځمکني، سمندري او هوايي برخو ډلبندي او مطالعه کړو. چې هرې برخې پخپل وارسره ځمکه، سمندر او فضا ککړه کړې ده طبيعتاً صافه او طبيعي هوا ککړه نه وي خو دا انسان دی چې د نوې تکنالوژۍ څخه په گټه اخېستنې سره په ډېرو منطقو کې چاپيريال ککړ وي.

په ټولگي کې د ننه فعاليت:



ټولگي په خود لو وويشئ او هره ډ له دې د هوا د ککړ تيا Pollutin د لاملونو په باب يو له بل سره بحث وکړي او د بحث پايله دې د ډلې استازې خپلوټو لگيو لو ته وړاندې کړي.



پوښتنې:

لنډ ځواب ورکړئ:

۱. پر مختللو هيواد ونو څرنگه د هوا د ککړ تيا مخه نيولې ده؟
 ۲. د نقلیه وسيلو د افزاتو ککړ تيا په هوا کې د کومو ستونزو لامل گرځي؟
جملې بشپړې کړئ:
 ۳. نقلیه وسيلې..... د ککړ تيا لامل گرځي.
 ۴. د انسان روغتيا مستقيماً له سره اړيکې لري.
 ۵. هغه لاملونه چې د ککړ تيا سبب گرځي په نوم ياديږي.
د سم ځواب انتخاب کړئ:
 ۶. کوم غازونه د هوا د ککړ تيا سبب گرځي:
- الف: اوکسيجن ب: نايټروجن اکسايډ ج: کاربن مونواکسايډ د- ب او ج سم دي.

له ټولگي څخه بهر فعاليت:



د نقلیه وسيلو په هکله فکر وکړئ چې ولې چاپيريال ککړوي په دې هکله مقاله وليکئ او د جغرافيه په راتلونکي ساعت کې يې خپلوټو لگيو لو ته بيان کړئ.

ب: د ژوند په چاپيريال باندې د کارخانو اغيزې:



کله صنعتي فابريکې ته تللي ياست؟ کوم ډول مضر غازونه له فابريکې څخه خارجيږي او د ژوندانه چاپيريال ککړوي؟

د ژوندانه چاپيريال په مجموعي ډول د جغرافيه پوهانو پاملرنه ځانته جلب کړې ده. اوسنۍ څېړنې ښيي چې د کارخانو په پراخه پيمانه جوړول د هوا، د ځمکې د روانو اود ځمکې لاندې اوبو د ککړولو لامل گرځي. صنعتي انقلاب له اروپا څخه پيل شو. چې اصلي زانگوبې د انگلستان هيواد دی او له هغه ځايه څخه نړۍ ته خپور شو او په شمالي امريکا په تيره بيا د امريکا په متحده ايالتو نوکې يې په پراخه پيمانه پراختيا ومونده او د موټر جوړولو، بېرۍ جوړولو، الوتکو جوړولو او په نورو برخو کې په سلونو فابريکو په کار پيل وکړ. د آسيا د لويې وچې هيوادونو لکه جاپان، چين، هند او داسې نوروهم د بيلا بيلو کار خانو په

جوړولو پیل وکړ او نورو زیاتره هیوادو نو لکه د افریقا لویې وچې او استرالیا هم لویې فابریکې په ځانگړو برخوکې جوړې کړې. دغو ټولو تاسیساتو په بیلا بیلو ځانگړو کې د ژوندانه د چاپیریال په ککړو لوکې زیاتې ستونزې رامنځته کړې، لکه د کاربن ډای اکساید CO_2 ، د متان CH_4 ، کلوروفلوروکاربن غاز CFC ، نایتروجن ډای اکساید زهرجن غازونه، د اوبو پراسونه او د اتومي زرو آیونونه او داسې نور په هوا کې دا خلیږي چې د هوا فزیکي او کیمایي خواص تغیروي.

په مجموعي ډول مضر غازونه له فابریکو څخه خارجېږي چې پورته ځي او هوا ککړ وي. د مثال په ډول د کلوروفلوروکاربن (chloro fluoro carbon) (C.F.C) غاز له فابریکو او سپرونکو سرچینو څخه خارجېږي چې د هوا په لوړو پوړیو کې د اوزون په قشر کې کیمایي ترکیبونو سره تعامل کوي. د اوزون طبقې ویجاړوي او په پای کې د ځمکې د تودیدو سبب گرځي.

مضر غازونه په ټولیز ډول د هوا د ککړتیا لامل گرځي او ژوند له خطر سره مخامخوي چې په پای کې د بیلا بیلو ناروغیو سبب کېږي لکه د زړه، روي (تنفسي)، جلدي او داسې نورو. په همدې ډول اتومي کارخانې رادیو اکتیف Radio Active waster پاتې شونې دلاندنیو ستونزو لامل گرځي.

- اتومي وړانگې (تشعشعات) د یو کیلومتر مربع په ساحه کې تخریبات کوي.
- په کرنه، کبنت او کار منفي اغېز لري.
- فضا ته دا خلیږي.
- حیوانات، انسانان او نباتات په مرگ گواښي.
- د چرنوبل اتومي چاودنې چې پراخه ساحه له منځه یوړه. د دې مطلب بڼه بیلگه ده.
- د کاربن ډای اکساید د غاز د تولید سبب گرځي.
- د پوستکي سرطان رامنځته کوي.

• د خوړو موادو تاسیسات اغیزمن کوي.

دکارخانو ناوړه اغیزې، نه یوازې په ځمکه بلکې په فضا او سمندر کې هم د احساس وړ دي. د فابریکو ناوړه اغیزې د ځمکې اتموسفیر هم ککړوي. هغه سیندونه چې د فابریکو ترڅنګ بهیږي، د فابریکو د اضافي موادو پواسط اغیزمن کېږي. اتومي اضافي مواد هم د سمندر اوبه ککړې کړې دي. د نفتو له بهر یو څخه په سمندر کې د نفتو تولیدلو هم د سمندر اوبه او سمندري ژوند یې متاثر کړی دی.

په ټولګي کې د ننه فعالیت:



ټولګي په مساوي ډلو وویشئ او هره ډله دې د فابریکو د ضرر په باره کې فکر وکړي او د اتومي دستګاوو ناوړه اغیزې دې توضیح کړي او د ډلې استازی دې خپلو ټولو لګیوالو ته وړاندې کړي.

پوښتنې:



سم ځوابونه انتخاب کړئ:

۱. له لاند نیو هیوادو نو څخه یو هیواد د صنعتي انقلاب زانګو وه.

الف: جرمني ب: انگلستان ج: فرانسه د: ایتالیا

۲. چرنوبل د برېښنا د تولید اتومي دستګاه په کوم یولانډني هیواد پورې اړه لري:

الف: اکراین ب: قزاقستان ج: ترکمنستان د: ارمنستان

۳. مضر غازونه کومې منډې اغیزې لري؟

الف: د اوزون طبقه ویجاړوي ب: د ژوندانه لپاره ګټور دي

ج: د تنفس لپاره ګټور دي د: یوازې دنبا تاتو لپاره ګټور دي.

لنډځواب وړکړئ:

۱. کوم غازونه د ژوندانه چاپیریال ککړوي؟
۲. د فابریکو مضر غازونه د کومو ناروغیو لامل ګرځي؟
۳. د اتومي فابریکو تاسیسات کومې ستونزې رامنځته کوي؟

له ټولګي څخه بهر فعالیت:



د هغه مضر غازونو او مواد ولست ولیکئ چې په پخلنځي کې شته او دانسان په ژوندانه باندې د هغې نا وړه اغېزې واضح کړئ.

۸- ۲ د صنعتي مواد و پاتې شوني:



د ژوندانه دځاي د ککړتيا په هکله مو فکر کړی دی او د صنعتی پاتې شونو په زیان پوهیږئ؟

د ژوندانه چاپیریال هغه ځای دی چې انسان په کې ژوند کوي او ټول صنایع او فابریکې د انسان د اړتیاوو د پوره کولو لپاره دي. خو د هغو تر څنګ روغتیا او پاکي اساسي اړتیا ده. چې د ژوندانه ځای په مجموع کې پاک وساتو نوله همدې امله هغه صنعتي پاتې شوني چې کار خانې او صنایع تولیدوي د هغو د زیان مخنیوی وشي چې چاپیریال ککړنشی. پاتې شوني په لاندې برخو ویشل شوي دي.

۱. فزیکي پاتې شوني: Physical state لاندې برخې لري: د کورونو پاتې شوني، ناولې اوبه او داسې نور.

۲. حیاتي عضوي پاتې شوني.

۳. خدماتي سکتورونه: چې ځمکنی، هوايي او سمندري نقلیه وسپلې دي.

۴. د خوړو پاتې شوني: د ډوډۍ او پخلنځي پاتې شوني.

۵. بناري پاتې شوني: چې معمولاً د وروستو مواد و پاتې شوني د متان غاز توليدوي.

۶. اتومي توليدي منابع: د هوا د اتومي ايونونو دتركيب ككړتيا.

۷- صنعتي توليدات: چې له هغو څخه د كلوروفلورو كاربن C.F.C غاز ورڅخه توليد يږي. پاتې شونې معمولاً د كيمياوي او فزيكي تعاملاتو پواسط د چاپيريال اصلي خواصو ته تغير وركوي او دغه تغيرات په وچه، اوبو او هوا ناوړه اغېزې لري. چې په فضا كې د اوزون طبقه ويجاړ وي او له بنفش څخه اخواته وړانگې مستقيماً په ځمكه لگېږي چې د انسانانو اونورو ژونديو موجوداتو په روغتيا او په همدې ډول د ځمكې دكړې د آب و هوا پرتغير منفي اغيزه كوي. د پاتې شونو شتون د انسان لپاره ستره ستونزه جوړه كړې ده چې د ټولو ژونديو ژوند تهديدوي. اوس وخت د انسان د ژوندانه چاپيريال غير صحي شوي دي او د زياتو ستونزو د رامنځته كولو لامل گرځيدلي دي. له بله پلوه صنعتي پاتې شونو سمندرونه ككړ كړي دي او هغه حيوانات چې په سمندرونو او سيندونو كې ژوند كوي متضرر كړي دي. لكه په اروپا كې تايمز او رايڼ سيندونه. صنعتي او كيمياوي فابريكې چې ددې سيندونو په غاړو كې جوړې شوي دي، د دې فابريكو



د الاسكا په سواحلو كې د نفتي ككړتياوو پاكول

اضافي مواد سيندونو ته ځي او د حيواناتو د ژوندانه چاپيريال ککړوي. د راین سيند له سر چيني څخه تر مصب پورې ۱۳۰۰ کيلو متره اوږه دوالي لري. دغه سيند



د سويس له هيواد څخه سرچينه اخلي او د فرانسې، المان او هالنډ څخه تيرېږي. سمندرونه د اټومي او نفتي موادو پواسطه هم ککړېږي، چې د سمندري حيواناتو د له منځه تللو سبب گرځي. انسانان د نفتي موادو پواسطه د سمندرونو د زياتو ککړتياوو شاهد دي، چې يوازې د امريکا په متحده ايالتونو کې ۷۰۰۰ واقعي ثبت شوي دي.

همدا رنگه په ډيرو نور و سيمو کې هم د نفتو باروړنکې بېړۍ د تخنيکي ستونزوپه سبب په سمندر کې د نفتو د انتقال پر وخت سمندرونه ککړوي.

نو له همدې امله د ځمکې په کره

باندي صنعتي پر مختگونه که له يوې خوا د انسان د اړتياوو د پوره کولو په برخه کې گټور وو. په هغه اندازه يې ځمکه، سمندر او هوا ککړه کړې هم ده، چې مهمې نمونې مو مخکې وړاندي کړې، يعنې د انساني فعاليت پاتې شونو په ټوله نړۍ کې ستونزې رامنځته کړي دي، چې تر اوسه پورې موږ له دې ستونزو سره لاس او گريوان يو.

د راین دسند حوزه او د هغې د شاو خوا صنعتي مرکزونو

په ټولگي کې د ننه فعالیت:



زده کوونکي په مناسبو ډلو وویشئ او د فابریکو د تاسیساتو او دهغو د ضررونو په هکله دې د ژوندانه په چاپیریال باندې بحث وکړي او د بحث پایله دې د ډلې استازې خپلو ټولگیو لو ته بیان کړي.



پوښتنې:

لاندې جملې بشپړې کړئ:

۱. صنعتي پاتې شوني په نړۍ کې د انسا نانولپاره ډیر لوی دی.

سم ځواب انتخاب کړئ:

۲. د اروپا کوم سیندونه ډیر ککړ دي:

الف: راین ب: ټایمز ج: دنیوب د: الف او ب سم دی

لنډه ځواب ورکړئ

۱. ولې په ښار کې د ننه د فابریکو شتون ضرر لري؟

۲. پاتې شوني څه ته وایي؟

۳. په کوم هیواد کې صنعتي پاتې شوني زیاتې دي؟

۴. د سمندر د حیواناتو د ژوندانه چاپیریال کوم پاتې شوني تهدیدوي؟

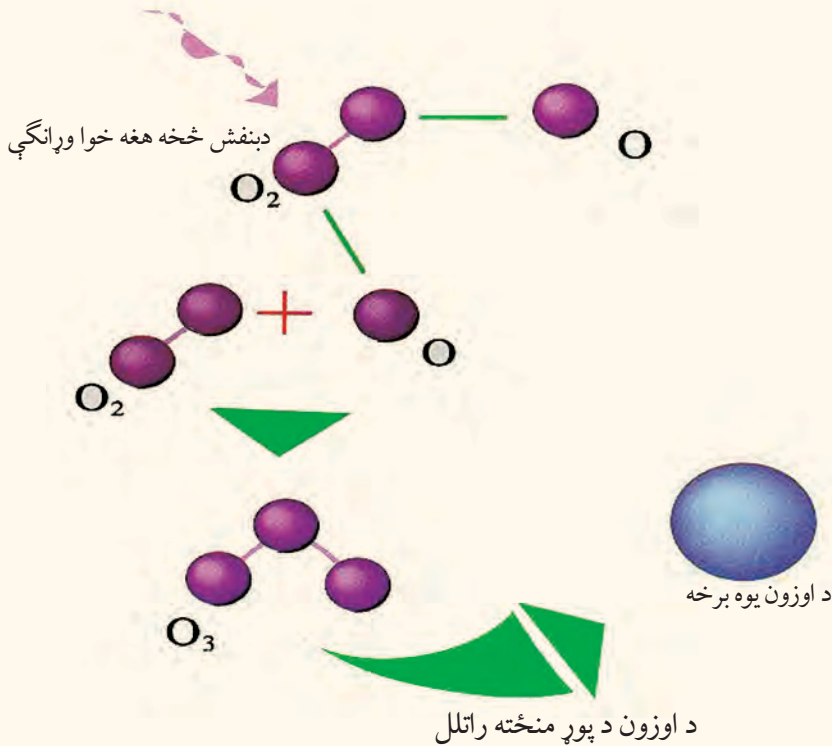


له ټولگي څخه بهر فعالیت:

د ژوندانه د چاپیریال په باره کې معلومات ورکړئ او د مضرو پاتې شونو لاملونه ولیکئ او په ټولگي کې یې وړاندې کړئ.

۸-۳. د اوزون د طبقي د نړۍ کیدلو خطر ونه:

ایا پخوا د اوزون د طبقي له کلمې سره اشنا وئ؟



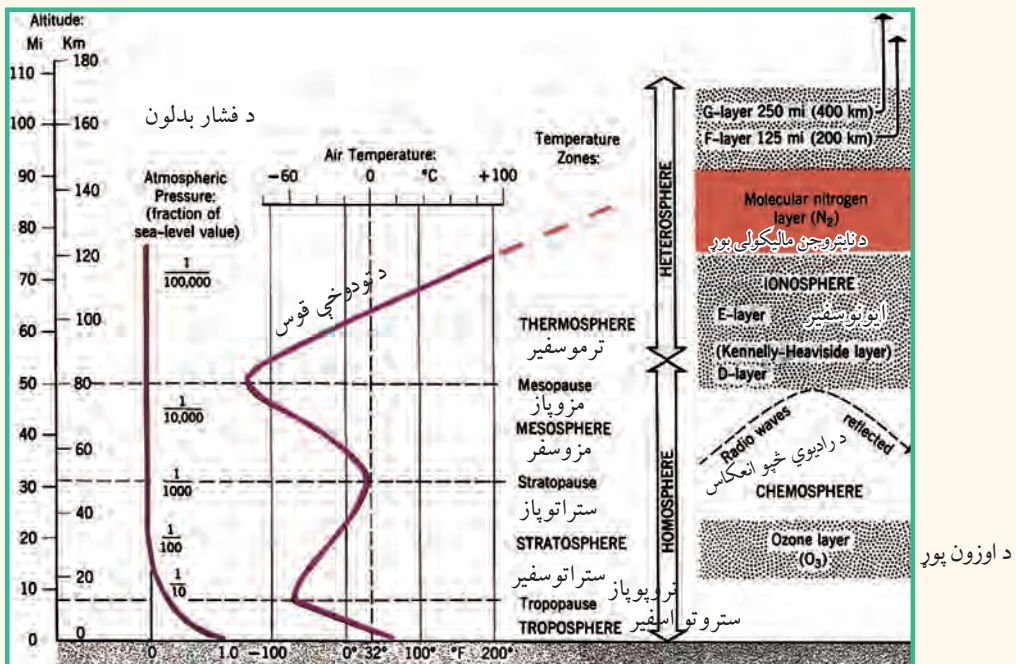
د اوزون O_3 طبقه د تروپو سفیر د طبقي له پاسه د سمندر له سطحې څخه د ۱۵ کیلو مترو په لوړ والي د بنفش څخه اخواته د وړانگې یا UV په وړاندې د یو خنډ په توگه عمل کوي. دغه وړانگې بڼایي دپوستکي د سرطان د سترگود عد سپي د نا بینایي او همدارنگه کرنیزو محصولاتو او د سمندر د کبانو د له منځه تللو او د نوري ترکیب د فوتوسنتز د عملیې د کمښت سبب گرځي د ژوند لپاره ډیره ضروري ده. له بنفش څخه اخواته وړانگې په درې ډوله دي:

۱. له بنفش څخه اخواته هغه وړانگې (UV-C) چې د څپو اوږدوالي یې له ۲۸۰ - ۲۰۰ نانو متر په توان وي. (یومیكرون متر له زرو نانومترو سره او یو میلیون نانومتره د یو ملي مترو سره مساوي دی.)

د دې وړانگې اغيزې په ځمکه او دهغې په او سیدونکو باندې ډېرې بڼې دي، چې ځمکه له بنفش څخه له اخواته وړانگو څخه ساتي. په تیره بیا هغه ژوندي موجودات چې انسان ورته اړتیا لري او انسان ته د خوړو په تولید کې گټور دي. که چېرې د اوزون طبقه په بشپړ ډول تخریب شي دغه وړانگې (UV-C) بیا هم خپله دنده په ښه ډول سرته رسوي یعنې د اوزون د طبقې تخریب UV په اشعه او دندو اغیزه نلري.

۲. له بنفش څخه اخواته وړانگې (UV-A) چې د څپو اوږدوالي یې ۲۸۰-۳۲۰ نانو متره وي. هغې ته فعالې وړانگې هم وایي چې د تل لپاره د وخت په تیریدو سره ژوند تخریبوي یعنې د ځمکې د اوسیدونکو لپاره خطرناکې وي. اغیزې سملاسي نه وي، خو د وخت په تیریدو د هغې منفي اغیزې په ژوند باندې خطرناکې وي.

۳. له بنفش څخه اخواته وړانگې (UV-B) چې د څپو اوږدوالي یې له ۳۲۰-۴۰۰ نانو متره وي.



دغه وړانگې د ځمکې د ټولو اوسیدونکو لپاره زیان لرونکې دي. د انسان او د ځمکې د نورو حیواناتو ژوند په مرگ گواښي. لکه چې مخکې مویادونه وکړه د سترگو د ښکته او د پوستکي د سرطان سبب گرځي.

ځمکه د استوګنې د ګډې سیمې په توګه د ټولو ژونديو موجوداتو د استوګنې ځای دی. باید له ټولو ککړتیا و وڅخه وساتل شي. د تروپوسفیر په طبقه کې د اوزون ګټور غاز چې ۱۱ کیلو متره پیروالی لري ځمکه چاپیره کړې ده.

د نایتروجن او اکسیجن غازونه په ژوند باندې مستقیمې اغېزې لري. په دې سر بېره د هغو جوړښت په ټولیز ډول د تروپوسفیر طبقه د بنفش څخه اخواته وړانگو څخه ساتي.

د اوزون طبقه O_3 د لمر د نور د وړانگو او د ځمکې د تروپوسفیر Troposphere د هوايي طبقې ترمنځ یوه حایل طبقه ده چې د انسانانو، حیواناتو او نباتاتو د ژوند لپاره د هر ډول فعالیت زمينه برابروي او د ځمکې حیاتي کره یا بایوسفیر Biosphere تمثیلوي.

نوله همدې امله د اوزون د طبقې نري کیدل او یا تخریب اوله منځه تلل، د ځمکې پر منځ ژوند له گواښ سره مخامخ کوي.

په ټولګي کې د ننه فعالیت:



زده کوونکي په مناسبو ډلو وویشئ او په لاندې موضوعاتو دې پخپل منځ کې بحث وکړي او د بحث پایله دې د ډلې مشر خپل ټولو لگیاو لوله ته وړاندې کړي:

۱. د اوزون طبقه څه حیاتي ارزښت لري؟
۲. له بنفش څخه اخواته UV-C وړانگې څه ارزښت لري؟
۳. له بنفش څخه اخواته UV-B وړانگې څه ځانګړتیاوې لري؟
۴. له بنفش څخه اخواته UV-A وړانگو ضرر توضیح کړئ.



پوښتنې:

لنډ ځواب ورکړئ

۱. له بنفش څخه اخواته کومې وړانگې د پوستکي د سرطان او د سترگو د ږنډیدو لامل گرځي؟

۲. بایو سفیر څه معنا لري؟

له څلورو ځوابونو څخه سم ځواب په نښه کړئ:

۱. له بنفش څخه اخواته د UV-C د وړانگو ځانگړتیا وی څه دي.

الف: د ژونديو ژوند تامینوي ب: د ځمکې پرمخ په ژوند باندې ناوړه اغېزه لري.

ج: هيڅ ډول اغېز نلري. د: د پوستکي د سرطان لامل گرځي.

۲. له بنفش څخه اخواته UV-B وړانگې:

الف: د ځمکې د مخ گټورې وړانگې دي ب: هيڅ اغېزه نلري

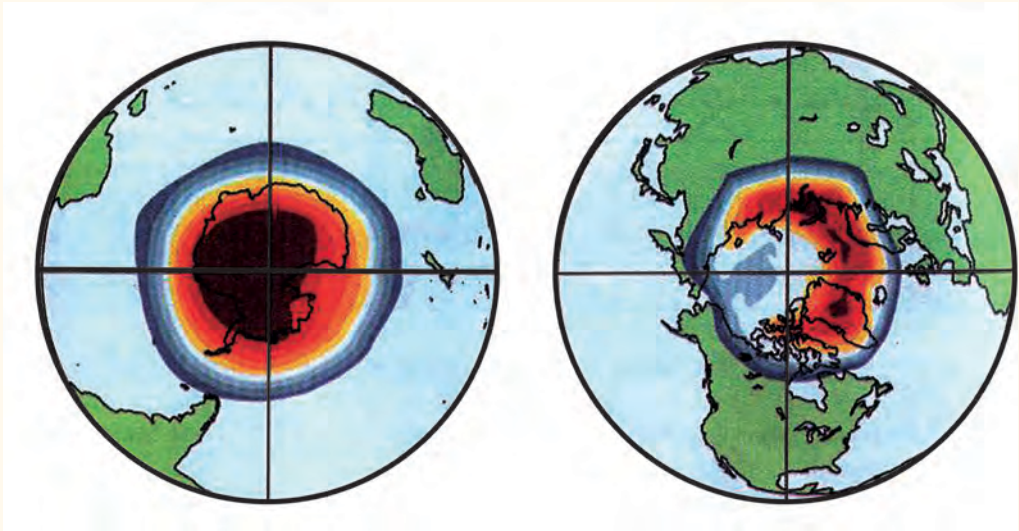
ج: منفي اغېزې نلري د: د ځمکې پرمخ د ژوند لپاره ضرر لري.



له ټولگي څخه بهر فعالیت:

له کتابتون او انټرنېټ څخه په گټه اخیستنه د اوزون د طبقې د اهمیت تر سرلیک لاندې معلومات راټول کړئ او د جغرافیې په راتلونکي ساعت کې یې خپلو ټولو لگيو لوته بیان کړئ.

د اوزون د طبقي زیانمن کیدل.



سویلي قطب

شمالي قطب

د اوزون طبقه د ځمکې په کره کې د ژوند د دوام لپاره څه ارزښت لري؟

فضا او د هوا طبقاتو په باره کې نوي مطالعات د ریموټ سنسنگ Remote sensing پواسط سرته رسیدلي دي. جغرافیه پوهانو وموندله چې د ځمکې د مخ د ساتنې قشر د گلخانه ای او C.F.C غازونو د زیاتوالي پواسط په جنوب قطب کې زیانمنه شوی ده. د اوزون طبقه انسان له هغو وړانگو څخه چې له بنفش څخه اخواته دي ساتي او د هغو شتون لازم او اړین دی.

لکه چې په تېرلوست کې ورباندې بحث وشو، د اوزون طبقه د اتموسفیر Atmosphere د طبقې ساتونکې قشر دی چې ژوندي موجودات د لمر وړانگو څخه چې له بنفش څخه د اخواته وړانگو په نوم یادېږي، ساتي. په ۱۹۴۷ میلادي کال کې ځینو پوهانو و موندله چې گلخانه یي غازونه لکه (کاربن ډای اکساید، متان غازونه او د نایتروجن اکساید) او د کلورو فلورو کاربن غاز چې د اوزون د غاز د طبقي د زیانمن کیدلو سبب گرځي، چې له سپروونکو دستگاوو Air condition لکه یخچالونه، ایرکنډیشن، سپروونکي ماشینونو او داسې نور

و څخه را وځي چې په پوره اندازه د فلوروکلورو کاربن غازو نه خارجوي او هوا ته پورته کيږي. دغه غاز د اتموسفیر په ټيټه طبقه کې د درند غازونو سره تعامل نکوي. کله چې د اوزون طبقې ته ورسېږي کيميايي تعامل کوي او د اوزون د طبقې د تخريب سبب گرځي. همدا رنگه پوهانو په ۱۹۸۷ ميلادي کال کې وموندله چې د جنوبي قطب ۵۰ سلنه د اوزون طبقه زیانمنه يا Deplete شوی ده ياله منځه تللي ده او پيروالی يې لږ شوی دی. چې پوهانو هيڅکله په دې اندازه د اوزون د طبقې د زیانمن کيدلو فکر نه کاوه. نوله همدې امله پوهانو په ۱۹۹۵ ميلادي کال کې د کانادا مونتريال بنا رکې راټول شول چې د اوزون د طبقې د نور زیات زیان مخه ونيسي او همدغه موضوع د نړيوالو غورځو ته ورسوي. نوله همدې امله په دې لويه علمي غونډه کې پر يکره وشوه چې د جنوب قطب د اوزون طبقې د نور لا زیات زیانمن کيدلو مخنیوی وکړي او هغه ترميم کړي او د کلوروفلورو کاربن د غاز د نورزیات توليد مخه ونيسي. خو متاسفانه ټول گډون کوونکي هیواد ونه د مونتريال پر يکرې ته ژمن پاتې شول.

په پای کې د نړۍ د ۱۲۴ هېوادونو استازي د لندن په بنا رکې راټول شول او دکلوروفلورو کاربن د زیات خطر او د توليد په باره کې يې بحث وکړ او په قاطع ډول يې پر يکره وکړه چې د مونتريال د غونډې په پيروي، په لندن کې د گلخانه يي غازونو او دکلوو فلورو کاربن غاز د توليد څخه په جدی توگه مخه ونيسي. په ۱۹۹۸ ميلادي کال کې وېنووول شوه چې په جنوبي قطب کې لوي سوری منځته راغلی دی چې پراخوالی يې ۲۶ ميلیونه کيلومتر مربع دی چې دغه پراخوالی د شمالي امريکا له پراخوالي سره مساوی دی. Van Alan چينايي پوه د نوموړی په کشفولو بريالی شو.

له ۱۹۹۹ څخه تر ۲۰۰۱ ميلادي کال پورې د امريکا د متحده ایالتونو پوهانو د NOAA او NASA ټولنو د فضايي څېړنوپه مرکز کې وموندله چې دوان الن کشفیات په واقعي ډول صحيح دي. په ۲۰۰۳ ميلادي کال کې د اوزون د طبقې دزیانمن کېدلو اندازه ۲۸ ميلیون کيلو متره مربع پراخوالي ته ورسیده.

پوهان په دې لټه کې شول چې په بېرني ډول د O_3 د تخريب څخه وساتي. په پای کې په دی

- بريالي شول چې په جنوبي قطب کې د اوزون د طبقي د زيانمن کېدلو مخه ونيسي. ځکه چې د اوزون د طبقي تخريب په ځمکه کې د لاندنيو زيانونو سبب گرځي:
- په ځمکه کې د يخچالونو ويلې کيدل.
 - د سمندرونو د اوبو د سطحي لوړيدل.
 - دوچکالي رامنځته کيدل او په ځمکه کې د کرنيزو محصولاتو کمښت.
 - له مخکينيو کلونو څخه د تودوخې د درجې زياتيدل.

په ټولگي کې د ننه فعاليت:



زده کوونکي په مناسبو ډلو وویشئ او د ځمکې پر مخ د ژونديو اجسامو لپاره د اوزون د قشر د ارزښت اوکله چې د اوزون طبقه تخريب شي د هغې ناوړه راتلونکي دي د ځمکې په کره کې تر بحث لاندې ونيسي او د بحث پایلې دې د ډلې مشر خپلو ټولو لگيو لوسته بيان کړي. ښوونکي دې د بحث پایله د خپلو معلوماتو سره يو ځای کړي او زده کوونکي ته دې وړاندې کړي.

پوښتنې:



لنډ ځواب ورکړئ:

۱. د اوزون د طبقي په باره کې لنډ معلومات وړاندې کړئ.
۲. د کلورو فلورو کاربن CFC غاز په کومو صنايعو کې کارول کېږي او د اوزون د طبقي لپاره څه ضرر لري؟
۳. ولې د اوزون طبقه تخريبېږي؟
۴. گلخانه يې غازونه کومو غازونو ته ويل کېږي او ولې په دې نوم يادېږي؟

لاندې جملې بشپړې کړئ:

- ۱- د لندن د ۱۹۹۵ ميلادي کال په غونډه کې کې پريکړه وشوه چې د _____ او _____
غازونو مخنيوي دې وشي.
۲. په ۱۹۹۸ ميلادي کال کې يو چينايي پوه چې..... نومېږي وموندله چې د اوزون د
طبقي زيانمن کېدل..... کيلو مترو مربعو ته رسيدلی ده.



له ټولگي څخه بهر فعاليت:

د ښوونځي له کتابتون، مجلو او نورو منابعو څخه د گلخانه يي غازونو او هغه لاملونو په هیکله
چې له هغو څخه يې سرچنه نېولي ده، څوکرښې وليکئ او د جغرافيه د مضمون په راتلونکي
ساعت کې يې خپلو ټولو لگيو لوت ته وړاندې کړئ.


۸-۴ د ځنگلونو پریکول:



ایا پوهېږئ چې د ځنگلونو پریکول د ژونديو موجوداتو لپاره څه ارزښت لري؟

ځنگلونه اود هغو طبيعي وده د خدای (ج) د نعمتونو څخه گڼل کېږي چې انسانانوته یې ور بخښلی دي. ځنگلونو دځمکې کرې ته ښکلا، صحتي او اقلیمي روتق ورکړی دي. ځکه چې د ځنگلونو شته والی د هوا په چاڼولو کې چې موږ یې تنفس کوو ځانگړی نقش لوبوي مضر غازونه لکه کاربن ډای اکساید جزبېږي او اکسیجن ازاد وي. اکسیجن حیاتي ماده ده چې موږ یې تنفس کوو. ځنگلونه د طبیعت د نظم په برابرولو، د ژوندانه د ښو شرایطو په ساتلو او د ځمکې دکرې د تودوخې د زیاتوالي د مخنیوي لپاره، ډیر اهمیت لري. په همدې ډول ځنگلونه د فوتوسنتز photosynthesis په عملیې نباتات د رښو په واسط له ځمکې څخه اوبه او مالگې جذبوي او پانې ته یې انتقالوي، پانې کاربنډای اکساید له هوا جذبوي اود لمر دروښنایي په شتون کې کاربو هایدرید تولیدوي او د ورځې اوکسیجن ازاد وي. چې د ژونديو موجوداتو د تنفس لپاره حیاتي ارزښت لري او برعکس د شپې له خوا کاربنډای اکساید خارجوي او اوکسیجن اخلي یعنی د کاربن او اوکسیجن د غازونو توازن تنظیموي.

- د ځنگلونو موجودیت د انسان لپاره لاندې گټې لري:
- د میوې او نباتاتو رېښې د ځینو انسانانو خواړه جوړوي.
- د ونو لرگي په ودانیو، د کور د سامانونو او کاغذ په جوړولو کې استعمالېږي.
- د ونو سیوری انسان له ډېرې تود وځي څخه ساتي.
- ځنگلونه د سیلابونو مخه نیسي، ځکه چې باران د ونو په پاڼو او څانگو لگېږي او چټکتیا یې وړوکوي. د ځنگلونو خاوره په وښو، ښاخونو او پاڼو پوښلې وي چې اوبه جذبوي اوله اوبو څخه ډکې ویالې جوړوي.
- د ځنگلونو له حاصلاتو څخه د درملو لپاره گټه اخلي.
- ځنگلونه د تفریح او ساعت تیرۍ لپاره مناسب ځای گڼل کېږي.
- ونې د موټرو، فابریکو او الوتکو غږ ونه کموي.
- د وحشي ژوو د ژوند چاپېریال جوړوي.
- د نړۍ په زیاترو سیمو کې د خوړو، د کورونو د سامانونو او سونگ توکو او نورو اړتیاوو د پوره کولو لپاره ځنگلونه پرې کوي د ۱۹۸۰ میلادي کال په لسیزه کې د نړۍ په زیاتو سیمو کې د ځنگلونو

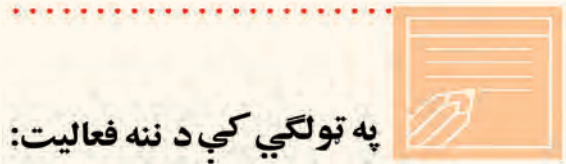


دپرېکو لو شاهدهیو. د احصایې له مخې یوازې د ځمکې په تودو استوایي سیمو کې، هر کال د ۱۰۵ ملیونو هکتارو په اندازه ځمکه له ځنگلونو څخه پاکېږي. د ځنگلونو پرې کول د ځمکې په کره کې د گټې پر ځای ډېر تاوان لري او اقلیم گډوډ وي. ځکه چې د نفوسو زیاتوالې او د صنعت زیات پرمختگ او فابریکو په اروپا، امریکا، افریقا، آسیا او اوقیانوسیه کې ځنگلونه محدود کړي. په دې وروستیو کلونو کې د ملگرو ملتونو شین سازمان جوړ شو. ددې خوځښت پلویان ددې ځنگلونو د پرېکولو مخه نیسي، خو تر اوسه بریالي شوی نه دي.

د ځنگلونو له منځه وړل د ژوند له منځه وړل دي

د ځنگلونو پرې کول په شمالي اوسپلی دواړو کرو کې يو شاته دي. د ځنگلونو پرې کول دنړۍ په زياترو هېوادونو کې ليدل کېږي چې د اور لگيدنې اوصنایعو لپاره پرې کېږي او د طبيعي زيرمويوه برخه له لاسه ورکوي په پايله کې صحرايي سيمې په چټکۍ پراخېږي. لاندې لاملونه د ځنگلونو له منځه وړلو کې زياته برخه لري:

۱. دکورونو جوړول اوپه نړۍ کې صنعتي پر مختيا.
۲. د ځنگلونه تبديلول په کرنيزه ځمکه .
- ۳- اور لگيدني.



په ټولگي کې د ننه فعاليت:

زده کوونکي په مناسبو ډلو وویشئ. يوه ډله دې د ځنگلونو د موجودیت په گټو او بله ډله دې د ځنگلونو د پرېکولو په ضرر يوله یل سره بحث وکړي او نتیجه دې د ډلې استازي خپلوټو لگيو لو ته بيان کړي.



پوښتنې:

لنډ ځواب ورکړئ:

۱. د فوتوسنتيز عمليه د هوا په پاکوالي کې څه اغېزې لري؟
۲. له ځنگلونو څخه کومه اقتصادي گټه اخېستل کېږي؟
- ۳- د ځنگلونو له منځه تلل د ژوندانه په چاپيريال څه اغېز لري؟
- سم ځوابونه د (س) په توري او ناسم ځوابونه د (غ) په توري په نښه کړئ:
۱. ځنگلونه د اتموسفير دوړې او خاورې له منځه وړي.
۲. د اوکسيجن او کاربن توازن په هوا کې تنظيموي.
۳. د ځنگلونو پرېکول زموږ د ژوندانه لپاره دومره گټور نه دي.
۴. د ځنگلونو تخریب په شمالي او جنوبي نيمه کره کې يو ډول دی



له ټولگي څخه بهر فعاليت:

په ډېر ځير سره د ځنگلونو د پرې کولو اغيزې دانسانانو د ژوند په آره وڅيړئ و پايله يې په کتابچو کې وليکئ او د جغرافيه په راتلونکي ساعت کې په ټولگي کې ولولئ

اصطلاحات

- ۱- اتموسفیر Atmosphere: هغه هوا چې ځمکه یې چاپیره کړې ده. اتموسفیر بیلا بیلې طبقې غازونه او مواد لري. د اتموسفیر عناصر O_2 ، N ، CO_2 ، هیلوم He ، میتان CH_4 او کریتون kr دي. ترپوسفیر Troposphere له ۰-۱۲ کیلو مترو پورې دی.
- ۲- ستراتوسفیر Stratosphere ۱۲-۴۸ کیلو مترو پورې دی.
- ۳- میزوسفیر Mezosphere ۴۸-۹۸ کیلو مترو پورې دی.
- ۴- ترموسفیر Thermosphere ۹۸-۶۸۹ کیلو مترو پورې دی.
- ۵- اگزوسفیرد Exosphere ۶۸۹ کیلو مترو څخه زیات
- ۲- اجباري مهاجرتونه: هغه مهاجرتونه چې په خپله خوښه او رضا نه کېږي لکه د جگړو او طبیعي افتونو په سبب مهاجرت کول.
- ۳- استرو نومي Astronomy: د لمر، ستورو، سیارو او نورو اسماني اجرامو تحقیقي علم دي.
- ۴- اسناد Document: تحقیقي رسمي اوداسي نور اسناد.
- ۵- انترنېټ Internet: تنظیم شوی سیستم دی چې د تجارتي، صنعتي، رسمي او تحقیقي اطلاعاتو او پیغامونو په چټکو لېږدولو کې ورڅخه کار اخیستل کېږي او د اطلاعاتو د انتقال نوی سیستم گڼل کېږي.
- ۶- اقلیم Climate: په یوه اوږد مه موده کې (له ۳۰ څخه تر ۴۰ کلنو کې) د ځمکې د آب و هوا منځني حالت ته ویل کېږي.
- ۷- اقتصادي فعاله نفوس: د یوه هېواد هغه نفوس ته ویل کېږي چې په تولیدي او غیر تولیدي اقتصادي ساحو کې بوخت دي. (د ۱۵ څخه تر ۶۰ کلنۍ پورې)
- ۸- اکسیجن (O_2): کیمیاوي غاز دی چې د ژونديو موجوداتو لپاره گټور دی.
- ۹- ایکولوژي Ecology: چې د انسانانو نباتاتو او حیواناتو اړیکې د طبیعي چاپیریال سره مطالعه کوي.
- ۱۰- ایمیل E.mail یا برېښنالیک: یو تنظیم شوی سیستم دی چې په اوسني تکنالوژۍ کې د یوې بڼې منبع په توگه په چټکۍ د اطلاعاتو او پیغامونو په انتقال کې کارول کېږي.
- ۱۱- بهرني مهاجرتونه: هغه مهاجرتونه ته ویل کېږي چې خلک د یو هېواد څخه بل هېواد ته مهاجرت کوي. تر څو دهغه هېواد د شرایطو یا دنظر وړ هېواد د ټولنیزو مختلفو برخو د فعالیتونو څخه گټه واخلي.
- ۱۲- ترانزیت: د Traitus کلمې څخه اخیستل شوي ده چې معنایې تیریدل دي یعنې د هېوادونو ترمنځ د یوه ستیشن څخه بل ستیشن ته د مالونو او مسافرینو انتقالیدل دي.
- ۱۳- ترانزیستور Transistor د نوې تکنالوژۍ لویه وسیله ده چې د مخابراتي وسیلو د نوو پر مختگونو سبب شوی دی.
- ۱۴- پست Post: د لیکونو او پارسلونو د لېږلو وسیله ده.
- ۱۵- پاتې شوني waster: د فابریکو او صنایعو پاتې شوي توکي.

۱۶- جبې: هغه ټيټه سيمه چې زيات لنډه بل ولري او معمولاً اوبېز بوتېي او وابنه په کې شنه شوي وي او د ډنډونو بر خلاف په اوبو نه وي پوښل شوي.

۱۷- څوړي slope: هغه سطحه چې مايله ده او څوړې ولري.

۱۸- زېږونونه Birth Rate: په يوه ټولنه (ښار، سيمه او هيواد کې) په يوه کال کې د زېږونو شمېر په هرو زرو تنوکې ټاکل کېږي.

زېږيدنو شمېر

$$\frac{\text{زېږونونه په کال کې}}{\text{په هرو زرو تنوکې}} =$$

۱۹- غازونه: د مادي يو حالت دي چې په طبيعت کې ليدل کېږي لکه اوبه د جامد په حالت کې د کنکال په څير، د مايع په حالت د اوبو په شکل او پراس حالت د غاز په څېر ليدل کېږي.

۲۰- د اوزون قشر (O₃): د ځمکې محافظوي قشر دي چې تروپوسفير د طبقې د پاسه موقعيت لري او ځمکه له بنفش څخه هغه خوا وړانگو څخه ساتي.

۲۱- دا و يو دوران Hydro cycle: د سمندر اوبه د تبخير پواسط په بخار بدلېږي او هوا ته پورته کېږي او د سوړ والي پواسط بيا د باران په شکل ځمکې ته راځي او د سيندونو پواسط سمندر ته ځي.

۲۲- د نقلې وسيلې Transportation: هغه وسيلې چې د تجارتي کاليو او خلکو د انتقال لپاره کارول کېږي.

۲۳- د نفوسو گڼوالی: په يوه ټاکلي ساحه کې د هغو اوسيدونکو ته ويل کېږي

د يوې سيمې ټول نفوس

$$\frac{\text{د يوې سيمې د نفوسو منځي گڼوالی}}{\text{د سيمې پر ټول پراخوالی}} =$$

۲۴- د نفوسو طبيعي وده: د زېږيدنو او مړينو دواړو لاملونو پورې اړه لري په يو هېواد يا يوه سيمه کې د نفوسو د طبيعي ودې د شمېرنې لپاره بايد د پام وړ کال کې د زېږيدونو دودې او د مړينو اندازه و شمېرل شي او پایله يې په سلنو اعلان شي.

د زېږيدونو شمېر - د مړينو شمېر

$$\frac{\text{د زېږيدونو شمېر} - \text{د مړينو شمېر}}{\text{د نفوسو طبيعي وده}} =$$

په هغه صورت کې چې د زېږيدنو شمېر د مړينو څخه زيات وي د نفوسو طبيعي وده شتون لري.

۲۵- د نفوسو ميخانيکي حرکت: هغه حرکتونه چې سياسي، اقتصادي او مذهبي او نورو لاملونو په سبب د هېواد څخه بهر ته کېږي د نفوسو د ميخانيکي حرکت څخه عبارت دي. د ننو مهاجرتونو د نفوسو د دوهم ځلي ځاي پر ځاي کېدنې سبب کېږي د نفوسو په شمېر اغيزه نه لري. خو بهرني مهاجرتونه د نفوسو په شمير مهمه اغيزه لري. که مهاجرتونه هېواد ته د بهر څخه نسبت هغو مهاجرتونو

ته چې د هېواد څخه بهر ته کېږي ډېر وي د نفوسو ميخانيکي وده منځته راغلې ده.

۲۶- د نفوسو چاودېدنه: د نفوسو دشمېر چټک زياتوالي په وروسته پاتې هېوادونو کې د مړينې د سطحې راټيټدل او د زېږونو شمېر په لوړه سطحه ساتلو ته د لويديځ پوهان د نفوسو چاودېدنه وايي.

۲۷- دايمي مهاجرتونه: هغه مهاجرتونه دي چې مهاجرين يې خپل لومړني ټاټوبي ته د بېرته راتللو نيت ونه لري.

۲۸- د ننني مهاجرتونه: هغه مهاجرتونه چې په دايمي يا موقتي (موسمي) توگه د هېواد په دننه کې عملي کېږي.

۲۹- ديموگرافي: د يوناني کلمې ديموس Demos (خلک) او گراف Graph (ترسيم) څخه ترکيب شوي. چې د نفوسو د طبيعي زياتوالي، هجرت، جنس، عمر، کسب او کار او نورو ځانگړتياوو د مطالعې څخه عبارت دي

۳۰- ډله ييزې اړيکي يا Telecommunication لکه راډيو، تيليفون، موبایل، انټرنېټ، دسپور مکیو سيستم او داسې نور.

۳۱- کلورو فلورو کاربن مخفف C. F. C دی.

۳۲- ککړتيا Pollution: هغه پروسه ده چې په مستقيم يا غير مستقيم ډول د هغې پواسط د چاپيريال يوه برخه د ژوند لپاره نا مساعده کېږي يا خطرناکه گرځي. ککړتيا په چاپيريال کې د يوه يا څو عناصرو، لکه لوگي او غازونه په هوا کې او يا په سمندر کې د نفتي موادو زياتوالي د نفت وړونکو ټانکرونو دسوري کولو پواسط ککړېږي. تيزابي بارانونه او داسې نور.

۳۳- کنگلونه: د يخ ټوټې چې د غرونو په لورو برخو او قطبينو کې شتون لري.

۳۴- لويې لارې High way: د ځمکني ترانسپورت عمومي سرکونه.

۳۵- ناسا NASA: د امريکا د متحده ايالتونو د فضايي تحقيقاتو مؤسسه

مړينه: په زړو تنو کې د مړينې اندازې ته ويل کېږي.

د مړو شمېر

په يوه کال کې مړينه = په هرو زروتنو کې

۳۶- مهاجرت immigration د استوگنې د ځاي بدلون ديوې سيمې څخه بلې سيمې ته مهاجرت ويل کېږي که دا مهاجرت د هېواد په دننه کې وي د Internal Displacement په نوم

م او که د يوه هېواد څخه بل هېواد ته وي د immigration په نوم ياديږي.

۳۷- ميډيا Media يادله ييزه اړيکې چې تلوزيون، راډيو او چاپ شوي مطبوعات او داسې نور احتواکوي.

۳۸- مصنوعي سپوږمکی Satellite: د نوي تکنالوژۍ ډېره عصري وسيله ده چې د ځمکې او سيارو مطالعه کوي.

۳۹- مگنتوسفير Magnetosphere: د ځمکې به شاوخواکې د مقناطيسي کري څخه عبارت دی

۴۰ - نړیوال توب Globalization

۴۱ - موقتي مهاجرتونه: هغه مهاجرتونه دي چې مهاجرین خپل لومړني ټاټوبي ته بېرته د راتگ نیت لري. لکه د دکوچیانو موسمي مهاجرتونه

۴۲ - سلولر Celleular: مخابراتي نوې وسیله ده چې کوچنی او لوی سیمې د مخابراتي تر پوښښ لاندې راولي.

۴۳ - فکس Fax: میخانیکي جوړښت دی چې دهغه پواسطه اطلاعات او اسناد لکه اقتصادي، تجارتي، دفتری او تحقیقي لیرې او نژدې وټن ته په لږ وخت کې له یوه ځایه بل ځای ته لیږدوي.

۴۴ - هایډروسفیر Hydrosphere: او بلنې کرې ته ویل کېږي. ځمکه د سمندرونو او نورو او بلنو عناصرو پواسطه چاپېره شوې ده.

۴۵ - Remote Sensing: د اوسني وخت عصري تکنالوژي ده چې له لېرې وټن څخه معلومات ورکوي.

۴۶ - Interface Message Processor (I M P): له یو کمپیوټر څخه بل کمپیوټر ته د پیغامونو لېږدول دي