



د پوهنې وزارت

د تعلیمي نصاب د پراختیا او د
ښوونکو د روزنې معینیت
د تعلیمي نصاب د پراختیا او درسي
کتابونو د تالیف لوی ریاست

جغرافیه

نهم ټولگی

جغرافیه - نهم ټولگی



درسي کتابونه د پوهنې په وزارت پورې اړه لري. په بازار کې يې
پيرودل او پلورل په کلکه منع دی. له سر غړوونکو سره به يې
قانوني چلن وشي.



ملي سرود

دا عزت د هر افغان دی
هر بچی یې قهرمان دی
د بلوڅو د ازبکو
د ترکمنو د تاجکو
پامیریان، نورستانیان
هم ایماق، هم پشه پان
لکه لمر پر شنه آسمان
لکه زره وي جاویدان
وایو الله اکبر وایو الله اکبر

دا وطن افغانستان دی
کور د سولې کور د تورې
دا وطن د ټولو کور دی
د پښتون او هزاره وو
ورسره عرب، گوجر دي
براهوي دي، قزلباش دي
دا هیواد به تل خلیږي
په سینه کې د آسیا به
نوم د حق مودی رهبر

بِسْمِ اللَّهِ الرَّحْمَنِ الرَّحِيمِ



د پوهنې وزارت
د تعلیمي نصاب د پراختیا او د ښوونکو
د روزنې معینیت
د تعلیمي نصاب د پراختیا او درسي
کتابونو د تالیف لوی ریاست

جغرافیه نهم ټولگی

۱۳۹۶ هـ.ش



ليکوالان

- پوهنمل دکتور اندوس رحمت ځواکمن
- د مؤلف مرستيال رحمن عنايت
- د سر مؤلف مرستيال سامعه واعظ
- سر مؤلف محمد رفيق مومند

مسلكي ايډيټ

- سر مؤلف الحاج نجيب الله امين افغان
- پوهنمل دکتور اندوس رحمت ځواکمن

د ژبې ايډيټ

- د سر محقق مرستيال سيد محي الدين هاشمي

ديني، سياسي او فرهنگي کمیته

- مولوي عبدالصبور عربي
- حبيب الله راحل د پوهنې وزارت سلاکار د تعليمي نصاب د پراختيا په رياست کې.

د څارنې کمیته

- _ دکتور اسدالله محقق د تعليمي نصاب د پراختيا او د ښوونکو د روزنې معين.
- _ دکتور شېرعلي ظريفي د تعليمي نصاب د پراختيا د پروژې رئيس.
- _ دکتور محمد يوسف نيازی د تعليمي نصاب د پراختيا او درسي کتابونو د تالیف لوی رياست سرپرست.

طرح او ډيزاين: حميدالله غفاري

بسم الله الرحمن الرحيم

د پوهنې د وزیر پیغام

د لوی خدای ﷻ ډیر شکر دی چې انسان یې په احسن تقویم کې پیدا او هغه ته یې د خبرو کولو توان ورکړ او د علم او فکر پر ګاڼه یې سمبال کړ. ډیر درود دې وي د اسلام پر ګران پیغمبر حضرت محمد مصطفیٰ ﷺ چې د انسانیت ستر ښوونکی دی او د رحمت، لارښوونې او روښنایې پیغام راوړونکی.

ښوونه او روزنه په هره ټولنه کې د بدلون او پراختیا بنسټ دی. د ښوونې او روزنې اصلي موخه د انسان د بالقوه ځواکونو فعالول او د هغه د پټو استعدادونو غوړول دي.

درسي کتاب د ښوونې او روزنې په بهیر کې یو مهم رکن بلل کېږي چې له نوو علمي بدلونونو او پرمختګونو سره اوږه په اوږه د ټولني له اړتیاوو سره سم تالیف کېږي. درسي کتابونه باید د منځپانګې له مخې خورا بډای وي چې وګړي شي د علومو له نوو لاسته راوړنو سره مل دیني او اخلاقي زده کړې د نوو میتودونو له لارې زده کونکو ته ولیږدوي. دغه کتاب چې اوس ستاسو په واک کې دی، د همدغو پورته ځانګړنو پر بنسټ چمتو او تالیف شوی دی. د پوهنې وزارت تل زیار باسي چې په هیواد کې تعلیمي نصاب او درسي کتابونه د اسلامي ښوونې او روزنې او د ملي هویت د ساتلو پر بنسټ جوړ او له علمي معیارونو، نوو روزنیزو میتودونو او د نړۍ له علمي پرمختګونو سره سم چمتو کړي. د زده کونکو استعدادونه په ټولو اخلاقي او علمي خواوو کې وغوړېږي او په هغوی کې د تفکر او نوښت توان او د پلټنې حس پیاوړی کړي. د خبرو اترو او پیرزوینې د فرهنگ دودول، د هیواد پالنې او د مینې او محبت د حس پیاوړی کول، بنسټه او پیوستون د پوهنې د وزارت نورې غوښتنې دي چې ښایي د لوست په کتابونو کې ورته پام وشي.

درسي کتابونه د ښه او مسلکي ښوونکي له درلودو پرته نشي کولای ټاکل شوي موخې ترلاسه کړي. ښوونکی د ښوونې او روزنې یو مهم جزء او د ښوونې او روزنې د پروګرامونو پلي کونکی دی. د هیواد له ژمنو او زړه سواندو ښوونکو څخه، چې د تورتم او ناپوهۍ په وړاندې یې جګړه خپله دنده ګرځولی، دوستانه هیله لرم د تعلیمي نصاب په دقیق او مخلصانه تطبیق کې د هیواد ماشومان، نجونې او تنکي ځوانان د پوهې، اخلاقو او معنویت لوړو څوکو ته ورسوي.

د هیواد د زده کړې د نظام بری د خلکو له جلدې مرستو پرته امکان نه لري. له دې امله له ټولو قشرونو او د ملت له شریفو خلکو، په تیره بیا له کورنیو او د زده کونکو له درنو اولیاوو څخه هیله لرم چې د معارف د موخو د لاسته راوړو په برخه کې له هېڅ ډول مرستې څخه ډډه ونه کړي. دغه راز له ټولو لیکوالو، پوهانو، د ښوونې او روزنې له ماهرینو او د زده کونکو له محترمو اولیاوو څخه هیله کېږي چې په خپلو رغنده نظرونو، وړاندیزونو او نیوکو د درسي کتابونو په لاینه والي کې د پوهنې له وزارت سره مرسته وکړي.

لازمه بولم له ټولو ښاغلو مؤلفانو، د پوهنې وزارت له اداري او فني کارکوونکو او له ملي او نړیوالو بنسټونو څخه، چې د دغه کتاب په چمتو کولو، چاپولو او ویش کې یې زیار ایستلی او مرسته یې کړې، مننه وکړم. په پای کې له لوی خدای ﷻ څخه غواړم چې په خپله بې پایه مهربانۍ له مور سره د پوهنې د سپیڅلو ارمانونو په لاسته راوړلو کې مرسته وکړي. انه سمیع قریب مجیب.

د پوهنې وزیر

دوکتور اسدالله حنیف بلخي



لړلیک

مخ

سرلیک

لومړی څپرکی

- لومړی لوست.....موقعیت او څلور خواوې ۴-۳
- دویم لوست.....طبیعی جغرافیه، ۶-۵
- درېیم لوست..... الف - غرونه ب - سیندونه..... ۱۰-۷
- څلورم لوست.....د کانگو حوزه ۱۴-۱۱
- پنځم لوست.....ج - جهیلونه..... ۱۶-۱۵
- شپږم لوست.....د - سمندرګی (بحیرې)..... ۲۰-۱۷
- اووم لوست.....ه - خلیجونه..... ۲۲-۲۱
- اتم لوست.....و - اقلیم..... ۲۴-۲۳
- نهم لوست.....مختلفې اقلیمي سیمې..... ۲۸-۲۵
- لسم لوست.....سیاسي جغرافیه..... ۳۲-۲۹
- یوولسم لوست.....بشري جغرافیه..... ۳۶-۳۳
- دوولسم لوست.....دین او ژبه..... ۳۸-۳۷
- دیارلسم لوست.....اقتصادي جغرافیه الف - کرنه او مالداري..... ۴۰-۳۹
- څوارلسم لوست.....ب - کانونه او صنایع..... ۴۲-۴۱
- پنځلسم لوست.....مواصلاتي جغرافیه..... ۴۴-۴۳
- شپاړسم لوست.....د اوبو له لارې وړل او راوړل..... ۴۶-۴۵
- د لومړي څپرکې لنډيز..... ۴۷
- د افریقا د خپلواکو هېوادونو د ځینو جغرافیایي ځانګړنو جدول..... ۴۹-۴۸

سرلیک

مخ

۵۰	دویم څپرکی
۵۳	اوولسم لوست..... د استرالیا موقعیت
۵۳	الف - څلور خواوې
۵۴-۵۱	ب - د استرالیا کشف
۵۸-۵۵	اتلسم لوست..... طبعي جغرافیه
۵۸-۵۵	الف - غرونه
۶۰-۵۹	نولسم لوست..... ب - د استرالیا سیندونه
۶۲-۶۱	شلم لوست..... ج - جهیلونه
۶۴-۶۳	یوولسم لوست..... د - اقلیم
۶۶-۶۵	دوه ویلسم لوست..... د استرالیا سیاسي جغرافیه
۶۸-۶۷	درویشتم لوست..... بشري جغرافیه
۷۰-۶۹	څلورویلسم لوست..... دین او ژبه
۷۴-۷۱	پنځه ویلسم لوست..... اقتصادي جغرافیه
۷۶-۷۵	شپږویلسم لوست..... کانونه او صنایع
۷۸-۷۷	اووه ویلسم لوست..... مواصلاتي جغرافیه
۸۰-۷۹	اته ویلسم لوست..... اقیانوسیه
۸۲-۸۱	نه ویلسم لوست..... اقتصادي حالت
۸۶-۸۳	دیرشم لوست..... نوی زیلانده (New Zealand)
۸۸-۸۷	یو دیرشم لوست..... انټارکتیکا (جنوبي قطب)
۸۹	د دوهم څپرکي لنډيز
۹۱-۹۰	اصطلاحات

افریقا



د افریقا موقعیت د نړۍ په نقشه کې

په نقشه کې د افریقا لویه وچه گورئ.

په دې څپرکي کې لولو:

• موقعیت او څلورخواوې

• طبیعي جغرافیه

- غرونه

- سیندونه

- جهیلونه

- سمندرګي (بحیرې)

- خلیجونه

- اقلیم

• سیاسي جغرافیه

- بشري جغرافيه
- اقتصادي جغرافيه
- مواصلاتي جغرافيه

ددي څپرکي عمومي موخې (هدفونه)

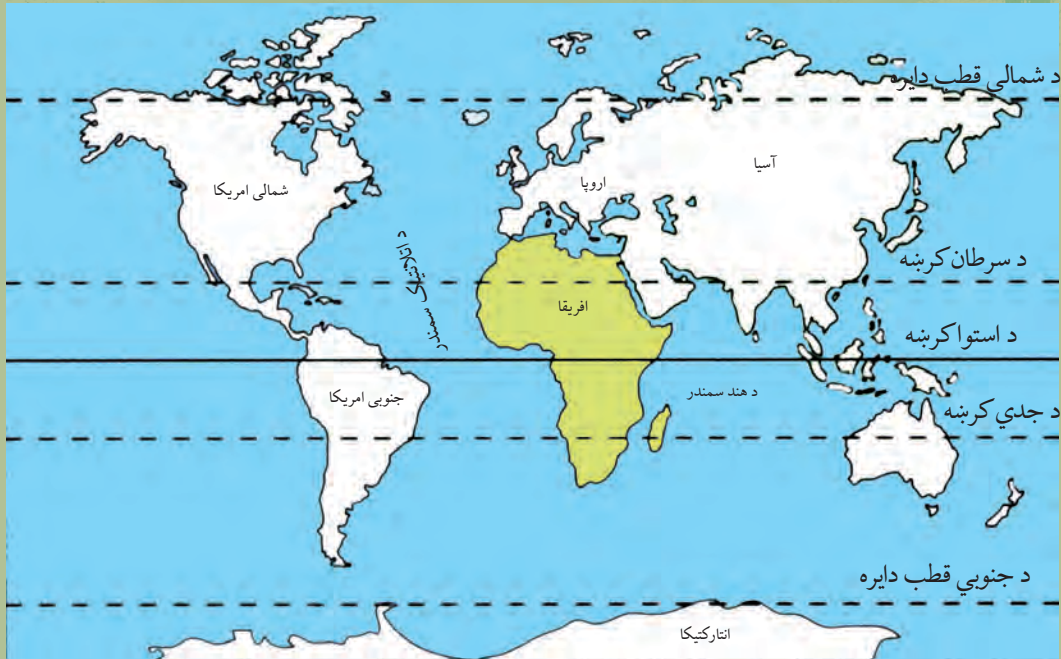
زده کوونکي دي په دي څپرکي کې لاندې موخو ته ورسېږي.

- د افریقا د لویې وچې له جغرافیایي موقعیت سره بلدتیا.
- د افریقا د لویې وچې له مهمو غرونو سره بلدتیا.
- د افریقا له مهمو سیندونو، جهیلونو او سمندرګیو سره بلدتیا.
- د افریقا د لویې وچې له سیاسي جغرافیې سره بلدتیا.
- د افریقا د لویې وچې له بشري جغرافیې سره بلدتیا.
- د افریقا د لویې وچې له اقتصادي جغرافیې (کرنې، کانونو، صنعت او سوداګرۍ) سره بلدتیا.
- د افریقا د لویې وچې له مواصلاتي جغرافیې سره بلدتیا.

ګران زده کوونکي کولای شي په دي څپرکي کې لاندې مهارتونه حاصل او زده کړي:

- د افریقا د لویې وچې جغرافیایي موقعیت د نقشې پرمخ وټاکي.
- د افریقایي هیوادونو جغرافیایي موقعیت د نقشې پرمخ وښيي.
- د افریقا د لویې وچې د وګړو ټولنیز او قومي ترکیب بیان کړي.
- د افریقا د لویې وچې اقتصادي حالت بیان کړي.

موقعیت او څلور خواوې



د افريقا د لويې وچې نقشه

آيا پوهیږئ چې تور پوستکي خلک ډیر په کوم لويې وچې کې ژوند کوي؟

پورته شکل ته وگورئ. د افريقا لويه وچه د اروپا د لويې وچې په جنوب او د اسيا د لويې وچې په جنوب لويديځ کې، د هند سمندر، اطلس (اتلانتیک) سمندر او د مديترانې د سمندرگي ترمنځ د شمالي عرض البلد د ۳۶ درجو او د سويلي عرض البلد د ۳۴ درجو، د لويديځ طول البلد د ۱۸ درجو او د ختيځ طول البلد د ۵۳ درجو ترمنځ پرته ده. افريقا د ټولې نړۍ د پراخوالي د $\frac{1}{5}$ برخې په شاوخوا کې په برکې نيسي. په داسې حال کې چې د ټولې نړۍ پراخوالی (د وچې او اوبو په گډون) ۱۰،۰۰۰،۰۰۰، ۵۱۰،۰۰۰ کیلومتره مربع اټکل شوی دی او له دې جملې څخه تقريبا په دريو کې يوه برخه يعنې ۱۴۸،۶ ميليونه کیلومتره مربع يې وچه او پاتې ۳۶۰ ميليونه کیلومتره مربع يې اوبه دي.

د افريقا لويه وچه د ۳۰ ميليونو کیلومترو مربعو په پراخوالي سره د اسيا او امريکا د لويو وچو څخه وروسته درېيمه درجه لري. په ۲۰۱۷ م کال کې د افريقا د وگړو شمير ۱،۲ بيلياردو تنو څخه زيات دی.

- د نقشې پر مخ د افريقا د لويې وچې موقعیت وښايست او څلور خواوې يې بيان کړئ.

د افريقا لويه وچه د شمال له خوا د مديترانې په سمندرگي، د ختيځ له خوا د هند په سمندر او سور سمندرگي او د سويل له خوا د هند د سمندر او اطلس سمندر په گډو اوبو پورې نښتې ده. د لويديځ خواته يې د اتلس سمندر دی. د سونز د کانال په کيندلو سره د مديترانې او سور سمندرگي ترمنځ د اوبو لاره منځته راغلې ده.

د افريقا لويه وچه له څلور خواو څخه په سمندرونو او سمندرگيو پورې نښتې ده او د يوه ټاپو بڼه يې غوره کړې ده.

دا لويه وچه په شمال لویدیځه څنډه کې د جبل الطارق د نړۍ آبناء په واسطه د اروپا له لویې وچې څخه او په شمال ختیځ کې د باب المنډب د آبناء او سور سمندرګي په واسطه د آسیا له لویې وچې څخه راپهله شوې ده.



د افریقا د لویې وچې سپینه نقشه

د ټولګي دننه فعالیت

زده کوونکي دې په ټولګي کې په ډلو وویشل شي او هره ډله دې نورو ته د نقشي له مخې د پوښتنې او ځواب په توګه د افریقا د لویې وچې جغرافیایي موقعیت او څلور خواوې ووايي.

پوښتنې:

- ۱- د سویز د کانال په کیندلو سره د کومو سمندرګیو ترمنځ د اوبو لار منځته راغلې ده؟
 - ۲- د سویز کانال د افریقا په کومه برخه کې موقعیت لري؟
 - ۳- د افریقا لويه وچه له اسیا څخه د کومې آبناء په وسیله بېله شوې ده؟
- سم ځواب وپېژنئ.
- الف) د جبل الطارق آبناء ب) د باب المنډب آبناء
ج) د بیرنگ آبناء د) د درانیل آبناء

له ټولګي څخه بهر فعالیت

زده کوونکي دې د افریقا نقشه په خپلو کتابچو کې رسم کړي. او هم دې ووايي چې کومو اېناوو افریقا له اسیا او اروپا څخه بېله کړې ده.



د افریقا د لویې صحرا یوه څنډه

د افریقا طبیعي نقشه

په افریقا کې کوم مشهور غرونه شته دي؟

پورته شکل ته وگورئ. د افریقا لویه وچه د جغرافیایي جوړښت له مخې د صافو غاړو لرونکې ده او زیاتې لورې او ژورې نه لري، نو ځکه په دې لویه وچه کې د آسیا او شمالي امریکا په شان لوی خلیجونه او ټاپو وزمې نه لیدل کېږي. خو ددې لویې وچې په منځ کې پراخې لورې سطحې منځته راغلي، چې شاوخوا یې لوړو غرونو په ځانگړي ډول ختیځه خوا یې په لوړو غرونو پورې نښتې ده، خو په عمومي توگه په دې لویه وچه کې غرونه او لورې ژورې لري دي.

– غرونه

د افریقا د لویې وچې مهم غرونه د اطلس غرونه دي چې د افریقا په شمال لویدیځ کې د ۴۰۰۰ مترو څخه په ډېر لوړوالي سره د ساحلي موازي لړۍ په توگه چې د ایټالیا د هېواد د اپنین د غرونو دلرېو یوه برخه شمېرل کېږي د مدیترانې د سمندرگي او لویې صحرا ترمنځ پراته دي. دا لړۍ د تونس له هېواد څخه پیل او د لویدیځ په لور غزیدلې ده او د منځني اطلس، ساحلي اطلس، او کوچني اطلس په نوم یادېږي. د گیني غرونه د گیني د خلیج په شمال لویدیځ کې د ساحل سره موازي پراته دي. ددې لړۍ ډیر لوړ ارتفاعات په لویدیځ کې د فوټا جالون غرونه دي

چې د ۱۵۰۰ مترو څخه ډیر لوړوالی لري. د افریقا په ختیځ کې لوړې ځمکې شته چې د حبشې د لوړو سطحو په نوم یادېږي. همدارنگه د ویکتوریا د جهیل په ختیځ کې د ختیځې افریقا لوړې پرتې دي چې د کینیا لوړې ۵۱۹۹ متره او د کلیمانجارو څوکه ۵۸۹۵ متره لوړوالی لري. د افریقا د لویې وچې نور غرونه د تبستي غرونه دي چې په صحرايي سیمو کې پراته دي، لوړه څوکه یې د امی قوسی په نوم یادېږي او د سمندر له سطحې څخه تقریبا ۳۵۰۰ متره لوړوالی لري.

- د افریقا د لویې وچې لویه صحرا ددې براعظم په کومه برخه کې موقعیت لري؟
 صحرايي سیمې چې د افریقا په شمال کې پرتې دي د لویې صحرا په نوم، د نړۍ لوی شکلنځایونه تشکیلوي، چې زیاتره برخې یې د کرنې وړ نه دي. د افریقا ساحلي برخې سمندر ته د نږدېوالي په سبب کرنیزې برخې تشکیلوي لکه د مصر، لیبیا او الجزایر شمالي سیمې، همدارنگه سوېل ختیځو سواحلو هم کرنیزې حاصل خیزې ځمکې منځته راوړې دي. په ختیځو سواحلو کې د موزمبیق او سومالیې د هېوادونو په اوږدو کې هم مهمې کرنیزې سیمې شته دي.

د ټولګي دننه فعالیت

زده کوونکي دې په ډلو وویشل شي او هره ډله دې د لوست په غوره مطلبونو بحث او خبرې وکړي او پایلې دې نورو ټولګیوالو ته وړاندې کړي.

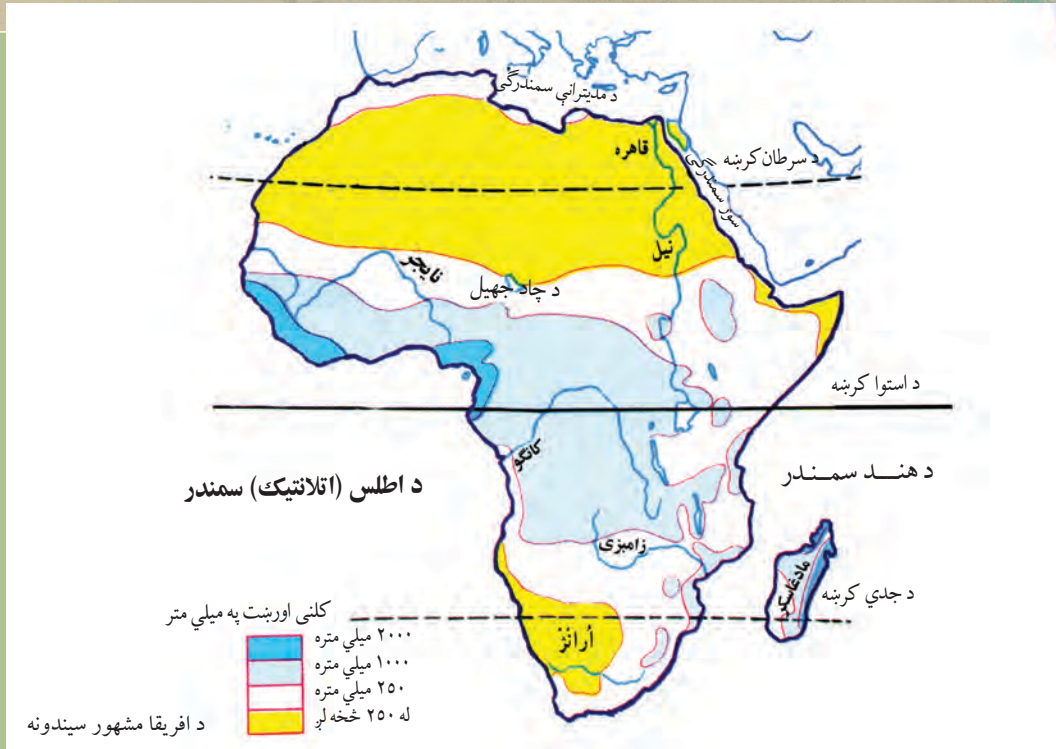
پوښتنې:

- ۱- د ګیني د خلیج لویدیځې لوړې په څه نوم یادېږي؟
- ۲- د اطلس غرونه په کوم ځای کې موقعیت لري؟
- ۳- د افریقا د لویې وچې په ختیځ کې د غرونو کومه لړۍ پرته ده؟
- ۴- د تبستي غرونه د افریقا په کوم ځای کې موقعیت لري؟

له ټولګي څخه بهر فعالیت

د لومړي لوست د افریقا د لویې وچې له لیکنې پرته نقشه په خپلو کتابچو کې بشپړه کړئ او لاندینو پوښتنو ته ځواب ورکړئ.

- ۱- د غرونو هغه لړۍ چې د افریقا د لویې وچې په شمال لویدیځ کې پرتې دي څه نومېږي؟
- ۲- د افریقا د لویې وچې د غرونو د لوړو څوکو نومونه ووايست؟



د افریقا سیندونه په کومو حوزو کې پراته دي، او ددې لویې وچې په اقتصادي او کرنیز ژوند کې څه ارزښت لري؟

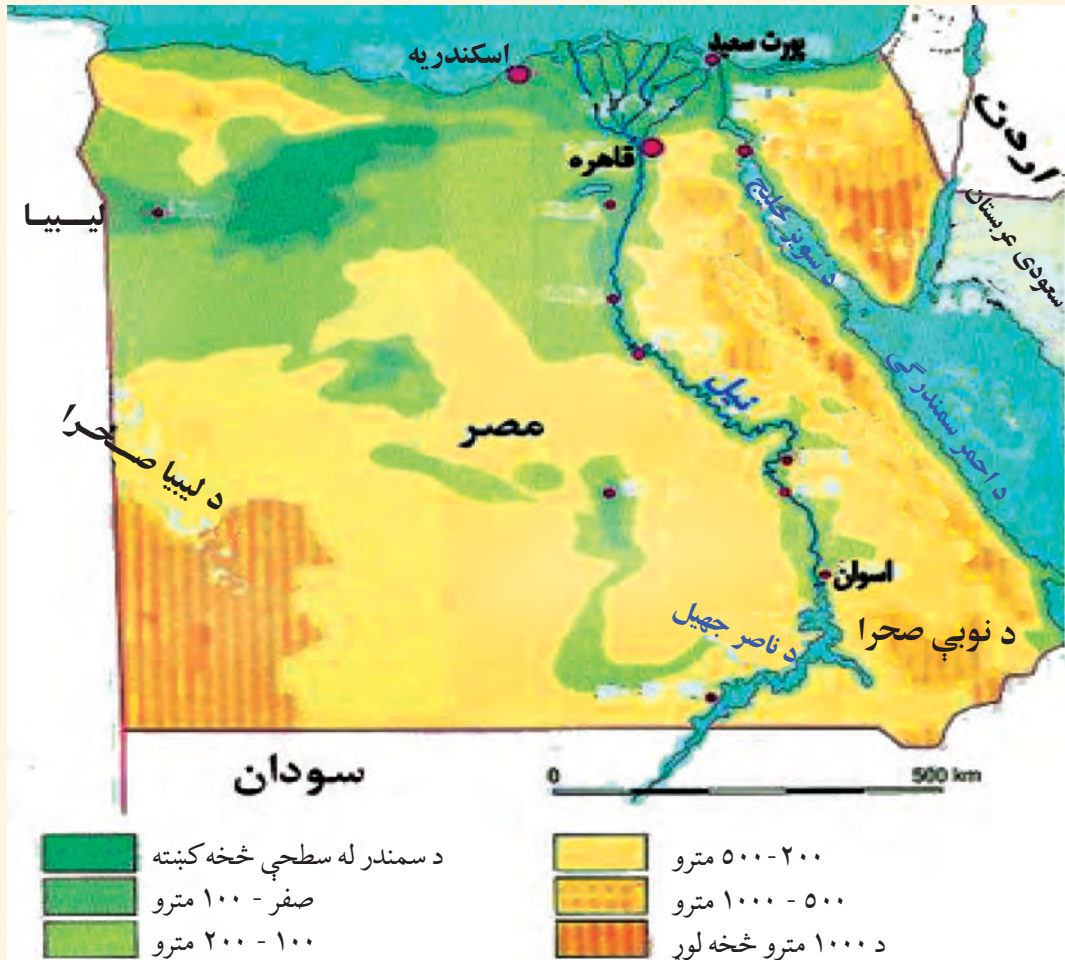
د افریقا د لویې وچې د سیندونو نقشې ته وگورئ. څرنگه چې د استوا کرښه د افریقا د لویې وچې د منځنۍ برخې څخه تېرېږي، نو ځکه یې په استوایي برخه کې اورښت ډېر زیات دی. له همدې کبله د افریقا په لویه وچه کې ډېر سیندونه بهیري چې ټول اوږده او له اوبو څخه ډک دي. خو دا سیندونه د چټکې بهیدنې او لږ ژوروالي له امله د بېرې چلولو وړ نه دي.

- د افریقا د اوبو حوزې کومې دي؟
- د افریقا د اوبو حوزې کولای شو په لاندې توگه وویشو:
 - ۱- د مدیترانې د حوزې سیندونه لکه د نیل سیند.
 - ۲- د اطلس سمندر د حوزې سیندونه لکه: کانگو، نیجیر، سنیگال او ارانز.
 - ۳- د هند د سمندر سیندونه، لکه: زامبیزی.
 - ۴- د تړلې حوزې سیندونه چې د افریقا په جنوبي شگلن ځایونو یا لویه صحرا کې جذبېږي، لکه: شاري.

- دنیل سیند:

د افریقا له مشهورو سیندونو څخه دی، چې مصر یې د نړۍ د ډېرو لرغونو هېوادونو په لیکه کې درولی دی. هیروډت یوناني مورخ لیکي چې (مصر د نیل ډالی ده). د نیل د سیند وادي پراخه ساحه ده، چې له ختیځ او لویدیځ لوري څخه د دښتو په واسطه محدوده شوې ده. د نفوسو د گڼ شمېر زیاته برخه د نیل د سیند په وادی او د هغه په دلتا کې ځای پر ځای شوې ده. د نیل سیند چې ۶۶۹۵ کیلومتره اوږدوالی لري د ویکتوریا او البرت د جهیلونو څخه سرچینه اخلي، د شمال په لور بهیري او یوازې د قاهرې او د اسوان په سیمو کې د کرنې ځمکې اوبه کوي.

د نیل سیند نقشه



د نیل سیند په خپل مصب (خوله) کې د مدیترانې د سمندرګي د اسکندریې په برخه کې لوېې دلتاوي (Deltas) جوړوي. د نیل د وادي رسوبي خاورو ددې حوزې په کرنه او د خلکو د بشري تمدن په بنسټ کې مرسته کړې ده. په مصر کې تقریباً هیڅ باران نه اوري، خو ددې لپاره چې له کرنې څخه پوره خوراکي مواد لاس ته راشي ډېرو اوبو ته اړتیا ده، دې موخې ته د رسیدلو لپاره د نیل پرسیند بندونه جوړ شوي دي. لکه چې دارنگه په ۱۹۷۱ م کال کې د اسوان بند د اسوان په سیمه کې جوړ شوی دی چې د نړۍ ډېر لوی مصنوعي

د افریقا د سیندونو سپینه نقشه



جهيل يې هم جوړ کړی دی. د نوموړي بند له اوبو څخه د کرنيزو ځمکو په خړو بولو کې ډېره گټه اخيستل کېږي. سربيره پر دې د زياتو اوبو د خطر مخنيوی هم کوي او د برېښنا د توليد سبب هم گرځيدلی دی. د نيل د سيند اقتصادي گټه داده چې هم ورباندې بند جوړ شوی او هم د سوډان او مصر دواړه هېوادونه د هغه له اوبو څخه په اوبو لگولو کې گټه اخلي. د نيل سيند مرستيالان د سپين نيل او ابې نيل په نومونو يادېږي. دا سيند د سوډان د هېواد تر پلازمينې د سپين نيل په نوم يادېږي. په همدې ځای کې د خپل مرستيال ابې نيل سره چې د حبشې له غرونو څخه سرچينه اخلي يو ځای کېږي. د سپين نيل اوبه د خپل بهير په اوږدو کې پراس کېږي او اوبه يې لږېږي، نو ځکه ابې نيل د نيل د سيند د اوبو په حجم کې غوره رول لوبوي.

د ټولگي دننه فعاليت:

زده کوونکي دې په څو ډلو وویشل شي هره ډله دې په لاندې موضوعاتو باندې بحث وکړي او پایکه دې ټولگيوالو ته ووايي.

- د افريقا د لويې وچې د اوبو حوزې.
- د نيل سيند او مرستيالان يې.
- د نيل د سيند اقتصادي ارزښت.

پوښتنې:

- ۱- د نفوسو شمير د نيل د سيند په کومه برخه کې زيات دی؟
- ۲- د هغو بندونو نومونه واخلي چې د نيل پر سيند جوړ شوي دي؟
- ۳- د نيل سيند څه اقتصادي ارزښت لري؟

له ټولگي څخه بهر فعاليت:

د افريقا د سيندونو د ليکنې پرته نقشه، په خپلو کتابچو کې رسم کړئ او په هغې کې د افريقا د مهمو سيندونو نومونه او موقعيت وليکئ.



د استوایي ځنگلونو منظره

د کانگو دحوزې ساحې ته ولې شنه افریقا وايي؟

د افریقا بله لویه حوزه د کانگو حوزه ده چې په طبیعي توګه هلته استوایي ګڼ او لوی ځنگلونه شته. ډېرې تودوخې او زیاتو بارانونو ګڼ ځنگلونه په هغه ځای کې منځ ته راوړي دي. د نباتاتو وده دلته هیڅکله نه ځنډیږي. د افریقا دې برخې ته شنه افریقا وايي. هلته د ونو وده دومره زیاته ده چې کله یې لوړوالی ۵۰ مترو ته هم رسیږي. د کانگو سیند چې له ختیځ څخه لویدیځ لور ته بهیږي د افریقا استوایي برخه په برکې نیسي. د کانگو سیند د خپل نري بستر له لارې د اطلس په سمندر کې تویږي. د هغه د بهیر منځنۍ او شمالي برخه استوایي باراني ځنگلونو پوښلی ده، هلته د نفوسو ګڼوالی شیندلی او یو له بل څخه لرې پراته دي او سیمه ییز خلک په خپلو کوچنیو کروندو کې په کرنه بوخت دي. د کانگو سیند د زاير د هېواد له جنوب ختیځ څخه سرچینه اخلي، د ۴۳۷۰ کیلومترو په واټن لومړی شمال لورته او بیا لویدیځې خوا ته بهیږي او د خپلو زیاتو اوبو سره د اطلس په سمندر کې تویږي. دا سیند د خپل بهیر په پیل کې د لوالابا (Lualaba) په نوم یادشوی او د خپلو مرستیالانو سره یې د افریقا د لویې وچې د خاورې ۱،۸ برخه نیولې ده.

د کانگو د سیند اوږدوالی د نیل له سیند څخه لږ خو د اوبو حجم یې زیات دی. دا چې د اوبو د اخیستنې حوزه یې په استوایي سیمو کې پرته ده او هلته ټول کال باران اوري، نو له اوبو څخه ډک وي. د خپل بهیر په پورتنۍ برخه کې یې څړوبي هم منځته راوړي دي.

د نایجیر سیند:

د افریقا د اوبو له ډکو سیندونو څخه دی. د نایجیر سیند د افریقا د لویې وچې په لویدیځ کې د گینې او عاج ساحل د هېوادونو د سمسورتیا سبب شوی دی. د نایجیر د سیند لویه دلتا د نفتو غوره زیرمې هم لري چې د (پورت هارکورت) *Port Harcourt* په برخه کې ځای پر ځای شوي دي.

د نایجیر د سیند لویدیځې برخې چې د ۴۰۰۰ کیلومترو په اوږدوالي یې د سیرالیون له لورو څخه سرچینه اخیستې د مالي له هېواد څخه د تېرېدو وروسته د نایجیریا هېواد ته ننوځي او د اطلس سمندر د گینې په خلیج کې تویېږي.

د زامبزي سیند:

د زامبزی سیند له ۲۵۰۰ کیلومترو څخه زیات اوږدوالی لري د زامبیا د هېواد له شمال لویدیځ څخه سرچینه اخلي او د جنوب خواته بهیږي.

ددې حوزې زیاته برخه لوړو سطحو چې زیاتره یې وښو پوښلې نیولې ده. دا سیند له شمال څخه سوېل خواته بهیږي او د هند په سمندر کې تویېږي. د زامبزي سیند د خپل بهیر په اوږدو کې څړوبې (آبشار) منځته راوړي چې مهم څړوبی یې ویکتوریا نومېږي.

د سنیګال سیند:

دا سیند د لویدیځې افریقا د سنیګال په هېواد او د اطلس سمندر په ختیځ کې موقعیت لري او د اطلس په سمندر کې تویېږي.

د سنیګال سیند ۱۲۰۰ کیلومتره اوږدوالی لري. د سنیګال دره هم د استوګنې له غوره مرکزونو څخه ده. د افریقا په لویه وچه کې د سیندونو شتوالی د هوا د لوندوالي، سمسورتیا او د کرنیزه تولیداتو د زیاتوالي سبب کیږي. همدارنګه ددې سیندونو شتوالی د هغو په شاوخوا کې د زیات شمیر وګړو د ځای پر ځای کیدنې او هم د تاریخ په اوږدو کې د لرغونو او پرمینو تمدنونو د منځ ته راتلو سبب شوي دي. د افریقا سیندونه په پسرلي کې مستیږي، خو له نیکه مرغه اوس یې سیلابي بهیر تر یو حده تر کنترول لاندې راغلې دي.

د سنیگال سیند



د زمبیا او زمبابوې د هیوادونو تر منځ د زامبزي د سیند د پاسه بل



د ټولګي دننه فعالیت

زده کوونکي دې په ډلو وویشل شي، هره ډله دې په دې هکله چې ولې د افریقا د لوپې وچې سیندونه د کال په اوږدو کې له اوبو ډک او سیلابي وي، بحث وکړي او د خپلو خبرو او بحث پایلې دې ټولګیوالو ته وړاندې کړي.

پوښتنې

- ۱- د افریقا سیندونه د دې لوپې وچې پر اوبو او هوا او اقتصاد څه اغیزه لري، توضیح یې کړئ.
- ۲- د کانګو سیند څه ارزښت لري؟
- ۳- د سنیګال سیند د څه غوره ارزښت لرونکی دی؟
- ۴- د نایجیر سیند څه اقتصادي ارزښت لري؟

له ټولګي څخه بهر فعالیت:

د افریقا د سیندونو په هکله خپل لنډ معلومات ولیکئ او د جغرافیې په راتلونکې لوست کې یې ټولګیوالو ته وړاندې کړئ.



د افریقا د یوه جهیل منظره

د جهیل په هکله څه پوهیږئ او له جهیل څخه څه گټه اخیستل کیږي؟

د افریقا په لویه وچه کې ډیر لوی او کوچني جهیلونه شته، چې تر ټولو لوی یې د ویکتوریا جهیل دی او د تانزانیا او یوګندا د هېوادونو ترمنځ بېلوونکې پوله جوړوي. ډېر کوچنی جهیل یې د نگامي جهیل دی چې د بوتسوانا په هېواد کې دی. د جهیلونو له اوبو څخه د څښلو او د سمندري حیواناتو او الوتونکو د خوړو لپاره گټه اخیستل کیږي. ځیني جهیلونه مالګین وي یعنې هغه وخت چې د جهیلونو اوبه په براس بدلې شي مالګه یې رسوب کوي. همدارنگه هغه الوتونکي چې له یوې سیمې څخه بلې سیمې ته ځي، د لارې په اوږدو کې د همدې جهیلونو او د هغو له اوبو څخه گټه اخلي. ددې جهیلونو له اوبو څخه د اوبو د غټو پمپونو په وسیله د ساحلي سیمو د خوړو بولو لپاره گټه اخیستل کیږي. د افریقا په لویه وچه کې ددې جهیلونو شتوالی په سیمه کې د رطوبت سبب هم کیږي او تر یوه حده د هغې سیمې د وچ والي مخه نیسي. نوموړي جهیلونه زیاتره د افریقا په سوېل ختیځ کې پراته دي چې ددې لوبې وچې د تکتونیکي ساحې ښکارندوی دي.

لکه څرنګه چې مو مخکې وویل د افریقا د لوبې وچې مهم جهیل ویکتوریا (Victoria) دی چې د تانزانیا او یوګندا هېوادونو ترمنځ بېلوونکې پوله جوړوي او لوی ښارونه هم د ویکتوریا د جهیل شاوخوا جوړشوي دي. په طبیعي نقشه کې گورئ چې د نیاسا (Nayasa) (مالاوی) جهیل د موزمبیق د هېواد

په شمال او د ملاوی دهبواد په ختيځ کې، د تانگانیکا جهيل د تانزانيا د هېواد په لويديځ کې، د البرت (Albert) جهيل د يوگندا د هېواد په لويديځ کې، د رودولف (Rudolf) جهيل د کينيا د هېواد په شمال لويديځ کې، د چاد (Chad) جهيل د چاد په هېواد کې، د تانا (Tana) جهيل په ايتوپيا کې او د نګامي (Ngami) جهيل د بوتسوانا په هېواد کې موقعيت لري.

د ټولګي دننه فعاليت:

زده کوونکي دې په ډلو وویشل شي او هره ډله دې د جهيلونو د اقتصادي ارزښت په هکله بحث او خبرې وکړي، د بحث پایلې دې ټولګيوالوته وړاندې کړي.

پوښتني:

- ۱- د افريقا د لويو او کوچنيو جهيلونو نومونه واخلي؟
- ۲- د افريقا په لويه وچه کې د جهيلونو شته والی څه ګټه لري؟
- ۳- د نګامي جهيل په کوم هېواد کې موقعيت لري؟

له ټولګي څخه بهر فعاليت

زده کوونکي دې د افريقا د لويې وچې نقشه رسم کړي او ټول جهيلونه دې په هغې کې وښيي او رنگ دې کړي.



د مدیترانې له سمندرگي څخه یو تصویر

د افریقا د سمندرگیو په هکله څه پوهیږئ او د افریقا خلک له سمندرگیو څخه څه گټه اخلي؟

د افریقا لویه وچه د ځمکنی جوړښت او سواحلو له نظره چې لري یې زیات سمندرگي نه لري. دا لویه وچه دوه مهم سمندرگي لري چې له هغو څخه د سوداگری د بېړیو د تگ او راتگ لپاره گټه اخیستل کیږي. همدارنگه له سمندرگیو څخه د کال په بېلا بېلو موسمونو کې مهاجر الوتونکي چې له یوځای څخه بل ځای ته کوچیږي د هغو له موقعیت څخه د یوې پیژندل شوې سیمې په توگه گټه اخلي. سربېره پردې د اوبو د حیواناتو لپاره خواړه هم برابرېږي. هغه وگړي چې د سمندرگیو په سواحلو کې استوگنه لري د هغو د کبانو په ښکار د ژوند اړتیاوې پوره کوي.

۱- د مدیترانې سمندرگي

د افریقا د لوېې وچې په شمال کې د مدیترانې سمندرگي پروت دی، چې د نړۍ لوی سمندرگي دی. پراخوالی یې ۲،۹۶۶،۰۰۰ کیلومتره مربع او ډېره ژوره نقطه یې ۴۳۳۰ متره ده. دا سمندرگي په جنوب ختیځ کې د سوزکاتال په واسطه د سور سمندرگي سره نښلول شوی دی او په لویدیځ کې د جبل الطارق د ابناء په واسطه د اطلس (اتلانتيک) د سمندر سره نښتی دی او لویه سوداگریزه لاره یې جوړه کړې ده. هغه هېوادونه چې د مدیترانې د سمندرگي شاوخوا ته پراته دي مدیترانه یي اقلیم او ښې هوا لرونکي دي.

۲- احمر (سور) سمندرگی:

احمر یا سور سمندرگی د افریقا په شمال ختیځ کې پروت دی چې په شمالي برخه کې د سوز کانال په واسطه د مدیترانې د سمندرګي سره نښلول شوی دی او په سوېل ختیځه برخه کې د باب المندب د ابناء په واسطه د عدن له خلیج سره نښتی دی. ددې سمندرګي پراخوالی ۴۳۸،۰۰۰ کیلومتره مربع دی. اوبه یې ډېره مالګه لري او د څښلو وړ نه دي. همدارنګه هلته د اوبو براس کېدل خپلې لوړې اندازې ته رسیري، ځکه چې له دواړو خواوو د لویو صحراوو په واسطه محدود شوی دی.

د سور سمندرګي یو تصویر



اضافي معلومات:

د سويز کانال: د سويز د کانال کيندل فرانسوي مهندس فرديناند دوليسپس طرحه کړې. ددې کانال د جوړولو کار په ۱۸۵۶ م کال کې پېل او په ۱۸۶۹ کال کې پای ته ورسيد او د نومبر په مياشت کې پرانستل شو. ۹۹ کلن امتياز يې يو نړيوال شرکت ته چې په هغې کې فرانسې، انگلستان او نورو اروپايي هېوادونو گډون درلود ورکړ شو او مرکز يې په پاریس کې و. د سويز د کانال اوږدوالی د ملديترانې د سمندرگي د غاړې د پورت سعید له بندر څخه تر سويزه يعنې د سور سمندرگي تر غاړې ۱۶۱ کيلومتره دی، د گتې اخيستني وړ سورې ۶۰ متره او ژوروالی يې ۱۲ متره دی.

د سويز له کانال څخه د ۶۰ زرو ټنو په ظرفيت بېړۍ شپه او ورځ تگ اوراتگ کولای شي. د آسيا او اروپا ترمنځ په سلوکې ۸۰ د سوداگريزو مالونو لېږدېدنه د سويز کانال له لارې ترسره کېږي چې د نړيوالې سوداگرۍ په سلوکې ۱۵ په بر کې نيسي. د سويز کانال د مصر په هېواد کې کيندل شوی دی. سويز کانال په ۱۹۵۶ م کال کې د مصر دولت له خوا ملي اعلان شو.

د سويز د کانال يوه څنډه



د سویز د کانال یوه بله برخه



د ټولګي دننه فعالیت:

زده کوونکي دې په ډلو وویشل شي او هره ډله دې د سمندرګيو د اقتصادي ارزښت په هکله بحث وکړي او د بحث پایلې دې نورو ته وړاندې کړي.

پوښتنې:

- ۱- د مدیترانې سمندرګی دافریقا د لویې وچې په کومه برخه کې موقعیت لري؟
- ۲- سور (احمر) سمندرګی په شمال کې د کوم کانال په وسیله د مدیترانې د سمندرګي سره نښلول شوی دی؟

له ټولګي څخه بهر فعالیت:

زده کوونکي دې په خپلو کتابچو کې د افریقا نقشه رسم کړي او سمندرګي دې د هغې پرمخ وښيي.



د افریقا د خلیجونو نقشه

د افریقا د لویې وچې په شاوخواکې کوم خلیجونه شته دي؟

- د افریقا د لویې وچې په غاړو کې د وتلو او ننوتلو برخو د نشتوالي له امله، زیات شمېر خلیجونه نشته. د افریقا خلیجونه عبارت دي له:
- د عدن خلیج (Aden) ددې لویې وچې په شمال ختیځ کې چې د آسیا د لویې وچې یوه برخه هم گڼل کېږي موقعیت لري.
 - د فول (Foul) خلیج د افریقا په شمال ختیځ کې چې په سور (احمر) سمندرگي کې موقعیت لري.
 - د سوز (Suez) خلیج د سوز کانال په جنوب کې موقعیت لري.
- د افریقا د شمال خلیجونه عبارت دي له:
- د سلوم (Salum) خلیج، بمبه (Bamba) خلیج، سدر (Sidra) خلیج، قابس (Qabis) خلیج او د تونس (Tunis) خلیج چې د افریقا په شمال کې د مدیترانې په سمندرگي کې موقعیت لري.
 - هغه خلیجونه چې د افریقا په سوېل لویديځ کې موقعیت لري عبارت دي له:
 - د گینې (Guinea) خلیج، والیس (Walvis) خلیج، لودریتس (Luderits) خلیج او د سنت هلنا (Saint Helena) له خلیج څخه چې ددې خلیجونو له ډلې څخه د گینې خلیج د افریقا د لویې وچې ډیر لوی خلیج او ډېر کوچنی خلیج یې د سوز خلیج دی، چې د سوز کانال په سوېل کې موقعیت لري.
 - هغه خلیجونه چې د مدغا سکر د ټاپو په شاوخواکې پراته دي عبارت دي له:
 - د سنت اگوستین له خلیج څخه د مدغاسکر د ټاپو په سوېل لویديځ کې او د انتون ژیل (Antongil) له

خليج شخه د مدغاسکر د ټاپو په شمال ختيځ کې.



د ټولګي دننه فعاليت:

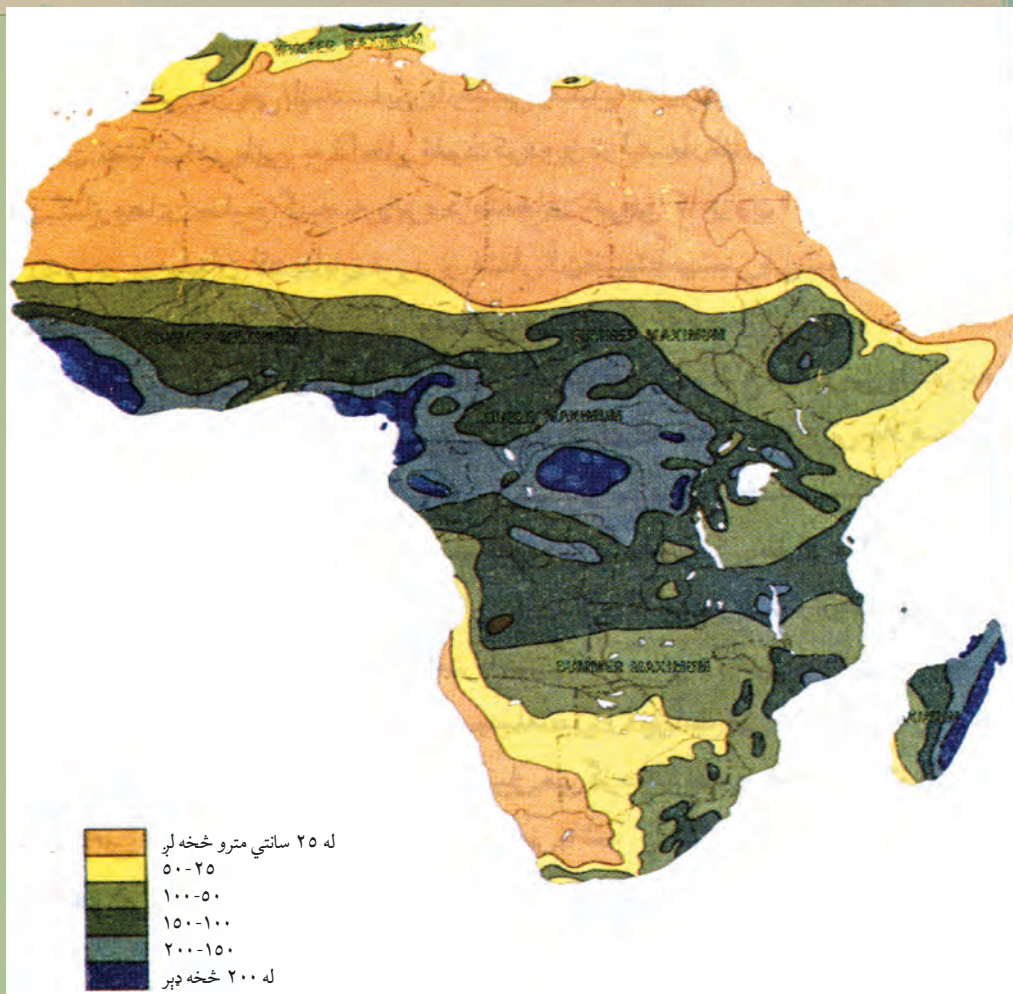
زده کوونکي دې په ډلو وویشل شي او هره ډله دې د نقشې له مخې خليجونه نورو ته وښيي.

پوښتنې:

- ۱- د افريقا د لويې وچې شمال ختيځ خليجونه دنقشې پرمخ وښايست؟
- ۲- د سوز خليج د افريقا د لويې وچې په کومه برخه کې موقعيت لري؟
- ۳- د افريقا د جنوب لويديځو خليجونو نومونه واخلي او په نقشه کې يې وښايست؟
- ۴- د افريقا د لويې وچې د ډبر لوی او کوچني خليج نوم واخلي؟
- ۵- د سنت آگوستين خليج او د انتون ژيل خليج د نقشې پرمخ وښايست.

له ټولګي شخه بهر فعاليت:

زده کوونکي دې په خپلو کتابچو کې د افريقا د لويې وچې نقشه رسمه کړي او د ټولو خليجونو موقعيت دې دهغې پرمخ وليکي.



د افریقا د لویې وچې د اورښت نقشه

ولې د افریقا د لویې وچې اقلیم سره توپیر لري؟

د افریقا لویه وچه د هغه موقعیت له سببه چې د ځمکې د کرې پر مخ بې لري، د نړۍ ډېره توده لویه وچه شمېرل کیږي. که نقشې ته ښه ځیر شو، نو گورو چې یوه برخه یې په استوایي چاپریال کې موقعیت لري او ددې سیمې اقلیم تود، سوځوونکی او څه ناڅه مرطوب دی. د افریقا د وچې شمالي او سوېلي سیمې د استوا د خط لاندې سیمه کې پراختیا موندلې، اقلیم یې نسبتاً معتدل او لنډه بل یې ډېر لږ دی، ځکه چې په شمال لویديځ کې د اطلس غرونه، په ختیځ کې د حبشې لوړې سطحې او په سوېل کې د د راکنسبرگ غرونه وچې ته د سمندري مرطوبې هوا د ورننوتلو خنډ ګرځي.

د افریقا ختیځې برخې د هند سمندر د مونسوني غیر منظمو بادونو په سیمه کې پرتې دي. په داسې حال کې چې پاتې برخې یې د تجارتي منظمو بادونو څخه برخمنې دي. د افریقا په بیدیاوو او سوزوونکو دښتو کې وچ او تاوده توپانونه لگېږي چې د خمسین په نوم شهرت لري. د استوایي سیمو اقلیم یې تود او نمجن دی او د کلني تودوخې منځنۍ اندازه یې د سانتیگراد د ۳۰ درجو په شاوخوا کې ده. د افریقا ډېره توده سیمه چې په حقیقت کې نړیوال ریکارډ لري د عزیزیه Azizia په نوم د لیبیا په شمال لویدیځ کې موقعیت لري چې د تودوخې لوړه اندازه یې د سانتیگراد تر ۵۸ درجو پورې ثبت شوې ده.

- د اطلس دغرونو، د حبشې د لوړو سطحو او د دراکنسبرگ د غرونو شته والی د افریقا د لویې وچې پر اقلیم څه اغیزه لري؟

افریقا لږ اورښت لري. یوازې د استوا د کرښې په شاوخوا کې ټول کال اورښت کیږي. د استوا د کرښې څخه د شمال او سوېل لورته ورو ورو د هوا لنډه بل لږېږي او لږ اورښت لري. واورې یوازې په ډیرو لوړو غرنیو سیمو کې اوري او همیشني واورې په لوړو څوکو کې لیدل کیږي.

د ټولګي دننه فعالیت:

زده کوونکي دې په ډلو وویشل شي اوهره ډله دې د لوست د متن او اقلیمي نقشو څخه په گټې اخیستنې سره د افریقا د بادونو، رطوبت او تودوخې په هکله معلومات راټول او ټولګیوالو ته وړاندې کړي.

پوښتنې:

- ۱- د افریقا د لویې وچې په کومو سیمو کې واوره اوري؟
- ۲- په افریقا کې ډېره توده سیمه چې نړیوال ریکارډ لري په کوم هېواد کې موقعیت لري او په څه نامه یادېږي؟

له ټولګي څخه بهر فعالیت:

که چیرې د استوا له کرښې څخه د افریقا د لویې وچې شمال او سوېل لور ته سفر وکړو په خپل تګلوري کې په ترتیب سره د کوم ډول آب او هوا سره مخامخ کېږو؟



د صحرايي اقليم يوه څنډه

آيا پوهيرى دافريقا په مختلفواقليمي سيمو كې كوم ډول نباتات ليدل كيږي؟

د افريقا لويه وچه د ډول ډول اقليمونو له پلوه په لاندې اقليمي سيمو ويشلې ده:

۱- داستوايي ځنگلونو د سيمي اقليم

دا سيمي ډېره توده استوايي آب او هوا او هميشني بارانونه لري چې د كانگو حوزه او د افريقا سوېل لويديځ سواحل په برکې نيسي. په دې برخه كې استوايي چتر ډوله د لوړو ونو ځنگلونه زيات شته دي. دلته د كاك او ربر ونې ډېرې شپې كيږي. د استوايي ځنگلونو په ساحه كې په ځانگړي ډول د كانگو پلازمېنه يعنې د كنشاسا حوزه او د گابون، لايبيريا، سيراليون او كانگو برازاويل يوه برخه شامله ده.

- د استوايي اقليم ځانگړتياوې ووايست؟

۲- د ساوانا د استوا لاندې ساحې اقليم

دا ساحه د استوايي ځنگلونو د ساحې په شمال او سوېل كې موقعيت لري. په سوېل كې تر زامبيا او په شمال كې مركزي افريقا، نيجريا او دمالي سوېل په برکې نيسي.



۳-د سټپ د ساحې اقليم

د سټپ د سيمې اقليم چې د افريقا په شمال کې د پټې په څېر د خټيخ څخه لويديځ لورته غځېدلی دی، ددې سيمې د مالدارانو لپاره يې ښه څړ ځايونه منځته راوړي دي او د استوا کرښه لاندې سيمې او لوېې صحرا ترمنځ پروت دی. نوموړې سيمې نسبتاً توده او معتدله باراني آب او هوا لري. نوموړې سيمه د افريقا په سوېل کې بوتسوانا، د ناميبيا يوه برخه او د سوېلي افريقا شمال ختيځې برخې په برکې نيسي چې هغه هم د مالدارانو د څړ ځايونو او غلو دانو د کرنې لپاره برابره ده.



د سټپ اقليم

۴- د صحرايي سيمې اقليم

صحرايي سيمه د افريقا د براعظم په شمال کې ډېره پراخه ده، ټوله لويه صحرا په کې راځي. دا سيمه د سوډان او مصر څخه پيل د موريتانيا تر وروستۍ برخې پورې رسېږي او د نړۍ د لويو صحراوو څخه شمېرل کېږي. په دې سيمه کې وچه او صحرايي آب او هوا او لږ اوربنت وي. په نوموړې ځای کې شاړې او پراخ شگلنځايونه شته چې د کرنې لپاره ښه زمينه نشي برابرولای. دا اقليم د افريقا په سوېل کې سوېل لويديځه وروستۍ برخه په برکې نيسي او د افريقا په سوېل لويديځ ساحل کې د يوې کوچنۍ پټۍ په څېر د عرض البلد تر ۱۰ درجو پورې غځيدلې ده. په دې سيمه کې د کالاهاری او ناميبيا صحراوي هم شاملېږي. - صحرايي سيمې د څه ډول اقليم لرونکې دي؟

۵- د مديترانه يي سيمې اقليم

مديترانه يي اقليم د افريقا په شمال کې ساحلي غاړې په برکې نيسي چې د اسکندريې څخه د مراکش تر سواحلو پورې غځيدلي دي. ددې سيمې مهم پيداوار انگور، د ستروس د کورنۍ ميوې (لکه کينو، نارنج،

مالټه، ليمو، سنتره)، خرما او گني دي. خو په جنوبي افريقا کې مديترانه يي اقليم د هغې سوېل ختيځې برخې په برکې نيسي چې د لوسوتو کوچنی هېواد او د سوېلي افريقا جنوب ختيځې برخې په کې شاملې دي. سربېره پر هغې د جنوبي افريقا د هېواد پلازمينه او مهم بندر کيب ټاون هم مديترانه يي اقليم لري.

د ټولگي دننه فعاليت

زده کوونکي دې په ډلو وویشل شي، هره ډله دې د افريقا په اقليمي سيمو باندې بحث وکړي او د هرې ډلې استازی دې د ټولگي مخ ته د خپلې ډلې د بحث پايلې نورو ته بيان کړي.

پوښتنې

زده کوونکي دې لاندې جدول د ورکړ شوي بيلگې په نظر کې نيولوسره په خپلو کتابچوکې بشپړ کړي.

د اقليم ډول	د اقليم ځانګړتياوې
۱- د استوايي ځنګلونو سيمې اقليم	۱- دا سيمې د ډيرې تودې استوايي اب او هوا چې هميشني اوربنتونه ورسره مل وي لرونکي ده. چې په هغې کې د استوايي چتر ډوله لوړو ونو ځنګلونه ډېر ليدل کېږي.
۲- د سټپ د سيمې اقليم	۲-
۳- د صحراوي سيمې اقليم	۳-
۴- د مديترانه يي سيمې اقليم	۴-

له ټولگي څخه بهر فعاليت:

زده کوونکي دې په خپلو کتابچوکې د افريقا نقشه رسم کړي، او د افريقا د لويې وچې اقليمي سيمې دې د نقشې پر مخ په ښکلو رنگونو وښيي.



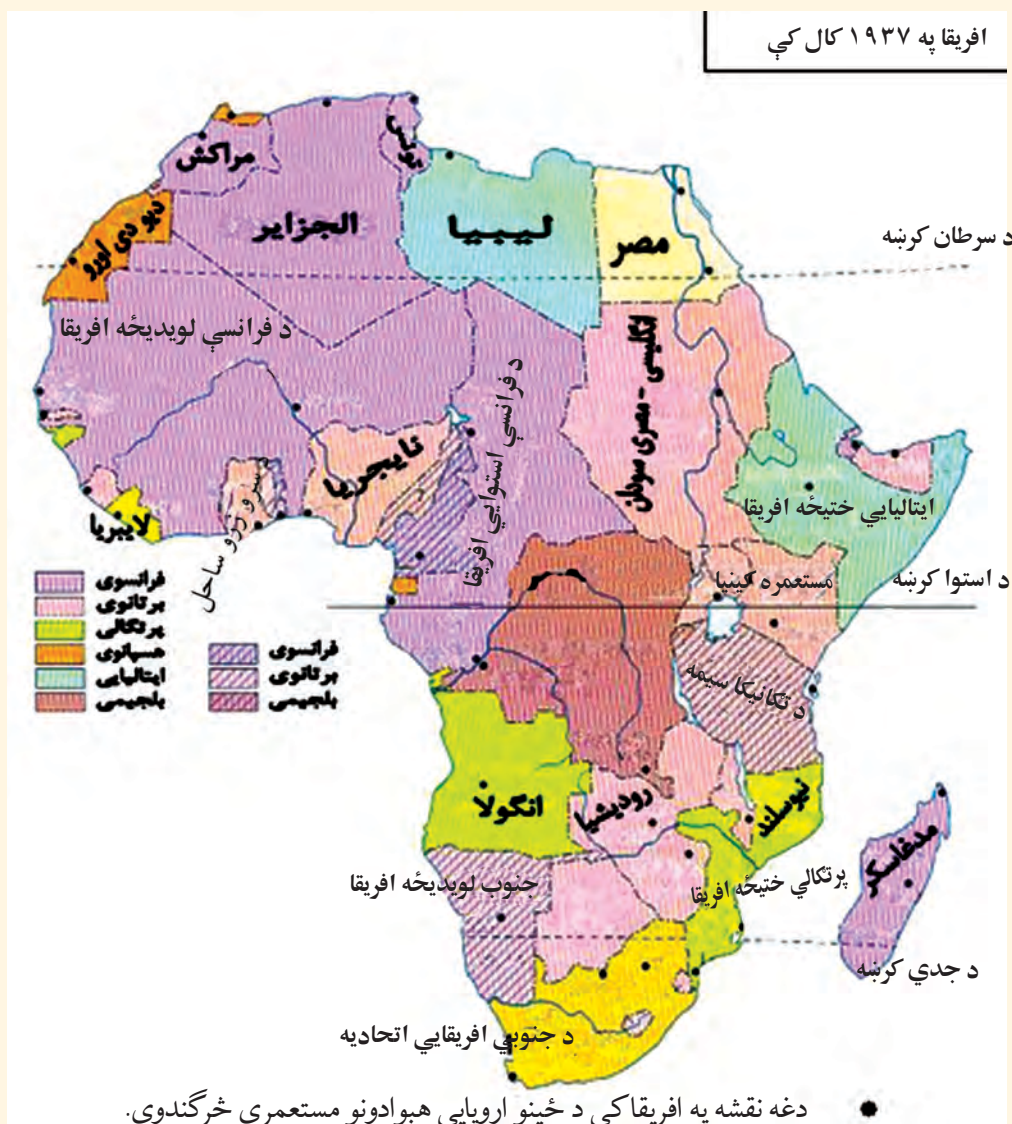
د افریقا د لویې وچې د سیاسي جغرافۍ په هکله څه پوهیږئ؟

افریقا هغه لویه وچه ده چې په کې زیات بدلونونه لیدل کیږي، له دې حقیقت سره هغه وخت آشنا کېږئ چې د افریقایي مهاجرینو لویو ډلو ته چې په نړۍ کې ځای پر ځای شوي دي پاملرنه وکړئ. ډېر وگړي یې د سیاسي او اقتصادي ناوړه شرایطو له امله د تېښتې په حال کې دي، خو افریقا په مثبت ډول هم د بدلیدو په حال کې ده، په دې معنا چې د ستونزو د لېرې کولو د حل لاره یې هم پیدا کړې ده. د بېلگې په توګه د ځینو سیمو د صحراوي کیدلو سره د مبارزې او مخنیوي په خاطر یې ښه کارونه هم سرته رسولي دي او د سمسورتیا د ساتلو لپاره یې کوښښ کوي. خو ددې لویې وچې خلکو د سیاسي، اقتصادي او ټولنیزې پرمختیا په برخه کې د نړۍ د نورو لویو وچو په پرتله وروسته ګام ایښی دی، نو ځکه نسبتاً وروسته پاتې دي.

ددې لویې وچې زیاتره خلک د سوانا په سیمو کې په شیندلي ډول استوګنه کوي او یا د ځنګلونو په منځ کې اوسېږي یا داچې لاتراوسه د کوچیانو په څېر ژوند کوي. دوی د خپل ژوند اړتیاوې د ابتدایي کرنې له لارې لاس ته راوړي.

د افریقا د لرې پرمختیا په هکله ځینې لیکونکي او څېړونکي په دې باور دي چې د هغو د وروسته پاتې والي اصلي حقیقت د نورو لاملونه ترڅنګ یو هم د لویدیځو اروپایانو په وسیله د هغوی استثمارول دي او که نه د بنکیلاک (استعمار) د مخه له ۱۲ څخه تر ۱۵ مېلادي پېړۍ پورې ځینو تور پوستکو افریقایانو د سوډان

د هېواد په لویدیځ کې خپل کلتورونه درلودل او متمدنه هېوادونه یې منځته راوړي وو چې د گانا او مالي هېوادونو نومونه هم له هماغو پخوانیو قومونو څخه استازیتوب کوي او حتی نن هم وینو هغه هېوادونه چې تازه خپلواکي ته رسیدلي، د هېوادونو یا ښارونو او نورو برخو نومونه یې چې د اسارت په وخت کې ایشودل شوي وو بدل کړي او یا یې بېرته هم هغه پخوانیو اصلي نومونو ته گرځولي دي او یا یې د پخوانیو اتلانو او جنگیالیو په نوم یادوي. هغه وخت چې د اروپایي هېوادونو پانگوالو، د ښه سوق الجیشی موقعیت، طبیعي ډېرو منابعو او بشري ارزانه ځواک ته د رسیدو پر بنسټ افریقا خپل هدف وگرځوله او هلته یې د خپلو صنعتي تولیدي توکو د وړاندې کولو لپاره تود



بازار وموند، د هغو پر استثمار يې نور هم كوښښ وكړ. د هغو جگړو په پايله كې چې د افريقا خلكو پر دښمن بری حاصل كړ د افريقا د مختلفو سيمو نورې خپلواكۍ غوښتونكې جبهې يې هم وهڅولې او هغوی يې له استعمارگرانو څخه دخپلواكۍ لاسته راوړلوته، هيله من كړل. په افريقا كې تر ۱۹۵۱ م كال پورې له څلورو هېوادونو (حبشي، لايبريا، مصر او جنوبي افريقا) څخه زيات خپلواك نه وو او له ۱۹۵۲ م څخه تر ۱۹۹۶ م كال پورې د هغو شمير ۳۷ ته ورسیده چې اوس د افريقا د لويې وچې په سياسي نقشه كې ۵۵ خپلواك هېوادونه ليدلای شو.

د استعمار د دوران د افريقايي مريانو يو تصوير



په جنوبي افريقا کې د اوږدې مودې لپاره د لويديځو هېوادونو سپين پوستکي لږه کي په واک کې وو او پر زياترو تور پوستکو باندې يې حکومت کاوه. دا نژادي تبعيض (اپارتايد) په هغه ځای کې د تورپوستکو خلکو د مهاجرت لامل شوی و، د اپارتايد له پای ته رسيدو وروسته کله چې په جنوبي افريقا کې په ۱۹۹۴م کال کې خپلواکې پولټاکنې وشوې، دهغه هېواد اوسيدونکي بيرته خپلو اصلي سيمو ته راوگرځيدل.

د ټولگي دننه فعاليت:

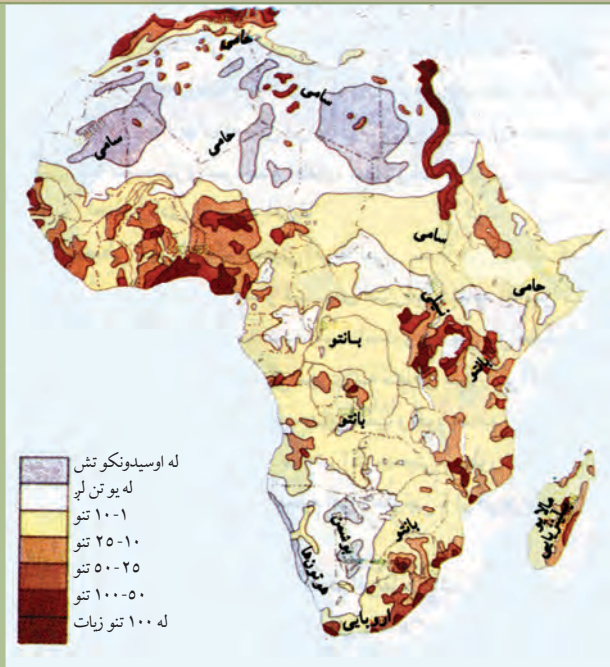
زده کوونکي دې په ډلو وویشل شي، د جنوبي افريقا په نژادي تبعيض دې بحث وکړي او پایلې دې نورو ته وړاندې کړي.

پوښتنې:

- ۱- نژادي تبعيض په کوم کال کې په جنوبي افريقا کې پای ته ورسیده؟
- ۲- د نړۍ په نقشه کې اوس افريقا څو خپلواک هېوادونه لري؟ د نقشې پرمخ يې وښايست.
- ۳- څيرونکو د افريقايانو د ورو پرمختگ په هکله څه نظر درلوده؟
- ۴- په ۱۹۵۱ م کې افريقا څو خپلواک هېوادونه درلودل؟ نومونه يې ووايست.

له ټولگي څخه بهر فعاليت:

د افريقا د لويې وچې د وروسته پاتې والی لامل په هکله يوه مقاله وليکئ او ټولگيوالو ته يې وړاندې کړئ.



د افریقا په لویه وچه کې د نفوسو د جغرافیایي ویش نقشه

- د افریقا د لویې وچې په کومو سیمو کې د نفوسو شمیر زیات دی او ولې؟

د افریقا د لویې وچې بشري جغرافیه په څلورو برخو کې چې له نفوسو، نژاد، ژبې او دین څخه عبارت دي په بشپړه توګه مطالعه کوو.

نفوس:

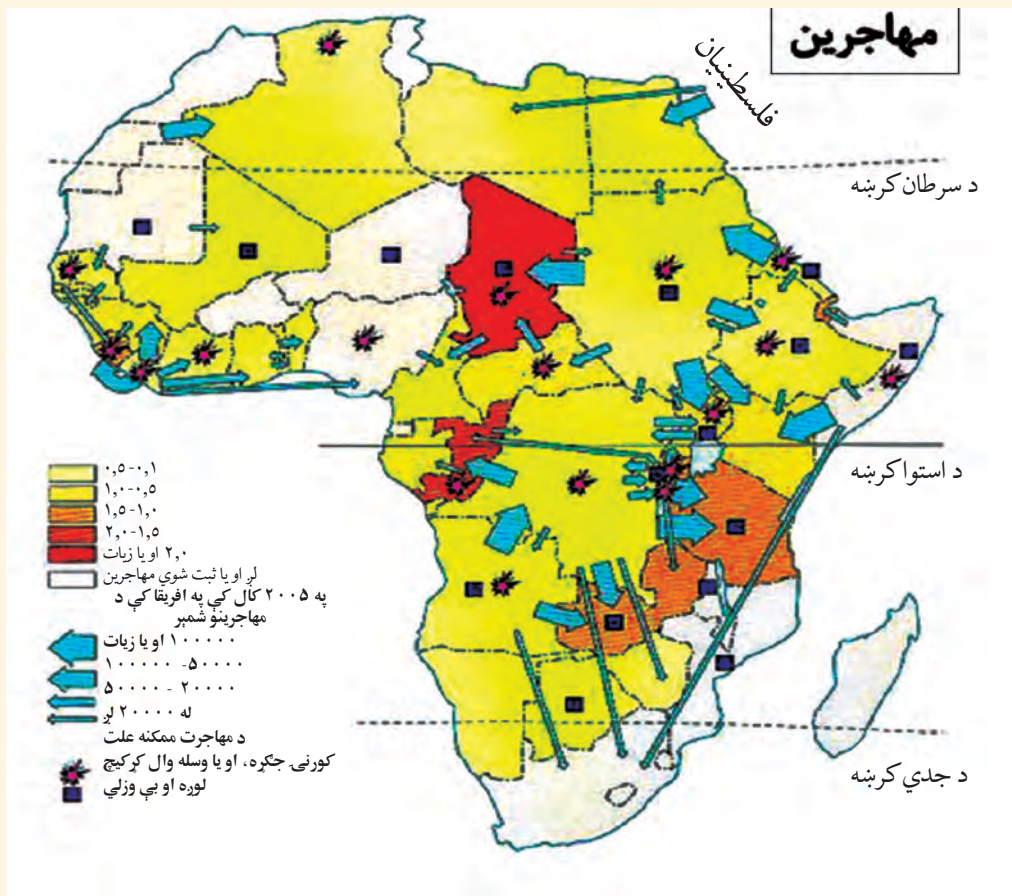
د نړۍ د بشر ډېر لرغوني آثار، د افریقا د لویې وچې د تانزانيا په هېواد کې لیدل شوي چې څه ناڅه ۴،۵ میلیونه کاله لرغونتوب لري. په ۱۹۹۸م کال کې د افریقا په لویه وچه کې د ۶۱۵ میلیونو تنو په شاوخوا کې خلکو ژوند کاوه، چې د ټولې نړۍ د نفوسو په سلو کې ۱۲،۲ یې جوړول. ددې لویې وچې د نفوسو د لږوالي لامل په صحراوو او ګڼو ځنګلونو کې د ژوند نامناسب شرایط، ساري ناروغی، کورنۍ جګړې او د خوراکي توکو لږوالي دي. د وګړو ګڼوالی د افریقا په مختلفو سیمو کې سره توپیر لري. د افریقا په صحرا کې تقریباً څوک نه اوسېږي، په سوانا او سب تروپیک سیمو کې چې حاصلخیزې ځمکې لري د نفوسو ګڼوالی یې ډېر دی، د بېلګې په توګه د نیل سیند د وادۍ په کښتني برخه کې د نفوسو ګڼوالی په هر کیلومتر مربع کې ۱۰۰ تنو ته رسېږي. د نفوسو ګڼوالی د سیندونو او سمندرونو په غاړو کې هم لیدل کېږي.

- د افریقا د لویې وچې د نفوسو د لږوالي لامل (علت) څه دی؟

نژاد:

د افریقا د لویې وچې د نفوسو د ویش او قومي ترکیب نقشوته وگورئ. د افریقا په شمال کې عرب خلک ژوند کوي چې په عربي ژبه خبرې کوي او زیات شمیر یې په بنارونوکې اوسېږي. د کلیو خلک په کرنه بوخت دي. ددې سیمې عرب اوسیدونکي له دوو قبیلو یعنی حامی (Hami) او سامی (Sami) سره تړاو لري. دا خلک غنم رنگه خېره او تور وینتان لري. د افریقا په شمال لویديځ کې بربر قبایل استوگنه کوي چې سپین پوټکی لري او د اسپانویانو او ایټالیانو له نسل سره ورته والی لري. له همدې کبله د مراکش، الجزایر او تونس هېوادونه د بربر هېوادونو په نوم یادوي. د افریقا په جنوبي او مرکزي برخو او لویې صحرا کې تور پوستي خلک اوسېږي چې د افریقایي توراتو په نوم یادېږي او د افریقا د ټولو وگړو $\frac{2}{3}$ برخه جوړوي، خو له توکمیز پلوه سره توپیر لري، نو ځکه په بېلو بېلو ډلو ویشل شوي دي.

د مهاجرینو نقشه



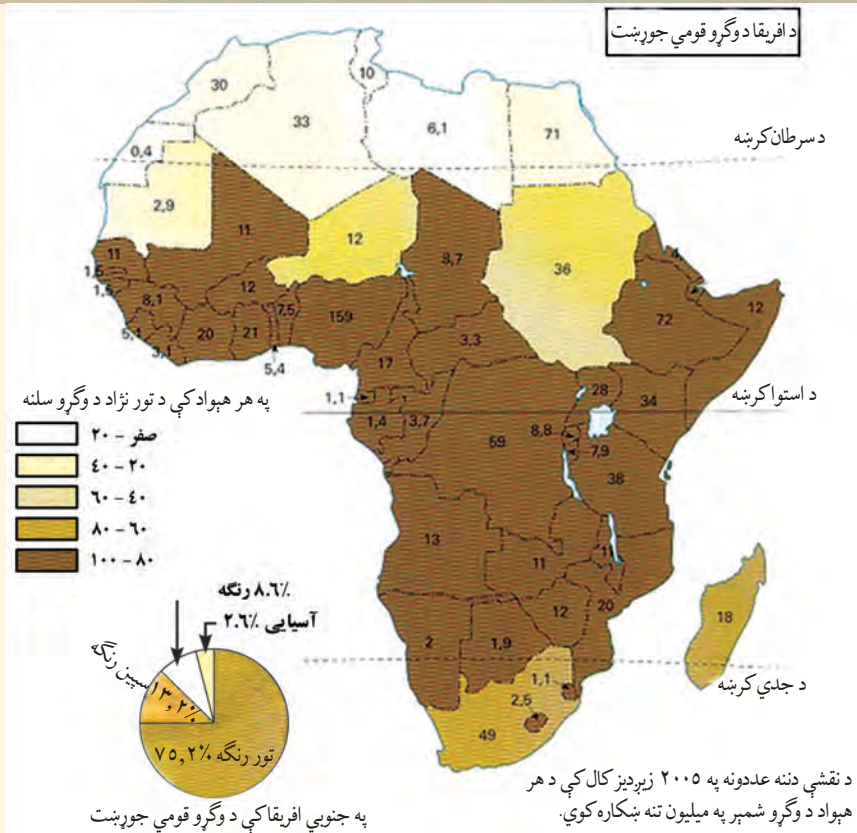
د مرکزي او جنوبي افريقا په لويه صحرا کې تورپوستکي خلک ژوند کوي چې د ونې (قد)، څېرې او د پوستکي د رنگ له پلوه سره توپير لري او په دوو برخو سوډاني او بنتونيگرويانو ویشل شوي دي. د منځنۍ افريقا په استوايي ځنگلونو کې د پيگمي قبيلو وگړي اوسيري چې ټيټې ونې لري. د نارينوو منځنۍ ونه يې ۱۴۵ سانتي متره او د بنځويې ۱۳۵ سانتي مترو ته رسيري. د پيگمي خلکو د پوستکي رنگ دومره تور نه دي. ددې خلکو کورونه او اړتياوې له ځنگلونو څخه پوره کيږي او کورونه يې په مشکل سره ليدل کيږي، ځکه د هغو کورونه د ونو پاڼو او بناخونو پوښلي دي. د زرو پيگمي خلکو کالي د يو ملاتروني (کمر بند) څخه عبارت دي چې د ملا څخه يې تړي، او کله هم د ونو پاڼې په هغو پورې تړي. کله چې اروپايي سپين پوستي مهاجر خلک د ۱۸۰۰ م کال څخه وروسته افريقا ته راغلي وو، د خپلو بنکيلاکي (استعماري) کړن لارو د عملي کولو په خاطر يې د افريقا ډيرې برخې د خپلې واکمنۍ لاندې راوستې، هغوی په جنوبي افريقا او زمبابوی کې ژوند کاوه او وروسته په کينيا، يوگندا او نورو افريقايي هېوادونو کې خواره واره شول.

د افريقا له نيگرو خلکو يوه څېره



د شمالي افريقا له عربو يوه څېره





د ټولګي دننه فعالیت

زده کوونکي دې په ډلو وویشل شي او هره ډله دې د افریقایانو د مهاجرتونو پر عواملو بحث وکړي او دخپلو بحثونو پایلې دې نورو ته وړاندې کړي.

پوښتنې

- ۱- د افریقا په شمال کې کوم خلک ژوند کوي او په کومې ژبې خبرې کوي؟
- ۲- د افریقا په شمال لویدیځ کې کوم قبایل ژوند کوي او کوم نسل ته ورته والی لري؟
- ۳- د افریقا د لویې وچې په لویه صحرا او منځنیو او جنوبي برخو کې کوم خلک اوسېږي او په څه نوم یادېږي؟
- ۴- ولې اروپایي خلکو افریقا ته مهاجرت وکړ؟ دهجرت موخه یې څه وه، او د افریقا په کومو هېوادونو کې یې ژوند تېراوه؟

له ټولګي څخه بهر فعالیت

- د افریقا د وګړو د قومي ترکیب نقشه ولولئ او لاندې پوښتنې په لیکلې بڼه ځواب کړئ:
- ۱- د افریقا په لویه وچه کې په عمومي ډول تور نژاده وګړي په کومه برخه کې اوسېږي؟
 - ۲- د همدې نقشې پر بنسټ د مصر، لیبیا او مراکش هېوادونو په (۲۰۰۵) میلادي کال کې څو میلیونو نفوس درلودل؟

د افریقا د دین او ژبې په هکله څه پوهیږئ؟



د افریقا د لویې وچې د اسلامي هېوادونو نقشه

- د افریقا په لویه وچه کې کوم دینونه زیات پیروان لري؟

دین: پورتنی نقشې ته وگورئ. د افریقا په لویه وچه کې بېلابېل دینونه لکه د اسلام مقدس دین، عیسویت او بودايي دین زیات پیروان لري، چې په ټولو هېوادونو کې خواره واره اوسېږي. په عمومي توگه په دې لویه وچه کې (۲۳) هېوادونه د اسلام د مقدس دین پیروان دي.

ژبې: د افریقا د لویې وچې نفوس د بېلابېلو ملتونو څخه جوړ شوی چې په بېلابېلو ژبو او لهجو خبرې کوي او شمیر یې ۷۰۰ ژبو او ۳۰۰ لهجو ته رسېږي. څرنگه چې د افریقا زیاتره هېوادونه د اروپایي بنسټ لرونکي (استعمار) لاندې وو، نو ځکه یې هماغه بنسټ لرونکې بهرنۍ ژبه خپله رسمي ژبه گرځولې وه. اوس چې دا هېوادونه خپلواک شوي هم دې بیايي هم هماغه بهرنۍ ژبې د رسمي ژبې په توگه پاتې دي چې ډېرې مهمې یې انګلیسي، اسپانوي، فرانسوي او پرتګالي ژبې دي. د افریقا په لویه وچه کې په ډول ډول ژبو خبرې کېږي خو په عمومي توگه په دې لویه وچه کې څلور ډلې ژبې ډېر رواج لري:

- ۱- سامي ژبې چې په هغو کې سامي، عربي، قبلي او امهري ژبې شاملې دي.
- ۲- ساحلي یا سواحلي ژبې چې په هغو کې د بانتو ژبې او یو ډول نورې ژبې چې د سیمه ایزو ژبو د یو والي محصول دي او شمیر یې ډیر زیات دی شاملېږي.
- ۳- سیمه ییزه ژبې چې شمیر یې ډیر زیات دی.

۴- اروپايي ژبې چې د هغو په سر کې فرانسوي او انگليسي ژبې دي. دافريقايي هېوادونو رسمي ژبې کولای شو په لاندې جدول کې مطالعه کړو.

د افريقايي خلکو د ژبو جدول

افريقايي	سواحلي	پرتکالي	فرانسوي	انگليسي	عربي	رسمي ژبې
سويلي افريقا	تانزانيا کينيا (او د اوگندا په يوه برخه کې)	انگولا (گينه - بيساو) کپ وردي (ساوتام او پرنسپي) موزمبيق	سسينگال گينه مالي د عاج ساحل بورکينا فاسو توگو بنين نایجريا چاد (د مرکزي افريقا جمهوريت) کانگو - کينشاسا (کانگو - برازاويل) روندا گابون مدغاسکر	نایجريا گامبيا گانا سيراليون لايبريا اوگندا زامبيا مالاوي زمبابوي کينيا بوتسوانا نامبيا سويلي افريقا	مصر سودان مراکش تونس الجزاير ليبيا موريتانيا (لويدبخه صحرا) ايرتريا	د هېوادونو نوم

• همدارنگه نور هېوادونه هم شته چې نورې رسمي ژبې لري.

د ټولگي دننه فعالیت:

زده کوونکي دې په ډلو ووېشل شي او هر ه ډله دې د ژبو د يوې ډلې په هکله معلومات وړاندې کړي.

پوښتنې:

- ۱- مسلمانان زياتره د افريقا په کومه برخه کې اوسېږي؟
- ۲- د افريقا په لويه وچه کې څو هېوادونه د اسلام د مقدس دين پيروي کوي؟ نومونه يې واخلي.
- ۳- ولې افريقايانو بهرنۍ ژبې د خپلې رسمي ژبو په توگه منلې دي؟
- ۴- اروپايي ژبې او محلي ژبې معرفي کړي؟

له ټولگي څخه بهر فعالیت:

زده کوونکي دې د افريقا د لويې وچې نقشه په خپلو کتابچو کې رسمه کړي او د افريقا د خلکو د دينونو سيمې دې په هغې کې وښيي.



په كينيا كې د چای د پانورائولونه

د افریقا د لویې وچې د اقتصادي جغرافیې په هکله څه پوهیږئ؟

د افریقا په لویه وچه کې اقتصادي پراختیا او پرمختګ د نورو لویو وچو په پرتله وروسته یعنی د ۱۹ پېړۍ په لومړیو کې پېل شو او تر هغه دمخه ډیر ورو و. ددې لویې وچې اقتصادي بڼه هم مختلف رنگونه او ډولونه لري. لکه چې دارنگه دلاسي صنایعو د ډېرې ساده او لومړۍ بڼې څخه تر ډیرو عصري فابریکو پورې کولای شو په هغې کې وینو یا د ترانسپورت او توکو په وړلو کې د ډیرو ابتدایي اوساده لارو څخه چې نیغ په نیغه د انسانانو په وسیله ترسره کیږي، تر ډیرو عصري سمندري بندرونو، داوسپنو کرښو، هوایي کرښو او پرمختللو هوایي ډګرونو پورې کولای شو وګورو. د افریقا لویه وچه د طبیعي منابعو له پلوه شتمنه لویه وچه ده. په دې لویه وچه کې د نفتو، سرو زرو، الماسو او مسو کانونه او ګڼ ځنګلونه شته دي. د افریقا اقتصاد او عایدات زیاتره پر کرنه او مالدارۍ ولاړ دي، په دې توګه د افریقا د اقتصاد مختلفې برخې په لاندې ډول مطالعه کوو:

کرنه او مالداري:

د نړۍ ددې د لویې وچې کرنیز حاصلات زیاتره استوایي او د استوا لاندې نباتات تشکیلوي. لکه چې

دارنگه په ختيځه افريقا کې د کونخلو او چای بوټي، د سوډان د سيمې په لويديځ او د گيني په پورتنۍ برخه کې زياتره تيلي نباتات، دافريقا په ختيځو ټاپوگانو کې ناربال، د گيني په سواحلو او نږدې ټاپوگانو کې يې ککو، په لويديځه افريقا کې ممپلی په مصر، سوډان او تانزانيا کې پنبه، په لويديځه افريقا او څه ناڅه ددې ساحې په ټولو ټاپوگانو کې کيله او اناناس، په حبشې او کينيا کې قهوه او د مديترانې د سمندرگي په سواحلو کې انځر، انگور او نورې ميوې او ترکاري پيدا کيږي. د افريقا د لويې وچې په شمال کې د مديترانې د سمندرگي په سواحلو کې چې مديترانه يې اقليم لري، ژمی يې باراني او معتدل او اوږی يې وچ او تود دی، ځنگلونه هلته لږ او هميشه بهار ونې، ليمو، غنم، وربشې، جوار او انگور ښه حاصل ورکوي. په سوېلي افريقا کې وانبه لرونکې دښتې په للمي توگه حاصل ورکوي چې له هغې جملې يې د پنبې او تنباکو حاصلات د يادونې وړ دي. د هغې په زياترو سيمو کې لوييا غوره کرنيزه حاصلات گڼل کيږي. سره له دې چې د افريقا اقليم په عمومي توگه د حيواناتو د روزنې لپاره برابر نه دی او مالداري او د څارويو روزنه هم ډېره لږه ده، خو بيا يې هم د پسونو او وزو روزنه تر يوې اندازې د يادولو وړ ده. د کبانو ښکار په ځانگړې ډول د اطلس سمندر د هېوادونو په سواحلو کې زياتره رواج لري. هلته د ښکار وړ د کبانو بېلابېل ډولونه، لکه: ساردين، تونياک او مکريل دي.

استوايي سيمې د استوا د کرښې د ۵ او ۱۰ درجو شمالي او سوېلي عرض البلدونو ترمنځ تود او مرطوب اقليم لري چې د هغه پر اساس په دې سيمه کې گڼ ځنگلونه منځته راغلي دي.

د ټولگي دننه فعاليت:

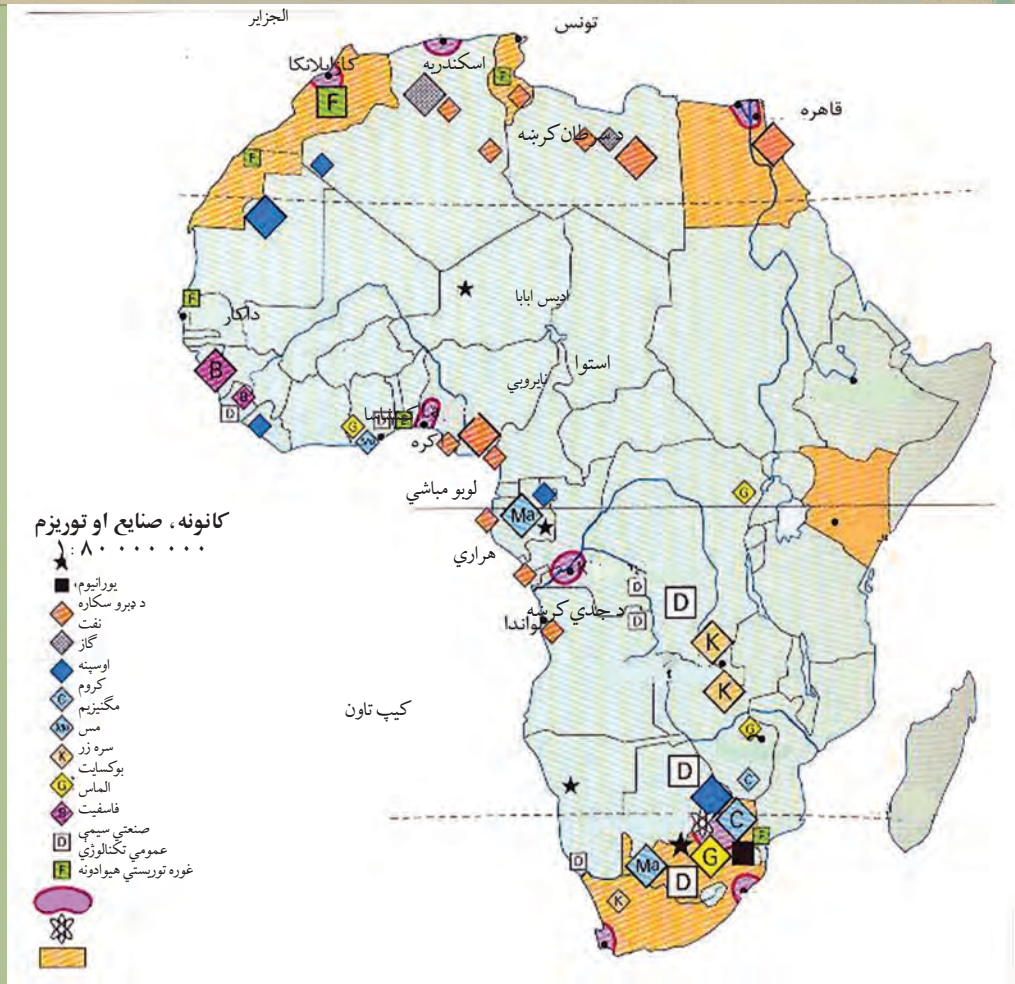
زده کوونکي دې په ډلو ووېشل شي او هره ډله دې د افريقا د لويې وچې د وروسته پاتې والي د لامل د افريقا اقتصادي حالت او د کرنې او مالداري په هکله بحث وکړي او پايلې دې نوروته وړاندې کړي.

پوښتنې:

- ۱- دافريقا د لويې وچې د اقتصادي حالت په هکله معلومات ورکړئ؟
- ۲- په افريقا کې د مالدارۍ وده څه ډول ده؟
- ۳- په افريقا کې د حيواناتو او د ښکار وړ کبانو د ډولونو نومونه واخلي؟

له ټولگي څخه بهر فعاليت:

د افريقا د لويې وچې د مديترانه يې محصولاتو په هکله خپل معلومات وليکئ. همدارنگه ووايست چې ايا افغانستان مديترانه يې ډوله اقليم لري؟ که يې لري، نو په کومه سيمه کې؟



د افریقا د کانونو، صنایعو او توریزم نقشه

پورتني نقشې ته وګورئ. د افریقا په کومو سیمو کې کوم کاني توکي او صنعتي محصولات شته ؟

د افریقا لویه وچه د طبیعي منابعو له پلوه شتمنه ده، خو له هغو څخه لږه ګټه اخیستل شوې ده. شمالي افریقا زیات نفت او ګاز لري او سوېلي افریقا د الماسو د زیرمو د درلودلو له پلوه په نړۍ کې لومړی مقام لري او د افریقا د عایداتو لویه منبع جوړوي.

الماس ډېر کلک او ډیر قیمتي طبیعي منرال دی چې په عمومي توګه په تور او ژېړ رنگ لیدل کیږي او ځینې یې سپین، آبي او شین رنگ هم وي. نوموړی منرال له تورلو (صیقل) څخه وروسته د بریلیانت (د تورل شوي الماس) په نوم یادېږي. سره زر د سوېلي افریقا له مهمو کانونو څخه دي. همدارنګه هلته د ډبرو د سکرو، کرومو، مګنیزو او یورانیمو زیرمې هم شته. د زایر او زمبابوې هېوادونه د مسو ډېرې بڼې زیرمې لري. د اوسپنو کانونه په لایبریا او سوېلي افریقا کې شته دي. په عمومي توګه ویلای شو چې د افریقا لویه وچه د نړۍ په سلوکې

۸۰ الماس، ۴۰ سره زر، ۲۰ سپين زر، ۲۰ مس او ۱۴ قلعي توليدوي. همدارنگه کولای شو د ترانسوال مهمې سيمې نوم واخلو چې په هغې کې صنعتي کارخانې او لوی بناړونه ځای پر ځای شوي دي او زيات شمېر وگړو ته يې د استوگنې زمينه برابره کړې ده.

د افريقا منځنۍ برخې گڼ ځنگلونه او صحرايي سيمې زيات کانونه لري. چې لائر اوسه ورڅخه گټه نه ده اخیستل شوې. افريقايي هېوادونه کوبنې کوي چې دصنعتي توليداتو حجم لوړ کړي. ځينې هېوادونه د برېښنا او کرنيزو بندونو په جوړولو بوخت دي، د بېلگې په توگه په مصر کې د نيل د سيند دپاسه د اسوان بند او د زمبيا او زمبابوې د هيوادونو ترمنځ د زامبيزې د سيند دپاسه د ولتا بند د يادونې وړ دی. د افريقا د لويې وچې زياتره کاني (معدني) او کرنيز محصولات بهرته صادريږي. د نړۍ د نورو هېوادونو د صنعتي مرکزونو او کارخانو اومه مواد هم په افريقا کې توليديږي، ځکه چې په خپله په افريقا کې صنعت دومره پرمختگ نه دی کړی. همدارنگه په افريقا کې د گرځندوی (توريزم) له صنايعو څخه هم عايدات تر لاسه کيږي. د مصر اهرام او د نورو پخوانيو هېوادونو لرغوني اثار، د افريقا شمال د مديترانې د سمندرگي پر غاړه ښکلي سواحل، د خلکو دودونه او دستورونه او هم هغه ملي مشهور پارکونه چې په افريقا کې شته د توريزم او نړۍ گرځيدنې ارزښت لري. او ددې لامل کيږي چې خلک له هغو څخه ليدنه وکړي چې طبعاً د اړوندو هېوادونو او سيمو په اقتصاد کې رول لوبوي.

د ټولگي دننه فعاليت:

زده کوونکي دې په ډلو ووېشل شي او هره ډله دې د افريقا د لويې وچې د طبيعي زيرمو او سرچينو په هکله بحث وکړي او دخپل بحث پايلې دې نوروته وړاندې کړي.

پوښتنې:

- ۱- د افريقا د برېښنا بندونه د کومو سيندونو دپاسه جوړ شوي دي؟
- ۲- شمالي او سوېلي افريقا د طبيعي منابعو له پلوه سره پرتله کړئ؟
- ۳- په افريقا کې د هغو هېوادونو نومونه واخلئ چې په هغو کې ډېر مس پيدا کيږي؟
- ۴- د اوسپني کانونه زياتره دافريقا په کومو سيمو کې شته دي؟
- ۵- د هغو کانونو نومونه واخلئ چې دافريقا په لويه وچه کې پيدا کيږي؟

له ټولگي څخه بهر فعاليت:

د افريقا د کانونو، صنايعو او توريزم نقشه مطالعه کړئ، لاندنيو پوښتنو ته ځواب ورکړئ:

- ۱- يورانيم دافريقا په کومو هېوادونو کې شته د هغو نومونه ووايست؟
- ۲- نفت په عمومي توگه دافريقا په کومو برخو کې موندل کيږي؟
- ۳- د افريقا د صنعتي سيمو نومونه واخلئ.



به لاگوس ڪي ترانسپورت

د افريقا د لويي وچي د مواصلاتو او د هغو د راتلونڪي پرمختگ په هڪله څه پوهيږئ؟

په افريقا ڪي مواصلات لرغوني سابقه لري او په مختلفو ډولونو ترسره كيدل. اوس يې تر يوې اندازې په بڼه او معاصره توگه پرمختيا كړې ده. په دې لويه وچه ڪې د استوايي گڼوځنگلونو، صحرايي تندو بادونو، باتلاقونو او صحراگانو شتوالي خنډونه منځته راوړي دي. د توکو وړل او راوړل د وچې له لارې او په سواحلو ڪې د بېړيو په وسيله سرته رسيږي.

د افريقا له لوېديځ څخه ختيځ ته لومړني تگ او راتگ په ۱۸۷۷ م كال ڪې د هري موټن سټلي (*Harry mouton Stanly*) په وسيله ترسره شو چې په دريو كلونو ڪې بشپړ شو. په دغو زياترو برخو ڪې مواصلات او وړل او راوړل په لومړني توگه او معمولا د اوبانو، خړو او په سختو او پيچلو لارو ڪې د انسانانو په وسيله سرته رسيږي. داوسپنو د كرنبو جوړونه دشلمې بېړۍ له لومړيو څخه په ځانگړې ډول له لومړۍ نړيوالې جگړې څخه وروسته ډېره ورو پرمخ تللې، نوڅكه په وړلو او راوړلو ڪې زياتره له سړكونو څخه كاراخيستل كيږي. په افريقا ڪې داوسپنو د كرنبو ټول اوږدوالي ۷۰ زرو كيلومترو ته رسيدلي او ډېره اوږده كرنبه يې د ۸۰۰۰ كيلومترو په اوږدوالي قاهره له كپتاون سره په جنوبي افريقا ڪې نښلوي. د اوسپنو كرنبو په افريقايي نورو هېوادونو لكه مراکش، الجزائر، تونس او مصر ڪې پراختيا كړې ده.

سربيره پردې ددې لوبې وچې د زياترو هېوادونو پلازمېنې، مركزونه او مشهور ښارونه په عصري هوايي ډگرونو سمبال دي. چې له دې لارې د پرمختللو صنعتي هېوادونو او د نړۍ له نورو هېوادونو سره اړيکې ټينگوي.

د قاهرې په ښارکي د ترانسپورت بهير



د ټولگي دننه فعاليت:

زده کوونکي دې په دوو ډلو وویشل شي لومړنۍ ډله دې د افریقا د مواصلاتو پر ابتدايي بڼو او دوهمه ډله دې د افریقا د مواصلاتو په پرمختللي بڼې بحث وکړي او د بحث پایلې دې نوروته وړاندې کړي..

پوښتني:

- ۱- د اوسپنو کرښو د شمالي افریقا په کومو هېوادونو کې پراختیا موندلې ده؟
- ۲- د وړلو او راوړلو د ابتدايي بڼې په هکله معلومات ورکړئ؟

له ټولگي څخه بهر فعاليت:

د افریقا د مواصلاتي لارو د ستونزو او خنډونو په هکله معلومات ورکړئ.

د اوبو له لارې وړل او راوړل (حمل او نقل)



دوربان د سویلی افریقا مهم سمندری بندر

ستاسو له نظره افریقا د کومو آبنوو او کانالونو له لارې له سمندرونو سره نښلول شوې ده؟

د افریقا د سیندونو او سمندرونو له لارې وړل او راوړل د حمل او نقل اهمیت وړ دي او د اوبو مهمې لارې (طبیعی او مصنوعي) چې په افریقا کې د دوو سمندریو یا سمندرونو ترمنځ لارې جوړوي د حمل او نقل په دې ډول دي:

د سویز کانال (د مدیترانې د سمندریو او سور سمندریو ترمنځ چې د جوړښت کارې په ۱۸۵۶ م کال کې پیل او په ۱۸۶۹ م کال کې بشپړ شو)، د باب المندب آبناء (د سور سمندریو او عدن خلیج ترمنځ)، د موزمبیق کانال (د مدغاسکر په لویډیځ کې د هند سمندر د دوو برخو ترمنځ) او د جبل الطارق آبناء (د مدیترانې د سمندریو او اطلس سمندر ترمنځ). ددې لارو څخه یوازې د سویز کانال مصنوعي او نورې ټولې طبیعي دي. د افریقا په لویه وچه کې د خنډونو او ستونزو سره سره او دځمکنی جوړښت د نا برابرتیا، داستوا او کانگو په سیمو کې د ځنگلونو د شته والي او د استوایي او صحرايي سوځوونکي تود اقلیم له امله چې د افریقا زیاتره ځایونه شاړ پاتې دي خو بیا هم د مالونو په وړلو او راوړلو کې آسانتیاوي منځته راغلې دي.

ډېره مهمه سمندري لار د کانگو د سیند په حوزه کې موقعیت لري چې تقریباً د ۱۵۰۰ کیلومترو په اوږدوالي د گټې اخیستنې وړ ده. د اوبو د راټولیدو حوزو په استوایي سیمو کې پرته ده چې ټول کال ډېرې اوبه او زیات باران لري. دنیل سیند د اسوان تر بند پورې د سمندري بېړیو د گټې اخیستنې وړ دی. له دې سیند

لاگوس د نایجریا پایتخت او سمندري بندر



خخه د مصر او سودان دواړه هیوادونه د حمل او نقل لپاره گټه اخلي. همدارنگه د نایجیر، سنیگال او زامبزی په سیندونو کې هم دکال په ځینو وختونو کې چې اوبه یې ډېرې وي بېرې چلول کیږي. ستاسې په نظر د سویز کانال کوم سمندرګي (بحیرې) سره نښلوي؟

نن سبا د سمندري بېریو په وسیله وړل او راوړل زیاتره د مدیترانې په بندرونو او د سوېلي افریقا په بندرونو کې ترسره کیږي چې له هغو خخه د سوېلي امریکا او استرالیا د بازارونو په لور سوداګریز مالونه وړل کیږي. همدارنگه سویز کانال چې د اروپا اړیکې یې د ختیځې او سوېل ختیځې افریقا سره ټینګې کړي دي د ځانګړې اقتصادي ارزښت لرونکی دی.

د ټولګي دننه فعالیت:

د افریقا نقشې ته په پاملرنې که وغواړو د بېرې په وسیله د عدن له خلیج خخه د مراکش د هیواد ساحلي ښار یعنی کازابلانکا ته سفر وکړو له کومو ابناء گانو او کانالونو خخه تېرېږو؟

پوښنې:

- ۱- د افریقا د شمال ختیځ کوم کانال د زیات ارزښت لرونکی دی؟
- ۲- د جبل الطارق ابناء کوم سمندر او سمندرګي سره نښلوي؟
- ۳- د افریقا د لوېې وچې پخواني مواصلات د هغې د وروستیو پرمختګونو سره پرتله کړئ؟

له ټولګي خخه بهر فعالیت:

یو کتاب، مجله یا اخبار چې د افریقا د لوېې وچې په هکله معلومات ولري مطالعه کړئ او د کتاب نوم د خپریدو کال او نورې ځانګړتیاوې یې ولیکئ او د مضمون استاد ته یې ورکړئ.

- که چېرې شمالي او سوېلي امريکا د بېلو لويو وچو په توگه په نظر کې ونيسو، افريقا له آسيا څخه وروسته د نړۍ ډېره پراخه وچه ده. خو که چېرې ټوله امريکا د يوې لويې وچې په توگه په نظر کې ونيول شي، نو په دې صورت کې افريقا له آسيا او امريکا څخه وروسته د نړۍ درېيمه لويه وچه شمېرل کېږي.
- افريقا له ۳۰ ميليونه كيلومتره مربع څخه په زيات پراخوالي سره (د اړوندو ټاپوگانو په گډون) د نړۍ د مساحت په سلو کې ۲۰،۳ په برکې نيسي چې په هغې کې له ۸۰۰ ميليونو تنو څخه زيات وگړي اوسېږي. ډېره شمالي نقطه يې سپينه دماغه (Cape Blanc) او د بن دماغه (Cape Bon) په تونس کې د شمالي عرض البلد د ۳۷ درجو او ۲۰ دقيقو د پاسه او ډېره سوېلي نقطه يې د اگولهاس دماغه (Cape Agulhas) په سوېلي افريقا کې د جنوبي عرض البلد په ۳۴ درجو او ۴۰ دقيقو د پاسه پرته ده.
- ختيځه نقطه يې د گاردافوي دماغه (Cape Guardafui) په سوماليه کې د ختيځ طول البلد پر ۵۲ درجو او ډېره لويديځه نقطه يې شنه دماغه (Cape Verde) د سينگال په گاونډيتوب کې ده چې د لويديځ طول البلد پر (۱۷) درجو باندې پرته ده.
- افريقا په استوايي سيمه کې ډېره پراخه ساحه راجاېږه کړې ده چې $\frac{۲}{۳}$ برخه يې د استوا د کرښې په شمال کې او $\frac{۱}{۳}$ برخه يې د استوا په جنوب کې پرته ده.
- دا لويه وچه لکه څرنګه چې د هغې له نوم څخه څرګندېږي يوه حاره وي لويه وچه ده او داستوا کرښه دهغې له منځ څخه داسې تېرېږي چې شمالي او سوېلي برخې يې تقريبا په يو ډول واټن کې پرتې دي.
- د افريقا په لويديځ کې د اټلانتيک سمندر او په ختيځ کې يې د هند سمندر موقعيت لري. په شمال کې د مديترانې د سمندرګي په وسيله د اروپا له لويې وچې څخه او په شمال ختيځ کې د سوز کاناډ او د سور سمندرګي په وسيله له آسيا څخه بېله شوې ده.
- د افريقا وچه کولای شو په لويديځې، ختيځې، مرکزي، سوېلي او شمالي افريقا ووېشو.
- افريقا د غرونو، صحراگانو او هوارو سيمو لرونکې ده چې ډېر مشهور يې په شمال لويديځه څنډه کې داطلس غرونه، په تانزانيا کې د کيليمانجارو (Kilimanjaro) ځوان غرونه، دالجزاير په سوېل ختيځ کې د اهاګر (Ahaggar) زاړه غرونه، د چاد په شمال لويديځ کې د تېستي (Tibesti) غرونه او همدارنګه د حبشې لوړې سطحې د يادونې وړ دي.
- په افريقا کې ژورې او لږې لوړې سيمې کمې دي. ددې سيمو ځينې جبه زار او د روغتيا لپاره د نامناسبه اقليم لرونکې دي چې په استوايي سيمو کې پرتې دي او په نورو سيمو کې يې وچې او سوځونکې دښتې هم شته دي.
- د افريقا صحرا چې د نړۍ لويه صحرا ده، څه ناڅه دافريقا د لويې وچې $\frac{۳}{۴}$ برخه کې يې پراختيا موندلې ده. په تيرو کلونو کې د وچکالۍ له امله نوره هم پراخه شوې ده.
- د افريقا په لويه وچه کې ډېر سيندونه شته چې ډېر مشهور يې د نيل او کانگو سيندونه دي. د نيل سيند د مصر د لرغوني مدنيت د منځته راتلو سبب شوی او اوس هم د کرنيزو سيمو په خړو بولو کې ځانګړی ارزښت لري.
- افريقا دهغه موقعيت له امله چې د ځمکې د کرې پرمخ يې غوره کړای له استراليا څخه وروسته د نړۍ ډېره توده لويه وچه شمېرل کېږي.
- د افريقا لويې وچې استوايي برخې زيات وړښت لري خو د شمال او جنوب لورته وړښت کمېږي.
- په افريقا کې ۵۵ خپلواکه هېوادونه شته چې په هغو کې مختلف قومونه له بېلابېلو کلتورونو سره ليدل کېږي. په شمالي افريقا کې اسلامي کلتور حاکم دی. په داسې حال کې چې په نورو سيمو کې نور کلتورونه ليدل کېږي.
- د افريقا زياتره خلک په کليو کې استوګنه کوي چې په کرڼه او مالدارۍ بوخت دي.
- سره له دې چې په افريقا کې اقتصادي شرايط د ښکيلاک (استعمار) له منځه تللو وروسته مخ په ښه کيدو دی خو تر اوسه هم نفوس او انساني توليدي قواو په پوره اندازه په ټولو ځايونو کې يو ډول پراختيا نه ده موندلې.
- په افريقا کې زياتې کورنۍ جګړې او وچکالۍ د کورنيو او هم له پولو څخه د بهر مهاجرتونو سبب کېږي. همدارنګه د افريقا زيات شمېر خلک د بې وزلۍ او لوړې څخه رنځېږي او د ژوند سطحه يې ټيټه ده.
- د افريقا لوی ښارونه لاګوس (Lagos) په نايجريا کې (د ۹ ميليونو وگړو په درلودلو سره)، کينشاسا (Kinshasa) د کانگو په جمهوريت کې (د ۸،۴ ميليونو وگړو په درلودلو سره) او قاهره په مصر کې (د ۷،۹ ميليونو وگړو په درلودلو سره) دي.
- په افريقا کې مهمې رسمي ژبې: عربي، انگليسي، فرانسوي، پرتګالي، افريقايي، سواحلي او نورې دي.

د افریقا د خپلواکو هېوادونو د ځینو جغرافیایي ځانګړنو جدول

ګڼه	هېوادونه	عموميات					په بېلا بېلو سکټورونو کې د بوختو وګړو فیصلي (۲۰۰۱ کال)	
		مرکز	مساحت په کیلومتر مربع	د وګړو شمېر په ۲۰۰۶ کال کې	د وګړو ګټوالی په یو کیلو متر مربع کې	کرڼه		صنعت
۱	آنگولا	لواندا	۱,۲۴۶,۷۰۰	۱۲,۱۲۷,۰۷۱	۱۰	۷۴,۷	۸,۴	۱۶,۹
۲	ایتویا	آدیس ابابا	۱,۱۰۴,۳۰۰	۷۴,۷۷۷,۹۸۱	۶۸	۸۶,۰	۲,۰	۱۲,۰
۳	ارتریا	اسمره	۱۱۷,۶۰۰	۵,۰۲۸,۴۲۷	۴۲,۸	—	—	—
۴	جنوبي افریقا	پرتوریا	۱,۲۲۱,۰۳۷	۴۴,۱۸۷,۶۳۷	۳۶	۱۳,۷	۳۱,۸	۵۴,۵
۵	مرکزي افریقا	بانګی	۶۲۳,۰۰۰	۴,۳۰۳,۳۵۶	۷	۸۰,۵	۳,۰	۱۶,۵
۶	الجزیره	الجزیره	۲,۳۸۱,۷۴۱	۳۲,۹۳۰,۰۹۱	۱۴	۲۸,۳	۲۹,۸	۴۱,۹
۷	یوګاندا	کمپالا	۲۴۱,۰۳۸	۲۸,۱۹۵,۷۵۴	۱۱۷	۸۴,۳	۴,۶	۱۱,۱
۸	بینین	پرتونوو	۱۱۲,۶۲۲	۷,۸۶۲,۹۴۴	۷۰	۶۳,۴	۸,۱	۲۸,۵
۹	بوتسوانا	ګابرون	۵۸۱,۷۳۰	۱,۶۳۹,۸۳۳	۳	۴۶,۳	۲۰,۴	۳۳,۳
۱۰	بورکینافاسو	اوګادوګو	۲۷۴,۰۰۰	۱۳,۹۰۲,۹۷۲	۵۱	۹۲,۴	۲,۰	۵,۶
۱۱	بوروندي	بوجومبورا	۲۷,۸۳۴	۸,۰۹۰,۰۶۸	۲۹۱	۹۱,۹	۲,۵	۵,۶
۱۲	تاترانیا	دارالسلام	۸۸۳,۷۴۹	۳۷,۴۴۵,۳۹۲	۴۲	۸۴,۴	۵	۱۰,۶
۱۳	توګو	لومه	۵۶,۷۸۵	۵,۵۴۸,۷۰۲	۹۸	۶۵,۶	۱۰,۰	۲۴,۴
۱۴	تونس	تونس	۱۶۳,۶۱۰	۱۰,۱۷۵,۰۱۴	۶۲	۲۸,۹	۳۲,۷	۳۸,۴
۱۵	جیبوتي	جیبوتي	۲۳,۲۰۰	۵,۰۶۲,۲۲۱	۲۱,۸	—	—	—
۱۶	چاد	انجامنا	۱,۲۸۴,۰۰۰	۹,۹۴۴,۲۰۱	۸	۸۳,۲	۴,۳	۱۲,۵
۱۷	رواندا	کیګالی	۲۶,۳۳۸	۸,۶۴۸,۲۴۸	۳۲۸	۹۱,۹	۳,۶	۴,۵
۱۸	زمبیا	لوساکا	۷۵۲,۶۱۸	۱۱,۵۰۲,۰۱۰	۱۵	۷۴,۸	۸,۵	۱۶,۸
۱۹	زیمبابوی	هراری	۳۹۰,۷۵۷	۱۲,۲۳۶,۸۰۵	۳۱	۶۸,۲	۸,۱	۲۳,۷
۲۰	سائوتومه او پرنسپ	سائوتومه	۹۶۴	۲۰۶,۱۷۸	۲۱۳,۹	—	—	—
۲۱	عاج ساحل	ياموسوکرو	۳۲۲,۴۶۳	۱۷,۶۵۴,۸۴۳	۵۵	۶۰,۰	۱۰,۰	۳۰,۰
۲۲	سنيګال	داکار	۱۹۶,۷۲۲	۱۱,۹۸۷,۱۲۱	۶۱	۷۶,۸	۷,۴	۱۵,۸
۲۳	سوازېلند	امبابان	۱۷,۳۶۴	۱,۱۲۸,۸۱۴	۶۵	—	—	—
۲۴	سودان	خرطوم	۲,۵۰۵,۸۱۳	۴۱,۲۳۶,۳۷۸	۱۶	۶۹,۸	۸,۶	۲۱,۶
۲۵	سوماليا	موګادیشو	۶۳۷,۶۵۷	۸,۸۶۳,۳۳۸	۱۴	۶۸,۰	۱۲,۰	۲۰,۰
۲۶	سیراليون	فری ټاون	۷۱,۷۴۰	۶,۰۰۵,۲۵۰	۸۴	۶۷,۷	۱۵,۴	۱۶,۹
۲۷	سیشل	ویکتوریا	۴۵۵	۸۲,۲۴۷	۱۸۰,۸	—	—	—

۱- سودان په دوو برخو ویشل شوی دی، خو ملګرو ملتونه د هغې مستند نقشه نه دی ورکړی.

گڻه	هېوادونه	عموميات					په بېلا بېلو سکتورونو کې د بوختو وگړو فيصدي (۲۰۰۱ کال)	
		مرکز	مساحت په کيلومتر مربع	د وگړو شمېر په ۲۰۰۶ کال کې	د وگړو گڼوالی په يو کيلومتر مربع کې	کرنه	صنعت	خدمتونه
۲۸	لويديځه صحرا	العيون	۲۶۶,۰۰۰	۳۹۳,۸۳۱	۱,۵	--	--	
۲۹	گانا	اکرا	۲۳۸,۵۳۳	۲۲,۴۰۹,۵۱۷	۹۴	۱۳,۰	۲۷,۶	
۳۰	کامرون	يانونده	۴۷۵,۴۴۲	۱۷,۳۴۰,۷۰۲	۳۶	۸,۶	۱۲,۵	
۳۱	کانگو برزاويل	برزاويل	۳۴۲,۰۰۰	۳,۷۰۲,۳۱۴	۱۱	۱۴,۸	۳۶,۶	
۳۲	کانگو کينشاسا	کينشاسا	۲,۳۴۴,۸۵۸	۶۲,۶۶۰,۵۵۱	۲۷	۱۳,۵	۱۸,۵	
۳۳	کينيا	نايروي	۵۸۰,۳۶۷	۳۴,۷۰۷,۸۱۷	۶۰	۷,۰	۱۳,۴	
۳۴	کومورن	موروني	۲,۲۳۵	۳۳۱,۷۵۵	۳۲۷,۴	--	--	
۳۵	کپ ورد	پرايا	۴۰,۳۳	۴۲۶,۹۹۸	۱۰۵,۹	--	--	
۳۶	گابون	ليروييل	۲۶۷,۶۶۸	۱,۴۲۴,۹۶۰	۵	۱۵,۱	۴۲,۱	
۳۷	گامبيا	بانجول	۱۱,۲۹۵	۱,۶۶۱,۵۶۴	۱۴۵	۸,۰	۹,۹	
۳۸	گڼه	کوناکری	۲۴۵,۸۵۷	۹,۶۹۰,۲۲۲	۳۹	۲,۱	۱۰,۸	
۳۹	استوايي گڼه	مالابو	۲۸۰,۵۱	۶۱۶,۴۵۹	۲۲	--	--	
۴۰	بيساو گڼه	بيساو	۳۶,۱۲۵	۱,۵۰۳,۱۸۲	۴۱,۶	--	--	
۴۱	لسوتو	ماسرو	۳۰,۳۵۵	۲,۱۲۸,۱۸۰	۷۰,۱	--	--	
۴۲	لايريا	مونرويا	۱۱۱,۳۶۹	۳,۳۳۴,۵۸۷	۲۹,۹	--	--	
۴۳	ليبيا	تريپولي	۱,۷۵۹,۵۴۰	۵,۹۰۰,۷۵۴	۳	۲۲,۱	۶۶,۳	
۴۴	مدغاسکر	تاناارويو	۵۸۷,۰۴۱	۱۸,۵۹۵,۴۶۹	۳۲	۶,۹	۱۵,۱	
۴۵	مالاوی	ليلونگوه	۱۱۸,۴۸۴	۱۳,۰۱۲,۹۲۶	۱۱۰	۵,۱	۸,۱	
۴۶	مالي	باماكو	۱,۲۴۰,۱۹۲	۱۱,۷۱۶,۸۲۹	۹	۲,۰	۱۲,۲	
۴۷	مصر	قاهره	۱,۰۰۱,۴۴۹	۷۸,۸۸۷,۰۰۷	۷۹	۳۰	۴۰	
۴۸	المغرب (مراکش)	رباط	۴۴۶,۵۵۰	۳۳,۲۴۱,۲۵۹	۷۴	۳۴,۸	۵۹,۲	
۴۹	موريتانيا	نواکشوت	۱,۰۲۵,۵۲۰	۳,۱۷۷,۳۷۸	۳	۱۰,۷	۳۴,۲	
۵۰	موريشيټ	پورت لويس	۲,۰۴۰	۱,۰۲۷۴,۱۸۹	۶۲۴,۶	--	--	
۵۱	موزمبيق	ماپوتو	۸۰۱,۵۹۰	۱۹,۶۸۶,۵۰۵	۲۵	۸,۲	۹,۲	
۵۲	ناميبيا	ويندهوك	۸۲۴,۲۹۲	۲,۰۴۴,۱۴۷	۲	۱۵,۷	۳۵,۰	
۵۳	نايجر	نيامي	۱,۲۶۷,۰۰۰	۱۲,۵۲۵,۰۹۴	۱۰	۳,۸	۶,۴	
۵۴	نايجريا	آبوجا	۹۲۳,۷۶۸	۱۳۱,۸۵۹,۷۳۱	۱۴۳	۶,۸	۴۹,۸	
۵۵	جنوبی سوډان							

منبع:

Wolters- Noordhoff, WN Atlas Productions, Groningen, the 2007 Netherlands

استرالیا

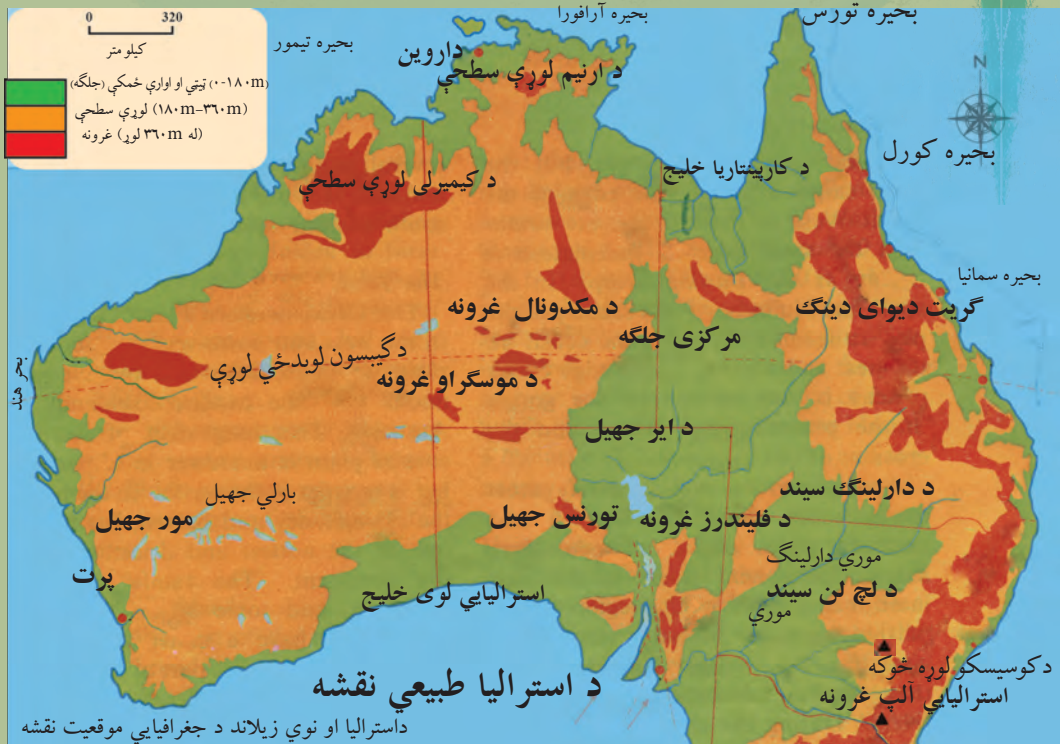


د استرالیا د موقعیت نقشه

د څپرکي عمومي موخې

- هیله ده چې زده کوونکي به د دې څپرکي له لوستلو څخه وروسته لاندې علمي موخې تر لاسه کړي:
- د استرالیا او اقیانوسېي د لویې وچې او سوېلي کنګل لویې وچې (انټارکټیکا) د جغرافیایي موقعیت سره بلدتیا.
- د استرالیا او اقیانوسېي د لویې وچې د مهمو لوړو ژورو سره بلدتیا.
- د استرالیا او اقیانوسېي د لویې وچې د سیاسي جغرافیې له حالت سره بلدتیا.
- د استرالیا او اقیانوسېي د لویې وچې د بشري جغرافیې سره بلدتیا.
- د استرالیا او اقیانوسېي د لویې وچې د اقتصادي جغرافیې سره بلدتیا.
- د استرالیا او اقیانوسېي له مواصلاټي جغرافیې سره بلدتیا.
- د سوېلي کنګل لویې وچې له اکتشافاتو سره بلدتیا.
- له زده کوونکو څخه هیله کېږي چې د دې څپرکي په لوستلو سره لاندې مهارتي موخې تر لاسه کړي:
- د استرالیا، اقیانوسېي او سوېلي کنګل لویې وچې (انټارکټیکا) د جغرافیایي موقعیت پېژندل.
- د استرالیا د نقشې پر مخ د مهمو غرونو، سیندونو او سمندرګیو ټاکل.
- د استرالیا په لویه وچه کې د نفوسو د جغرافیایي ویش تفسیر.
- د استرالیا د نقشې پر مخ د نفوسو د جغرافیایي ویش ښودل.
- د اقیانوسېي د نقشې پر مخ د نفوسو د جغرافیایي ویش ښودل.
- د استرالیا او اقیانوسېي د نقشې پر مخ د کاني مهمو شتمنیو ټاکل.

د آسټراليا موقعيت



آسټراليا د ځمکې د کرې په کومه برخه کې موقعيت لري؟

څلور خواوې:

د آسټراليا کوچنۍ لويه وچه چې د ځينو په نظريو لوی ټاپو دی، زیاته برخه (کابو $\frac{3}{4}$) یې دښته ده. آسټراليا د ۱۲ او ۴۳ درجو جنوبي عرض البلدونو ترمنځ او د ۱۱۵ او ۱۵۴ ختیځو طول البلدونو ترمنځ موقعيت لري. د آسټراليا په شمال کې د تیمور سمندرګي (Timor Sea)، د ارافورا سمندرګي (Arafura Sea)، د کارپنتاريا خليج (Gulf of Carpentaria)، او د تورس آبناء (Str. Torres) موقعيت لري. په ختيځ کې یې د کورل سمندرګي (Coral Sea) او د تسمانيا سمندرګي (Tasmania Sea) او د آسټراليا په سوېل کې د باس آبناء (Str. Bass) او د آسټراليا خليج پراته دي. دهند سمندر د آسټراليا په سوېل او لويديځ کې پروت دی. د آسټراليا ټوله ساحلي کرښه ۲۵،۷۶۰ کیلومترو ته رسېږي.

د آسټراليا کشف:

کابو پنځوس زره کاله د مخه لومړني خلک آسټراليا ته ورغلل. انګریزانو هغوی له (۱۷۸۹) کال څخه د ابورجینالس (Aboriginals) په نامه یاد کړي دي، چې دا یوه لاتیني اصطلاح ده او د اصلي یا بومي

اوسیدونکو لپاره کارول کیري. دا خلک له سوېل ختیځې اسیا څخه راغلي وو. پنځوس زره کاله مخکې د خاورینو پلونو په وسیله چې د اسیا او استرالیا په منځ کې وو، له همدې پلونو اولارو څخه خلکو او خاویو کولای شول له اسیا څخه استرالیا ته لاړ شي. دا یوه څلویښت زره کلنه پروسه وه. وروسته چې د ځمکې کره توده شوه او کنگلونو په ویلي کیدو پیل وکړ، د سمندر د اوبو سطحه جگه شوه او په دې توگه استرالیا د یوه ټاپو بڼه غوره کړه. په ۱۵۰ م کال کې د لومړي ځل لپاره یونانیانو د استرالیا په باره کې لیکنې وکړې. هغوی دا وچه د تیرا استرالیس (Terra Australis) او یا سوېلي غاړو په نامه یاده کړه. خلک د هغې زیات مینه وال شول او ددې نابلدې سیمې په لټه کې شول.

په شپاړسمه او اوولسمه پېړۍ کې پرتگالیان، هسپانویان او هالنډیان له اسیا سره د سوداگرۍ علاقمند وو. د هغه وخت د سمندري زیاتو مسافرتونو او کشفیاتو په اساس ووچې استرالیا هم د اروپایانو له خوا کشف شوه. په ۱۶۰۶ م کال کې د هالنډیانو لومړنۍ بېړۍ د کارپنتاریا د خلیج (Gulf of Carpentaria) پر غاړه د استرالیا په شمال کې نوې گیني (New Guinea) ته مخامخ ودریده. ددې بېړۍ کپتان ولیم جانسن (Willem Janszoon) بېرته جاوا (Java) ته وگرځید. په ۱۶۱۶ م کال یوه بله هالنډي بېړۍ د شارک (Shark) خلیج ته د استرالیا په لویدیځ کې ورسیده. په وروستۍ یوه نیمه پېړۍ کې هالنډي، فرانسوي او انګلیسي بېلابېلو خلکو استرالیا ته، چې په هغه وخت کې د نوې هالنډ New Holland په نامه یادیده، مسافرت وکړ، خو په هغه وخت کې د استرالیا د زیاتې پیژندنې اویا مستعمره کولو احساس نه و. لومړنۍ برتانوي چې استرالیا ته ورسید د یوې بېړۍ کپتان و د ولیم دامپیر (William Dampier) په نامه چې په ۱۶۸۸ م کال استرالیا ته ورسید.

ایل تاسمان (۱۶۴۲ میلادي) هالنډی سمندرگرځیونکی او د استرالیا د لویې وچې یو کاشف




په ۱۷۷۰ م کال جيمز کوک انګليسي لومړنی اروپايي و چې د استراليا ختيځو غاړو او سواحلوته ورسيد او د بوتاني Botany دخليج (اوسنی سډني Sydney) له لارې پر ختيځو غاړو تېر شو او هغه يې د نوي سوېلي ويلز (New South Wales) په نامه يادې کړي.

د ۱۸۰۰ م کلونو په پيل کې سډني پر يوه سوداګريز مرکز د بدلیدلو په حال کې و. همدارنگه داستراليا د نورو برخو د کشف لپاره هڅې روانې وې.

د ۱۸۹۰ م کال په شاوخوا کې دا نظر چې بېلابېلې مستعمرې پر يوه لوی فدرالي هېواد باندې بدلې شي، منځ ته راغی چې په پای کې د ۱۹۰۱ م کال د جنوري په لومړۍ نېټه په استراليا کې ايالتي سيستم را منځ ته شو او په حقيقت کې له انګلستان څخه د استراليا د خپلواکۍ ورځ ده.

د بادبان لرونکي کبتي انځور



خو تر ډېره وخته پورې استرالیا په یوه ډول د انگلستان د مستعمرې په توګه پاتې شوه، چې ورو ورو پې د یوه خپلواک هېواد په توګه ځای ونیو.

جیمز کوک (۱۷۷۰ م) انګلیسي کپتان او د استرالیا د لوپې وچې یوکاشف څخه



د ټولګي دننه فعالیت:

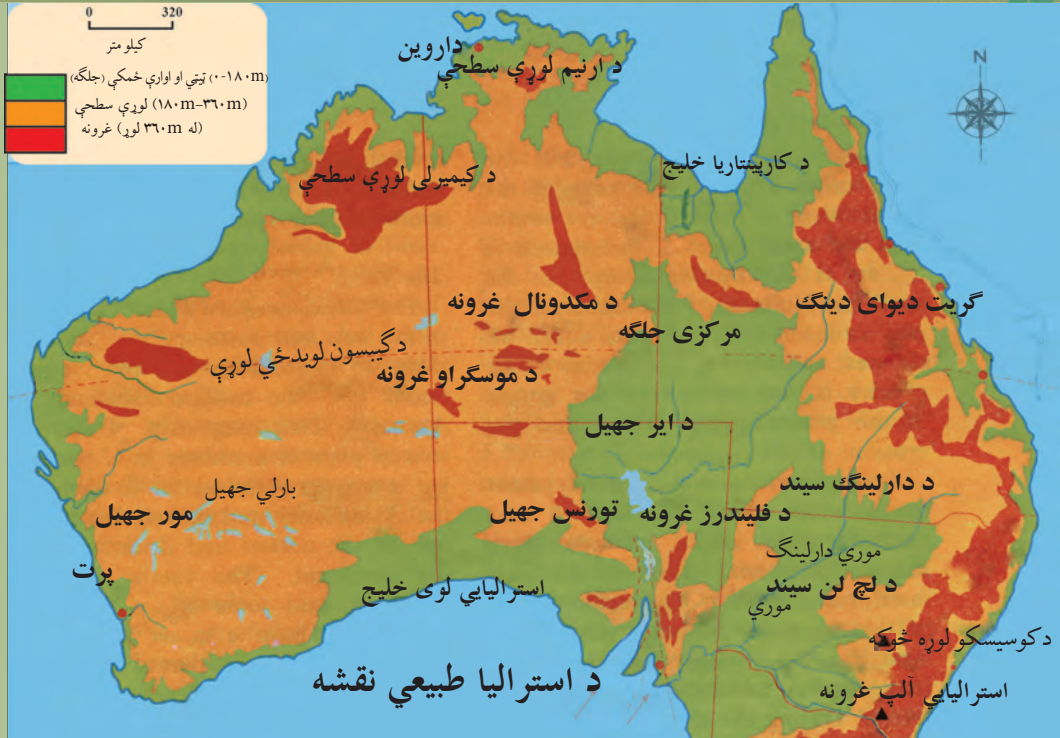
زده کوونکي دې په دوو ډلو وویشل شي. لومړۍ ډله دې د استرالیا جغرافیایي موقعیت د نقشې پرمخ تثبیت او وښيي. دویمه ډله دې د هغو هېوادونو او اشخاصو نومونه، چې د استرالیا په کشف او موندنه کې یې ونډه درلوده، ولیکي او نوروته دي یې بیان کړي.

پوښتنې:

- ۱- استرالیا یو لوی ټاپو دی.
- ۲- استرالیا د هند سمندر په ختیځ کې پرته ده.
- ۳- د استرالیا کشف د زیاتو مسافرتونو او سمندري کشفیاتو پایله وه، چې د اروپایانو په وسیله ترسره شول.
- ۴- استرالیا خپله خپلواکي په ۱۹۰۱ م کال له انگلستان څخه ترلاسه کړه.

له ټولګي څخه بهر فعالیت:

د انټرنټ یا کتابتون څخه د ګټې اخستنې په اساس د سمندري کشفیاتو او د استرالیا د کشف په باره کې په یوه صفحه کې مقاله ولیکئ.



د استرالیا طبیعی حالت څرنگه دي؟

استرالیا د نړۍ ډیره کوچنۍ لویه وچه ده چې دا وچه له ټولو ټاپوګانو سره په مجموعي توګه په سوېلي نیمه کره کې موقعیت لري. د استرالیا هېواد له جغرافیایي نظره کولای شو په څلورو بېلابېلو سیمو وویشو:

- ۱- منځنۍ دښتې، چې نسبتاً دځمکې لاندې زیاتې اوبه لري.
- ۲- لویدیځې لوړې (فلات) چې ډېرې بیابانونه او دښتې دي.
- ۳- ختیځه ساحلي ښېرازه برخه چې په حقیقت کې د گريت دیوای دینګ د غرونو ختیځه لمن (د اوبو لویه زیرمه) ده.

۴- ختیځ غرونه یا لوړې چې په (گريت دیوای دینګ) مشهور دي. د استرالیا طبیعی جغرافیه په څو بېلو بېلو برخو کې په لاندې ډول مطالعه کوو:

غرونه:

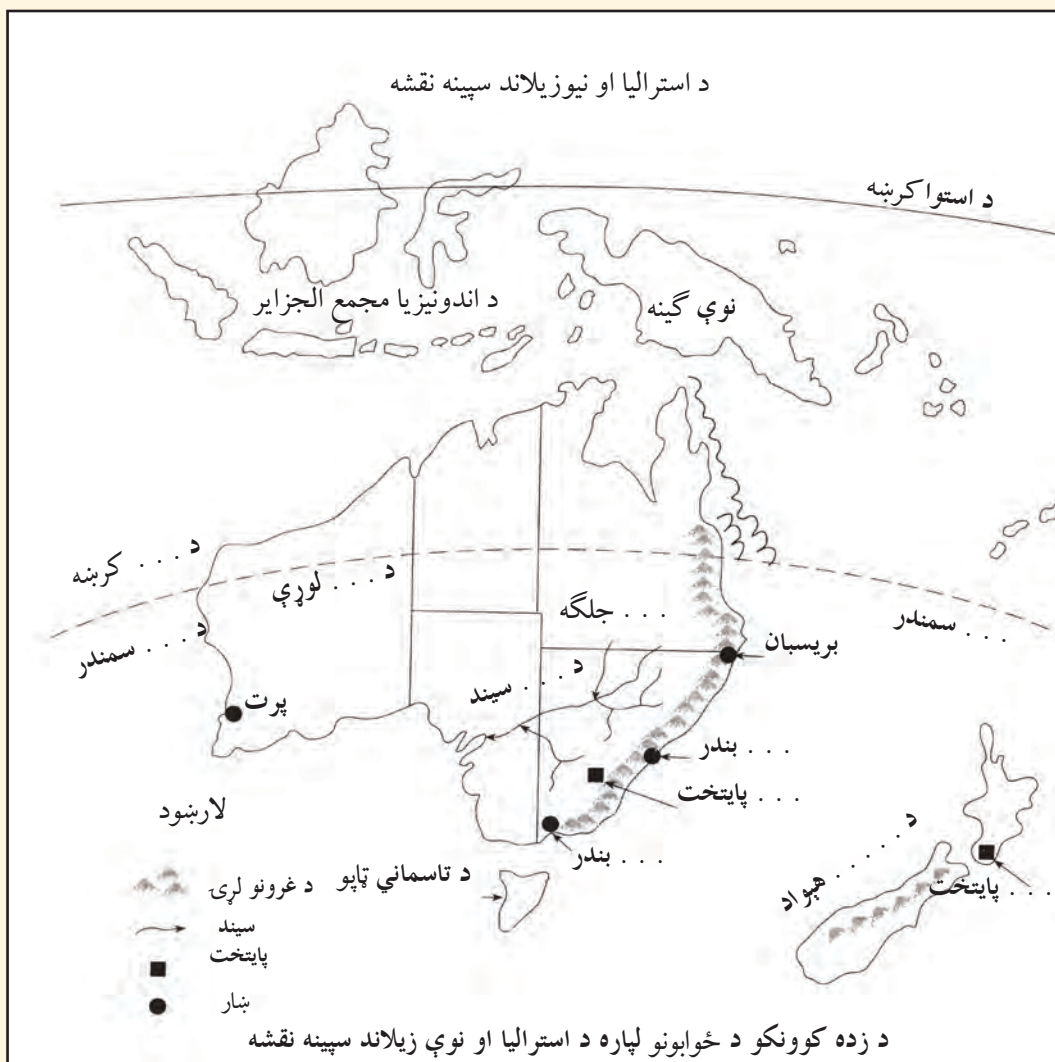
- د استرالیا زیاتره غرونه په کومو برخو کې پراته دي؟
د استرالیا په ختیځ کې د گريت دیوای دینګ (Great Dividing) په نوم مشهور غرونه شته، چې له ۳۰۰۰ کیلو مترو څخه زیات اوږدوالی لري. د غرونو دا لړۍ د تسمانیا (Tasmania) له ټاپو څخه په سوېل کې پیلېږي او د کپ یورک (Cape York) تر ټاپووزمې په شمال کې غځیدلې دي. د غرونو دا لړۍ

چې د منځني جگوالي لرونکي غرونه او لوړې سطحې لري، د سیندونو په وسیله سره جلا شوي دي. نوموړو غرونو خپلې لمنې د ختیځو سواحلو په لور او د لویدیځ په لور تر هوارو سیمو پورې پراخه کړي دي. د گریټ دیوای دینګ له غرونو څخه زیات لوی او وارې سیندونه سرچینه اخلي او آرام سمندر ته توپیري. د استرالیا نور غرونه د استرالیا یي الپ (Australian Alps) په نامه شهرت لري، چې په حقیقت کې د (دیوای دینګ) د غرونو یوه برخه ګڼل کېږي. دا غرونه چې د استرالیا په سوېل ختیځ کې پراته دي، د نیو سوت ویلز (New South Wales) په سیمو او د ویکتوریا (Victoria) په ختیځه سیمه کې یې لوړې سطحې جوړې کړې دي. ددغو غرونو ډېره لوړه څوکه کوسیسکو (Kosciusko) ده، چې (۲۲۳۱) متره لوړوالی لري.

هغه غرونه چې د استرالیا د ختیځو سیمو د اوبو سرچینه ده او پر ګڼو ځنګلونو پوښل شوي دي.



د استرالیایی الپ غرونه د تفریح او استراحت لپاره بڼې سیمې لري او هم یې د اوبو بڼې سرچینې جوړې کړې دي. په دې سیمه کې ډېر ملي بڼونه شته چې د ژمني سپورت (د سکې لوبو) لپاره په استرالیا کې یوازینی سیمه گڼل کېږي. همدارنگه د فلیندرز (Flinders) غرونه هم د دیوای دینګ د لویو غرونو یوه څانګه ده، چې په سوېلي استرالیا کې پراته دي.



د استرالیا په منځنیو برخو کې د مک ډونل (Macdonnell) غرونه او د موسگراو (Musgrave) غرونه د یادولو وړ دي. د استرالیا په لویدیځ کې هم مشهور غرونه شته چې د هامرسلي (Hamersley) په نامه یادېږي او لوړه څوکه یې بروس (Bruce) ده، چې د ۱۲۰۰ مترو څخه زیات لوړوالی لري. د استرالیا په شمال کې مشهورې لوړې سطحې شته، چې د کیمبرلي (Kimberley Plateau) او ارنیم (Arnhem Land) په نامه شهرت لري او لوړوالی یې له (۸۰۰) مترو څخه زیات نه دی.

د ټولګي دننه فعالیت

زده کوونکي دې په ډلو وویشل شي، هره ډله دې له لاندینو فعالیتونو څخه یو پای ته ورسوي او د خپل فعالیت پایله دې نورو ته وړاندې کړي.

- ۱- د استرالیا څلور بېلابېلې سیمې د جغرافیې له نظره د نقشې پرمخ تثبیت او وېشي.
- ۲- د ګریت دیوای دینګ دغرونو د څانګو نوم دې واخلي او د نقشې پرمخ دي وېشي.
- ۳- د استرالیایي الپ د غرونو اقتصادي اهمیت دې توضیح کړي.
- ۴- د هغو غرونو چې د استرالیا په لویدیځ او شمال کې موقعیت لري، نوم واخلي او د نقشې پرمخ یې وېشي.

پوښتنې:

- ۱- استرالیا په څو او کومو جغرافیایي سیمو ویشلای شو؟
- ۲- له ملي بڼو څخه زموږ مقصد څه دی؟
- ۳- د استرالیا غرونه د خلکو پر اقتصادي او ټولنیز ژوند څه اغېزه کولای شي؟
- ۴- ستاسو په نظر په استرالیا کې غرونو د هغه هېواد خلکو ته څه ستونزې او څه اسانتیاوې پیدا کړي دي؟

له ټولګي څخه بهر فعالیت:

د استرالیا او نوي زیلانډ سپینه نقشه کاپي او یا یې په خپلو کتابچو کې رسم کړئ او تش ځایونه یې ډک کړئ.



ستاسو په نظر ولې په استرالیا کې زیات سیندونه شته دي؟

په دې لوی ټاپو کې د ډېرو لوړو برخو د شتون او د هغه د ځانګړې جغرافیایي موقعیت له امله چې له هرې خوا یې سمندرونه چاپېر شوي دي، په دې ټاپو کې اوربنت زیات دی. له همدې امله پکې ډېر سیندونه بهیري چې زیاتره یې په آرام سمندر یا د هند په سمندر کې تویېږي.

د استرالیا مهم سیندونه عبارت دی له:

دارلینګ (Darling)، مورې (Murray)، او لچ لن (Lachlan) څخه. دا سیندونه چې د لوی دیوای دینګ له ختیځو سیمو څخه سرچینه اخلي، په پای کې د استرالیا لوی خلیج ته تویېږي. د استرالیا د سیندونو ډېر لوی سیستم د مورې - دارلینګ سیستم دی، د مورې سیند که څه هم د دارلینګ له سیند څخه لنډ دی خو ددې سیستم له مهمو سیندونو څخه شمیرل کېږي، ځکه د دارلینګ نه ډېرې اوبه لري. د مورې د سیند اوږدوالی ۲۵۷۰ کیلومترو او د دارلینګ د سیند اوږدوالی ۲۷۳۰ کیلومترو ته رسېږي. ددې سیند د اوبو اخیستونکي حوزې مساحت ۱۸۷۲ زره کیلومتره مربع ته رسېږي. د موریا دوهمه لویه څانګه د مورامیدجی (Murrumbidgee) سیند، چې ۱۶۹۰ کیلومتره اوږدوالی لري جوړوي.

ټول هغه سیندونه چې د مورې - دارلینګ په سیستم کې شامل دي نامنظم دي. ددې سیندونو زیاتره اوبه د بارانونو په واسطه او تریوې اندازې پورې د استرالیا د الپ د واورو د ویلي کیدو په اساس منځ ته راځي. له همدې امله د اوبو ډېر زیات د بت په دوبي کې وي. یعنې کله چې د اوبو سطحه د مورې او دارلینګ په سیندونو کې لوړه شي، پرهوارو دښتو وراوړي او کله هم د تخریباتو او ویجاړولو لامل ګرځي. په دې وخت کې سیندونه له ځانه سره ډېر تخریب شوي توکي او د ډبرو ټوټې وړي، چې د بیړۍ چلولو کارونه له ستونزو سره مخامخ کوي. د مورې - دارلینګ د سیستم سیندونه اقتصادي اهمیت هم لري، ځکه د هغو له اوبو څخه د ځمکو په خړو بولو کې ګټه اخیستله کېږي.



په شمال او شمال ختیځ کې مهم سیندونه عبارت دي له: میشل (Mitchell) او فلیندرز (Flinders) څخه چې د گریټ دیوای دینګ د غره له شمال ختیځ څخه سرچینه اخلي او دکارپنتاریا خلیج ته توپیری. همدارنگه د ویکتوریا Victoria، دلی (Daly) او اورد (Ord) سیندونه چې د استرالیا په شمال کې بهیږي او د تیمور سمندرګي ته توپیری د یادولو وړ دي.

د لویدیځې استرالیا ټولې برخې د اوبو له کمښت سره مخامخ دي.

یوازې د هغې ډیرې لږې پرتې سیمې په ځانګړې توګه لنډې لمنې یې د خپلو لوړو برخو سره ډېر خوږونه لري، چې د بارانونو په وخت کې د اوبو نه ډکیري. د کال په زیاتره موده کې دا خوږونه وچ وي، ځکه حتی ددې برخې



په ډیرو لرو پرتو سیمو کې وچکالي په کال کې تر ۳۰۰ ورځو پورې دوام مومي. د استرالیا د سطحې اوبو سرچینې سره له دې چې زیاته برخه یې تر وې دي د خلکو اړتیا نه پوره کوي، خو استرالیا د ځمکې لاندې اوبو ډېرې زیرمې لري. په دې لویه وچه کې د ځمکې لاندې اوبو څخه د ګټې اخیستنې لپاره بېلابېلې حوزې تر مطالعې لاندې نیول شوي دي، چې د صنایعو او څرخایونو د اړتیا وړ اوبه برابروي.

دا اوبه د ډېر منرالیزه کیدو له امله د څښلو او د کروندو د څړوبولو لپاره دومره ګټورې نه دي. (د ځمکې لاندې اوبو) ډېره لویه حوزه په نړۍ کې

هغه پراخه حوزه ده، چې د کارپنتاریا له خلیج څخه یې د دارلینګ تر حوزې پورې پراختیا موندلې ده. په استرالیا کې په ټولیزه توګه د ۶۵۰۰ په شاوخوا کې د ځمکې لاندې اوبو څاګانې شته دي.

د ټولګي دننه فعالیت:

زده کوونکي دې په ډلو وویشل شي، په دې هکله دې چې ولې د استرالیا سیندونه غیر ثابت رژیم لري بحث وکړي او دخپل بحث نتیجه دې نورو ته وړاندې کړي.

پوښتنې:

- ۱- ایا د ځمکې لاندې اوبه په استرالیا کې د خلکو ستونزې رفع کولای شي؟
- ۲- د هغو سیندونو نوم واخلئ چې د استرالیا په شمال او شمال ختیځ کې پراته دي؟
- ۳- د استرالیا د سیندونو د اوبو بهیر د کال په کوم موسم کې ډېر وي.
- ۴- ولې د موري - دارلینګ د سیندونو سیستم نامنظم دی؟
- ۵- د موري - دارلینګ سیندونه کومې اقتصادي ګټې لري؟

له ټولګي څخه بهر فعالیت:

د استرالیا د لوېې وچې نقشه رسم کړئ او په هغې کې سیندونه په ځانګړې رنگ سره په نښه کړئ او نورو ته یې وړاندې کړئ.



د استرالیا ډبر لوی مالګین جهیل کوم دی؟

له استرالیا څخه پرته د اقیانوسپي په نورو ټاپوګانو کې مهم جهیلونه نشته. ددې ټاپوګانو د طبیعي جوړښت شرایط داسې دي چې د جهیلونو د پیدایښت لپاره یې لارې چارې نه دي برابرې کړي. د استرالیا له مهمو جهیلونو څخه یو د ایر (Eyre) جهیل دی چې په استرالیا کې ډبر لوی مالګین جهیل دی. دا جهیل د استرالیا د سوېلي ایالت په شمال لویدیځ کې د سیمپسون (Simpson) د دښتې په سوېل کې پروت دی.

د ایر جهیل له دوو برخو څخه جوړ شوی دی چې یو یې د شمالي ایر لوی جهیل او بل یې د سوېلي ایر کوچنی جهیل دی او د یوه طبیعي کانال په وسیله سره نښتي دي. د ایر جهیل د ملي پارک په سیمه کې پروت دی. د استرالیا ډبره ژوره نقطه (کابو ۱۵ متره د سمندر له سطحې څخه ټیټه) هم په همدې جهیل کې پرته ده.

د ایر جهیل په سوېل کې د تورنس (Torrens) او ګاردنر (Gairdner) په نومونو نور جهیلونه هم شته چې د ځمکې سطحه، یعنی بستری یې هم د مالګې په وسیله پوښل شوی دی. کله د ډبرې تودوخې له امله ددې جهیلونو اوبه براس کېږي او وچېږي. د استرالیا نور جهیلونه چې د استرالیا په سوېل لویدیځ او لویدیځ کې پراته دي، کارنګي (Carnegie)، بارلي (Barlee)، مور (Moore) او داسې نور دي.



د ټولګي دننه فعالیت:

د استرالیا د ۵۷ مخ نقشې ته وګورئ هغه جهیلونه چې نومونه یې واخیستل شول د نقشې پرمخ یې په نښه او وښیاست.

پوښتنې:

- ۱- د استرالیا ډېره ټیټه نقطه په کوم جهیل کې پرته ده؟
- ۲- داسترالیا د مهمو جهیلونو نومونه واخلي؟
- ۳- څرنگه داسترالیا دځینو جهیلونو د ځمکې سطحه او یا بستر د مالګې په واسطه پوښل شوی دی؟

له ټولګي څخه بهر فعالیت:

د استرالیا جهیلونه د افریقا له جهیلونو سره پرتله کړئ، توپرونه او ورته والی یې په څو کرښو کې ولیکئ.

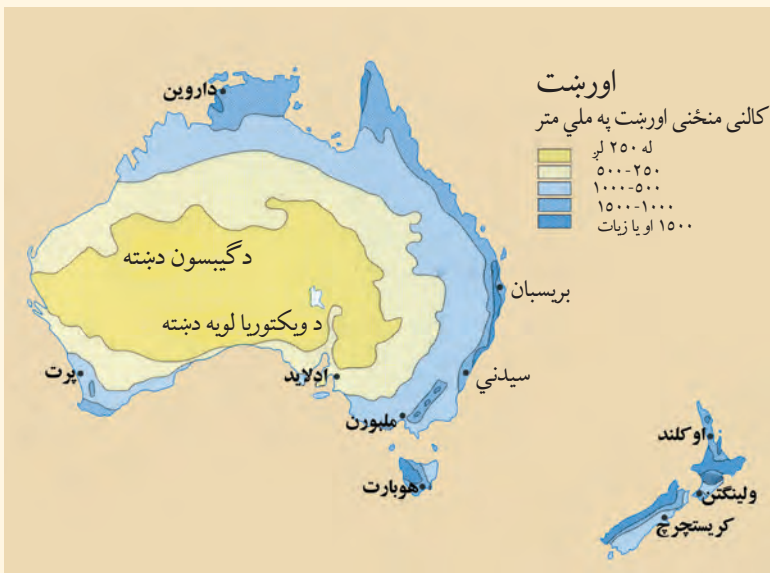


پورتني نقشې ته وگورئ. د استرالیا اقلیم څرنگه دی؟

په استرالیا کې د فصلونو بدلون ځکه منځته راځي چې د مرغومي د میاشتې په لومړي ورځ لمر د جدي پر دایرې (د سویلي عرض البلد په $23\frac{1}{2}$ درجو) باندې عمود لگيږي؛ نو ځکه په سویلي نیمه کره کې اوړی پیل کیږي. څرنگه چې استرالیا په سویلي نیمه کره کې موقعیت لري نو ځکه هلته د اوړي موسم وي. برعکس په شمالي نیمه کره کې ژمی وي چې دا موضوع د ځمکې د محور د کوروالي (میلان) تابع ده. که چېرې په شمالي نیمه کره کې اوړی وي په جنوبي نیمه کره کې به د ژمي موسم وي.

د استرالیا د اقلیم یوه ډیره مهمه ځانگړنه هلته د لمر لرونکو ورځو ډېروالی دی. په عمومي توگه استرالیا یو تود هېواد شمېرل کېږي، د جدي کرښه یې له منځ څخه تیرېږي تود دوی او معتدل ژمی لري. د استرالیا زیاته برخه تر استوا لاندې اقلیم (سب تروپیک) او یوه شمالي برخه یې استوایي اقلیم لري. د استرالیا د مساحت لږ تر لږه په دريو کې دوې برخې داسې وچه ده چې د کښت او کروندې وړتیا نه لري. د استرالیا په شمال کې، دوی موسمي بارانونه لري، خو ددې هېواد په سوېل کې اورښت لرونکي بادونه، لویدیځ بادونه دي چې د ژمي په اوږدو کې لگيږي. د استرالیا په ځینو سیمو کې اورښت ډېر لږ دی او امکان لري چې د وچکالیو سبب شي. د استرالیا $\frac{3}{4}$ برخې په شاوخوا په کال کې د ۲۵۰ ملي مترو څخه لږ اورښت لري چې په دې سیمو کې یې کرڼه ډېره کمه ده. د استرالیا له $\frac{1}{3}$ نه لږه برخه، چې زیاتره یې غرنۍ برخې دي په کال کې د ۵۰۰ ملي مترو په شاوخوا کې اورښت لري.

- استرالیا د آب او هوا له نظره کولای شو په څو سیمو وویشو:
- ۱- حاره یی توده اب او هوا له لاندې دوبي سره په شمال کې.
 - ۲- معتدله توده اب او هوا دیوه وچ فصل سره د کویزلند په سیمه کې.
 - ۳- توده معتدله او لمدې اب او هوا د جنوبي ویلز په خنډه او ویکتوریا کې.
- باید یادونه وکړو چې د استرالیا زیاتې مرکزي او لویدیځې برخې صحرايي اقلیم لري.^(۱)



د ټولګي دننه فعالیت:

د استرالیا د آب او هوا نقشې ته وګورئ او اقلیمې بېلې بېلې سیمې پکې په نښه او وښایاست.

پوښتنې:

- ۱- د استرالیا کومې سیمې صحرايي اقلیم لري؟
- ۲- د استرالیا کومې سیمې په منځنۍ توګه زیات کلنی اورښت لري؟
- ۳- ولې د استرالیا اب او هوا توده ده؟

له ټولګي څخه بهر فعالیت:

په دې هکله چې ولې د استرالیا موسمونه د شمالي نیمې کرې د فصلونو معکوس دي، معلومات راټول او وړاندې یې کړئ.

(۱) منبع: د پوهاند عارض د اقلیم پېژندنې کتاب ۱۳۸۶.

د استرالیا سیاسي جغرافیه



استرالیا څرنگه اداره کېږي؟

استرالیا مشروطه شاهي فدرالي دولت یا پارلماني پاچاهي ده، چې د انگلستان ملکه یې په تشریفي توګه د دولت په سر کې ده. خو استرالیا په حقیقت کې یو فدرالي دولت دی چې اووه ایالتي پارلمانونه لري او هر پارلمان د هغه ایالت اړوند کارونه سرته رسوي او یو عمومي او ګډ پارلمان د استرالیا په مرکز، یعنی د کانبرا په ښار کې لري، چې د هېواد ټولې دندې سرته رسوي. دارنګه حکومت د امریکا له متحده ایالاتو او کانادا د فدرالي حکومت سره ورته والی لري. ددې هېواد رسمي ژبه انګلیسي او پلازمینه یې د کانبرا ښار دی. د نوموړي هېواد زیاتره خلک د عیسوي دین پیروان دي. که د استرالیا سیاسي نقشې ته وګورئ، وینئ چې استرالیا په شپږو ایالتونو او دوه سیمو ویشل شوې، چې عبارت دي له:

- ۱- نیوساوت ولز (New South Wales) (جنوبي نوی ولز) چې په هغه کې د استرالیا دوه لوی ښارونه یعنی سدني (Sydney) چې د همدې ایالت مرکز دی او کانبرا (Canberra) چې د استرالیا پلازمینه ده موقعیت لري. د سدني ښار، د استرالیا ډېر لوی ښار، ډېر مهم بندر او ددې هېواد مالي مرکز دی.
- ۲- د ویکتوریا (Victoria) ایالت، چې مرکز یې ملبورن (Melbourne) دی.
- ۳- کوینزلند چې مرکز یې بریسان (Brisban) دی.
- ۴- جنوبي استرالیا چې مرکز یې د ادلاید (Adelaid) ښار دی.

- ۵- لویدیځه استرالیا چې مرکز یې د پرت (Perth) ښار دی.
- ۶- تسمانیا چې مرکز یې هوبارت دی او یو ټاپو دی چې د جنوبي نوی ولز په جنوب کې موقعیت لري. دوی خپلواکي سیمې یې د پلازمینې کانبرا سیمه او شمالي سیمه ده.
- د استرالیا حکومت په ۱۹۰۱م کال کې خپلواکي ترلاسه کړې ده. د استرالیا فدرالي پارلمان د ولسي جرگې چې ۱۴۸ غړي لري او د سنا (Senate) د مجلس چې ۷۶ غړي لري، لرونکی دی.

د ملبورن او سډني د ښارونو تصویر



د ټولګي دننه فعالیت:

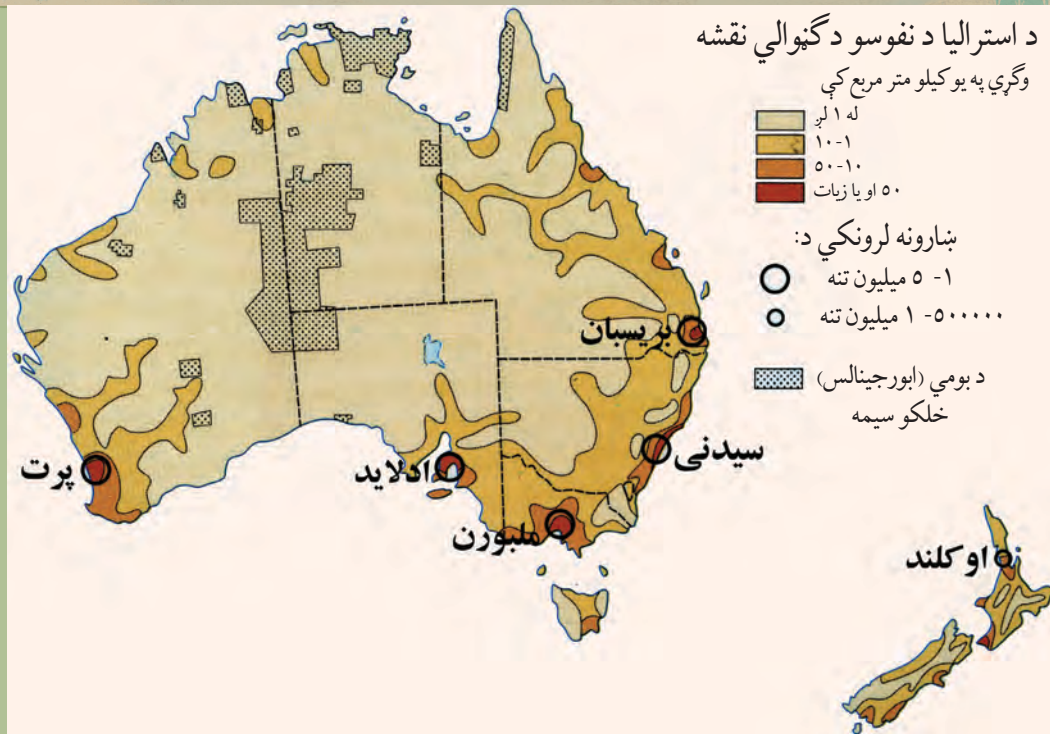
زده کوونکي دې په ډلو وویشل شي، هره ډله دې د استرالیا د حکومت په ډول بحث وکړي او د هرې ډلې استازي دې د خپل بحث نتیجه خپلو ټولګیوالوته بیان کړي.

پوښتنې:

- ۱- استرالیا په څو ایالتونو ویشل شوې ده، نوم یې واخلي؟
- ۲- استرالیا په کوم کال اوله کوم هېواد څخه خپله خپلواکي ترلاسه کړه؟
- ۳- د استرالیا د حکومت ډول څرنگه دی؟
- ۴- د استرالیا پلازمینه په کومه برخه کې موقعیت لري؟

له ټولګي څخه بهر فعالیت:

په خپلو کتابچو کې د استرالیا سیاسي نقشه رسم کړئ او د ایالتونو نومونه یې په اړوندو ځایونو کې ولیکئ.



د استراليا د نفوسو او نژاد په هکله څه پوهیږئ؟

په دې برخه کې، لومړی د استراليا د نفوسو او نژاد او وروسته د استراليا د خلکو له دين او ژبې سره آشنا کيږئ. د استراليا لومړنی استوګن هغه بوميان وو، چې د اسيا له سوېل ختيځ څخه هغه ځای ته کډوال شوي وو. کله چې اروپايان له ۱۸۳۰ م کال څخه وروسته استراليا ته ورغلل په دې لويې وچې کې له نيم ميليونو څخه لږو بومي خلکو ژوند کاوه. د استراليا بومي خلک توربخن پوستکی لري چې په (۵۵۰) قبيلو ويشل شوي وو او هره قبيله له څو طایفو څخه جوړه شوې وه. د اروپايي سپين پوستکو د کشفیاتو له پيل سره چې دوه سوه کاله دمخه ترسره شول او د هغوی او د استراليا د بوميانو ترمنځ د جګړې په نښتو سره د بوميانو د نفوسو شمېر کم شو. په دې وروستيو کې د استراليا د بوميانو شمېر کابو ۶۰۰۰۰ تنو ته رسیده، خو اوس د هغوی د نفوسو وده د ژوند د ښو شرايطو په اساس يو ځل بيا زياته شوې او شمېر يې زيات شوی دی.

د استراليا نفوس تر ۱۹۲۰ م کاله پورې ۵ ميليونو تنوته رسیده. غير انگليسي مهاجرينو هم د استراليا نفوس زيات کړ او په ۱۹۴۵ م کال کې يې وګړي (۷،۵) ميليونو تنو ته ورسيدل، په داسې حال کې چې د هغوی يوازې نيم يې انگليسي وو.

د استراليا نوي مهاجرين له المان، هالنډ، ايتاليا، پولنډ او داسې نورو هېوادو څخه ورغلي دي. په استراليا کې په ۲۰۰۸ م کال کې له ۲۰ ميليونو څخه زياتو خلکو ژوند کاوه چې د نفوسو ګڼوالی يې په منځنۍ کچه په هرکيلومتر مربع کې ۳ تنو ته رسیده.

استراليا يو له هغو هېوادو څخه دی چې ډېری خلک يې په ښارونو کې ژوند کوي. د استراليا په سلو کې

د ۸۵ په شاوخوا کې وګړي په څو مهمو مرکزونو کې استوګنه لري، په داسې حال کې چې د استرالیا په کلیو او بانډو کې پراخې سیمې له اوسیدونکو څخه تشې دي. د استرالیا د وګړو لږ تر لږه له شپږو میلیونو څخه زیات په دوو لویو ښارونو سډني او ملبورن کې ژوند کوي. لکه څرنګه چې مو د مخه یادونه وکړه پرته له بومي خلکو څخه د استرالیا د خلکو په سلو کې د (۹۰) په شاوخوا کې اروپایي سپین پوستکي (په تېره انگلیسان)، کابو ۷ په سلو کې اسیایان او کابو یو په سلو کې بومیان او نور جوړوي. سربېره پردې په دې ځای کې (دوه رګه) یا ګله نژاد، چې له سپین پوستکو او بومي خلکو څخه جوړشوي، د یادولو وړ دی.

د استرالیا د بومي (ځایي) ماشومانو یو تصویر



د ټولګي دننه فعالیت:

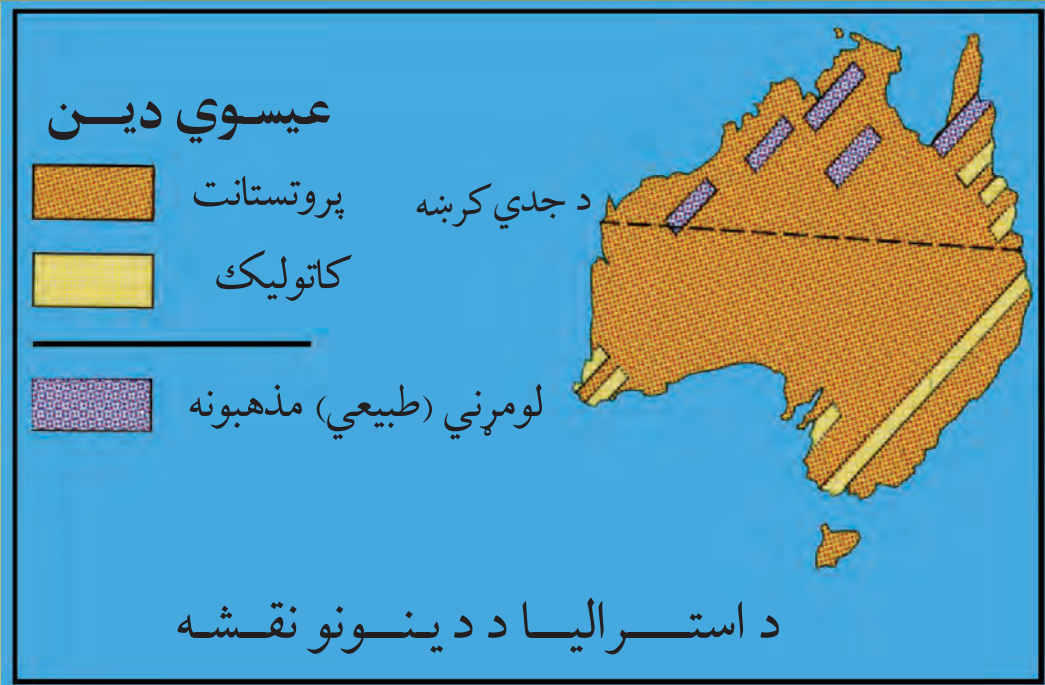
- د استرالیا د نفوسو د ګڼوالي نقشې ته وګورئ او دې لاندې پوښتنوته ځواب ورکړئ:
- ۱- په عمومي توګه د استرالیا په کومه برخه کې د نفوسو ګڼوالی زیات دی؟
 - ۲- ستاسو په نظر ولې په هغه ځای کې د نفوسو ګڼوالی زیات دی؟

پوښتنې:

- ۱- د استرالیا بومیان له کوم ځای څخه استرالیا ته ورغلي او اوس د هغو شمېر څو تنو ته رسیږي؟
- ۲- د استرالیا د اوسنیو نفوسو اکثریت کوم خلک تشکیلوي؟
- ۳- د استرالیا نفوس او مساحت له افغانستان سره پرتله او خپل نظر د هغو په باره کې وویاست.

له ټولګي څخه بهر فعالیت:

د استرالیا بومیان د نفوسو او اروپایي سپین پوستکو مهاجرینو د ځانګړنو په هکله معلومات راټول کړئ او خپلو ټولګیوالو ته یې توضیح کړئ.



په استراليا کې کوم دين ډير پيروان لري؟

په استراليا کې زياتره (ډيره کي) خلک عيسوي دي. پرته له عيسوي دين د ابتدايي مذهبونو پيروان، بت نمانځونکي او نور هم د استراليا او اقيانوسيا په ټاپوگانو کې ليدل کيږي. د اسلام د دين پيروان هم په هغه ځای کې شته چې په اقليت کې دي، يو شمېر يهوديان هم په دې لويه وچه کې ميشت دي.

د استراليا رسمي ژبه انگليسي ده. په استراليا او د اقيانوسيا په نورو ټاپوگانو کې بيلابيلې ژبې شته چې ځينې دا ژبې له يوې ريښې څخه دي او ځينې يې هم يو له بله څخه ډير توپير لري. بايد يادونه وکړو چې د انگليسانو اورده استوگنه ددې لويې وچې په غوره ټاپوگانو کې او په ځانگړې توگه په استراليا او نوي زيلاند کې ددې سبب شوې چې انگليسي ژبه په اقيانوسيا کې او په ځانگړې توگه په استراليا او نوي زيلاند کې عمومي و مومي. د اقيانوسيا د ټولو بومي ژبو په منځ کې (پولي نزي) زيات ويونکي لري.

په استرالیا کې د دینونو او د هغو د پیروانو په هکله د اضافي معلوماتو جدول

پيروان يې په فيصدي	دين
۶۸	عیسویت
۲,۱	بودیزم
۱,۷	اسلام
۰,۴	هندوایزم
۲۷,۸	نور مذهبونه

د ټولګي دننه فعالیت:

زده کوونکي دې په دوو ډلو وویشل شي. لومړۍ ډله دې په استرالیا کې د دینونو په هکله او دویمه ډله دې د ژبو په باره کې بحث وکړي او د بحث پایله دې خپلو ټولګیوالو ته بیان کړي.

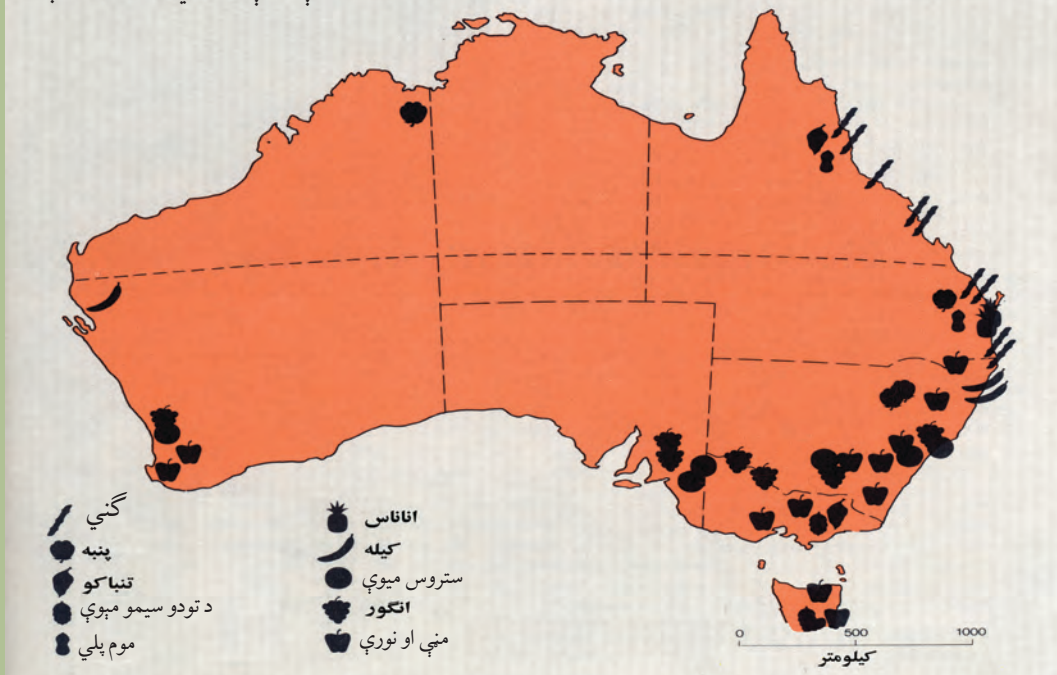
پوښتنې:

- ۱- د استرالیا رسمي ژبه کومه ده او ستاسو په نظر ولې دا ژبه د رسمي ژبې په توګه ټاکل شوې ده؟
- ۲- د استرالیا د دینونو د نقشې څخه په ګټې اخیستنې سره وویاست چې کوم دین په استرالیا کې زیات پیروان لري او ولې؟
- ۳- ستاسو په نظر په استرالیا کې د اسلام دین پیروان اصلاً له کومو اسلامي هېوادونو څخه هغه ځای ته مهاجر شوي دي؟

له ټولګي څخه بهر فعالیت:

د خپلو دوستانو او خپلوانو په مرسته په استرالیا کې د مهاجرو افغانانو په هکله معلومات ترلاسه کړئ چې افغانان او نور مسلمانان د خپلو دیني فرایضو د ادا کولو لپاره هلته څه امکانات لري؟

د استراليا د لويې وچې صنعتي نباتات او ميوې



د استراليا د اقتصادي پرمختگ نښې نښانې په څه کې ويني؟

استراليا چې لويديځ کلتور لري، داسې هېواد دی چې د ازاد بازار د اقتصاد سيستم لري او پرمخ تللی هېواد دی. ديوه تن کلنی عايد يې په منځنۍ توگه له ۲۳ زرو امريکايي ډالرو څخه زيات دی. ددې هېواد د چټک اقتصادي پرمختگ نښې په دې کې دي چې له يوه کرنيز حالت څخه په چټکۍ سره د صنعتي کيدو په حالت کې دی. په دې معنا چې په ۱۹۷۵م کال کې په سلو کې کابو ۱۵ خلک د کرنې په برخه کې بوخت وو او په اوسني وخت کې دا شمېره په سلو کې ۳ ته رسېږي. ددې هېواد د فعالو نفوسو د پاتې برخې په سلو کې ۲۶ په صنعت او په سلو کې ۷۱ د خدماتو په برخه کې بوخت دي.

د کرنې د ځمکې او د اوبو له کمښت سره سره، استراليا د کرنيزو غذايي توکو له مخې، په ځان بسيا هيواد دی. لږو وگړو او د ډول ډول اب او هوا لرونکو سيمو ددې هېواد په ځان بسياني سره مرسته کړې ده. د غنمو کرنې د استراليا په سلو کې ۶۰ کروندې ځانته اختصاص او بېلې کړې دي. د کښت سيمه يې په ويکتوريا او نيو ساوت ولز کې د ختيځو لوړو غرونو لويديځې جلگې دي. همدارنگه، زيتون او انگور د مديترانه يي اقليم په ساحه کې له جنوب لويديځ او ځينو جنوب ختيځو برخو او د معتدلو برخو کرنيز محصولات لکه: جوار، شفتالو، منې او ناک د تسمانيې د ټاپو له جنوب ختيځو سواحلو څخه لاس ته

راځي. استرالیا ته مالداري له کرنې څخه غوره ده. ډېر کلونه د استرالیا اقتصادي بنسټ په مالدارۍ تکیه درلوده. طبیعي پراخ څړ ځایونه او چمنونه چې د استرالیا د ټول مساحت په سلوکې کابو ۳۴ سیمه یې پوښلې ده، په دې لوی ټاپوکې د مالدارۍ د بشپړ رواج او پراختیا سبب شوي دي. په جنوب ختیځ کې د مورې او دارلینګ د سیندونو شاوخوا سیمې، د څارویو د ساتلو لپاره د څړ ځایونو غوره سیمې دي. دې سیمو وروسته د پسونو د روزنې د مرکز په توګه پراختیا ومونده او اوس په نیو ساوت ویلز کې د ۱۷۵ میلیونو پسونو په شاوخوا کې پیداکیږي. وروسته د څارویو د ساتلو مرکزونه، د کویزلنډ سیمو ته لیریدلې دي. د اوبو د کمښت له امله، د پسونو روزنه د لویدیځ لور ته لږه شوې او په مقابل کې یې د غوایانو ساتل زیاتېږي.



مالداري د استرالیا له اقتصادي غوره فعالیتونو څخه ده

استرالیا په نړۍ کې د وړيو د توليدوونکو او صادروونکو لویو هېوادونو له ډلې څخه ده چې محصولات یې جاپان، المان او فرانسې ته صادريږي. همدارنگه استرالیا د غوښې مهم صادرونکی هېواد هم دی، چې د غوښې صادرات یې د امریکا متحده ایالاتو، انگلستان، جاپان او کاناډا ته ترسره کېږي.

په استرالیا کې د یوې کروندې تصویر



قند هم د دی هیواد له سترو صادرونکو توکو څخه گڼل کیږي، همدا راز دغه هیواد د نړۍ د غنمو د صادرونکو هیوادونو څخه دی چې د غنمو محصولات یې د روسیې، چین او منځني ختیځ هیوادو ته صادريږي.

په استرالیا کې د انگورو د محصولاتو تصویر



د ټولګي دننه فعالیت:

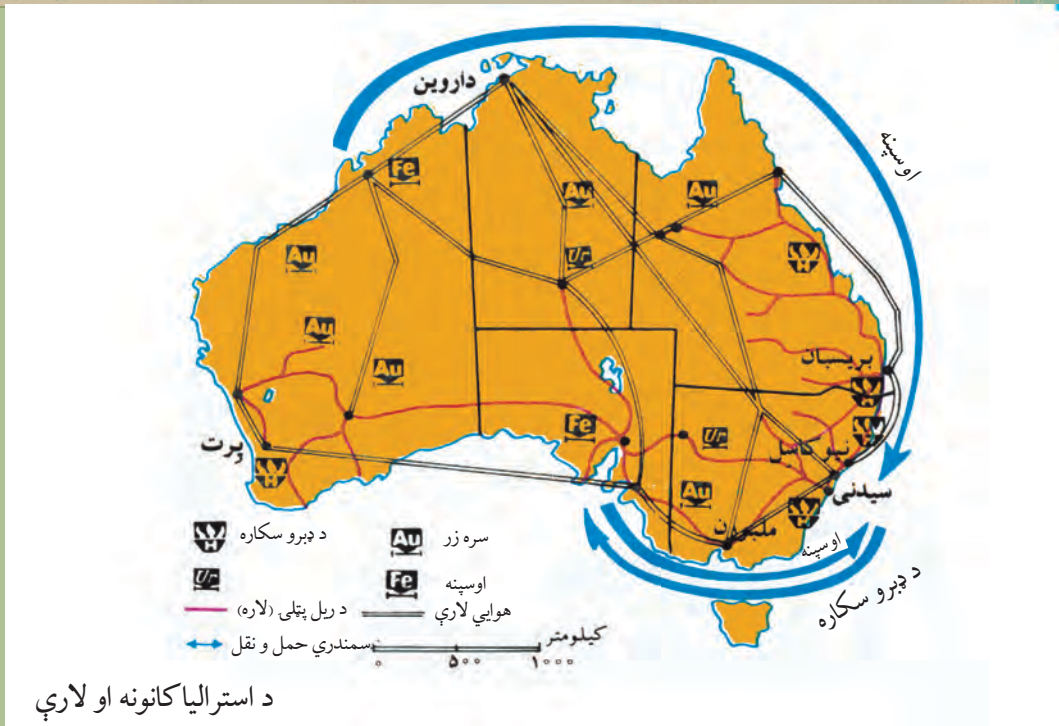
زده کوونکي دې په ډلو وویشل شي او هره ډله دې د استرالیا د نقشې څخه په کار اخیستلو سره د څپر ځایونو او د کرنیزو برخو نومونه واخلي او هغه دې د نقشې پرمخ وښيي.

پوښتنې:

- ۱- ولی مالدرای په استرالیا کې زیاته وده کړې ده؟
- ۲- کوم ډول کرنیز محصولات په معتدلو سیمو کې موندل کیږي؟ نوموړې سیمې د نقشې پرمخ هم وښيي؟
- ۳- د استرالیا د ډېرو مهمو کرنیزو او د مالداري محصولاتو نومونه واخلي؟


له ټولګي څخه بهر فعالیت:

د استرالیا د اقتصادي پرمختګ د عواملو په هکله معلومات راټول او وړاندې کړئ.



په استرالیا کې د کانونو او صنایعو حالت څرنگه دی؟

استرالیا د کاني توکو یو غوره تولیدوونکی او صادروونکی هېواد گڼل کېږي. په ۱۸۵۱م کال کې په استرالیا کې د سرو زرو شته والي د انګلیسانو او نورو اروپایانو پاملرنه ځانته راواړوله او د هغو زیات شمېر استرالیا ته مهاجر شول. دا هېواد په نړۍ کې د اوسپنې د تولید دوهم هېواد او همدا ډول د بوکسیت، چې د المونیم د تولید لپاره ورڅخه گټه اخیستل کېږي، ډېر لوی تولیدوونکی دی. نور کاني توکي چې په استرالیا کې ایستل (استخراج) کېږي عبارت دي له: سرو زرو، نکل، مس، سرپ او یورانیم څخه. استرالیا د امریکې د متحده ایالاتو څخه وروسته په نړۍ کې د یورانیمو دوهمه لویه زیرمه په واک کې لري. داسترالیا د نفتو ډېره مهمه سیمه د باس په ابناء (Bass Strait) کې ده چې د تسمانیې د ټاپو او ویکتوریا په منځ کې پرته ده. دا هېواد کولای شي



د استرالیا له صنایعو څخه یو تصویر

خپلې یوڅه نفتي اړتیاوې پوره کړي. په همدې سیمه کې د طبیعي گازو تولیدات هم ترسره کېږي. استرالیا د ډبرو سکرو له صادرونکو هېوادونو له ډلې څخه هم دی.

له دوهمې نړیوالې جگړې څخه وروسته (د ۱۹۵۰ م کال څخه وروسته) د استرالیا صنایعو زیات پرمختګ کړی دی. په ۱۹۹۹ م کال کې ددې هېواد په کورنیو تولیداتو کې د صنایعو برخه په سلو کې شپږ ویشته ته رسیدلې وه. ددی هېواد لرغوني صنایع د حیواني محصولاتو پربنسټ جوړ شوي وو، خو په اوسنۍ حالت کې د استرالیا د استهلاکي مالونو په صنایعو او درنو صنایعو کې چټکه وده لیدل کېږي. د بېلګې په توګه په دې وروستیو ۳۰ کلونو کې ددی هېواد د پولادو تولید شپږ برابره زیات شوی دی. د اوسپنې او پولادو صنایع هم زیاتره په نیو ساوت ولز کې ځای پر ځای شوي دي. له پولادو، د ودانیو له صنایعو او کاغذ جوړولو پرته، نور غوره صنایع یې د غذایی توکو، کیمیاوي توکو او ټوکرانو څخه عبارت دي. د استرالیا صنایع زیاتره په هغو ځایونو کې متمرکز او ځای پر ځای دي چې د صنایعو د منځته راتلو لپاره پکې لومړني امکانات برابر دي او په ځانګړې توګه په هغو ځایونو کې چې د خرڅلاو او لګښت لپاره پکې لوی بازارونه شته دي. د استرالیا په صادراتو کې پر غنمو، غوښې او وړۍ سربیره چې مخکې مو ورځنۍ یادونه وکړه، د ډبرو سکاره، سره زر او ماشین الات شاملېږي. چې د ۶۹ میلیارده ډالرو په مجموعي ارزښت سره جاپان، د اروپا اتحادیې، د امریکا متحده ایالاتو، چین، او نورو اسیایي هېوادونو ته صادر شوي وو. د استرالیا واردات زیاتره ماشین الات، ترانسپورتي وسایل، کمپیوټر، مخابراتي وسایل، د دفترونو سامان الات، د خاورو تېل او پټرولي محصولات دي چې د ۷۷ میلیاردو ډالرو په ارزښت په ۲۰۰۰ م کال کې د اروپا له اتحادیې، د امریکا له متحده ایالاتو، جاپان او نورو اسیایي هېوادونو څخه وارد شوي وو.

د ټولګي دننه فعالیت:


زده کوونکي دې په دوو ډلو وویشل شي. لومړۍ ډله دې د درس د متن او نقشې څخه په ګټې اخیستوسره د کانونو په هکله او دوهمه ډله دې د استرالیا د صنایعو په هکله سره بحث وکړي او د خبرو پایله دې خپلو ټولګیوالو ته وړاندې کړي.

پوښتنې:

- ۱- یورانیم د استرالیا په کوم ایالت کې شته دي؟
- ۲- د اوسپنې کانونه زیاتره د استرالیا په کومه برخه کې دي؟
- ۳- د استرالیا غوره صنعتي سیمې په کوم ځای کې دي؟

له ټولګي څخه بهر فعالیت:

د استرالیا د وارداتو او صادراتو په هکله معلومات راټول او وړاندې یې کړئ.



د استرالیا په مرکزی جگړو کې د ریل یو تم ځای

داسترالیا ځمکنی، د اوبو او هوایی ترانسپورت په کومه سطحه کې دی؟

حمل او نقل په استرالیا کې د واټن له ستونزې او د نفوسو د نابرابر ګڼوالي سره مخامخ دی. له بلې خوا د پراخو دښتو او د هېواد د ډېر پراخوالي شتوالی نه دی توایندلی چې په دې ځمکه کې د پراخو شبکو د جوړولو مخه ونیسي. د ریل لومړنۍ کرښه په ۱۸۵۴ م کال کې د ملبورن او پورت - ملبورن ترمنځ ایستل شوی ده. په استرالیا کې د ۴۰ زرو کیلومترو په شاوخوا کې د اوسپنې لارې (د ریل کرښې) او له ۹۰۰ زرو کیلومترو څخه زیاتې لویې لارې او د موټرو لارې شته دي. ددې لارو زیاتره د استرالیا په ختیځو، سوېلي او سوېل لویدیځو برخو کې جوړې شوي دي. ددې هېواد د اوسپنې دلارې ختیځه څانګه چې له شمال څخه سوېل خواته غځېدلې ده د بریسیان، سدني او ملبورن ښارونه له یوې سره نښلوي. د اوسپنې دا لاره په سوېل کې لویدیځ لورته غزېدلې ده او د ادلاید څخه له تېرېدو وروسته د پرت بندرته د استرالیا په سوېل لویدیځ کې پای ته رسېږي.

د استرالیا له ډېرو سیندونو څخه د هغو د چټک بهیر له امله د اوبو د کورنیو لارو لپاره ګټه نه اخیستل کېږي، خو د استرالیا په سوېل کې له جهیلونو او تریو حده پورې له سیندونو څخه د حمل او نقل لپاره ګټه اخیستل کېږي. استرالیا د بېړۍ چلولو ۵۲ بندرونه لري، چې له هغې جملې څخه سلېني، ملبورن،

نيوكاسل، ادلايد، برسبان، هوبارت او نور د يادولو وړ دي. د استراليا بندرونه داوبو له ليارې نه يوازې د توکو د وړلو او راوړلو لپاره په نړۍ کې اهميت لري، بلکې د استراليا په دننه کې هم د حمل او نقل لپاره د بېلابېلو ايالاتو په منځ کې د استفادې وړ دي. د استراليا هوايي لارو د دوهمې نړيوالې جگړې څخه وروسته زياته پراختيا موندلې ده. د استراليا هوايي ترانسپورت د هغو ښارونو تر منځ چې سره ډير واټن لري د ډېر اهميت وړ دی او ښه پرمختگ يې کړی دی. ټول لوی ښارونه يې هوايي ډگرونه لري. په دې هېواد کې ۴۴۱ لوی او واړه هوايي ډگرونه شته چې له لازمو اسانتياوو څخه برخمن دي.

د ټولگي دننه فعاليت:

زده کوونکي دې په درې ډلو ووېشل شي او د استراليا د ځمکنيو، اویزو او هوايي مواصلاتي لارو په هکله دې سره بحث وکړي او د خپل بحث پایله دې خپلو ټولگيوالوته وړاندې کړي.

پوښتنې:

- ۱- استراليا څو ډوله مواصلاتي لارې لري؟ د هغو نومونه واخلي.
- ۲- ستاسو په نظريه استراليا کې کوم ډول ترانسپورت ښه پرمختگ کړی دی؟
- ۳- ستاسو په نظر د توکو وړل او راوړل د کوم ډول ترانسپورت په وسيله ارزانه تماميږي او ولې؟

له ټولگي څخه بهر فعاليت:

د استراليا د مواصلاتو په هکله له انټرنټ، او د کتابتون څخه په گټې اخستنې سره يو مخ مقاله وليکئ.



د آسترالیا او اقیانوسیه د لویې وچې نقشه

د اقیانوسیه ټاپوګان په کوم سمندر کې موقعیت لري؟

اقیانوسیه د ډېرو ټاپوګانو نوم دی چې په آرام سمندر کې موقعیت لري. که څه هم آرام سمندر په یوازې توګه د ځمکې د کرې د مساحت په دريو کې یوه برخه نیولې ده، خو د اقیانوسیه ټاپوګان له (۱۳۰۰۰۰۰) کیلومترو مربع څخه لږ مساحت لري.

د نوي ګیني ټاپو (Papua New Guine) په سلو کې د ۶۰ په شاوخوا کې او نوي زیلانډ (New Zeland) په سلو کې ۲۰ د اقیانوسیه مساحت په برکې نیولی دی. او پاتې په سلو کې ۲۰ نور ټاپوګانو پورې اړه لري. د اقیانوسیه ټاپوګان د جغرافیه له نظره په لاندې درې ډلو ویشلي دي:

- **ملانزیا (Melanesia)** چې د آسترالیا په شمال او ختیځ او د استوا کرښې په سوېل کې پرته ده او د تورانو د ټاپوګانو معنا ورکوي. نوي ګینه ددې ټاپوګانو له ډلې څخه ده.

- د استوا د کرښې په شمال، د فلپین په ختیځ او د جاپان په سوېل کې نور ټاپوګان موقعیت لري چې هغوته **میکرونزییا (Micronesia)** یا کوچني ټاپوګان ویل کېږي.

- د آرام سمندر په مرکزي برخو کې یو شمېر نور ټاپوګان پراته دي چې د **پلی نزییا (Polynesia)** یا د زیاتو ټاپوګانو په نامه یادېږي. ددې ټاپوګانو له جملې څخه هاوایی په شمال او نوي زیلانډ په سوېل کې د یادولو وړ دي. اوقیانوسیه د جغرافیایي عرض او سمندر تر اغېزې لاندې، توده او سمندري اب و هوا لري. په اقیانوسیه

کې د لنډه بل او تودوخې کچه اکثر زیاته وي او په ټول کال کې یو ډول ده. گمان کېږي چې د اقیانوسپې لومړني اوسیدونکي په زرگونو کاله د مخه له آسیا څخه هغه ځای ته مهاجر شوي دي. د اقیانوسپې ټاپوگانو ته د رسیدلو لپاره لومړنیو مهاجرینو له کوچنیو بهریو څخه گټه اخیستې ده او په هغو ځایونو کې چې د پله جوړولو امکان درلوده پول یې جوړ کړې دي. د څو پېړیو په اوږدو کې خلک لږ لږ په بېلابېلو ټاپوگانو کې میشت شول. په ۱۷۰۰ او ۱۸۰۰ میلادي کلونو کې اروپایي کاشفینو د اقیانوسپې له ډېرو ټاپوگانو څخه لیدنه وکړه او د ملانزیا، پلي نزییا او میکرونزییا د خلکو ظاهري او څرگند توپیر د هغو پاملرنه ځانته راوگرځوله. ددې ټاپوگانو اوسیدونکي معمولاً بیلا بیلې ژبې، دینونه او دود او دستورونه لري. وایي چې هغه خلک چې په دغو پورتنیو دريو سیمو کې ژوند کوي له



د ساموایو بومي اوسیدونکي چې زوی ته دکباتو د بنکار د بادولو په حال کې دی.

بېلابېلو نژادونو سره تړاو لري او ان دا ویل کېږي چې د ملانزیایي ځینې اوسیدونکي د افریقا او هندي توریوستکو مهاجرو څخه دي.

سربېره پردې د ټاپوگانو تر منځ هم مهاجرتونه ترسره شوي، اروپایان او اسیایان هم په خپلو مهاجرتونو کې له ځایي خلکو سره گډ شوي دي.

- ملانزیان د اقیانوسپې د ډېرې ټیټې ونې لرونکي خلک دي، توریوستکی لري.

- میکرونزیان له ملانزیانو څخه یوڅه جگه ونه او روښانه پوستکي لري.

- پلي نزیان نسبت نورو ته ډېره جگه ونه لري او د یادوشویو دريو نژادونو تر منځ ډیر روښانه پوستکي لري.

د ټولگي دننه فعالیت:

۱- زه کورنۍ کې دې په دريو ډلو وویشل شي. لومړۍ ډله دې د ملانزیایي ټاپوگان، دوهمه ډله دې د پلي نزیایي ټاپوگان او درېیمه ډله دې د میکرونزیایي ټاپوگان د نقشې پرمخ په نښه او وښيي.

پوښتنې:

۱- د اقیانوسپې د دريو لویو ټاپوگانو نومونه واخلئ؟

۲- د اقیانوسپې د ټاپوگانو خلک له نژادي پلوه په څو ډلو وویشل شوي دي؟ د هغو نومونه واخلئ؟

له ټولگي څخه بهر فعالیت:

۱- تیر یې نقشې له مخې د اقیانوسپې غوره ټاپوگان لست کړی.



ناریال د اقیانوسیی ډیر غوره محصول دی

د اقیانوسیی په ټاپوگانو کې کرنیز حالت څرنگه دي؟

د اقیانوسیی د ټاپوگانو ډیر غوره کرنیز محصول ناریال دي. کبله او د ډوډی رنگه مېوه لرونکې ونې هم ددې ټاپوگانو د ونو د غوره محصولاتو څخه دي. کاکائو، مرچ او قهوه یې هم د غوره کرنیزو محصولاتو له ډلې څخه شمېرل کېږي. په ټولو ځایو کې یې د خلکو ژوند د کرنې له لارې پرمخ وړل کېږي. په اقیانوسیی کې دودیزه کرنه رواج لري او ځمکې د کورنیو له خوا کرل کېږي. په ډېرو ټاپوگانو کې د خلکو د کښت او کب نیولو حق خوندي شوی دی. په اوسني وخت کې د اقیانوسیی د ټاپوگانو د کروندو زیاته برخه د اروپایانو په واک کې ده.

خو ځینې کروندگر د خپلو ځمکو خاوندان دي. په ځینو کلیو کې د کرنې ځمکې د یو کلي پر ټولو خلکو پورې اړه لري او ټول پکې گډون لري. د اقیانوسیی ډیر پرمخ تللی هېواد نوی زیلانډ دی.

د ډوډی ونه



د ټولو ټاپوگانو یوازینی صادراتي محصول کوپرا (Copra) د ناریال مغز دی. د ناریال له غوړو څخه د نباتي غوړیو او صابون په جوړولو کې هم گټه اخیستل کېږي او نوره برخه یې د نړۍ بېلابېلو هېوادونو ته صادريږي. د کیلې صادرات هم په دې ټاپوگانو کې له ځانگړې اهمیت څخه برخمن دي. د میکرونزیا او ملائزیا په ټاپوگانو کې د فسفاتو زیرمې مخ په تمامیدو دي. له دې کانونو څخه هر کال ۲،۶ میلیون ټنه گټه اخیستل شوې ده.

د کاني توکو له نظره ډېر بډای پاپو نوی کالدونیا ده، چې په سلو کې ۹۰ صادرات یې کاني توکي او فلزات جوړوي. د اقیانوسیې د تولیدي فلزاتو له ډلې څخه نکل، کروم، اوسپنه، کوبالت، منگنیز، سره زر او مس دي.

د اقیانوسیې ډېر غوره صنایع د کرنیزو محصولاتو بنسټ لري. د ناربال د غوړیو جوړول، صابون، بوره او

د ساده او لومړنیو بهرني جوړولو د صنایعو یو تصویر



کنسرو جوړول له دې ډلې څخه دي. د سلیمان په ټاپوگانو، نوي گیني او لویدیځې سامواکې د ترکاني د لرگیو د گټې اخستنې لپاره د اړه کولو کارخانې جوړې شوې دي. د مکرونزیا او پلي نزییا په ټاپوگانو کې د صنعت وده ډېره لږه ده او خلک یې زیاتره په لاسي کارونو لگیا دي.

پارويي کوچني بیړي د اقیانوسیې په سیمې کې د وړلو او راوړلو لپاره دودیزه وسیله ده او د کلیو خلک له هغو څخه د لنډو مسافرتونو او د مالونو د وړلو او راوړلو لپاره گټه اخلي. د اوږده واټن مسافرتونو لپاره د بادباني او یا ماشین لرونکو بهرنيو څخه گټه اخیستل کیږي. په اوسني وخت کې د اقیانوسیې خلک له یو بل سره د اړیکو لپاره او یا د نړۍ له نورو هېوادوسره د اړیکو لپاره بهرنيو او هوایي الوتنو

ته اړتیا لري.

له سمندري ترانسپورټ څخه یو تصویر



د ټولگي دننه فعالیت:

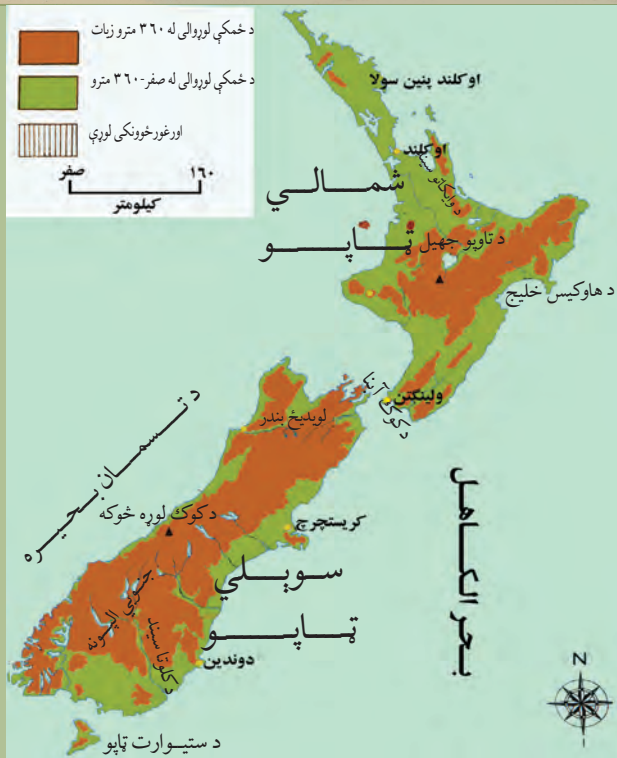
د اقیانوسیې د ټاپوگانو د کرنیزو تولیداتو په هکله دوه کسيزه بحث وکړئ او د خپلو خبرو پایله خپلو ټولگیوالوته بیان کړئ.

پوښتنې:

- ۱- د اقیانوسیې د ټاپوگانو ډېر غوره کرنیز تولیدات کوم دي؟
- ۲- د اقیانوسیې د ټاپوگانو د ډېرو غوره کاني توکو نوم واخلئ؟
- ۳- د اقیانوسیې د ټاپوگانو د صنایعو بنسټ کوم توکي جوړوي؟

له ټولگي څخه بهر فعالیت:

د اقیانوسیې په ټاپوگانو کې د حمل او نقل، مواصلاتي امکاناتو او خنډونو په هکله معلومات راټول او سبا یې په ټولگي کې وړاندې کړئ.



د اقیانوسې مشهور هېواد نوی زیلاند څرنګه جغرافیایي ځانګړنې لري؟

د نوي زیلاند هېواد په اقیانوسې پورې اړوند دی، چې د بحر الکاهل په جنوب لويديځ کې د ۱۶۰۰ کیلومترو په واټن د استرالیا په ختیځ کې موقعیت لري. دا هېواد د شمالي ټاپو او جنوبي ټاپو په نومونو دوه اصلي ټاپوګان او یو شمیر نور واړه ټاپوګان لري. د تسمانیا سمندرګي دا خاوره له استرالیا څخه بېله کړې ده. جنوبي ټاپو ډېره پراختیا لري او د کوک ابناء (Cook Strait) دا دواړه ټاپوګان له یوبل څخه بېل کړي دي. د نوی زیلاند د مساحت نژدې درې پرخلور برخې غرونو او غونډیو پوښلې دي چې ډېر مهم یې جنوبي الپونه (South Alps) نومېږي او دشمال ختیځ - جنوب لويديځ پر لور د سمندرګي په اوږدو کې غزیدلي دي. د جنوبي الپونو ډېره لوړه څوکه د کوک څوکه ده، چې د ۳۷۰۰ مترو څخه زیات لوړوالی لري. څرنګه چې نوی زیلاند زیاته پراختیا نه لري نو اوږده سیندونه هم پکې نه لیدل کېږي. د وایکاتو (Waikato) او کلوتا (Clutha) سیندونه ددې هېواد له نامتو سیندونو څخه دي. د نوي زیلاند زیاتره سیندونه لنډ دي او زیاته چټکتیا لري او له همدې امله د بریښنا د تولید او تامین لپاره ډېر مناسب دي. ددې هېواد له سیندونو څخه په اوبولګولو کې هم ګټه اخیستله کېږي. د استرالیا په خلاف نوی زیلاند د ډېراران لرونکی هېواد دی او په ټولیزه توګه معتدل او سمندري لوند اقلیم لري.

د نوي زيلاند بشري او اقتصادي حالت څرنگه دی؟

نوی زيلاند له ۲۷۰ زره كيلومتره مربع څخه زياته پراختيا لري. دغه هېواد په ۲۰۰۶ م كال كې د څلورميليونو څخه زيات وگړي درلودل. د نفوسو گڼوالی يې په هر كيلومتره مربع كې ۱۵ تنو ته رسېږي. ددې هېواد په سلوكې اويو خلك اروپايي اصله دي، چې زياتره يې د انگلستان له هېواد څخه نوي زيلاند ته كېوال (مهاجر) شوي دي. خلك ددې هېواد په ټولو سيمو كې ژوند كوي او د درې ميليونو په شاوخوا كې يې په شمالي ټاپو او يو ميليون يې په جنوبي ټاپوكې ميشته دي. دنوي زيلاند مهم ښار اوكلند (Auckland) دی چې په هغه كې د نفوسو گڼوالی زيات دی او د يوميليون په شاوخوا كې وگړي لري.

د نوي زيلاند پلازمينه د ولينگتن ښار



ولینگتن چې د نوي زيلاند مرکز دی له ۳۰۰ زرو څخه زيات نفوس لري. نوي زيلاند يو عصري او پرمخ تللی صنعتي هېواد دی. ددې هېواد زياتره ځمکې غرنۍ دي او د خاوروي زياته برخه يې په ساحلي جلگو کې کرکيلې ته برابره ده، چې په هغو کې په عمومي توگه غنم، اوربشې، جودر او د څارويو لپاره وابنه کرل کيږي. مناسبې اب او هوا پراخو چمن زارونو او په کرنه کې له نويو فنونو او وسيلو څخه گټې اخيستنې ددې هېواد د کرنې په پرمختگ کې مرسته کړې ده. په دغه هېواد کې کرنه وروسته له مالدارۍ څخه په دوهمه درجه کې راځي. د څارويو روزنه، په ځانگړې توگه پسه ددې هېواد په اقتصاد کې ځانگړی اهميت لري.

طبيعي بڼه چاپيرنال، په نوي زيلاند کې مالداري پراخه کړېده.



ددې هېواد غوره کاني توکي فلزات دي، چې له هغې جملې څخه سره زر ددې هېواد د سپين پوستو د مهاجرت په لومړيو کلونو کې له مهمو صادراتو څخه و او د ډبرو سکاره هم په دې هېواد کې موندل کېږي. د نوي زيلاند صنعت د خوراكي توکو د توليد، د کاغذ صنايعو، لرگيو او سيمه ييزو لگښتونو پر بنسټ باندې ولاړ دی، چې په هغو کې د سيندونو د اوبو له پراخو منابعو او برېښنا څخه گټه اخستل کېږي او په سلوکې ۱۸ ملي عايد جوړوي.

داوبو د برېښنا له قوې څخه گټه اخيستل



د ټولگي دننه فعاليت:

زده کوونکي دې د نوي زيلاند له نقشې، عکسونو او د لوست له متن څخه په گټې اخيستلو سره، د لوست مهم ټکي راټول کړي او په ټولگي کې دې بيان کړي.

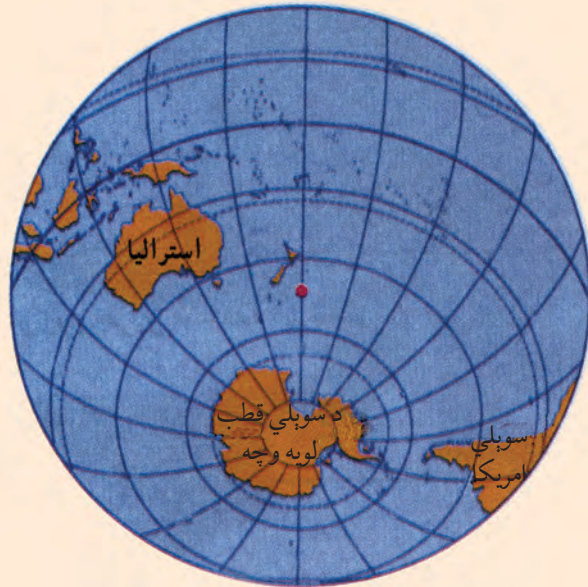
پوښتنې:

- ۱- نوی زيلاند له څو لويو ټاپوگانو څخه جوړ شوی او څه نومېږي؟
- ۲- د نوي زيلاند د نفوسو زيات شمېر په کوم ټاپو کې استوگنه لري؟
- ۳- د نوي زيلاند دغوره کرنيزو، کاني او صنعتي پيداوارو نوم واخلي؟

له ټولگي څخه بهر فعاليت:

له نقشې څخه په استفادې سره د نوي زيلاند موقعيت د طول البلد او عرض البلد د کرښو په اساس تثبيت او وليکئ.

انتارکتیکا (جنوبي قطب)



په جنوبي نيمه کره کې د استراليا د لويې وچې او اقيانوسي د ټاپوگانو موقعيت

د انتارکتیکا نقشه

- انتارکتیکا څرنگه کشف شوه؟

انتارکتیکا هغه لويه وچه ده چې زياته برخه يې د جنوبي قطب د دایرې په جنوب کې موقعيت لري او د درې سمندرونو، يعنی ارام سمندر، اتلانتیک سمندر او د هند سمندر له خوا چاپېره شوې ده. هغه اوبه چې د انتارکتیکا په شاوخوا کې شته دي کله کله يې هغه د جنوبي کنگل سمندر په نامه هم ياد کړی دی. انتارکتیکا له آسيا، افريقا، شمالي امريکا او جنوبي امريکا څخه وروسته د نړۍ څلورمه لويه وچه ده چې د ۱۴ ميليونو کيلومترو مربع په شاوخوا کې مساحت لري.

دا لويه وچه د نړۍ د ډېرو ليرې پرتو او منزوي وچو څخه ده چې د کنگل لويو ټوپو محاصره کړې ده. له ۲۰۰ کلونو څخه د مخه تصور کېده، چې انتارکتیکا د اوسيدو وړ او د بڼې اب او هوا لرونکې ځمکه ده، خو په ۱۷۶۸ م کال کې د انگليس د سمندري قواوو يوه افسر د جيمز کوک (James Cook) په نامه وروسته له هغې نه چې وېي کولای شول په ډېر زيار سره ځان ددې لويې وچې شاوخوا ته ورسوي، خبرې وکړې چې حتی يو حيوان هم په دې کنگلونو کې د ژوند د دوام ورکولو توان نه لري. پنځوس کاله وروسته په ۱۸۱۸ م کال کې يو امريکايي سمندر گرځيدونکی د ناتانيل پالمير (Nathaniel Palmer) په نامه بريالی شو چې له جنوبي امريکې (ارجنټاين) څخه د جنوبي قطب (انتارکتیکا) ډېرې نيردې نقطې ته ځان ورسوي.

په ۱۹۱۱ م کال کې د دوو اکتشافی ډلو ترمنځ د انتارکتیکا د کشف لپاره يوه مسابقه رامنځ ته شوه چې يو انگليسي هيئت د انگلستان د سمندري قواوو د يوه افسر په مشرۍ د روبرت فالکن سکاټ (Robert Falcon

Scott) په نامه او یو نارویژي هیئت د یونارویژي سمندر گرځیدونکي په مشرۍ د روالد اموندسن (Roald

د قطبي حیواناتو څخه یو تصویر



Amundsn) په نامه په دې سیالی کې گډون وکړ. ددې مسابقې وړونکی نارویژي ډله وه چې د ۹۹ ورځو مسافرت له تېرولو څخه وروسته د دسمبر په څوارلسمې ورځې په ۱۹۱۱ م کال کې د ۲۹۹۳ کیلومترو د واټن په وهلو د جنوبي قطب نقطې ته ورسېدل او نارویژي رېانده بیرغ یې هلته په یادگار پرېښود. وروسته کاپیتان سکات د ۱۹۱۲ م کال د جنوري د میاشتې په ۱۷ (یوه میاشت وروسته) هغه ځای ته ورسید. نارویژي ډله په سلامتی سره بېرته راورگرځیده، خو انګلیسي ډله په بېرته راتګ کې د واورې او کنگلونو سره مخامخ شوه او ټول یې مړه شول. په هغه ځای کې چې د هغوی جسدونه موندل شوي دي د انتارکتیا د مکتشف په یاد په همدې ځای کې یو څېړنیز مرکز جوړ شوی، چې د اندو (اموندسن - سکات) په نوم نومول شوی دی. د انتارکتیکا طبیعي حالت څرنگه دی؟

د انتارکتیکا په لویه وچه کې څوک نه اوسېږي، لاس یې نه دی خوړلی او په کنگلونو پوښلې ده. دا لویه وچه پراخه دښته او هواره نه ده، بلکې جګه سطحه ده چې په کنگل او واورې پوښل شوې ده. په دې لویه وچه کې څه په شاوخوا او څه د قطب په مرکز کې د غرونو ډېرې لړۍ شته دي. انتارکتیکا د ځمکې ډېره لویه وچه ده، چې منځنۍ لوړوالی یې د سمندر له سطحې څخه ۱۸۳۰ متره دی.

جنوبي قطب ډېره سره هوا لري چې په ژمي کې د سانتي ګراد تر منفي ۸۹ درجو پورې رسېږي. هیڅ بوتی په دې لویه وچه کې د لوییدو او ودې توان نه لري، یوازې ددې لویې وچې په ځینو برخو کې ځنې بوتی لکه (گل سنگ) شنه کیري او د جنوبي قطب په شاوخوا اوبو کې د سمندري حیواناتو ځینې ډولونه هم ژوند کوي. په یوه کوچنۍ برخه کې چې کومې څېړنې د کانونو د کشف لپاره ترسره شوي دي، څرګندوي چې په انتارکتیکا کې د اوسپنې، ډبروسکارو، نفتو، ګازو اونورو کاني موادو زېرمې شته دي، خو د زیات لګښت له امله یې اوس استخراج ته کومه لیوالتیا نشته.

د ټولګي دننه فعالیت

زده کوونکي دې په دوو ډلو وویشل شي، لومړی ډله دې د انتارکتیکا د لویې وچې د کشف په هکله او دوهمه ډله دې په دې هکله چې ولې تر اوسه دا لویه وچه د استوګنې وړ نه ده بحث او خبرې اتري وکړي او د خپل بحث پایله دې خپلو ټولګیوالوته وړاندې کړي.

پوښنې

- ۱- انتارکتیکا په کوم ځای کې موقعیت لري او د کومو سمندرونو په وسیله چاپېره شوې ده؟
- ۲- د انتارکتیکا د کاشفینو نومونه واخلئ.
- ۳- د جنوبي قطب اب او هوا څرنگه ده؟
- ۴- د انتارکتیکا د لویې وچې د اټکلي کانونو په باره کې معلومات ورکړئ.

له ټولګي څخه بهر فعالیت:

په یو دېرشم لوست کې ورکړ شوي شکلونه توضیح کړئ او د هغو په هکله خپل نظر په څو کرښو کې ولیکئ.

د دویم خپرکی لنډیز

- د استرالیا لویه وچه په حقیقت کې یو لوی ټاپو دی چې په جنوبي نیمه کره کې د آرام سمندر او د هند سمندر په اوبو کې پروت دی.
- کابو پنځوس زره کاله مخکې لومړني خلک استرالیا ته لاړل. ددې ځمکې اصلي اوسیدونکي خلک د ابورجینالس (Aboriginals) په نامه یادېږي.
- دا لویه وچه په شپاړسمه او اووه لسمه پېړۍ کې د اروپایانو د سفرونو او زیاتو سمندري کشفیاتو په لړ کې کشف شوه. ددې لویې وچې مشهور غرونه ګریت دیوای دینګ (Great Dividing) دي چې په ختیځ کې یې له شمال څخه تر سویل پورې غزیدلي دي او د اوبو مهمې سرچینې هم جوړوي.
- د استرالیا ډېر مهم سیند موري (Murray) دی، چې درې څانګې لري، نوموړی سیند د دیوای دینګ د غرونو له برخو څخه سرچینه اخلي او د استرالیا لوی خلیج ته تویریږي.
- ایر (Eyre) په استرالیا کې ډېر لوی مالګین جهیل دی، چې د استرالیا ډېره زوره نقطه هم په همدې جهیل کې موقعیت لري.
- د استرالیا زیاته برخه تحت استوایي اقلیم او یوه شمالي برخه یې استوایي اقلیم لري. د استرالیا په دريو کې کابو دوه برخې وچه ده، چې د کرنې وړ نه ده.
- استرالیا فدرالي دولت دی چې په شپږو ایالتونو او دوو سیمو ویشل شوی دی او مرکز یې د کانبرا ښار دی.
- د استرالیا زیاتره وګړي اروپایي سپین پوستي عیسوي دي چې په انګلیسي ژبه خبرې کوي.
- استرالیا یو پر مخ تللی هېواد دی چې زیاتره خلک یې د خدماتو په برخه کې بوخت دي. ددې هېواد غوره صادرات وړۍ، غوښه، غنم، د ډبروسکاره، سره زر او ماشینونه او واردات یې ترانسپورتي وسایل، ماشینونه، د مخابراتو وسیلې او پترولې محصولات دي.

د اقیانوسېي د ځینو مستقلو هېوادونو د جغرافیایي ځانګړنو جدول

کڼه	هېوادونه	مرکز	مساحت په کیلومتر مربع	د وګړو شمیر په ۲۰۰۸ م کال کې	د وګړو کثافت په یو کیلومتر مربع کې
۱	پاپوانیوګیني	پورت مورسي	۴۶۲۸۴۰	۵۹۳۱۷۶۴	۱۲/۸
۲	پالانو	کورور	۴۵۹	۲۱۰۹۳	۴۶
۳	تونګا	نوګو الوفا	۷۴۷	۱۱۹۰۰۹	۱۵۹/۳
۴	تووالو	واپاکو	۲۴	۱۰۴۰۰	۴۰۷/۷
۵	ختیځ تیمور	دیلی	۱۴۸۷۴	۱۱۰۸۷۷۷	۷۴/۵
۶	نوی زیلانډ	ولینګتن	۲۷۰۵۳۴	۴۱۷۳۴۶۰	۱۵/۴
۷	ساموا	اپیا	۲۸۳۱	۲۱۷۰۸۳	۷۶/۷
۸	د سلیمان ټاپوګان	هونیاړا	۲۸۸۹۶	۵۸۱۳۱۸	۲۰/۱
۹	فیجی	سوا	۱۸۲۷۴	۸۵۰۰۰۰	۴۶/۷۹
۱۰	کیریباتي	جنوبي-تاراواي	۷۲۶	۱۱۰۳۵۶	۱۵۲
۱۱	د مارشال ټاپوګان	ماجورو	۱۸۱	۶۳۱۷۴	۳۴۹
۱۲	میکرونزیا	پالیکیر	۷۰۲	۱۰۷۶۶۵	۱۵۳
۱۳	نانورو	یارن	۲۱	۱۳۷۷۰	۶۵۵/۷
۱۴	وانواتو	ویلا بندر	۱۲۱۸۹	۲۱۵۴۴۶	۱۷/۷

- استرالیا د حمل او نقل ټول ډولونه او د مواصلاتو پر مختللي وسایل لري.

- اقیانوسیه ډېر ټاپوګان لري چې ډېر لوی ټاپو یې د پاپوا نیو ګیني (Papua New Guinea) ټاپو دی. ددې ټاپو ګانو خلک بېلا بېلې ژبې، دینونه او دودونه او دستورونه لري.

- د اقیانوسېي د ټاپوګانو ډیر مهم کرنیز محصول ناریال دي - نوی زیلانډ د اقیانوسېي له مشهورو هېوادو څخه دی چې یو عصري او صنعتي پرمخ تللی هېواد دی.

- د انتارکتیکا (سوېلي قطب) په لویه وچه کې څوک نه اوسېږي، لاس یې نه دی خوړلی او په کنگلونو پوښلې ده. ددې لویې وچې مرکزي نقطه د یوې نارویژي ډلې له خوا په ۱۹۱۱ میلادي کال کې کشف شوه.

- انتارکتیکا د هوا د سربست او طبعي نا مناسبه شرایطو له امله تر اوسه د استوګنې وړنه ده او له طبعي زیرمو څخه یې هم ګټه نه اخیستل کېږي.

الف:

- اپارتايد: د سپينو پوستو او تورو پوستو خلكو سره بېل بېل چلند او تر منځ يې توپير چې له ۱۹۴۸ ميلادي كال څخه يې د سوېلي افريقا په هېواد كې قانوني بڼه درلوده.
- استوايي اقليم: هغه اقليمي سيمه چې د استوا د كرښې په شاوخوا كې پرته ده او د استوايي باراني ځنگلونو د اقليم او سوانا ساحه په كې شامله ده.
- اقتصادي جغرافيه: هغه جغرافيه چې د ډول ډول توکو د توليد، ویش او لگښت په هكله بحث كوي.
- اورښت (بارنده گي): ټولې اوبه، واوره او بړۍ چې له ورېځو څخه اوري، اورښت ورته ويل كېږي.
- استوايي ځنگلونه: د استوايي سيمو ځنگل چې د شمالي عرض البلد له ۷ درجونه د جنوبي عرض البلد تر ۷ درجو پورې شتون لري، د تودې او لنډې هوا، او ډېرو بارانونو لرونكې او پرته له وچ او بې بارانه فصل وي.
- بوميان: هغه خلك چې د يوې سيمې د لومړنيو اوسيدونكو په توگه پېژندل شوي وي.
- بشري جغرافيه: بشري فعاليتونه، د نفوسو او بشري ټولنو جغرافيايي ویش د ژوندانه د چاپېريال په اړه مطالعه كوي.
- پراس (تبخير): د مايع د فزيكي حالت بدلون په پراس (بخار).
- توپوگرافي: توپوگرافي له دوو يوناني كلمو څخه اخيستل شوې يعنې (توپو) د ځای په معنا او (گرافي) د رسمولو يا تشریح په مفهوم، چې د هرې سيمې د طبيعي يا مصنوعي جوړښتونو رسمولو يا ښوولو ته توپوگرافي ويل كېږي.
- تجارتي بادونه د شمالي او جنوبي نيمې کرې، ۵ او ۳۰ درجو عرض البلدونو ترمنځ له شمال ختيځ څخه مخ په جنوب لويديځ باندې لگېږي، خو په جنوبي نيمه کره کې د هغو لوی له جنوب ختيځ څخه د شمال لويديځ خواته وي.
- توريزم: هغه خلك چې د سفر امكانات لري او د خپل فراغت وخت په يوه بله سيمه كې تېروي د سيلانيانو (توريستانو) يا نړۍ گرځيدونكو په نامه يادېږي. هغه هېوادونه چې ښې توريستيكي سيمې لري او د سيلانيانو د راکښلو سبب گرځي زياته شتمني لاسته راوړي.
- تكتونيكې ساحه: د ځمكې په مخ (قشر) كې يوه ساحه ده چې په هغه ځای كې ډول ډول جوړښتونه لكه لوړې برخې، ټيټې برخې، گونځې، درزونه، چاودونه او نور جوړ شوي وي.
- د باراني ځنگلونو د اقليم ساحه: هغه اقليم چې ټول كال ورسره اورښت مل وي.
- دبت (Debit): د اوبو اندازه چې له سيند څخه په يوه ټاكلي وخت كې له يوې ټاكلې نقطې څخه تيرېږي او د سيند د اوبو د حجم د اندازه كولو لپاره ورڅخه استفاده كېږي.
- د سكي لوبې: يو ډول ژمنۍ لوبې دي چې له واورونه ډكو غرونو كې تر سره كېږي.
- د ستپ اقليم: وچ اقليم چې په دوبي كې د لنډې مودې باران لري.
- د نفوسو كثافت يا گڼوالی: په هر كيلومتر مربع كې د استوگنو وگړو اوسط.

- د سیند خوله یا مصب: هغه ځای دی چې سیند سمندرګي یا سمندر ته توپیري او ور سره یو ځای کیږي؟
- د لټا (Delta): د سیند خوله یا د سیند په خوله کې د رسوبي موادو یوه سیمه چې د ځمکې هواریدو او د سیند د څانګه کیدو سبب ګرځي.
- ژبه: منظمه غریزه وسیله ده چې انسان یې د خپلو خلکو سره د اړیکو لپاره کاروي.
- سټپ: نیم وچ اقلیم لرونکې برخې چې په هغو کې بوټي او ونې په شیندلي او یا ټل ټل ډول لیدل کیږي.
- سوډا اقلیم: هغه اقلیمي ساحه چې د توندرا اقلیم، د واورو اقلیم او د لوړو غرونو د اقلیم لرونکې ده.
- سوډاګري (تجارت): د محصولاتو او توکو پلورل او پېرودل.
- سمندري کشفیات: د بهرۍ په وسیله سمندري سفرونه د ناپېژندل شویو سیمو د کشف لپاره.
- سیاسي جغرافیه: د جغرافیې یوه برخه ده چې د هېوادونو د سرحدونو او څلور خواوو، کورنیو او بهرنیو اړیکو، ادارې او ټولنیزو تشکیلاتو او داسې نورو په باره کې بحث کوي.
- صادرات: بهرنیو هېوادونو ته د پلورلو لپاره د محصولاتو لیږل.
- صنعت: د محصولاتو یا توکو د شکل بدلون، په ځانګړې توګه د ماشین په وسیله.
- طبیعي جغرافیه: د ځمکې پدیدې او جوړښتونه (عوارض) تر څېړنې لاندې نیسي.
- کلتور: ټول دودونه او دستورونه چې د یوې ډلې خلکو له خوا زده شوي وي او په سمبولونو، اتلانو، رواجونو او ارزښتونو باندې پېژندل کیږي.
- کانال: د انسان په وسیله د دوو سمندرګیو او یا سمندرونو د ارتباط او د حمل و نقل د اسانتیاوو لپاره د وچې کیندل.
- کیدای شي چې د دوو سیندونو په منځ کې هم کانال وکیندل شي او دوه سیمې سره ونښلوي.
- مدیترانه یې اقلیم: هغه اقلیم دی چې دوی یې تود او وچ او ژمی یې ملایم او باراني وي.
- ملي پارک (National Park): طبیعي با ارزښته ټولې سیمه، چې لږ تر لږه لس زره هکتاره وي او د دولت له خوا یې ساتنه کیږي.
- مهاجرت: د خلکو خوځښت او ځای په ځای کیدل د هېواد دننه او یا د سرحداتو څخه بهر. کورني او بهرنی مهاجرتونه د اقتصادي، سیاسي او طبیعي بېلا بېلو عواملو له امله تر سره کیږي.
- ملې نا خالص عواید: د ټولو محصولاتو ارزښت دی چې په یوه هېواد کې په بېلا بېلو برخو کې په یوه کال کې تولیدېږي.
- مواصلاټي جغرافیه: د جغرافیې یو څانګه ده چې د وچو، اوبو او هوايي لارو په باره کې بحث کوي.
- نژاد: یوه ډله خلک چې د طبیعي، وراثت او اصالت له نظره یو ډول خصوصیات لري، یعنې د قیافې، د ونې جگوالی او ټیټوالی، د سترګو، وښتانو او پوستکي د رنگ ځانګړنې یې ورته والی ولري.
- واردات: په بهرنیو هېوادونو کې د محصولاتو او توکو پېرودل او هېواد ته دننه یې راوړل.
- وچ اقلیم: هغه اقلیمي سیمه چې د سټپ اقلیم او صحرايي اقلیم پکې شامل دی.